

2006학년도 11월 고2 전국연합학력평가 문제지  
**사회탐구 영역 (세계지리)**

제 4 교시

성명

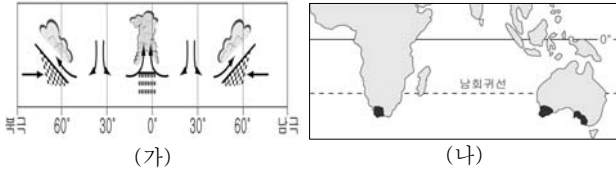
수험번호

2

1

- 먼저 수험생이 선택한 과목의 문제지인지 확인하시오.
- 반드시 자신이 선택한 과목의 문제지를 풀어야 합니다.
- 문제지에 성명과 수험 번호를 정확히 기입하시오.
- 답안지에 수험 번호, 선택 과목, 답을 표기할 때에는 반드시 ‘수험생이 지켜야 할 일’에 따라 표기하시오.
- 문항에 따라 배점이 다르니, 각 물음의 끝에 표시된 배점을 참고하시오. 3점 문항에만 점수가 표시되어 있습니다. 점수 표시가 없는 문항은 모두 2점씩입니다.

1. (가)와 같은 대기 순환이 이루어지는 시기에 (나) 지도의 검게 표시된 지역에서 나타나는 기후 현상으로 옳은 것은? [3점]



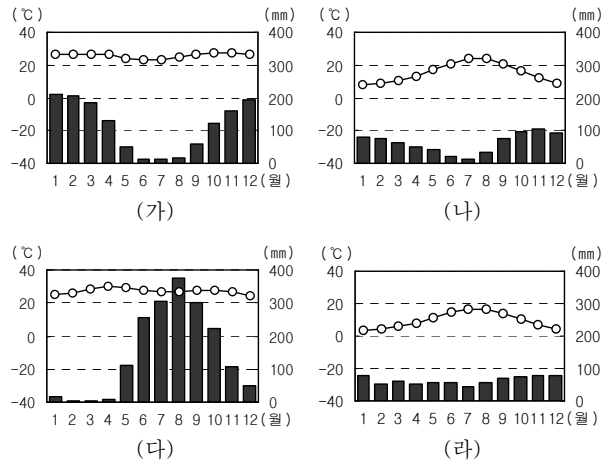
- ① 편서풍의 영향으로 온난 습윤하다.
- ② 계절풍의 영향으로 고온 다습하다.
- ③ 제트기류의 영향으로 한랭 건조하다.
- ④ 한랭 전선의 영향으로 냉량 습윤하다.
- ⑤ 아열대 고압대의 영향으로 고온 건조하다.

2. A~E 문화권의 특징을 설명한 것으로 적절하지 않은 것은? [3점]



- ① A : 코카서스 인종이 분포하며, 석유 자원을 바탕으로 경제 개발을 추진하고 있다.
- ② B : 언어가 복잡·다양하지만 종교적 결속력이 강하여 정치적 협력이 잘 이루어지고 있다.
- ③ C : 유목과 오아시스 농업을 주로 했으나 근래 정착 생활이 늘어나고 있다.
- ④ D : 유교와 한자를 공통 요소로 하고 있으며 세계 경제의 한 축으로 자리를 잡았다.
- ⑤ E : 동서양의 문화가 복합된 지역이며, 경제 협력체를 이루어 경제적 협력을 강화하고 있다.

3. (가)~(라)의 기후 특성이 나타나는 각 지역의 농업에 대한 설명으로 옳은 것을 <보기>에서 고르면? [3점]



< 보 기 >

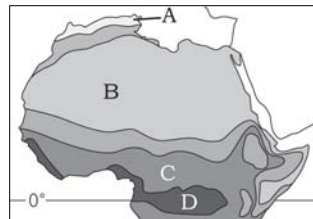
- ㄱ. (가) - 카카오, 기름야자 등의 플랜테이션이 이루어진다.
- ㄴ. (나) - 오렌지, 올리브 등의 수목 농업이 행해진다.
- ㄷ. (다) - 상업적인 밀 재배가 이루어지고 있다.
- ㄹ. (라) - 식량 작물과 사료 작물이 함께 재배된다.

- ① ㄱ, ㄴ                      ② ㄱ, ㄷ                      ③ ㄴ, ㄷ
- ④ ㄴ, ㄹ                      ⑤ ㄷ, ㄹ

4. 사진의 식생 경관이 나타나는 지역을 지도에서 찾아 바르게 짝지은 것은?



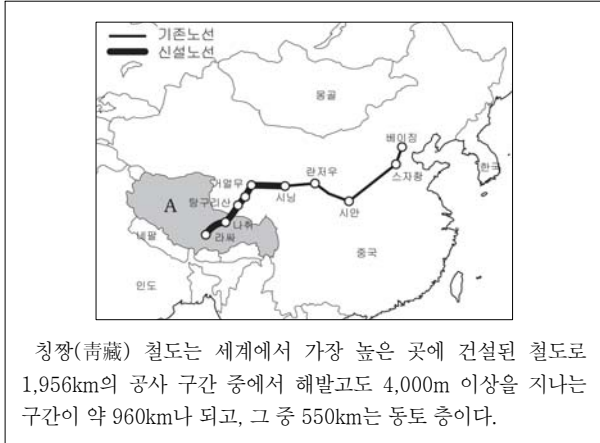
(가)                                      (나)



- (가)                      (나)                      (가)                      (나)
- ① A                      B                                      ② A                      C
- ③ B                      C                                      ④ B                      D
- ⑤ C                      D

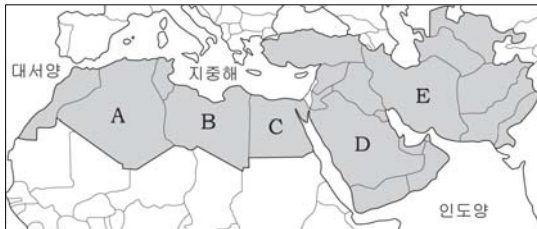
# 2 사회탐구 영역 (세계지리)

5. 자료의 철도 건설로 인해 나타날 수 있는 A 지역의 변화를 예측한 것으로 적절하지 않은 것은?



- ① 각종 자원 개발이 촉진될 것이다.
- ② 고유한 전통 문화가 잘 보존될 것이다.
- ③ 오염되지 않은 자연 환경이 훼손될 것이다.
- ④ 자본과 물자의 유입으로 생활수준이 향상될 것이다.
- ⑤ 관광 산업이 발달하여 지역 경제가 활성화될 것이다.

(6~7) 다음 지도를 보고 물음에 답하시오.



6. 위 지도의 검게 표시된 지역에서 주로 신봉되는 종교에 대한 설명으로 가장 옳은 것은?

- ① 민족 종교로서 선민(選民)의식이 강하다.
- ② 자연 숭배의 다신교로 계급의식이 강하다.
- ③ 돼지고기를 금기시하며 라마단을 철저히 지킨다.
- ④ 엄격한 수도를 통해 열반에 들 수 있다고 믿는다.
- ⑤ 삼위일체를 믿고, 사랑과 믿음의 실천을 중시한다.

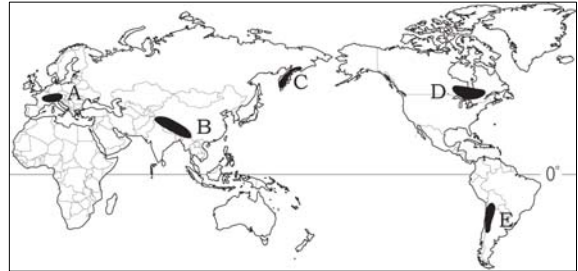
7. 다음 자료에서 설명하는 국가를 위 지도에서 찾으시오. [3점]

- 면적 : 162만 9,918km<sup>2</sup>
- 인구 : 6,625만 5,000명(2003년)
- 민족 : 페르시아족(51%), 아제르바이잔족(24%), 기타(25%)
- 지형 : 국토의 절반이 산악 지대, 1/4이 사막과 황야
- 국제 관계 : 최근 핵 문제로 국제 사회와 대립하고 있음

- ① A      ② B      ③ C      ④ D      ⑤ E

8. 다음에서 설명하고 있는 지역을 지도에서 찾으시오?

- 선캄브리아대에 형성된 가장 오래된 육괴이다.
- 금, 철광석, 우라늄 등이 풍부하게 매장되어 있다.
- 오랜 침식으로 평탄한 대지 및 고원을 이루고 있다.



- ① A      ② B      ③ C      ④ D      ⑤ E

9. (가), (나) 지형의 형성에 영향을 미친 공통적인 요인으로 가장 적절한 것은?



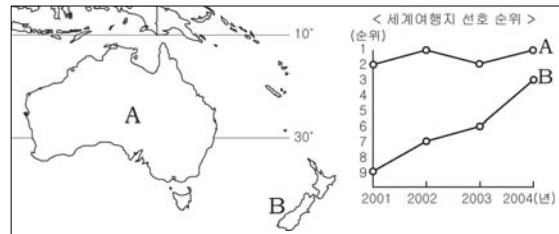
(가)



(나)

- ① 유수에 의한 침식 작용      ② 유수에 의한 퇴적 작용
- ③ 바람에 의한 퇴적 작용      ④ 빙하에 의한 퇴적 작용
- ⑤ 빙하에 의한 침식 작용

10. A, B 두 국가의 여행지 순위가 그래프와 같이 나타나는 공통적인 이유로 적절한 것을 <보기>에서 고르면?



< 보 기 >

- ㄱ. 고대 문화유산이 넓게 분포한다.
- ㄴ. 계절이 북반구와 반대로 나타난다.
- ㄷ. 독특한 생태계가 잘 보존되어 있다.
- ㄹ. 화산, 빙하 등의 지형이 발달해 있다.

- ① ㄱ, ㄴ      ② ㄱ, ㄷ      ③ ㄴ, ㄹ
- ④ ㄴ, ㄹ      ⑤ ㄷ, ㄹ

11. 교사의 질문에 대해 가장 적절하게 발표한 학생은? [3점]



교사 : 위의 자료를 보면 최근 유럽연합의 회원국이 확대되었다는 것을 알 수 있습니다. 하지만 신규 가입국은 기존 회원국이 가지고 있는 자유로운 취업이 7년간 유예된다고 합니다. 왜 그런지 한 명씩 발표해 보도록 하죠.

동현 : 언어가 달라서 의사소통의 어려움이 크기 때문입니다.

상우 : 신규 가입국의 경제 수준이 상대적으로 낮기 때문입니다.

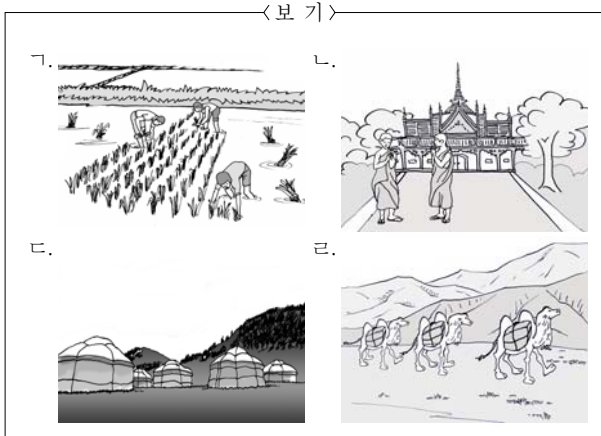
수미 : 문화적인 차이로 인해 민족 간 갈등이 발생할 수 있기 때문입니다.

영수 : 신규 가입국들이 아직 사회주의 경제 체제를 고수하고 있기 때문입니다.

지은 : 노동력 유입으로 기존 회원국의 산업 경쟁력이 약화될 수 있기 때문입니다.

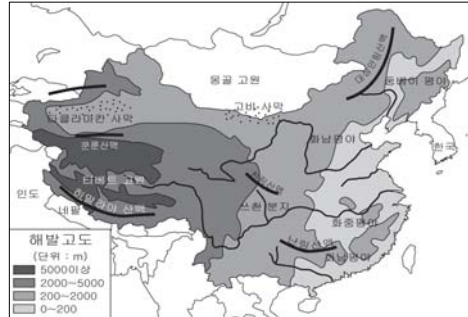
- ① 동현    ② 상우    ③ 수미    ④ 영수    ⑤ 지은

12. 지도의 검게 표시된 국가에서 볼 수 있는 생활 모습을 <보기>에서 고르면?



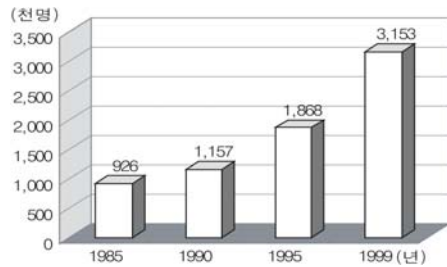
- ① 가, 나    ② 가, 르    ③ 나, 르  
④ 나, 르    ⑤ 다, 르

13. 다음 지도를 통해 알 수 있는 중국의 인문 환경으로 적절하지 않은 것은?



- ① 동서 간의 토지 이용 방식이 다르다.  
② 내륙으로 들어갈수록 경지율이 낮아진다.  
③ 개방 도시는 주로 동부 해안 지역에 분포한다.  
④ 서부 지역보다는 동부 지역의 인구가 조밀하다.  
⑤ 동서보다는 남북 방향으로 내륙 수운이 발달했다.

14. 그래프는 일본의 해외 현지 법인 종업원 수의 변화를 나타낸 것이다. 이러한 변화의 요인으로 적절한 것을 <보기>에서 고르면?

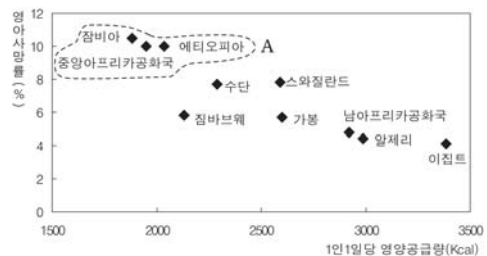


<보기>

ㄱ. 해외 시장의 확보    ㄴ. 생산 비용의 절감  
ㄷ. 고급 노동력 확보    ㄹ. 보호 무역의 강화

- ① 가, 나    ② 가, 르    ③ 나, 르  
④ 나, 르    ⑤ 다, 르

15. 그래프의 A국가군에서 영아 사망률이 높게 나타나는 원인으로 가장 적절한 것은? [3점]



- ① 토양의 산성화에 따른 지력의 약화  
② 급속한 도시화로 인한 경작지의 감소  
③ 잦은 홍수 피해로 인한 농업 생산량의 감소  
④ 장기간의 내전으로 인한 식량 생산의 어려움  
⑤ 이동식 화전의 확대에 따른 곡물 재배지의 감소

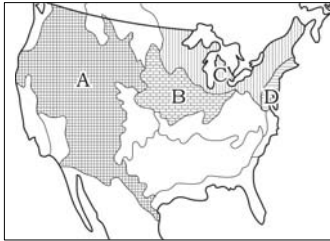
# 4 사회탐구 영역 (세계지리)

16. 사진과 같은 경관이 나타나는 지역의 특성에 대한 설명으로 적절한 것은?



- ① 일교차가 연교차보다 크다.
- ② 강수량이 증발량보다 많다.
- ③ 한낮에 스콜이 자주 내린다.
- ④ 화학적 풍화 작용이 활발하다.
- ⑤ 토양의 동결과 융해가 활발하다.

17. A~D 지역의 축산업에 대한 설명으로 옳은 것을 <보기>에서 고르면? [3점]



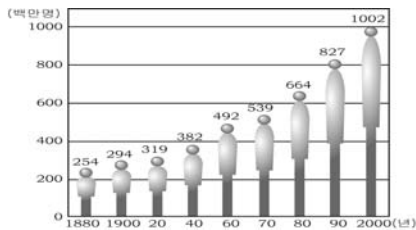
< 보 기 >

- ㄱ. A 지역에서는 남북으로 이동하면서 유목이 행해진다.
- ㄴ. B 지역에서는 사료를 이용해서 소를 단기간에 집중 사육한다.
- ㄷ. C 지역은 대규모 소비 시장을 배경으로 낙농업이 발달하였다.
- ㄹ. D 지역은 수출이 유리하여 기업적 목축업이 발달하였다.

- ① ㄱ, ㄴ                      ② ㄱ, ㄷ                      ③ ㄴ, ㄷ
- ④ ㄴ, ㄹ                      ⑤ ㄷ, ㄹ

18. 다음은 인도의 인구 성장을 나타낸 것이다. 이러한 인구 변화에 영향을 미친 요인으로 적절한 것을 <보기>에서 고르면?

[3점]



< 보 기 >

- ㄱ. 해외 노동자의 대량 유입
- ㄴ. 종교적 관습과 높은 문명률
- ㄷ. 국가의 적극적인 가족계획 정책
- ㄹ. 유아 사망률의 감소와 평균 수명의 증가

- ① ㄱ, ㄴ                      ② ㄱ, ㄷ                      ③ ㄴ, ㄷ
- ④ ㄴ, ㄹ                      ⑤ ㄷ, ㄹ

19. 다음 자료가 설명하고 있는 자원을 지도에서 찾으시오? [3점]

- 산업혁명 이후 주요 동력 자원으로 활용되었다.
- 고생대 후기 삼림으로 덮였던 지역에 집중 분포한다.
- 제철 및 화학 공업의 원료로 한국, 일본 등으로 수출된다.

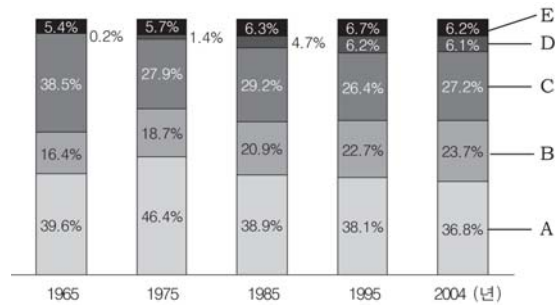


- ① A                      ② B                      ③ C                      ④ D                      ⑤ E

20. (가), (나)에 해당되는 자원을 그래프에서 골라 바르게 짝지은 것은? [3점]

- (가) 석유에 비해 공해가 적고 열효율이 높은 청정에너지로 액화 기술과 운송 수단의 발달로 이용이 활발해졌다.
- (나) 석유 과동으로 소비량이 급증했으며 오염 물질의 배출이 적지만 방사능 누출의 위험을 안고 있다.

<세계 에너지 소비구조의 변화>



- |     |     |     |     |
|-----|-----|-----|-----|
| (가) | (나) | (가) | (나) |
| ① A | C   | ② A | E   |
| ③ B | D   | ④ B | E   |
| ⑤ C | D   |     |     |

※ 확인사항

○ 문제지와 답안지의 해당란을 정확히 기입(표기) 했는지 확인하십시오.