



6. 다음은 ○○(주)가 구입한 비영업용 토지의 부동산 매매계약서 일부이다. 잔금 지급 시 회계 처리한 결과로 옳은 것을 <보기>에서 고른 것은? (단, 제시된 자료 외에는 고려하지 않는다.) [3점]

**부동산 매매계약서**

- 매도인 : △△기업
- 매수인 : ○○(주)

제1조 (매매대금)

- 매매대금 : ₩50,000,000
- 계약금 : ₩5,000,000은 계약하는 날에 현금 지급
- 잔금 : ₩45,000,000은 2011년 11월 9일에 지급

- (중략) -

제7조 (특별히 정하는 사항)

- 잔금은 ○○(주) 발행 당좌수표로 지급

< 보 기 >

㉠. 당좌자산 감소	㉡. 유형자산 증가
㉢. 투자자산 증가	㉣. 기타비유동자산 감소

- ① ㉠, ㉡                      ② ㉠, ㉢                      ③ ㉡, ㉣  
 ④ ㉢, ㉣                      ⑤ ㉢, ㉣

7. 다음 개인기업인 ○○상회의 2010년도 회계자료를 바탕으로 기초자본을 계산한 것으로 옳은 것은? (단, 제시된 자료 외에는 고려하지 않는다.) [3점]

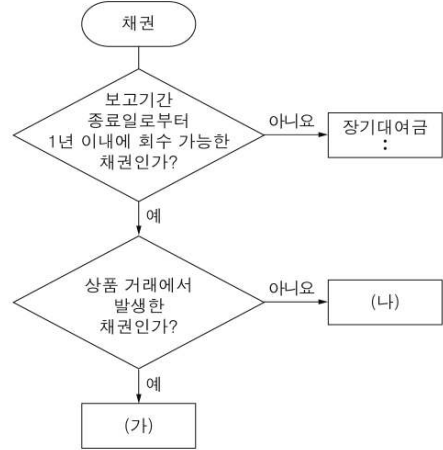
손 익			
12/31 자본금	200,000	:	:
	3,000,000		3,000,000
자본금			
12/31 차기이월	2,000,000	:	:
	2,000,000		2,000,000

[2010년도 기중 자료]

- 추가 출자액 ₩300,000

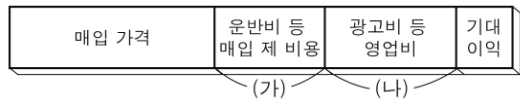
- ① ₩1,500,000                      ② ₩1,700,000                      ③ ₩1,800,000  
 ④ ₩2,000,000                      ⑤ ₩2,200,000

8. 다음은 채권을 유동성 및 상품 거래 관련성에 따라 분류한 것이다. (가), (나)에 들어갈 수 있는 계정과목으로 옳은 것은?



- |   |   |
|---|---|
| <p>(가)</p> <p>① 단기대여금</p> <p>② 외상매출금</p> <p>③ 외상매출금</p> <p>④ 현금성자산</p> <p>⑤ 현금성자산</p> | <p>(나)</p> <p>미수금</p> <p>미수금</p> <p>받을어음</p> <p>받을어음</p> <p>단기대여금</p> |
|---|---|

9. 그림은 상품의 판매 가격 구성 요소를 나타낸 것이다. (가), (나)의 회계 처리에 대한 설명으로 옳은 것만을 <보기>에서 있는 대로 고른 것은?



< 보 기 >

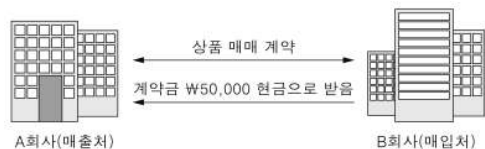
㉠. (가)는 운반비로 처리한다.

㉡. (나)는 판매비와관리비로 처리한다.

㉢. (가), (나)가 증가하면 당기순이익이 증가한다.

- ① ㉠                                      ② ㉡                                      ③ ㉠, ㉡  
 ④ ㉠, ㉢                                      ⑤ ㉡, ㉢

10. 다음에 나타난 거래를 A회사 입장에서 분개할 때 대변의 계정과목으로 옳은 것은?



- ① 매출                                      ② 현금                                      ③ 가수금  
 ④ 선급금                                      ⑤ 선수금

11. 그림은 ○○(주)가 인터넷지로를 이용하여 납부한 확인증이다. 이를 분개하였을 때 차변의 계정과목이 속하는 손익계산서 항목이 나타나는 거래로 옳은 것을 <보기>에서 고른 것은? [3점]



< 보기 >

- ㄱ. 수재민 돕기 성금 ₩100,000을 현금으로 기부하다.
- ㄴ. 종업원의 식대 ₩50,000을 수표 발행하여 지급하다.
- ㄷ. 차입금에 대한 이자 ₩80,000을 현금으로 지급하다.
- ㄹ. 거래처 직원의 결혼 축의금 ₩30,000을 현금으로 지급하다.

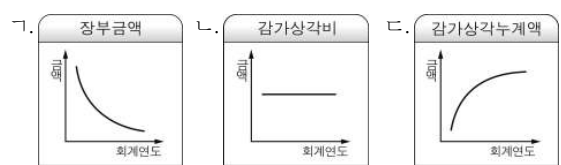
- ① ㄱ, ㄴ                      ② ㄱ, ㄷ                      ③ ㄴ, ㄷ
- ④ ㄴ, ㄹ                      ⑤ ㄷ, ㄹ

12. 다음은 ○○(주)의 기계장치에 대한 감가상각 관련 자료이다. 감가상각 관련 항목의 금액 변화를 나타낸 그래프로 옳은 것만을 <보기>에서 있는 대로 고른 것은? [3점]

- [감가상각 관련 자료]
- 취득일 : 2008. 1. 1                      ○ 취득원가 : ₩1,000,000
  - 내용연수 : 10년                      ○ 잔존가치 : ₩50,000
  - 기장방법 : 간접법                      ○ 결산 : 연 1회(매년 12월 말)
  - 상각방법 : 정률법(상각률 연 25.9%)

※ 개정 전 기업회계기준에서 잔존가치는 잔존가액으로, 장부금액은 장부가액으로 표현하였다.

< 보기 >



- ① ㄱ                              ② ㄴ                              ③ ㄱ, ㄴ
- ④ ㄱ, ㄷ                      ⑤ ㄴ, ㄷ

13. 그림은 임차료와 관련된 자료를 나타낸 것이다. 기말 결산 시 임차료 선급분에 대한 정리 분개로 옳은 것은? (단, 임차료 지급 시 비용계정으로 처리한다.)

← 임차료(6개월 분) ₩120,000 현금 지급 →					
9월	10월	11월	12월	1월	2월
9/1 지급일				12/31 결산일	

- ① (차변) 손익                      80,000                      (대변) 임차료                      80,000
- ② (차변) 임차료                      40,000                      (대변) 선급임차료                      40,000
- ③ (차변) 임차료                      120,000                      (대변) 현금                      120,000
- ④ (차변) 선급임차료                      80,000                      (대변) 손익                      80,000
- ⑤ (차변) 선급임차료                      40,000                      (대변) 임차료                      40,000

14. 다음 자료를 바탕으로 10월 중 외상매입금 지급 총액을 계산한 것으로 옳은 것은? (단, 매입은 전액 외상 거래이며, 제시된 자료 외에는 고려하지 않는다.) [3점]

[매입 관련 자료]

- 10월 중 외상 매입 총액 : ₩1,100,000
- 10월 중 매입 환출 총액 : ₩50,000

외상매입금			
:	:	10/1 전월이월	500,000
10/31 차월이월	600,000	:	:
	xxx		xxx

- ① ₩600,000                      ② ₩650,000                      ③ ₩950,000
- ④ ₩1,050,000                      ⑤ ₩1,150,000

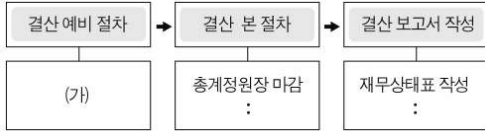
15. 그림의 대화 내용에 나타난 거래를 분개할 때 차변과 대변의 계정과목으로 옳은 것은?



(차변)                              (대변)

- ① 세금과공과                      미지급금
- ② 세금과공과                      외상매입금
- ③ 차량운반구                      미지급금
- ④ 차량유지비                      미지급금
- ⑤ 차량유지비                      외상매입금

16. 그림은 결산의 절차를 나타낸 것이다. (가)에 들어갈 내용으로 옳은 것만을 <보기>에서 있는 대로 고른 것은?



< 보 기 >  
 ㄱ. 개시 기입  
 ㄴ. 시산표의 작성  
 ㄷ. 결산 정리 사항의 수정 기입

- ① ㄱ                      ② ㄴ                      ③ ㄱ, ㄴ  
 ④ ㄱ, ㄷ                ⑤ ㄴ, ㄷ

17. 다음 분개장에 기입된 내용이 재무제표에 미치는 영향으로 옳은 것은? (단, 제시된 자료 외에는 고려하지 않는다.)

분개 장				
월 일	적 요	원면	차변	대변
8 9	(현 금) 제 작 (상 품) (상품매출이익)	생 략	320,000	300,000 20,000
	△△상회에 상품 매출			

- ① 영업수익이 증가한다.  
 ② 유동부채가 감소한다.  
 ③ 재고자산이 증가한다.  
 ④ 영업외비용이 감소한다.  
 ⑤ 비유동자산이 증가한다.

18. 다음 거래를 기입한 기존의 전표에서 오류가 발견되었다. 이를 수정하기 위해 기입한 전표의 (가)에 들어갈 계정과목으로 옳은 것은? (단, 기존 전표는 폐기하지 않는다.) [3점]

[거래]  
 업무용 컴퓨터 1대를 ₩950,000에 구입하고 대금은 수표를 발행하여 지급하다.

[기존 전표]                      [오류 수정을 위한 전표]

출금 전표 2011년 8월 16일 비품 950,000	입금 전표 2011년 8월 18일 (가) 950,000
-------------------------------------	--------------------------------------

- ① 비품                      ② 상품                      ③ 현금  
 ④ 미수금                ⑤ 당좌예금

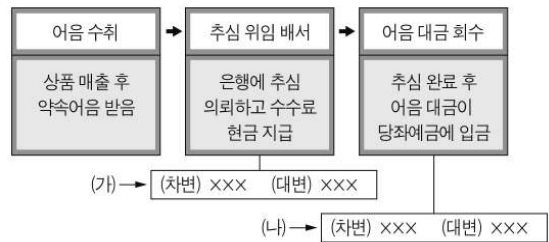
19. 다음은 9월 중 매입 계정과 매출장의 일부이다. 이를 통해 알 수 있는 내용으로 옳은 것은? (단, 모든 거래는 외상 거래이다.) [3점]

매 입					
9/8	외상매입금	50,000	9/9	외상매입금	8,000
9/30	이 월 상 품	12,000	9/30	이 월 상 품	20,000
			9/30	손 익	34,000
					62,000

매 출 장		
월 일	적 요	금 액
9 30	총매출액	75,000
	환입 및 에누리액	5,000
	순매출액	70,000

- ① 매출원가는 ₩70,000이다.  
 ② 순매입액은 ₩34,000이다.  
 ③ 매입환출액은 ₩5,000이다.  
 ④ 매출총이익은 ₩36,000이다.  
 ⑤ 월초상품재고액은 ₩20,000이다.

20. 다음은 어음 대금의 회수 과정에 따른 회계 처리를 나타낸 것이다. (가), (나)의 계정과목에 대한 설명으로 옳은 것만을 <보기>에서 있는 대로 고른 것은? [3점]



< 보 기 >  
 ㄱ. (가)의 차변 계정과목은 수수료비용이다.  
 ㄴ. (나)의 차변 계정과목은 당좌예금이다.  
 ㄷ. (가), (나)의 대변 계정과목은 받을어음이다.

- ① ㄱ                      ② ㄴ                      ③ ㄱ, ㄴ  
 ④ ㄱ, ㄷ                ⑤ ㄴ, ㄷ

※ 확인사항  
 문제지와 답안지의 해당란을 정확히 기입(표기)했는지 확인하십시오.