



5. 다음의 경제적 변화가 이루어진 시기에 볼 수 있는 모습으로 적절하지 않은 것은? [3점]

이 시대 사회·경제적 발전의 특징은 경제 중심지의 분화이다. 양쯔 강 하류의 쑤저우와 후저우, 상하이 등이 직물 공업의 중심지가 되면서 농경지는 대부분 차와 면화 등의 상품 작물 재배지로 바뀌었다. 또 양쯔 강 중·상류 지역의 개발이 활발해지면서 후베이와 후난, 쓰촨 지역이 새로운 쌀의 주산지 되었다. 그리하여 ‘소호(쑤저우와 후저우)에 풍년이 들면 천하가 풍족하다’는 말이 ‘호광(후베이와 후난)에 풍년이 들면 천하가 풍족하다’로 바뀌는 지경이 되었다.

- ① 지세로 걷은 은을 계산하고 있는 관리
- ② 변방 지역의 재정과 행정을 장악한 절도사
- ③ 공소·회관 설립을 축하하는 산시 지역 상인
- ④ 자금성의 황제를 알현하고 있는 예수회 선교사
- ⑤ 새로 전래된 옥수수의 재배법을 배우고 있는 농민

6. 다음을 통해 알 수 있는 왕조에 대한 설명으로 옳은 것은? [3점]



아케메네스 왕조의 부흥을 내세운 이 왕조는 파르티아를 멸망시키고, 이란에서 메소포타미아에 이르는 대제국을 건설하였다. 수도 크테시폰에 남아 있는 거대한 궁전은 당시 이 왕조의 경제적 번영을 보여준다.

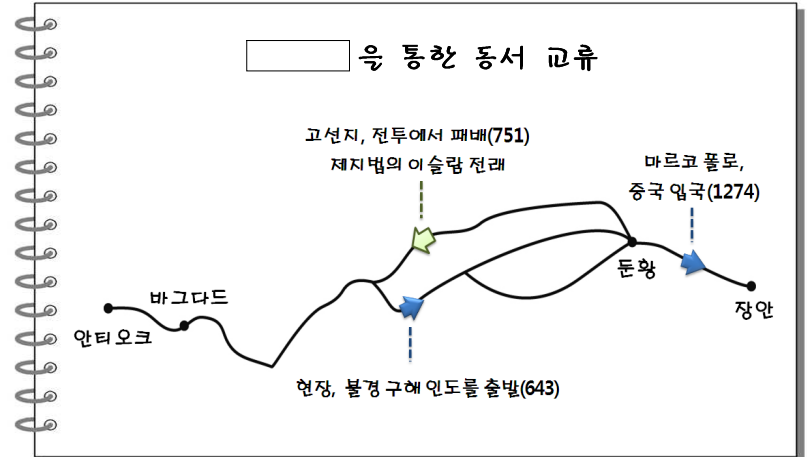
- ① 티마르라는 군사적 봉건 제도를 실시하였다.
- ② 한과 로마 사이의 중계 무역으로 번영하였다.
- ③ 불을 숭배하는 조로아스터 교를 국교로 삼았다.
- ④ 카르타고를 비롯한 해상 식민 도시를 건설하였다.
- ⑤ 유대 왕국을 멸망시키고 그 주민을 강제 이주시켰다.

7. 그림을 통해 알 수 있는 사건 이후의 정치 상황으로 옳은 것은?




- ① 심사법과 인신 보호법이 제정되었다.
- ② 호국경이 금욕적인 독재 정치를 전개하였다.
- ③ 대헌장의 승인으로 왕권 제약이 가능하게 되었다.
- ④ 의회를 중심으로 하는 입헌 군주정이 확립되었다.
- ⑤ 왕위 계승 문제를 둘러싸고 장미 전쟁이 일어났다.

8. 다음은 어떤 동서 교역로에 대하여 학생이 정리한 것이다. 이 교역로에 대한 설명으로 옳은 것은?



- ① 몽골의 바투가 유럽 원정에 이용하였다.
- ② 이븐 바투타가 중국으로 입국할 때 이용하였다.
- ③ 간다라 미술과 대승 불교가 중국으로 전해졌다.
- ④ 스키타이의 청동기 문화가 한반도로 전파되었다.
- ⑤ 동남 아시아로 불교 문화와 힌두 문화가 전파되었다.

9. 교사의 질문에 대한 학생의 답변으로 적절하지 않은 것은? [3점]



- ① 그리스어가 공용어로 사용되었습니다.
- ② 슬라브 문화권 형성에 영향을 주었습니다.
- ③ 로마법을 집대성한 법전이 편찬되었습니다.
- ④ 대표적인 건축물에는 성 소피아 성당이 있습니다.
- ⑤ 신앙과 이성을 조화시킨 스킨라 철학이 발달했습니다.

10. 다음 상황을 해결하기 위해 실시한 개혁으로 옳은 것은?

포에니 전쟁의 승리 이후에도 로마는 지속적으로 영토를 확장해 나갔다. 유력자들은 정복한 땅의 대부분을 차지하였을 뿐만 아니라 이탈리아 내의 공유지와 가난한 사람들의 토지를 사들였다. 이들은 노예 노동을 이용한 라티퐁디움 경영의 확대를 통해 막대한 부를 축적하였다. 이에 반해 수많은 사람들은 장기간의 전쟁으로 인한 토지의 황폐와 생산력 저하, 부채 증가 등으로 토지를 잃고 빈민층으로 몰락하였다.

- ① 평민권을 보장하기 위해 12표법을 제정하였다.
- ② 귀족의 권한을 제한하는 리키니우스 법을 제정하였다.
- ③ 콜로누스를 이용한 새로운 농업 경영 방식을 도입하였다.
- ④ 자영농 육성을 위해 그라쿠스 형제가 농지법을 발표하였다.
- ⑤ 평민들의 권익을 보호하기 위해 호민관 제도를 신설하였다.

11. 그림은 어느 종교 의식을 표현한 것이다. 이 종교를 기반으로 한 사회에 대한 옳은 설명을 <보기>에서 고른 것은?

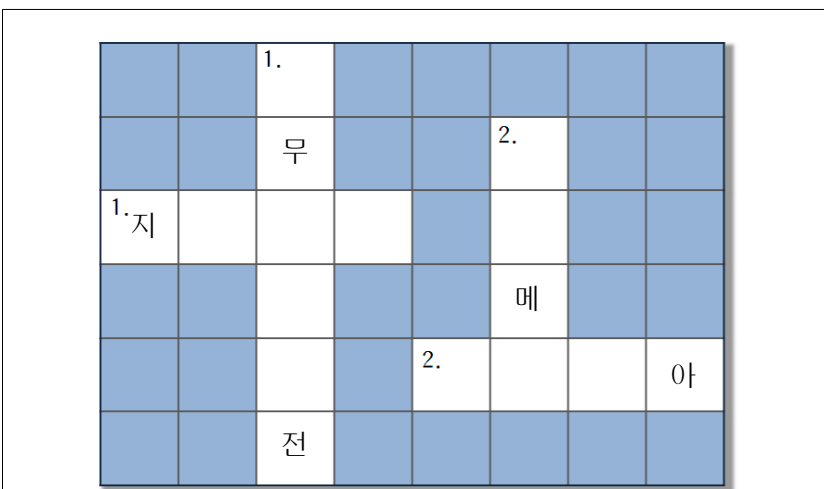


< 보기 >

- ㄱ. 쿠란의 계율이 일상 생활 전반을 지배하였다.
- ㄴ. 유일신 앞에서의 모든 인간의 평등을 내세웠다.
- ㄷ. 윤회로부터의 해탈을 위해 금욕적 생활을 강조하였다.
- ㄹ. 엄격한 제사 의식과 카스트에 따른 의무를 중시하였다.

- ① ㄱ, ㄴ                      ② ㄱ, ㄷ                      ③ ㄴ, ㄷ
- ④ ㄴ, ㄹ                      ⑤ ㄷ, ㄹ

12. 다음은 어느 고대 문명을 주제로 만든 퍼즐이다. 이 문명에 대한 설명으로 옳은 것은?



<가로 열쇠>

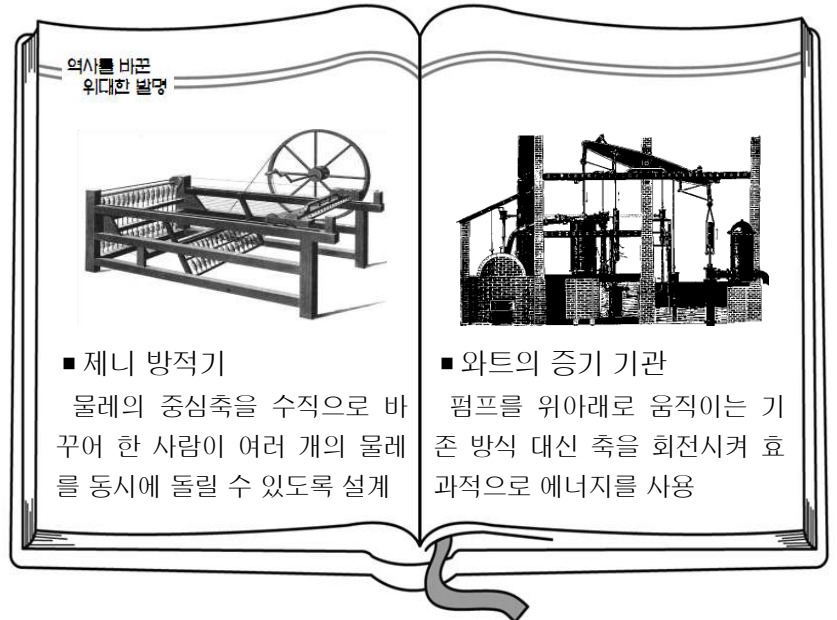
- 1. 계단식 기단 위에 세워진 신전
- 2. 서아시아 지역을 최초로 통일한 나라

<세로 열쇠>

- 1. 282개조로 된 성문 법전. 보복주의와 신분 차별 인정
- 2. 쉼표 문자로 기록된 최초의 서사시, ○○○○ 서사시

- ① 60진법과 태음력을 사용하였다.
- ② 자연신을 찬미하는 베다를 만들었다.
- ③ 모헨조다로, 하라파 등을 건설하였다.
- ④ 점복의 내용을 기록한 갑골문을 남겼다.
- ⑤ 영혼 불멸을 믿어 사자의 서를 기록하였다.

13. 다음의 기계 발명이 가져온 영국의 경제적 변화로 옳은 것은? [3점]



- ① 제1차 인클로저 운동이 시작되었다.
- ② 금, 은의 대량 유입으로 가격 혁명이 일어났다.
- ③ 한자 동맹이 북해와 발트 해 연안 무역을 독점하였다.
- ④ 길드의 속박에서 벗어나 매뉴팩처 방식이 등장하였다.
- ⑤ 산업 자본가와 임금 노동자의 두 계급이 출현하게 되었다.

14. 다음은 중세 서유럽 농민들의 가상 대화이다. ㉠ ~ ㉥ 중 역사적 사실에 비추어 볼 때 적절하지 않은 것은?

자크리 : 3일째 영주 직영지를 경작하러 가네. 그래도 내일부터는 ㉠ 내 땅을 경작하러 갈 수 있어.  
 마르탱 : 난 방앗간에 가는 길인데 ㉡ 영주가 방앗간과 대장간 시설을 독점하는데다 사용료가 비싸 걱정이네.  
 자크리 : 부역에다 온갖 사용료를 지불하고도 ㉢ 원하는 곳에 살 수도 없는 우리네 신세 .....  
 마르탱 : 그뿐만인가. 영주가 수시로 ㉣ 계약서에 있는 군사적 봉사 의무를 요구하니 점점 살기가 더 힘들네.  
 자크리 : 이봐, 영주관에서 도둑질을 하다 잡힌 제라르를 오늘 ㉤ 영주가 재판한다니 함께 가보세.

- ① ㉠                      ② ㉡                      ③ ㉢                      ④ ㉣                      ⑤ ㉤

15. (가)에서 (나)로 조세 제도가 변화된 배경으로 옳은 것은? [3점]

	(가)	(나)
납부 시기	가을 1회	여름과 가을 2회
과세 방법	토지를 지급받은 정납 기준, 균등 과세	각 호의 재산과 토지 소유 정도에 따라 과세
세금 내용	○ 지세 : 쌀 2석 ○ 요역 : 연 20일의 노역 ○ 공납 : 견 2장과 면 3량	○ 호세 : 재산에 비례해 동전 납부 ○ 지세 : 면적에 비례해 곡물 납부 ○ 상세 : 매상의 30분의 1 납부

- ① 교초 납부로 물가가 상승하였다.
- ② 안·사의 난 이후 장원제가 확대되었다.
- ③ 고구려 원정 실패로 재정이 악화되었다.
- ④ 금의 잦은 침입으로 세폐 부담이 증가하였다.
- ⑤ 대외 교류 확대로 은본위 화폐 제도가 정착되었다.

16. (가)에 해당하는 제도가 당시 사회에 끼친 영향으로 옳은 것은?

위(魏) 문제(文帝)때 처음으로 (가) 을/를 시행하였다. 군읍에는 소중정을 설치하고, 주에는 대중정을 설치하였다. 소중정은 품에 따라 인재의 등급을 정하여 대중정에게 추천하였다. 대중정은 그 결과를 정리해서 사도(司徒)에게 추천하며 사도는 다시 정리한 후 상서로 회부하여 선발, 채용하였다.

- ① 형세호라 불리는 신흥 지주층이 출현하였다.
- ② 신사층이 각 지방의 사회와 경제를 주도하였다.
- ③ 제자백가로 불린 사상가들이 등장하여 활동하였다.
- ④ 사대부가 지배층으로 성장하여 면세의 특권을 누렸다.
- ⑤ 관직이 세습적으로 독점되면서 문벌 귀족이 형성되었다.

17. 다음의 군대를 설치한 나라에 대한 설명으로 옳은 것은? [3점]

**신식 군대 설치에 관한 포고**

나, 술탄 무라드(1세)는 비잔티움 제국 정복에 총력을 기울이기 위해 아래와 같이 우리 제국의 군대를 편성하도록 명한다. 이 군대의 이름은 예니체리(Yenicheri), 즉 '새로운 군대'라는 의미이다.

- 발칸 지역 피정복민 청년들을 징집, 개종시킨다.
- 술탄의 호위 및 수도의 치안 유지를 담당한다.
- 10명, 100명, 1,000명 단위로 편성한다.
- 1,000명의 군대는 아가(aga)가 지휘한다.

- ① 몽골 제국의 부흥을 선언하며 건국되었다.
- ② 탈라스 전투에서 당의 군대를 격퇴하였다.
- ③ 예루살렘을 공격하여 십자군 전쟁을 유발시켰다.
- ④ 투르·푸아티에 전투에서 프랑크 왕국과 대립하였다.
- ⑤ 술탄이 칼리프를 겸하여 정·교일치 체제를 확립하였다.

18. 그림은 어느 시대 미술 작품의 전시 장면이다. 이 시대의 문화에 대한 설명으로 옳지 않은 것은?



- ① 코페르니쿠스가 지동설을 주장하였다.
- ② 루소는 사회 계약론에서 주권 재민을 주장하였다.
- ③ 미켈란젤로는 피에타, 다비드 상 등을 조각하였다.
- ④ 세르반테스는 자신의 모국어로 돈키호테를 저술하였다.
- ⑤ 에라스무스는 우신예찬에서 교회와 성직자를 비판하였다.

19. 다음을 통해 알 수 있는 시대의 문화에 대한 설명으로 옳은 것은? [3점]



<관복>

<침전조>

이 시대는 일본의 정치·사회 전반에 걸친 전환기로, 문화에서도 일본 고유의 색채를 띤 새로운 기풍이 나타났다. 관복은 당풍에서 벗어난 독특한 형태로 바뀌었고, 주택에서는 '침전조'라는 새로운 양식이 나타났다.

- ① 가나로 쓰여진 와카 문학이 유행하였다.
- ② 네덜란드와 교류하여 난학이 발달하였다.
- ③ 고사기, 일본서기 등의 역사서가 편찬되었다.
- ④ 우키요에, 가부키 등의 조닌 문화가 성장하였다.
- ⑤ 아스카 지방을 중심으로 불교 문화가 성립되었다.

20. 다음은 어느 작가의 연보 중 일부이다. (가), (나) 혁명에 대한 설명으로 옳지 않은 것은? [3점]

1830년 파리에 머무는 동안 (가) 의 발발로 루이 필리프 왕이 즉위하자, 그의 집권을 기념하는 시를 짓다.

1845년 루이 필리프 왕으로부터 자작 작위를 받고 귀족이 되다. <레 미제라블>의 집필을 시작하다.

1848년 (나) 의 발발 이후 공화정 의원에 선출되다. 루이 나폴레옹이 대통령에 임명되는 데 도움을 주다.

1851년 루이 나폴레옹의 쿠데타로 제정이 수립되자, 저항 운동을 벌이다가 브뤼셀로 망명하다.

1862년 완성된 <레 미제라블>을 파리, 브뤼셀에서 간행하다.

- ① (가)의 결과로 입헌 군주정이 수립되었다.
- ② (가)는 보수 반동 정치에 저항한 자유주의 운동이었다.
- ③ (나)의 전개 과정에서 인권 선언이 발표되었다.
- ④ (나)에서 소시민과 노동자들이 선거권 확대를 요구하였다.
- ⑤ (가), (나)는 빈 체제의 붕괴에 영향을 주었다.

※ 확인사항

문제지와 답안지의 해당란을 정확히 기입(표기)했는지 확인하십시오.