

2011학년도 6월 고1 전국연합학력평가 문제지

제 4 교시 탐구 영역(사회-일반사회)

성명 수험번호 1

1

- 자신이 선택한 과목의 문제지인지 확인하십시오.
- 문제지의 해당란에 성명과 수험 번호를 정확히 쓰시오.
- 답안지의 해당란에 성명과 수험 번호를 쓰고, 또 수험 번호와 답을 정확히 표시하십시오.
- 선택한 과목 순서대로 문제를 풀고, 답을 표시하십시오.
- 문항에 따라 배점이 다르니, 각 물음의 끝에 표시된 배점을 참고하십시오. 3점 문항에만 점수가 표시되어 있습니다. 점수 표시가 없는 문항은 모두 2점입니다.

1. 다음 글이 사회 갈등과 관련하여 시사하는 바로 가장 적절한 것은?

치킨 게임은 1950년대 미국 젊은이들 사이에서 유행하던 자동차 경주로, 서로 마주보고 질주하다가 먼저 핸들을 꺾은 사람이 지는 경기이다. 핸들을 꺾은 사람은 겁쟁이, 즉 치킨으로 몰려 명예롭지 못한 사람으로 취급받는다. 하지만 승리를 위해 어느 한쪽도 핸들을 꺾지 않을 경우, 결국 충돌하여 양쪽 모두 죽게 된다.

- ① 사회 갈등은 상호 양보를 통해 해결되어야 한다.
- ② 사회 갈등이 원만하게 해결되면 사회통합에 기여한다.
- ③ 사회 갈등은 그 사회가 당면한 문제가 무엇인지를 알려준다.
- ④ 사회 갈등은 제3자의 조정을 통해 합리적으로 해결되어야 한다.
- ⑤ 사회 갈등으로 인해 당사자뿐만 아니라 구성원 전체가 피해를 입는다.

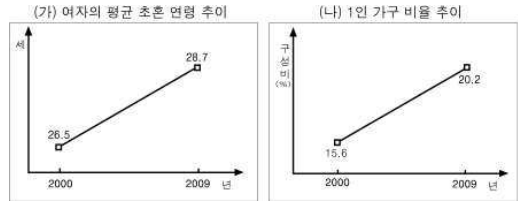
2. 다음 글과 관련된 옳은 진술을 <보기>에서 고른 것은? [3점]

폴리슈머는 정책을 뜻하는 'Policy'와 소비자를 뜻하는 'Consumer'를 합한 신조어로, 사회의 관심과 긴급한 정책적 지원이 필요한 새로운 계층을 가리킨다. 통계청은 '늦어서 불안한 사람들'(고령 산모), '영화를 보고 싶은 사람들'(문화 소외층), '공부보다 생계를 걱정하는 대학생들', '소득의 1/3을 난방비로 쓰는 사람들'(에너지 빈곤층), '남자라서 더 힘든 사람들'(싱글대디)을 우리 사회의 폴리슈머로 선정했다.

— < 보 기 > —
 가. 폴리슈머는 자유권을 침해받은 계층이다.
 나. 폴리슈머는 차별화된 복지 혜택이 필요한 사람들이다.
 다. 통계청이 선정한 폴리슈머들은 모두 빈곤층에 해당한다.
 르. 폴리슈머에 대한 정책적 지원은 기본권 보장을 강화하는 것이다.

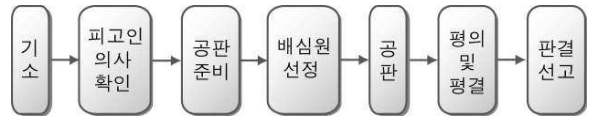
- ① 가, 나 ② 가, 다 ③ 나, 다 ④ 나, 르 ⑤ 다, 르

3. 제시된 자료에 대한 분석이나 추론으로 옳지 않은 것은? (전체 가구수는 증가하였다.) [3점]



- ① (가)로 인하여 여성의 사회적 지위가 높아졌다.
- ② (가)는 출산율을 떨어뜨리는 원인이 될 수 있다.
- ③ (나)로 보아 1인 가구수는 증가되었을 것이다.
- ④ (나)로 보아 혼자 사는 사람들이 늘어났을 것이다.
- ⑤ (가)는 (나)에 영향을 주었다.

4. 그림은 우리나라에서 실시하는 어느 재판의 절차이다. 이에 대한 설명으로 옳은 것은? [3점]



- ① 법원의 판결에 국민의 법 감정을 반영하기가 어렵다.
- ② 피고인의 의사와 관계없이 모든 형사 사건에 적용된다.
- ③ 법원은 법률 전문가 중에서 신청을 받아 배심원을 선정한다.
- ④ 배심원의 판결은 판사의 판결을 법적으로 구속하지 못한다.
- ⑤ 민사 재판 중 중요 사건은 이와 같은 절차를 거칠 수도 있다.

5. 밑줄 친 ㉠, ㉡에서 찾을 수 있는 문화 변동의 양상이 바르게 연결된 것은?

다문화 사회는 언어, 종교, 관습, 가치관, 국적, 인종, 민족 등 다양한 문화적 배경을 지닌 사람들로 구성된 사회이다. 다문화 사회를 파악하는 개념으로는 '용광로', '샐러드 그릇' 등이 있다. ㉠'용광로'가 소수 집단의 문화가 주류 사회의 문화로 대체된 것이라면, ㉡'샐러드 그릇'은 소수 집단과 다수 집단이 고유의 문화적 개별성을 그대로 유지하면서 서로 혼재되어 있는 것을 의미한다.

- ㉠ ㉡
- ① 문화 융합 문화 동화 ① ㉡
 - ② 문화 융합 문화 공존 ② ㉡
 - ③ 문화 동화 문화 공존 ③ ㉡
 - ④ 문화 동화 문화 융합 ④ ㉡
 - ⑤ 문화 공존 문화 융합

탐구 영역(사회-일반사회)

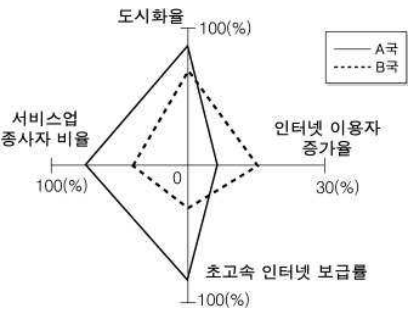
6. 다음 글은 현대 사회의 어떤 변동 양상을 설명하기 위한 자료이다. 이 변동 양상으로 인한 영향을 <보기>에서 고른 것은?

영국의 왕세자비 ○○○○는 차를 타고 가다가 프랑스에 있는 터널에서 참변을 당했다. 캐나다 기사는 미국의 IT 기술을 이용하여 이 소식을 전 세계에 전승하였다. 사고 당시 벨기에 출신 운전사가 네덜란드산 엔진을 장착한 독일산 승용차를 몰았다. 그가 차를 고속으로 몰았던 까닭은 일본산 오토바이를 탄 이탈리아 파파라치들이 뒤쫓아 왔기 때문이다.

- <보기>
- ㄱ. 문화적 고유성이 강화된다.
 - ㄴ. 국가 간, 계층 간 빈부 격차가 줄어든다.
 - ㄷ. 국제 사회에서 국가 간 상호 의존도가 높아진다.
 - ㄹ. 노동, 자본 등 생산 요소의 국가 간 이동이 증가한다.

① ㄱ, ㄴ ② ㄱ, ㄷ ③ ㄴ, ㄷ ④ ㄴ, ㄹ ⑤ ㄷ, ㄹ

7. 그림은 A, B국의 사회 관련 지표를 나타낸 것이다. A국과 비교할 때, B국의 특징으로 옳은 것은? [3점]



- ① 산업화를 더 일찍 겪었을 것이다.
- ② 인터넷 이용자가 더 많을 것이다.
- ③ 재택 근무자의 비율이 더 높을 것이다.
- ④ 1, 2차 산업의 비중이 더 낮을 것이다.
- ⑤ 인터넷 이용자 증가 속도가 더 빠를 것이다.

8. 그림의 갑, 을, 병의 진술에 나타난 기본권을 차례대로 A, B, C라 할 때, 이에 대한 옳은 설명을 <보기>에서 고른 것은? [3점]



- <보기>
- ㄱ. A는 국가로부터 부당한 간섭을 받지 않을 권리이다.
 - ㄴ. B는 사회적 약자를 보호하기 위한 권리이다.
 - ㄷ. C는 실질적 평등을 실현하기 위한 적극적 권리이다.
 - ㄹ. B와 C는 다른 기본권을 보장하기 위한 수단적 권리이다.

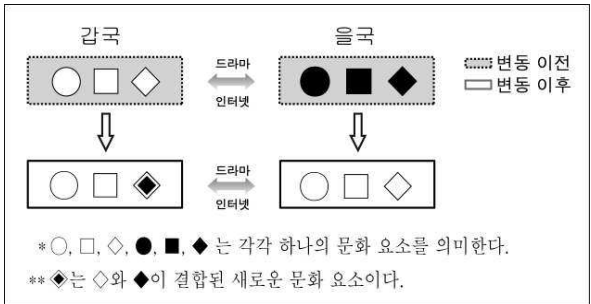
① ㄱ, ㄴ ② ㄱ, ㄷ ③ ㄴ, ㄷ ④ ㄴ, ㄹ ⑤ ㄷ, ㄹ

9. 그림의 내용을 통해 사회적 쟁점의 해결과 관련하여 도출할 수 있는 결론으로 가장 적절한 것은?



- ① 사회적 약자에 대한 배려가 필요하다.
- ② 가치 판단을 배제한 상태에서 해결되어야 한다.
- ③ 다양한 관점에서 종합적으로 접근할 필요가 있다.
- ④ 사회 문제의 인과 관계를 명확하게 파악해야 한다.
- ⑤ 복잡한 사회 문제를 단순화하여 이해하는 것이 요구된다.

10. 그림은 갑국과 을국의 문화 변동을 나타낸 것이다. 이에 대한 옳은 설명만을 <보기>에서 있는 대로 고른 것은? [3점]



- <보기>
- ㄱ. 을국에서는 기존의 문화가 갑국의 문화로 대체되었다.
 - ㄴ. 갑국은 을국보다 자문화에 대한 주체성이 강할 것이다.
 - ㄷ. 을국은 갑국보다 새로운 문화 요소에 대해 수용적이다.
 - ㄹ. 갑국은 발명에 의해, 을국은 전파에 의해 문화가 변동하였다.

① ㄱ, ㄴ ② ㄴ, ㄹ ③ ㄷ, ㄹ
④ ㄱ, ㄴ, ㄷ ⑤ ㄱ, ㄷ, ㄹ

탐구 영역(사회-일반사회)

사회-일반사회

11. 다음 신문 기사를 본 학생들의 발표 내용으로 옳지 않은 것은?

○○신문 ○○○○년 ○월 ○일

‘야간 집회 금지’ 헌법불합치

해가 진 뒤 옥의 집회를 원칙적으로 금지하는 ‘집회 및 시위에 관한 법률’ 조항이 헌법에 어긋난다는 헌법 불합치 결정이 나왔다. 헌법 불합치란 해당 법률 조항이 사실상 위헌이지만, 사회적 혼란을 감안해 법이 개정될 때까지는 효력을 유지시키는 것이다. 헌법 재판소는 “헌법은 집회의 사전 허가제를 금지하고 있는데 해당 법 조항은 관할 경찰서장의 허가를 규정하고 있고, 금지 시간대를 너무 과도하게 잡았다.”라고 설명했다.

- ① 헌법 재판소는 국민의 기본권 침해를 구제하는 기관이다.
- ② 헌법 재판소는 집회의 자유와 공공복리를 조화시키려 했다.
- ③ 입법 기관에 의해 제정된 법률도 정당하지 않은 경우가 있어.
- ④ 사회 전체의 이익을 위해서는 기본권을 얼마든지 제한할 수 있어.
- ⑤ 재판부는 기본권의 본질적 내용은 침해할 수 없다고 판단하였다.

12. 다음 자료에 대한 분석으로 옳지 않은 것은? [3점]

순위	국가명	갈등 지수
1	터키	1.20
2	폴란드	0.76
3	슬로바키아	0.72
4	한국	0.44
10	일본	0.42
17	독일	0.36

갈등 지수는 ‘지니계수’를 ㉠ ‘정부 효과성 지수’와 ㉡ ‘민주주의 지수’의 평균값으로 나누어 산출한다. 지니계수는 소득 분배의 평등 정도를 보여주는 경제 지표로, 평등할수록 0, 불평등할수록 1에 가까워진다. 그리고 정부 효과성 지수는 정부 정책의 효과가 커질수록 높아지고, 민주주의 지수도 민주주의가 성숙할수록 높아진다.

- ① 민주주의가 성숙할수록 갈등 지수는 낮아진다.
- ② 소득 분배가 평등해질수록 갈등 지수는 높아진다.
- ③ 정부 효과성 지수가 높아질수록 갈등 지수는 낮아진다.
- ④ 갈등 지수는 사회·정치적 현상과 관련된 사회 지표이다.
- ⑤ 독일과 터키의 ㉠과 ㉡이 같다면, 독일보다 터키의 소득 분배가 더 불평등할 것이다.

13. 다음 주장을 뒷받침할 수 있는 근거를 <보기>에서 고른 것은?

테러를 예방할 목적으로 공항 검색대에서 개인의 알몸을 훤히 들여다 볼 수 있는 전신 스캐너를 사용한다고 한다. 이는 인간의 존엄성과 관련된 문제로서 개인의 인권을 침해하는 행위이기 때문에 허용되어서는 안 된다.

———— <보기> ————

ㄱ. 인권은 국가의 법에 의해서 주어진 권리이다.
 ㄴ. 공공의 이익을 위한 기본권 제한은 불가피하다.
 ㄷ. 인권 보장은 사회 정의를 실현하는 핵심 요건이다.
 ㄹ. 불합리한 기본권 제한은 민주주의의 이념에 반한다.

- ① ㄱ, ㄴ ② ㄱ, ㄷ ③ ㄴ, ㄷ ④ ㄴ, ㄹ ⑤ ㄷ, ㄹ

14. ~ 15] 그림은 고령화 문제와 관련된 수행 평가 보고서용 작성하기 위해 모인 모둠의 대화이다. 물음에 답하시오.



14. 위의 영수가 조사했을 자료를 <보기>에서 고른 것은?

———— <보기> ————

ㄱ. 합계 출산율 추이
 ㄴ. 평균 수명의 변화
 ㄷ. 독거 노인 가구 추이
 ㄹ. 건강보험상 노인 의료비 비중 변화

- ① ㄱ, ㄴ ② ㄱ, ㄷ ③ ㄴ, ㄷ ④ ㄴ, ㄹ ⑤ ㄷ, ㄹ

15. 표는 위의 현미가 수집한 통계 자료이다. 이에 나타난 변화에 대한 분석이나 추론으로 옳지 않은 것은? [3점]

우리나라 노인이 경험하는 가장 심각한 문제 (단위:%)

구분	항목	경제적 어려움	건강 문제	직업 없음	소외감	기타
		2002년	전체 33.9	41.5	8.7	8.5
2002년	남	37.4	38.7	10.5	6.8	6.6
	여	31.7	43.3	7.7	9.5	7.8
2009년	전체	42.6	37.2	9.3	3.9	7.0
	남	42.6	33.6	12.0	2.9	8.9
	여	42.5	39.9	7.2	4.8	5.6

* 65세 이상 노인을 대상으로 한 설문 조사 결과임.

- ① 전체 항목 중 ‘소외감’에 응답한 노인의 비율은 감소하였다.
- ② 건강 문제에 비해 경제적 어려움이 상대적으로 더 심각해졌을 것이다.
- ③ 여자 노인에 비해 남자 노인이 건강 문제를 더 심각하게 생각할 것이다.
- ④ 생산 활동에 참여하기를 원하는 노인의 비중이 높아졌을 것이다.
- ⑤ ‘경제적 어려움’에 응답한 여자 노인 비율이 남자 노인 비율보다 더 크게 증가하였다.

4

탐구 영역(사회-일반사회)

16. 다음 두 사람의 진술에 나타난 우리 사회의 문제에 대한 설명으로 옳지 않은 것은? [3점]

갑(외국인 근로자) : 한국인 노동자와 동일한 노동을 해도 임금은 훨씬 적어요. 야간이나 휴일에 근무를 해도 수당을 제대로 받지 못해요.
을(결혼 이민자) : 저는 베트남에서 시집왔어요. 초등학교생인 아이가 놀림을 당해 속상해요. 학부모 모임에서도 저를 보는 시선이 곱지 않아요.

- ① 갑의 문제는 제도 개선을 통해 해결할 수 있다.
② 다문화 사회로 변화하면서 발생하는 사회 문제이다.
③ 관용을 바탕으로 한 다문화 교육을 통해 해결할 수 있다.
④ 문제 해결을 위해서는 자문화중심주의적 태도로 접근해야 한다.
⑤ 을의 문제 해결을 위해서는 '다름'을 '차별'이 아닌 '차이'로 이해하는 태도가 필요하다.

17. 다음 글에서 도출할 수 있는 사회학적 개념에 대한 옳은 설명을 <보기>에서 고른 것은?

우리 사회에서도 여성의 경제 활동과 사회 참여가 활발해지고 관리직에 종사하는 여성의 수가 급격하게 증가하고 있다. 하지만 여전히 남녀의 성역할에 대한 인식은 이러한 변화를 따라가지 못하고 있다. 맞벌이 부부의 경우에도 집안일은 대부분 여성의 몫이고, 이로 인해 심한 스트레스를 겪는 여성이 늘어나고 있다.

<보기>
ㄱ. 인터넷 악성 댓글이 난무하는 것도 하나의 사례이다.
ㄴ. 두 문화가 혼합되어 제3의 문화가 만들어지는 현상이다.
ㄷ. 사회 변동의 속도가 빨라지면서 발생 가능성이 높아졌다.
ㄹ. 비물질 문화가 물질 문화보다 빠르게 변화하기 때문에 발생한다.

- ① ㄱ, ㄴ ② ㄱ, ㄷ ③ ㄴ, ㄷ ④ ㄴ, ㄹ ⑤ ㄷ, ㄹ

18. 다음 자료는 수업 중 교사가 제시한 것이다. 이 수업의 주제로 가장 적절한 것은?

12~16세기 안데스 산맥의 잉카인들은 습지에서 잘 자라는 감자와 건조지에서 잘 크는 감자를 함께 재배했다. 기온이 높은 곳에서 잘 크는 감자와 기온이 낮은 곳에서 잘 자라는 감자를 어느 하나 버리지 않았다. 그 결과 잉카인들은 급격한 기후 변화나 병충해 창궐에도 큰 충격을 받지 않았고, 식량 부족으로 인한 재앙을 예방할 수 있었다. 이처럼 문화도 획일화되지 않고 여러 가지 요소들이 공존할 때 더 풍요로워 진다.

- ① 문화 변동의 과정 ② 문화 변동의 원인
③ 문화 다양성의 의미 ④ 문화 상대주의의 필요성
⑤ 자문화 중심주의의 폐해

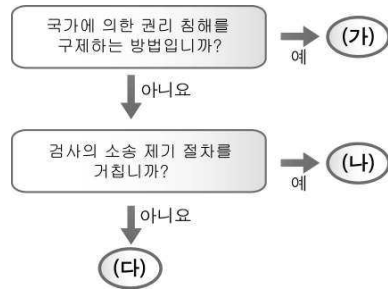
19. 다음 글의 □ 안에 들어갈 권리 구제 방법에 대한 옳은 설명을 <보기>에서 고른 것은? [3점]

헌행범으로 체포돼 경찰서 유치장에 구금된 ○○○씨 등 여성 2명은 “차단막 없는 화장실을 사용하도록 강제 당해 인격권을 침해당했다”며 □ 을 제기하였다. 이에 대해 헌법 재판소는 2001년 7월 일선 경찰서의 차단막 없는 유치장 화장실 운영이 헌법이 보장하는 인격권을 침해한 것으로 위헌 결정을 내렸다.

<보기>
ㄱ. 국민이 국가 권력을 통제하는 수단이다.
ㄴ. 공권력의 행사로 인한 기본권 침해를 구제하는 제도이다.
ㄷ. 다른 법률적 구제 수단이 있는 경우에도 청구할 수 있다.
ㄹ. 타인에 의해 헌법상 권리가 침해된 경우에도 제기할 수 있다.

- ① ㄱ, ㄴ ② ㄱ, ㄷ ③ ㄴ, ㄷ ④ ㄴ, ㄹ ⑤ ㄷ, ㄹ

20. 그림은 어떤 학생이 기본권 침해에 대한 법적 구제 방법을 분류한 것이다. 이에 대한 옳은 설명을 <보기>에서 고른 것은?



<보기>
ㄱ. 위헌 법률 심판은 (가)에 포함된다.
ㄴ. 형벌을 통한 권리 구제는 (나)에 포함된다.
ㄷ. 고소, 고발을 통한 권리 구제는 (다)에 해당한다.
ㄹ. 타인에 의한 권리 침해는 (나), (다) 중 하나만을 통해서 구제된다.

- ① ㄱ, ㄴ ② ㄱ, ㄷ ③ ㄴ, ㄷ ④ ㄴ, ㄹ ⑤ ㄷ, ㄹ

※ 확인 사항
○ 답안지의 해당란에 필요한 내용을 정확히 기입(표기)했는지 확인하십시오.