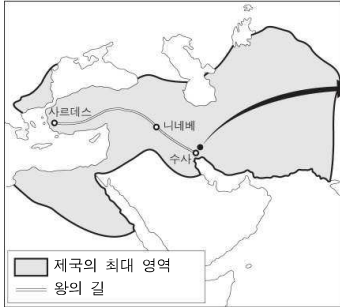


6. 밑줄 친 '제국'에 대한 설명으로 옳은 것은? [3점]



나, 다리우스는 위대한 왕, 왕 중의 왕이다. 광명의 신 아후라 마즈다의 높은 뜻에 따라 왕이 되었다. 아후라 마즈다는 제국을 나에게 주셨다.

- 베히스툰 비문 -

- ① 술탄에 의해 통치되었다.
- ② 이슬람 세력에게 멸망당하였다.
- ③ 세계 최초로 철제 무기를 사용하였다.
- ④ 카르타고라는 식민 도시를 건설하였다.
- ⑤ 그리스와 전쟁을 벌였으나 패배하였다.

7. (가)에 들어갈 내용으로 적절한 것은?

인더스 강의 고대 문명을 찾아

안녕하십니까? 저희 ○○ 여행사에서는 고대 문명의 흔적을 찾아 떠나는 특별 여행 상품을 기획하였습니다.

인더스 강 유역의 모헨조다로 유적지에서 고대 인도인의 숨결을 직접 느껴보십시오.

* 여행 상품 내용

- 대형 박물관 유적지 둘러보기

- (가)

- ① 갑골 문자 해석해보기
- ② 파라오 복장으로 사진 찍기
- ③ 파피루스를 만들어서 글씨 써 보기
- ④ 문자와 동물들이 새겨진 인장 만들기
- ⑤ 점토판에 갈대를 이용하여 췌기 문자 새겨 보기

8. 다음 가상 광고가 내려진 나라에서 있었던 사실로 옳은 것은?

<광고>

황제의 명령에 의거하여 구품 중정제를 폐지하고, 최초로 과거 시험을 실시합니다.

○ 응시 자격 : 가문 제한 없음

○ 응시 과목

- 수재과(秀才科) : 정책 방안 논술 시험
- 명경과(明經科) : 유교 경전 시험
- 진사과(進士科) : 문장 작성 능력 시험

- ① 대운하를 건설하였다.
- ② 장건을 서역에 파견하였다.
- ③ 황건적의 난이 발생하였다.
- ④ 왕안석이 개혁을 추진하였다.
- ⑤ 사대부라는 지배층이 등장하였다.

9. (가)에 들어갈 내용으로 가장 적절한 것은? [3점]


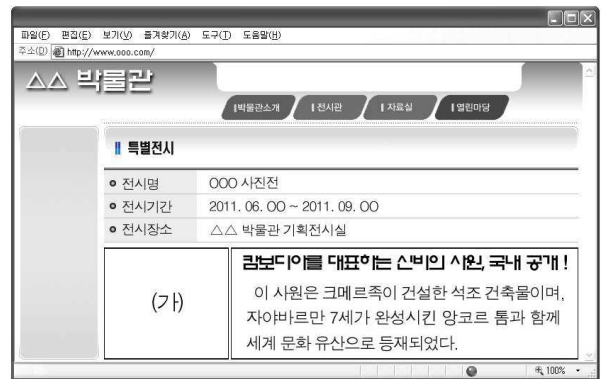
안 내 장

인도 학회에서 다음과 같이 제○○회 춘계 정기 학술 대회를 개최합니다.

- 주제 : 인도 □□ 왕조의 발전
- 일시 : 2011년 ○○월 ○○일 13:00 ~ 18:00
- 장소 : △△ 대학교 제1세미나실
- 학술 대회 프로그램
 - 발표 1 : 찬드라굽타 2세의 정복 활동
 - 발표 2 : 아잔타 석굴 벽화의 예술적 가치
 - 발표 3 : 『사쿰탈라』의 문학적 의의
 - 발표 4 : (가)

- ① 힌두교의 성립 과정
- ② 인도의 이슬람화 과정
- ③ 자이나교의 창시 배경
- ④ 아소카 왕의 불교 정책
- ⑤ 우파니샤드 철학의 등장 배경

10. (가)에 해당하는 사진으로 옳은 것은?




사회탐구 영역(세계사)

세계사

11. 밑줄 친 '이 왕조'의 문화와 관련된 설명으로 옳은 것은?

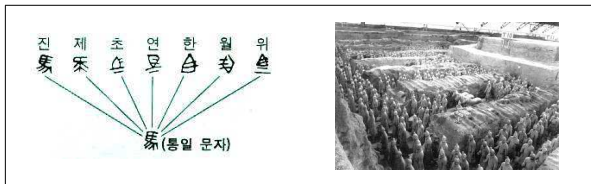
이 왕조에서는 네모난 활판에 활자를 나열하고 먹을 문헌 뒤 종이를 덮어 문지르는 인쇄 기술이 발명되었다. 이전의 목판 인쇄술보다 한층 더 발전한 것으로서 출판 문화의 발전에 기여하였다.

이 기술은 화약, 나침반과 함께 이 왕조의 대표적인 발명품으로, 이슬람 상인들을 통해 유럽으로 전해졌다.



- ① 도교가 성립되었다.
- ② 법가 사상이 나타났다.
- ③ 청담 사상이 등장하였다.
- ④ 주희가 성리학을 집대성하였다.
- ⑤ 이백과 두보 등의 시인이 활동하였다.

12. 다음 자료를 통해 탐구하려는 인물에 대한 옳은 설명을 <보기>에서 고른 것은?



<보 기>

ㄱ. 양세법을 실시하였다.
 ㄴ. 비단길을 개척하였다.
 ㄷ. 만리장성을 축조하였다.
 ㄹ. 분서갱유를 단행하였다.

- ① ㄱ, ㄴ ② ㄱ, ㄷ ③ ㄴ, ㄷ ④ ㄴ, ㄹ ⑤ ㄷ, ㄹ

13. (가) 왕조의 경제 상황에 대한 설명으로 옳은 것은? [3점]



- ① 교자, 회자 등의 지폐가 사용되었다.
- ② 우경이 시작되어 생산량이 늘어났다.
- ③ 일종의 약속 어음인 비전이 사용되었다.
- ④ 양쯔 강 하류가 최대의 곡창 지대가 되었다.
- ⑤ 석탄 사용이 보편화되어 수공업이 발전하였다.

14. (가)에 들어갈 내용으로 적절한 것은? [3점]

세계사 신문

○○ 왕조 특집호

<p>원강 석굴 완공</p> <p>승려 담요가 문성제의 동의를 얻어 공사를 시작한 지 30여 년 만에 산시성 원강(雲崗)의 사암 절벽에 중국 최대의 석굴 사원이 모습을 드러냈다. 동서 길이 1km에 이르는 총 42동(洞)의 석굴 내부에는 인간의 솜씨로 보기엔 믿기지 않을 만큼 생동감 있는 불상 조각이 벽면 가득히 채워져 있다.</p>	<p>특집 기획</p> <p>이 시대 사람들을 만나다.</p> <hr/> <p>1. 한화 정책을 적극적으로 추진하는 신비족 황제</p> <p>2. _____ (가) _____</p>
--	--

- ① 당삼체를 만드는 수공업자
- ② 황소의 난을 진압하러 가는 절도사
- ③ 원의 재정 업무를 처리하는 색목인
- ④ 균전제에 따라 토지를 지급받는 농민
- ⑤ 무역 허가증을 발급하는 시막사 관리

15. (가) 문화와 관련된 설명으로 옳은 것은? [3점]



저는 '이시스 티케(Isis-Tyche)'라는 이름의 조각상입니다. 이집트 여신 이시스(Isis)가 그리스 여신 티케(Tyche)의 상징물을 들고 있다고 해서 붙여진 이름이죠. 그래서 저를 오리엔트 문화와 그리스 문화가 융합되어 나타난 (가) 을/를 상징적으로 보여주는 유물이라고 해요.

<보 기>

ㄱ. 크리스티교에 바탕을 두었다.
 ㄴ. 원형 경기장인 콜로세움을 세웠다.
 ㄷ. 간다라 미술의 성립에 영향을 끼쳤다.
 ㄹ. 알렉산드로스의 동방 원정을 계기로 형성되었다.

- ① ㄱ, ㄴ ② ㄱ, ㄷ ③ ㄴ, ㄷ ④ ㄴ, ㄹ ⑤ ㄷ, ㄹ

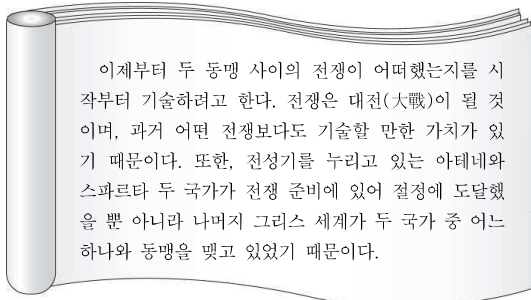
16. (가)에 들어갈 제목으로 적절한 것은? [3점]

역사 다큐멘터리 : 로마, 그 천년의 역사(10부작)

- 제○부 : _____ (가) _____
- 줄거리 : 치열한 전투 끝에 악티온 앞바다에서 안토니우스와 클레오파트라 연합군을 궤멸시킨 옥타비아누스. 이제 그에게 도전할 수 있는 세력이 없다고 판단한 원로원은 '아우구스투스'라는 칭호를 올린다. 군 통수권을 장악했던 그는 종신 호민관의 직위도 차지하게 되어 사실상 황제나 다름없는 존재가 된다.

- ① 로마, 동과 서로 갈라지다.
- ② 로마의 제정 시대, 서막을 열다.
- ③ 로마의 평민, 귀족과 대등해지다.
- ④ 게르만족, 로마 군단의 주축이 되다.
- ⑤ 속주의 반란, 로마를 혼란에 빠지게 하다.

17. 다음 전쟁에 대한 설명으로 옳은 것은? [3점]



- ① 헬레니즘 시대의 종말을 초래하였다.
- ② 솔론이 개혁을 추진하는 배경이 되었다.
- ③ 그리스 세계를 하나로 결속시키는 계기가 되었다.
- ④ 마라톤 전투와 살라미스 해전이 대표적인 전투였다.
- ⑤ 아테네가 그리스 세계의 주도권을 상실하는 결과를 가져왔다.

18. (가)의 문화와 관련된 옳은 설명을 <보기>에서 고른 것은?



<보기>

- ㄱ. 산스크리트 문화가 발달하였다.
- ㄴ. 사원 내부를 아라베스크로 장식하였다.
- ㄷ. 아랍어로 쓰여진 『쿠란』을 중시하였다.
- ㄹ. 쾌락을 추구하는 에피쿠로스 학파가 등장하였다.

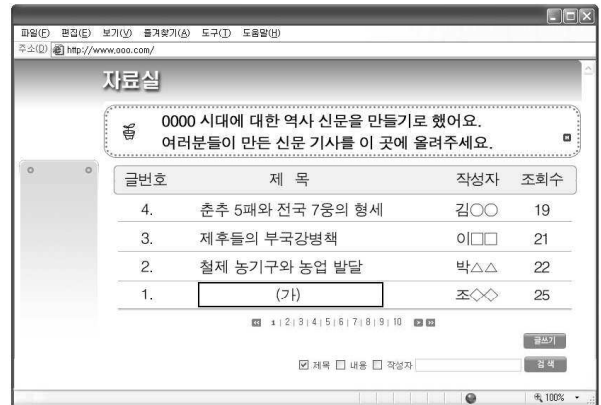
- ① ㄱ, ㄴ
- ② ㄱ, ㄷ
- ③ ㄴ, ㄷ
- ④ ㄴ, ㄹ
- ⑤ ㄷ, ㄹ

19. 밑줄 친 '이 나라'에 대한 설명으로 옳지 않은 것은?

- 이 나라의 수도에서 각 지방을 향하여 뻗어 있는 도로에는 행선지의 이름을 따서 명칭을 붙인다. 칸은 사신들이 이 도로를 통행할 때 필요한 물자를 무엇이든 얻을 수 있도록 준비시키고 있다.
- 마르코 폴로, 『동방견문록』 -
- 이 나라는 여행자에게 가장 안전하고 좋은 곳이다. 혼자서 큰돈을 가지고 다녀도 걱정할 것이 없다. 전국의 모든 역참에는 여인숙이 있는데 거기에는 식량을 비롯해 여행자가 필요한 모든 것이 마련되어 있다.
- 이븐 바투타, 『여행기』 -

- ① 남송을 멸망시켰다.
- ② 교초라는 화폐를 사용하였다.
- ③ 민족 차별 정책을 실시하였다.
- ④ 남면관제와 북면관제를 실시하였다.
- ⑤ 동서 문화 교류를 활발히 전개하였다.

20. (가)에 들어갈 옳은 내용을 <보기>에서 고른 것은? [3점]



<보기>

- ㄱ. 훈고학의 특징
- ㄴ. 제자백가의 활동
- ㄷ. 평준법과 균수법의 시행
- ㄹ. 상업의 발달과 청동 화폐

- ① ㄱ, ㄴ
- ② ㄱ, ㄷ
- ③ ㄴ, ㄷ
- ④ ㄴ, ㄹ
- ⑤ ㄷ, ㄹ

※ 확인 사항

- 답안지의 해당란에 필요한 내용을 정확히 기입(표기)했는지 확인하십시오.