

제 4 교시


직업탐구 영역(회계 원리)

성명

수험 번호

- 자신이 선택한 과목의 문제지인지 확인하시오.
- 문제지의 해당란에 성명과 수험 번호를 정확히 쓰시오.
- 답안지의 해당란에 성명과 수험 번호를 쓰고, 또 수험 번호와 답을 정확히 표시하시오.
- 선택한 과목 순서대로 문제를 풀고, 답은 답안지의 '제1선택'란부터 차례대로 표시하시오.
- 문항에 따라 배점이 다르니, 각 물음의 끝에 표시된 배점을 참고하시오. 3점 문항에만 점수가 표시되어 있습니다. 점수 표시가 없는 문항은 모두 2점입니다.

1. 다음 대화에 나타난 거래를 분개한 것으로 옳은 것은? (단, 상품 계정은 3분법으로 처리한다.)



- ① (차변) 연구비 600,000 (대변) 매출 600,000
- ② (차변) 접대비 400,000 (대변) 매입 400,000
- ③ (차변) 접대비 600,000 (대변) 매출 600,000
- ④ (차변) 광고선전비 400,000 (대변) 매입 400,000
- ⑤ (차변) 광고선전비 600,000 (대변) 매출 600,000

2. 다음은 △△기업의 특허 취득에 관한 기사이다. 이에 대한 설명으로 옳은 것을 <보기>에서 고른 것은?

△△기업은 새로운 제조 공정에 대한 특허를 취득하였다고 공시하였다. 이 회사 관계자는 특허 취득과 관련하여 구입 가격 3,000만 원과 부대 비용 100만 원을 지급하였다고 한다. 또한 경쟁 회사의 기술 개발 등을 고려하여 앞으로 10년 동안 경제적 효익이 있을 것으로 예상된다고 하였다.

-○○신문, 2008년 5월 26일자-

<보기>

- ㄱ. 특허권은 비상각 대상 자산이다.
- ㄴ. 특허권의 취득원가는 ₩31,000,000이다.
- ㄷ. 특허권은 대차대조표에 산업재산권 계정으로 표시한다.
- ㄹ. 특허권은 구체적인 형태가 있는 자산으로 투자 활동을 위해 보유한다.

- ① ㄱ, ㄴ    ② ㄱ, ㄷ    ③ ㄴ, ㄷ    ④ ㄴ, ㄹ    ⑤ ㄷ, ㄹ

3. 다음 (가), (나)의 거래를 회계처리할 때 증가하는 자산으로 옳은 것을 <보기>에서 고른 것은?

- (가) 3년 간 사용할 수 있는 라이선스를 취득하고 ₩4,000,000을 현금으로 지급하다.
- (나) 장기 보유 목적으로 주식을 취득하고 수수료를 포함하여 ₩3,000,000을 현금으로 지급하다.

<보기>

- ㄱ. 당좌자산    ㄴ. 투자자산    ㄷ. 무형자산

- |   |     |     |   |     |     |
|---|-----|-----|---|-----|-----|
|   | (가) | (나) |   | (가) | (나) |
| ① | ㄱ   | ㄴ   | ② | ㄱ   | ㄷ   |
| ③ | ㄴ   | ㄱ   | ④ | ㄷ   | ㄱ   |
| ⑤ | ㄷ   | ㄴ   |   |     |     |

4. 다음 계정에서 (가)에 전기할 수 있는 거래로 옳은 것만을 <보기>에서 있는 대로 고른 것은?

외상매입금

(가)

전기이월	350,000
매입	890,000
:	:

<보기>

- ㄱ. 상품 ₩50,000을 매입하고 대금은 외상으로 하다.
- ㄴ. 상품 외상 대금 중 ₩200,000을 현금으로 지급하다.
- ㄷ. 외상 매입한 상품 중 불량품 10개(@₩10,000)를 반품하다.

- ① ㄱ                      ② ㄴ                      ③ ㄱ, ㄷ
- ④ ㄴ, ㄷ                ⑤ ㄱ, ㄴ, ㄷ

5. 다음 계정에 기입된 내용을 자료로 하여 당월 외상매출금 회수액을 계산한 것으로 옳은 것은? (단, 매출은 외상 거래이며 대손 처리된 금액은 없다.) [3점]

매출

6/13	외상매출금	30,000	6/12	외상매출금	750,000
6/30	손익	720,000			
		750,000			750,000

외상매출금

6/1	전월이월	230,000	:	:	
:	:	:	6/30	차월이월	330,000
	×××			×××	

- ① ₩490,000                      ② ₩520,000                      ③ ₩620,000
- ④ ₩650,000                      ⑤ ₩720,000

# 2 직업탐구 영역 (회계 원리)

6. 다음은 업무용 사무실을 임차한 계약서이다. 이 거래가 계약 대로 이루어졌을 때 ○○기업의 2007년 기말 정리 사항 분개와 관련된 내용으로 옳은 것만을 <보기>에서 있는 대로 고른 것은? (단, 임차료 지급 시 비용 처리하며 결산일은 12월 31일이다.) [3점]

**임대차 계약서**

임대인 : △△기업  
 임차인 : ○○기업  
 부동산의 표시 : XX시 XX구 XX동 XX 2층 3호(100m<sup>2</sup>)

**제1조 [계약 기간]**  
 2007년 10월 1일부터 2008년 9월 30일 (1년)

**제2조 [계약 금액]**  
 보증금 : 0원  
 월 임대(차)료 : 1,000,000원  
 2007년 10월 1일 임차인은 임대인에게 월 임대료 12개월 분(12,000,000원) 전액을 현금으로 지급한다.

이하 생략

— <보기> —

ㄱ. 선급임차료 계정으로 대체할 금액은 ₩9,000,000이다.  
 ㄴ. 당기 분에 해당하는 임차료 금액은 ₩12,000,000이다.  
 ㄷ. 손익 계정으로 대체할 임차료 금액은 ₩3,000,000이다.

- ① ㄱ                      ② ㄴ                      ③ ㄱ, ㄷ  
 ④ ㄴ, ㄷ                ⑤ ㄱ, ㄴ, ㄷ

7. 다음은 ○○기업의 매출장과 상품재고장의 일부를 나타낸 것이다. 이를 자료로 하여 2008년 8월 12일까지 회계처리를 마친 후, A상품의 매출총이익을 계산한 것으로 옳은 것은? [3점]

**매출장**

2008년		적 요		금 액
8	4	(대한상회) 현금 A상품 200개 @ ₩ 3,500		700,000
	11	(한국상회) 외 상 A상품 300개 @ ₩ 4,000		1,200,000
	12	(대한상회) 환 입 A상품 100개 @ ₩ 3,500		350,000

**상품재고장**

(선입선출법)                      품명 : A 상품                      (단위 : 개)

2008년	적 요	인 수			인 도			잔 액		
		수량	단가	금액	수량	단가	금액	수량	단가	금액
8	1 전월이월	200	1,500	300,000				200	1,500	300,000
	2 매 입	500	2,000	1,000,000						

- ① ₩750,000              ② ₩800,000              ③ ₩850,000  
 ④ ₩1,150,000        ⑤ ₩1,200,000

8. 다음은 [거래]와 이에 대한 [분개]를 나타낸 것이다. (가)에 들어갈 계정과목으로 옳은 것은?

[거래]  
 업무용 토지(장부가액 ₩2,000,000)를 ₩2,500,000에 처분하고 대금은 현금으로 받다.(단, 처분과 관련된 비용은 없다.)

[분개]  
 (차변) 현금 2,500,000      (대변) 토지 2,000,000  
(가) 500,000

- ① 보험차익                      ② 자산수증이익  
 ③ 채무면제이익                ④ 투자자산처분이익  
 ⑤ 유형자산처분이익

9. 그림은 회계의 순환 과정에 대한 수업 장면이다. (가)의 작성을 통하여 발견할 수 있는 오류에 해당하는 것으로 옳은 것은? [3점]



- ① 동일한 거래를 두 번 전기한 경우  
 ② 차·대변의 오류가 우연히 상계된 경우  
 ③ 차·대변을 동시에 전기를 누락한 경우  
 ④ 차·대변의 계정 과목을 반대로 전기한 경우  
 ⑤ 차·대변 중 한쪽 변을 중복 전기한 경우

10. 다음은 총계정원장의 마감과 관련된 내용이다. (가) 계정에 속하는 것으로 옳은 것만을 <보기>에서 있는 대로 고른 것은?

정확한 손익의 계산을 위하여 결산 수정 사항에 대한 수정 분개와 전기가 끝나면 총계정원장의 각 계정을 마감한다. 이 때 (가) 계정들은 당기의 순이익이나 순손실을 산출하기 위한 것이기 때문에 기말 잔액을 차기로 이월하지 않고, 손익 계정에 대체하고 마감한다.

— <보기> —

이자수익 ㄱ. <span style="border: 1px solid black; padding: 2px;">                    </span>   850,000	선급보험료 ㄴ. <span style="border: 1px solid black; padding: 2px;">                    </span>   400,000
여비교통비 ㄷ. <span style="border: 1px solid black; padding: 2px;">                    </span>   200,000	


- ① ㄱ                      ② ㄴ                      ③ ㄱ, ㄷ  
 ④ ㄴ, ㄷ                ⑤ ㄱ, ㄴ, ㄷ

(회계 원리)

직업탐구 영역

3

11. 다음은 ○○기업이 인터넷 쇼핑몰에서 사무용 물품을 구입한 자료이다. 이를 분개할 때 차변 계정과목과 금액으로 옳은 것은?

<p>◎ 제품 상세 보기</p>  <p>Q   확대보기</p> <p>이전상품 다음상품</p>	<p>◎ 주문 정보</p> <p>품 목 명 : 복사 용지                  판매 단가 : 2,000원                  판매 수량 : 50 권</p> <hr/> <p>배 송 비 : 5,000원                  배송 조건 : 7만 원 이상 구매 고객                  무료 배송                  국내 지역 당일 배송</p> <hr/> <p>입금 방법 : 계좌 이체                  제 조 사 : KOREA</p> <p>Q   장바구니 담기    Q   주문하기</p>
--	---

▶ 거래일 : 2008년 9월 2일(물품 당일 도착함)  
 ▶ 대금결제 : 보통예금으로 계좌 이체함  
 ▶ 회계처리 방법 : 복사 용지 구입 시 비용 처리함

계정과목	금액
① 비품	₩105,000
② 소모품	₩100,000
③ 소모품	₩105,000
④ 소모품비	₩100,000
⑤ 소모품비	₩105,000

12. 다음 밑줄 친 부분에 해당하는 거래로 옳은 것만을 <보기>에서 있는 대로 고른 것은?

회계상의 거래는 일상 생활에서의 거래와 반드시 일치하지는 않는다. 계약이나 상품 주문 등의 행위는 일상 생활에서의 거래이나 회계상의 거래로 인식하지 않는다. 회계에서는 경제적 자원의 변화가 발생하여 자산과 부채 및 자본에 증감 변동을 일으키고 화폐 가치로 측정 가능한 경제적 사건을 회계상의 거래라 한다.

<보기>

- ㄱ. 유능한 최고 경영자를 연봉 5억 원에 영입하기로 하다.
- ㄴ. A사원에게 상여금 200만 원을 자기앞수표로 지급하다.
- ㄷ. 자금 조달을 위해 외국 투자자와 300만 달러의 투자 계약을 체결하다.

- ① ㄱ                      ② ㄴ                      ③ ㄱ, ㄷ  
 ④ ㄴ, ㄷ                ⑤ ㄱ, ㄴ, ㄷ

13. 다음은 ○○기업의 손익계산서 일부를 나타낸 것이다. 계정 과목의 기입이 옳지 않은 것을 A ~ E에서 고른 것은? [3점]

과 목	제 x(담)기
판매비와관리비 급여	생 략
A → 대손상각비	
B → 기부금	
영 업 이 의 영 업 외 수 익	
C → 배당금수익	
잡이익	
영 업 외 비 용	
D → 이자비용	
E → 외환차손	

- ① A                      ② B                      ③ C                      ④ D                      ⑤ E

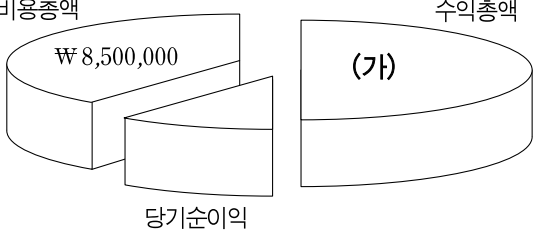
14. 다음은 개인 기업인 ○○상회의 2007년도 [재무 상태]와 [경영 성과]를 나타낸 것이다. (가)에 들어갈 금액으로 옳은 것은? [3점]

[재무 상태]

○○상회		(단위 : 원)	
자 산	5,000,000	부 채	1,500,000
		자 본	3,500,000
	<u>5,000,000</u>		<u>5,000,000</u>

○ 기중 추가 출자액 : ₩800,000  
 ○ 기중 인출액은 없는 것으로 함  
 ○ 기말자본 : ₩7,500,000

[경영 성과]



- ① ₩11,700,000      ② ₩12,500,000      ③ ₩12,800,000  
 ④ ₩13,300,000      ⑤ ₩16,800,000

15. 다음은 ○○(주)의 [사채 발행 관련 자료]와 [사채 상환 관련 자료]이다. 이에 따라 전액 매입 상환할 때 사채상환이익을 계산한 것으로 옳은 것은? [3점]

[사채 발행 관련 자료]

- 발행일 : 2007년 1월 1일
- 만기일 : 2009년 12월 31일
- 이자 지급일 : 연 1회(12월 31일)
- 이자율 : 액면이자율(연 7%), 시장이자율(연 9%)
- 사채할인발행차금 상각 방법 : 유효이자율법 (상각 시 소수점 이하 버림)
- 사채발행비는 없는 것으로 함

[사채 상환 관련 자료]

- 매입 상환일 : 2008년 1월 1일
- 사채 상환액 : ₩1,800,000(현금 지급)
- 사채 상환 관련 비용은 없는 것으로 함
- 사채의 장부 가액은 다음 대차대조표 참조

○○(주)	2008년 1월 1일 현재		(단위 : 원)
	사채	2,000,000	
	사채할인발행차금	(70,328)	

- ① ₩70,328                      ② ₩129,672                      ③ ₩140,656  
 ④ ₩162,000                      ⑤ ₩200,000

