

제 4 교시

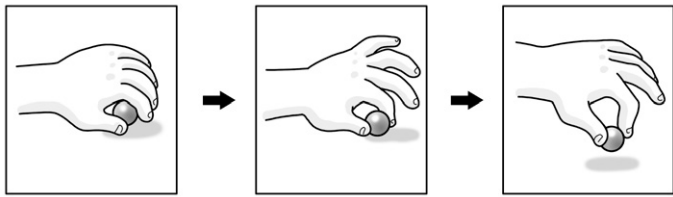
직업탐구 영역(인간 발달)

성명

수험 번호

- 자신이 선택한 과목의 문제지인지 확인하시오.
- 문제지의 해당란에 성명과 수험 번호를 정확히 쓰시오.
- 답안지의 해당란에 성명과 수험 번호를 쓰고, 또 수험 번호와 답을 정확히 표시하시오.
- 선택한 과목 순서대로 문제를 풀고, 답은 답안지의 '제1선택'란부터 차례대로 표시하시오.
- 문항에 따라 배점이 다르니, 각 물음의 끝에 표시된 배점을 참고하시오. 3점 문항에만 점수가 표시되어 있습니다. 점수 표시가 없는 문항은 모두 2점입니다.

1. 그림은 대상잡기의 발달 과정을 나타낸 것이다. (가) 시기의 발달 특성으로 옳은 것을 <보기>에서 고른 것은?



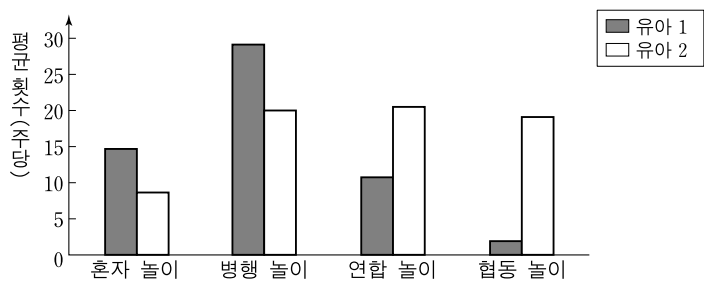
(가)

<보기>

- ㄱ. 유아기가 되어야 가능해진다.
- ㄴ. 분화와 통합이 이루어지고 있다.
- ㄷ. 음식물을 흘리지 않고 먹기 시작한다.
- ㄹ. 발달이 중심에서 말초 방향으로 진행되고 있다.

- ① ㄱ, ㄷ                      ② ㄱ, ㄹ                      ③ ㄴ, ㄷ
- ④ ㄴ, ㄹ                      ⑤ ㄷ, ㄹ

2. 그래프는 두 유아의 놀이 유형을 비교한 것이다. 유아1과 비교한 유아2의 놀이 특성으로 옳은 것을 <보기>에서 고른 것은?



<보기>

- ㄱ. 상호 독립적인 놀이를 많이 한다.
- ㄴ. 역할을 분담하는 놀이를 많이 한다.
- ㄷ. 단순한 놀이보다 규칙 있는 놀이를 많이 한다.
- ㄹ. 다른 아이들과 함께 하지 않는 놀이를 많이 한다.

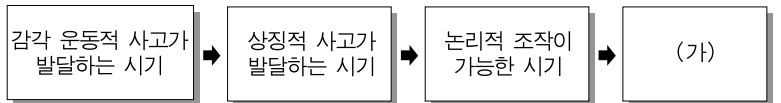
- ① ㄱ, ㄴ                      ② ㄱ, ㄹ                      ③ ㄴ, ㄷ
- ④ ㄴ, ㄹ                      ⑤ ㄷ, ㄹ

3. 그림은 엄마가 아기에게 수유하는 과정을 나타낸 것이다. 이 과정에 나타난 아기의 학습 원리로 옳은 것은? [3점]



- ① 동화                      ② 모방                      ③ 조절
- ④ 고전적 조건 형성      ⑤ 조작적 조건 형성

4. 그림은 피아제의 인지 발달 단계를 나타낸 것이다. (가) 시기가 되어야 나타나는 특징으로 옳은 것은?



- ① 색깔과 모양에 따라 도형을 분류할 수 있다.
- ② 전체와 부분 간의 관계를 이해하고 분류할 수 있다.
- ③ 길이가 다른 여러 개의 막대를 순서대로 배열할 수 있다.
- ④ 종이배를 펼치면 접기 전의 종이 상태가 된다는 것을 안다.
- ⑤ 스무고개 놀이를 할 때 체계적 사고를 통해 답을 맞춰 나간다.

5. 다음은 임신부가 쓴 산모 수첩의 일부이다. 이를 통해 유추할 수 있는 내용으로 옳은 것을 <보기>에서 고른 것은? [3점]

이름 : 박○○    연령 : 35세  
 최종 월경 : 2008. 3. 2 ~ 3. 7

- 1차 검진 : 입덧 시작, 임신 8주 사실을 알게 됨
- 4차 검진 : 태아의 움직임을 느낌
- 7차 검진 : 호흡을 조절하여 순산할 수 있도록 남편과 함께 훈련을 받음

<보기>

- ㄱ. 출산 예정일은 2008년 12월 9일이다.
- ㄴ. 스프롤로지 분만법으로 출산할 것이다.
- ㄷ. 용모막 검사는 4차 검진 시에 했을 것이다.
- ㄹ. 1차 검진 시 태아의 머리 크기가 신장의 1/2이 되었을 것이다.

- ① ㄱ, ㄴ                      ② ㄱ, ㄹ                      ③ ㄴ, ㄷ
- ④ ㄴ, ㄹ                      ⑤ ㄷ, ㄹ

# 2 직업탐구 영역 (인간 발달)

6. 다음은 도덕적 갈등 상황에 대한 질문과 답변이다. 답변 (가)~(다)를 도덕 발달 단계가 낮은 것부터 순서대로 바르게 배열한 것은? (단, 콜버그의 이론에 근거한다.) [3점]

상황	어느 약사가 죽음에 임박한 하인즈의 부인을 구할 수 있는 약을 발명하였다. 그런데 약사는 그 약을 너무 비싸게 팔려고 했다. 하인즈는 돈이 약값의 절반 밖에 없으니 약을 싸게 팔거나 나중에 지불하게 해 달라고 부탁했지만 거절당했다. 그래서 하인즈는 약국을 부수고 들어가 약을 훔쳤다. <p style="text-align: right;">〈하인즈의 딜레마〉</p>
질문	하인즈의 행동에 대해 어떻게 생각해요?
답변	(가) 약을 훔치는 행위는 범죄이므로 벌을 받아야 해요. (나) 하인즈가 돈을 더 마련했어야 해요. 돈을 벌려고 한 약사는 잘못이 없어요. (다) 아내를 살리고 싶어 하는 마음은 간절했겠지만 그래도 법은 지켜야 해요.

- ① (가) - (나) - (다)                      ② (가) - (다) - (나)
- ③ (나) - (가) - (다)                      ④ (나) - (다) - (가)
- ⑤ (다) - (가) - (나)

7. 다음은 바움린드가 제시한 부모의 양육 유형을 도식화한 것이다. (가), (나)의 양육 유형에 따라 나타날 수 있는 아동의 특성으로 가장 적절한 것을 <보기>에서 고른 것은? [3점]

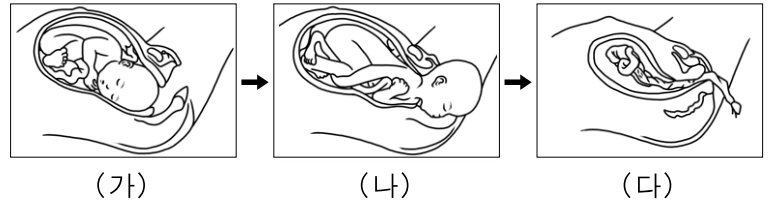
높음	(가)	(나)
애정	방임적	권위주의적
낮음	통제	높음

— <보기> —

ㄱ. 독립심이 없고 순종적이다.  
 ㄴ. 수동적이고 공포심이 많다.  
 ㄷ. 의존적이고 학습 의지가 낮다.  
 ㄹ. 자신감이 있고 사회성이 높다.

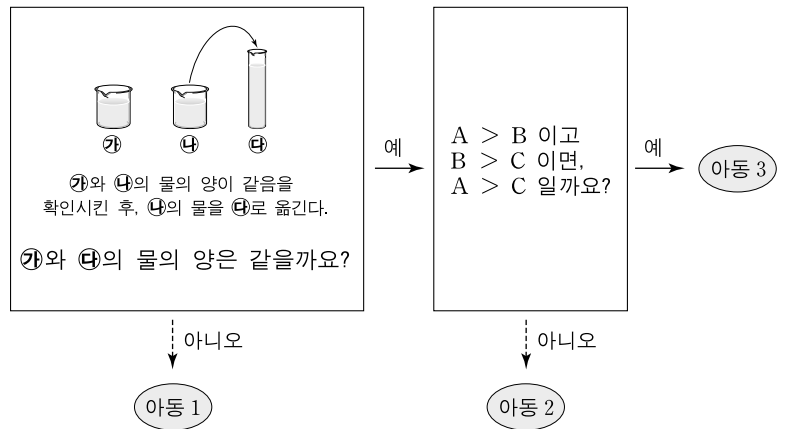
- |   |     |     |
|---|-----|-----|
|   | (가) | (나) |
| ① | ㄱ   | ㄴ   |
| ② | ㄴ   | ㄷ   |
| ③ | ㄴ   | ㄹ   |
| ④ | ㄷ   | ㄱ   |
| ⑤ | ㄷ   | ㄹ   |

8. 그림은 출산의 전 과정을 세 단계로 나타낸 것이다. (가)~(다) 시기에 대한 설명으로 옳은 것은?



- ① (가)는 출산 과정 중 소요 시간이 가장 길다.
- ② (가)는 태반, 탯줄 등의 태아 부속물이 배출된다.
- ③ (나)는 자궁구가 열리고 이슬이 비친다.
- ④ (다)는 임신부가 가장 큰 고통을 느낀다.
- ⑤ (다)는 난막이 터지고 양수가 흘러 나온다.

9. 그림에 나타난 아동들의 사고 특성으로 옳은 것만을 <보기>에서 있는 대로 고른 것은? [3점]



— <보기> —

ㄱ. 아동 1은 가역적 사고를 한다.  
 ㄴ. 아동 2는 가설적 사고를 한다.  
 ㄷ. 아동 3은 추상적 사고를 한다.

- ① ㄱ    ② ㄷ    ③ ㄱ, ㄴ
- ④ ㄴ, ㄷ                                        ⑤ ㄱ, ㄴ, ㄷ

10. 그림에 나타난 아동의 언어 발달 특징으로 옳은 것만을 <보기>에서 있는 대로 고른 것은?



— <보기> —

ㄱ. 과잉 일반화를 한다.  
 ㄴ. 전보식 언어를 사용한다.  
 ㄷ. 확인 부가 의문문을 사용한다.

- ① ㄱ    ② ㄴ    ③ ㄱ, ㄷ
- ④ ㄴ, ㄷ                                        ⑤ ㄱ, ㄴ, ㄷ

(인간 발달)

직업탐구 영역

3

11. 다음 실험에서 두 아동의 반응을 통해 유추할 수 있는 발달 특성으로 옳은 것을 <보기>에서 고른 것은? [3점]

실험 상황	실험자의 손바닥에 사탕이 있음을 보여준다. ↓ 아동이 다른 곳을 보고 있는 동안 사탕을 책상 위의 수건 속에 감춘다. ↓ 아동에게 사탕이 어디 있는지 찾아보라고 한다.
아동 반응	수연 : 실험자의 손바닥을 펴보고 사탕이 없음을 알고는 사탕이 존재하지 않는다고 생각하여 더 이상 찾지 않는다. 경재 : 실험자의 손바닥을 펴보고 사탕이 없음을 알고는 수건을 들추어 사탕을 찾아낸다.

— <보기> —

- ㄱ. 수연이는 대소변을 가릴 수 있다.
- ㄴ. 수연이에게는 만족 지연이 나타난다.
- ㄷ. 경재는 거울 속 모습을 보고 자신임을 안다.
- ㄹ. 경재는 두 단어를 나열하여 의사 표현을 할 수 있다.

- ① ㄱ, ㄷ                      ② ㄱ, ㄹ                      ③ ㄴ, ㄷ
- ④ ㄴ, ㄹ                      ⑤ ㄷ, ㄹ

12. 그림에 나타난 두 엄마의 고민에 대한 조언으로 가장 적절한 것은?



— <보기> —

- ㄱ. 환경에 천천히 적응하므로 이해하고 기다려 주세요.
- ㄴ. 하루 빨리 순한 성격으로 바꾸어 주도록 노력하세요.
- ㄷ. 아기의 적응력을 키우기 위해 엄격한 훈육이 필요해요.
- ㄹ. 아기의 감정 표현을 적극적인 욕구 표현으로 받아들이세요.

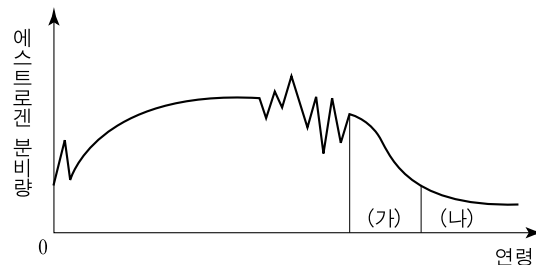
- |   |      |      |
|---|------|------|
|   | 엄마 1 | 엄마 2 |
| ① | ㄱ    | ㄴ    |
| ② | ㄴ    | ㄹ    |
| ③ | ㄷ    | ㄱ    |
| ④ | ㄹ    | ㄱ    |
| ⑤ | ㄹ    | ㄷ    |

13. 그림은 죽음을 앞둔 환자와 의사의 대화이다. 큐블러로스가 제시한 '죽음 전의 심리적 변화 다섯 단계' 중 이 환자가 해당하는 단계에 대한 설명으로 가장 적절한 것은? [3점]



- ① 가족과 친지의 위로를 필요로 한다.
- ② 죽음을 미루고 시간을 더 벌기 위해 애쓴다.
- ③ 자신의 운명에 대해 평화로운 마음을 갖는다.
- ④ 초기의 불안한 상황에 대처하는 건강한 방법이다.
- ⑤ 슬픔을 억누를 때보다 좌절을 더 잘 극복할 수 있다.

[14~15] 그래프는 전 생애에 걸친 여성의 에스트로겐 분비량 변화를 나타낸 것이다. 물음에 답하시오.



14. 위 (가) 시기의 신체 특징으로 옳은 것을 <보기>에서 고른 것은?

— <보기> —

- ㄱ. 뼈의 밀도가 낮아진다.
- ㄴ. 기초 대사량이 증가한다.
- ㄷ. 쉽게 얼굴이 붉어지고 땀이 난다.
- ㄹ. 치아 상아질의 생성 속도가 빠르다.

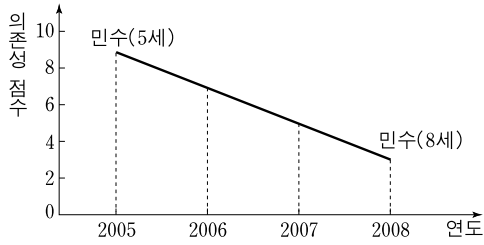
- ① ㄱ, ㄴ                      ② ㄱ, ㄷ                      ③ ㄴ, ㄷ
- ④ ㄴ, ㄹ                      ⑤ ㄷ, ㄹ

15. 에릭슨의 심리 사회적 발달 이론에 비추어 볼 때, 위 (가), (나) 시기의 발달 과업으로 옳은 것은? [3점]

- |   |       |       |
|---|-------|-------|
|   | (가)   | (나)   |
| ① | 근면성   | 친밀감   |
| ② | 근면성   | 자아 통합 |
| ③ | 생산성   | 친밀감   |
| ④ | 생산성   | 자아 통합 |
| ⑤ | 자아 통합 | 생산성   |

# 4 직업탐구 영역 (인간 발달)

16. 그래프는 연령에 따른 민수의 의존성 변화를 나타낸 것이다. 이 결과를 얻기 위해 사용된 연구 방법에 대한 설명으로 옳은 것만을 <보기>에서 있는 대로 고른 것은? [3점]



<보기>

- ㄱ. 반복 측정으로 인해 연습의 효과가 나타난다.
- ㄴ. 동일한 대상을 여러 차례에 걸쳐 조사하는 방법이다.
- ㄷ. 연령에 따른 변화는 알 수 없지만 연령집단 간의 차이는 알 수 있다.

- ① ㄱ                      ② ㄷ                      ③ ㄱ, ㄴ
- ④ ㄴ, ㄷ                ⑤ ㄱ, ㄴ, ㄷ

17. 그림에 나타난 두 남성의 노화에 대한 적응 유형으로 옳은 것은?



남성 1

- ① 분노형
- ② 분노형
- ③ 성숙형
- ④ 흔들의자형
- ⑤ 흔들의자형

남성 2

- ① 성숙형
- ② 무장 방어형
- ③ 흔들의자형
- ④ 성숙형
- ⑤ 무장 방어형

18. 다음은 '다문화가족지원법'의 일부이다. 이에 근거한 지원 방안의 사례로 적절한 것을 <보기>에서 고른 것은? [3점]

**제5조(다문화가족에 대한 이해 증진)** 국가와 지방자치단체는 다문화가족에 대한 사회적 차별 및 편견을 예방하고 사회 구성원이 문화적 다양성을 인정하고 존중할 수 있도록 다문화 이해교육과 홍보 등 필요한 조치를 하여야 한다.

<보기>

- ㄱ. 한국인 배우자에게 외국인 배우자 국가의 언어를 가르친다.
- ㄴ. 외국인 배우자에게 모국 방문에 필요한 비용을 지원한다.
- ㄷ. 외국인 배우자를 한국 문화에 동화시키기 위한 교육을 강화한다.
- ㄹ. 외국인 부모가 자녀의 학교에서 모국의 문화를 소개하는 시간을 마련한다.

- ① ㄱ, ㄷ                      ② ㄱ, ㄹ                      ③ ㄴ, ㄷ
- ④ ㄴ, ㄹ                      ⑤ ㄷ, ㄹ

19. 다음은 모유 수유에 대한 조사 보고서이다. 밑줄 친 ㉠~㉣의 내용으로 옳지 않은 것은?

### 모유 수유에 대한 조사 보고서

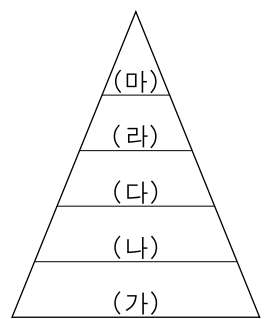
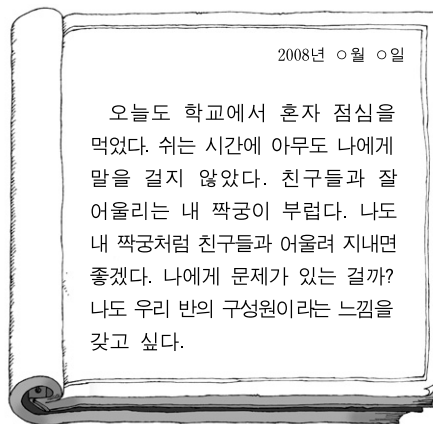
3학년 2반 김○○

1. 모유 수유가 엄마에게 미치는 영향
  - ㉠ 모체의 산후 회복이 느리다.
  - ㉡ 유방암 예방에 도움이 된다.
2. 모유와 조제 분유의 성분 비교
 

구 분	면역물질	단백질	지 방
모 유	있 음	적정량	입자가 작다.
조제 분유	없 음	다 량	입자가 크다.
3. 모유 수유가 아기에게 미치는 영향
  - ㉢ 모유를 먹는 아기는 조제 분유를 먹는 아기에 비해 질병에 잘 걸리지 않는다.
  - ㉣ 모유를 먹는 아기는 조제 분유를 먹는 아기에 비해 소아 비만이 될 확률이 낮다.
4. 바람직한 모유 수유 방법
  - 아기를 비스듬히 안고 먹인다.
  - ㉤ 수유 후 아기의 등을 가볍게 두드려 트림을 시킨다.

- ① ㉠                      ② ㉡                      ③ ㉢
- ④ ㉣                      ⑤ ㉤

20. 다음은 어느 여고생의 일기이다. 일기에 나타난 여고생의 욕구를 [매슬로의 위계적 욕구] 단계에서 고른 것은?



[매슬로의 위계적 욕구]

- ① (가)                      ② (나)                      ③ (다)
- ④ (라)                      ⑤ (마)

\* 확인 사항  
○ 답안지의 해당란에 필요한 내용을 정확히 기입(표기)했는지 확인 하시오.