

제 4 교시

# 직업탐구 영역(회계원리)

성명  수험 번호

1. 다음은 거래 요소 결합관계를 나타낸 것이다. 이에 해당하는 거래로 옳은 것은?



- ① 단기차입금 ₩500,000을 현금으로 상환하다.
- ② 현금 ₩1,000,000을 출자하여 영업을 개시하다.
- ③ 종업원의 급여 ₩150,000을 현금으로 지급하다.
- ④ 외상매입금 ₩100,000을 수표 발행하여 지급하다.
- ⑤ 은행에서 현금 ₩2,000,000을 차입하여 당좌예입하다.

2. 다음은 표준식 총계정원장의 일부이다. (가)에 대한 설명으로 옳은 것만을 <보기>에서 있는 대로 고른 것은? (단, 상품은 3분법으로 처리하며, 외상거래로만 한다.)

( 가 )

				(5)			
날짜	적 요	분면	금 액	날짜	적 요	분면	금 액
5 1	전월이월	✓	50,000	∴	∴	∴	∴
∴	∴	∴	∴	∴	∴	∴	∴
8	매 출	3	2,000,000	5 12	매 출	3	30,000
∴	∴	∴	∴	∴	∴	∴	∴

<보기>

- ㄱ. 보조부를 작성한다.
- ㄴ. 지급어음 계정이다.
- ㄷ. 대차대조표에 통합계정으로 표시한다.

- ① ㄱ                      ② ㄴ                      ③ ㄱ, ㄷ
- ④ ㄴ, ㄷ                ⑤ ㄱ, ㄴ, ㄷ

3. 다음 자료는 ○○기업 잔액시산표의 일부와 재무상태를 나타낸 것이다. (가)의 금액으로 옳은 것은? [3점]

잔액시산표(수정후)

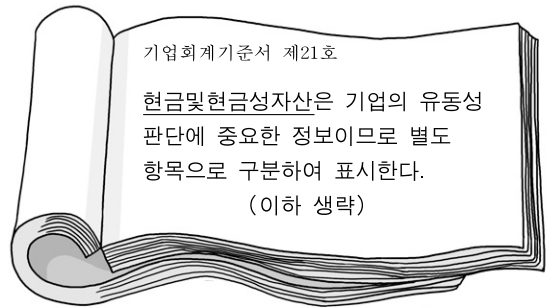
○○기업 200×년 12월 31일 (단위: 원)

차 변	계 정 과 목	대 변
∴	∴	∴
	자 본 금	(가)
	상품매출이익	60,000
	입 대 료	20,000
50,000	급	
10,000	이 자 비 용	
× × ×		× × ×



- ① ₩30,000              ② ₩40,000              ③ ₩60,000
- ④ ₩80,000              ⑤ ₩100,000

4. 다음은 기업회계기준서 제21호의 일부이다. 밑줄 친 부분에 해당하는 것으로 옳은 것을 <보기>에서 고른 것은?



\* 현금및현금성자산은 기업회계기준서 제21호(2006. 12. 31. 이후부터 시행)시행 전에는 현금및현금등가물로 표기하였다.

<보기>

- ㄱ. 상표권                      ㄴ. 수입인지
- ㄷ. 우편환증서                ㄹ. 자기앞수표

- ① ㄱ, ㄴ                      ② ㄱ, ㄷ                      ③ ㄴ, ㄷ
- ④ ㄴ, ㄹ                      ⑤ ㄷ, ㄹ

5. 다음은 광고효과와 관련된 기사이다. 밑줄 친 내용에 의해 직접적인 영향을 받는 항목으로 옳은 것만을 A~C에서 있는 대로 고른 것은?

### △△ 우승...경제적 파급 효과 1조 원 넘어

△△의 세계피겨스케이팅 선수권대회 우승은 2,000억 원이 넘는 엄청난 파급 효과를 발생시켰다.

(중략)

△△가 출연하는 (주)□□의 광고 제품에 대한 매출액이 수십 % 증가하는 등 광고로 이상의 효과를 거두고 있다.

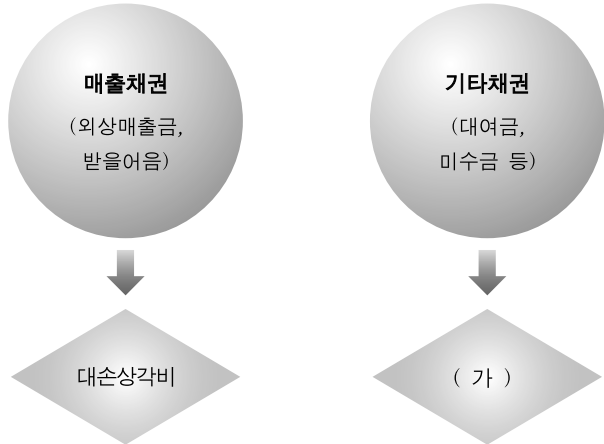
-○○신문, 2009년 4월 3일자-

### 손익계산서(약식)

과 목	금 액
∴	∴
매 출 원 가	× × ×
A → 매출 총 이익	× × ×
∴	∴
∴	∴
B → 영업 외 수익	× × ×
C → 영업 외 비용	× × ×

- ① A                              ② B                              ③ A, C
- ④ B, C                        ⑤ A, B, C

6. 그림은 채권에 대한 대손상각을 구분한 것이다. (가)의 계정 과목과 동일한 비용 구분항목으로 분류할 수 있는 거래를 <보기>에서 고른 것은? [3점]



- <보기>—
- ㄱ. 접대비 ₩30,000을 현금으로 지급하다.
  - ㄴ. 사회 복지 재단에 자기앞수표로 ₩100,000을 기부하다.
  - ㄷ. 차입금에 대한 이자 ₩60,000을 수표 발행하여 지급하다.
  - ㄹ. 종업원에 대한 건강보험료 ₩120,000을 현금으로 납부하다.

- ① ㄱ, ㄴ                      ② ㄱ, ㄹ                      ③ ㄴ, ㄷ  
 ④ ㄴ, ㄹ                      ⑤ ㄷ, ㄹ

7. 다음 (가), (나)의 약식계정 내용에 대한 설명으로 옳은 것을 <보기>에서 고른 것은?

(가) <A 기업>

자 본 금			
5/10 인출금	50,000	1/1 전기이월	1,000,000
12/31 손 익	300,000	∴	∴

(나) <B 기업>

미처분이익잉여금			
∴	∴	1/1 전기이월	500,000
∴	∴	∴	∴
∴	∴	12/31 손 익	6,000,000

- <보기>—
- ㄱ. (가)의 인출금은 자본금을 감소시킨다.
  - ㄴ. (가)의 손익 ₩300,000은 당기순이익이다.
  - ㄷ. (나)는 주식회사에서 가장한 내용이다.
  - ㄹ. (나)의 손익 ₩6,000,000은 당기순손실이다.

- ① ㄱ, ㄴ                      ② ㄱ, ㄷ                      ③ ㄴ, ㄷ  
 ④ ㄴ, ㄹ                      ⑤ ㄷ, ㄹ

8. 그림은 ○○(주)의 기업실적 DMB화면이다. 밑줄 친 부분에 영향을 미치는 내용으로 옳은 것만을 <보기>에서 있는 대로 고른 것은?



- <보기>—
- ㄱ. 상품 판매 운반비를 절약하였다.
  - ㄴ. 외화에 대한 환산손실액이 감소하였다.
  - ㄷ. 절전으로 전기료의 지출이 감소하였다.

- ① ㄱ    ② ㄴ    ③ ㄱ, ㄷ    ④ ㄴ, ㄷ    ⑤ ㄱ, ㄴ, ㄷ

9. 다음의 약식 상품계정은 혼합계정(총기법)으로 가장한 것이다. (가)에 대한 설명으로 옳은 것만을 <보기>에서 있는 대로 고른 것은? [3점]

상 품				
5/1 전월이월	30,000	5/3 현 금	50,000	
∴		10 받을어음	100,000	
∴	(가)	15 외상매출금	200,000	
∴		∴	∴	
	xxx		xxx	

- <보기>—
- ㄱ. 매입환출액을 기입한다.
  - ㄴ. 매출에누리액을 기입한다.
  - ㄷ. 상품매출이익액을 기입한다.

- ① ㄱ                      ② ㄴ                      ③ ㄱ, ㄷ  
 ④ ㄴ, ㄷ                      ⑤ ㄱ, ㄴ, ㄷ

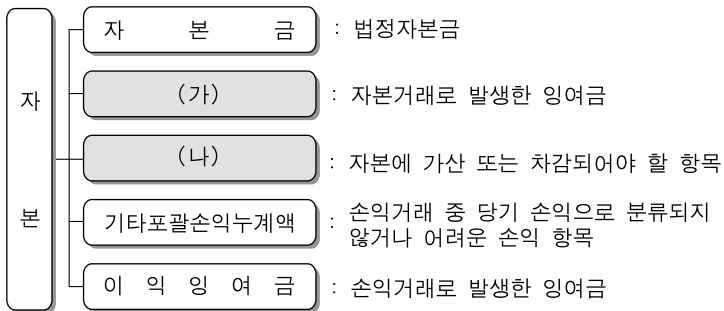
10. 다음 (가)~(다)의 설명으로 옳은 것만을 <보기>에서 있는 대로 고른 것은? [3점]

- (가) (차변) 현 금 xxx (대변) 현금과부족 xxx  
 -----  
 (나) (차변) 현 금 xxx (대변) 가지급금 xxx  
 (나)        여비교통비 xxx  
 -----  
 (다) (차변) 가 수 금 xxx (대변) 외상매출금 xxx

- <보기>—
- ㄱ. (가)는 현금의 장부잔액이 실제잔액보다 많다.
  - ㄴ. (나)의 가지급금은 임시 계정 또는 가계정이다.
  - ㄷ. (다)의 가수금은 상품 주문에 대한 계약금이다.

- ① ㄱ                      ② ㄴ                      ③ ㄱ, ㄷ  
 ④ ㄴ, ㄷ                      ⑤ ㄱ, ㄴ, ㄷ

11. 다음은 기업회계기준서상의 자본을 분류한 것이다. (가), (나)에 공통으로 영향을 미칠 수 있는 거래로 옳은 것은? (단, 자기주식처분손실은 없다.) [3점]



\* 기타포괄손익누계액은 기업회계기준서 제21호(2006. 12. 31. 이후부터 시행)에 의해 추가되었다.

- ① 단기매매증권(장부가액 ₩500,000)을 ₩480,000에 처분하고 대금은 현금으로 받다.
- ② 주주총회에서 미처분이익잉여금 중 ₩500,000을 사업확장적립금으로 처분하기로 결의하다.
- ③ 이월결손금 ₩1,000,000을 보전하기 위하여 500주(액면 @₩5,000)를 액면 @₩3,000으로 변경하다.
- ④ 보유하고 있던 자기주식 300주(장부가액 @₩5,000)를 1주당 ₩5,500에 처분하고 대금은 현금으로 받다.
- ⑤ 주식발행초과금 ₩2,000,000을 재원으로 액면금액 ₩5,000의 신주 400주를 발행하여 주주에게 무상으로 교부하다.

12. 다음은 ○○(주) 회의록의 일부이다. 회의 결과의 수행에 따른 회계처리를 설명한 것으로 옳은 것을 <보기>에서 고른 것은? (단, 사채발행 관련 비용은 없다.) [3점]

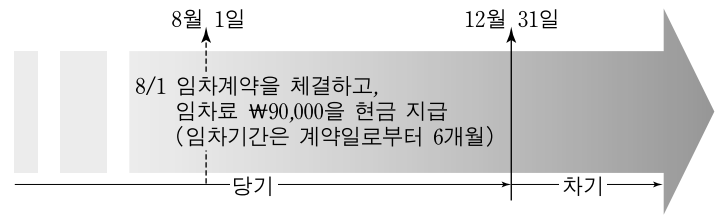
회 의 록			
2009년 6월 1일			
안 건	자금 조달에 대한 협의	참석자	이사 전원
회 의 결 과	아래와 같이 자금 조달을하기로 결의함 - 아 래 - 1. 조달 방법 : 사채 발행 2. 조달에 대한 세부사항 - 사채 200좌, 액면가액 @₩10,000, 발행가액 @₩9,500 - 액면이자율 연 8%, 이자 지급 연 1회 - 상환 방법 : 만기 상환 (이하 생략)		

< 보 기 >

- ㄱ. 사채할인발행차금은 ₩100,000이다.
- ㄴ. 사채 발행은 유동부채를 증가시킨다.
- ㄷ. 발행할 때 분개의 대변 계정과목은 사채이다.
- ㄹ. 1년 동안 실제 지급해야 할 이자는 ₩152,000이다.

- ① ㄱ, ㄴ                      ② ㄱ, ㄷ                      ③ ㄴ, ㄷ
- ④ ㄴ, ㄹ                      ⑤ ㄷ, ㄹ

13. 그림은 ○○기업의 임차료 지급상태를 나타낸 것이다. 이에 대한 설명으로 옳은 것을 <보기>에서 고른 것은? (단, 임차료 지급 시 비용처리하며, 결산일은 12월 31일이다.) [3점]

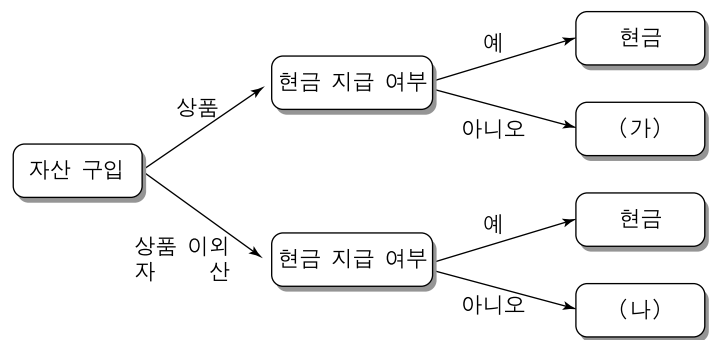


< 보 기 >

- ㄱ. 선급임차료는 유동자산으로 분류한다.
- ㄴ. 결산 시 임차료의 선급분은 ₩75,000이다.
- ㄷ. 8월 1일 분개할 때 차변 계정과목은 임차료이다.
- ㄹ. 결산 시 손익계정에 대체할 임차료는 ₩90,000이다.

- ① ㄱ, ㄴ    ② ㄱ, ㄷ    ③ ㄴ, ㄷ    ④ ㄴ, ㄹ    ⑤ ㄷ, ㄹ

14. 그림은 자산의 구입 과정을 구분한 것이다. (가), (나)에 해당하는 대변 계정과목으로 옳은 것을 <보기>에서 고른 것은? (단, 현금 이외에는 외상거래로만 한다.)



< 보 기 >

- ㄱ. 미결산    ㄴ. 선수금    ㄷ. 미지급금    ㄹ. 외상매입금

- |   |     |     |   |     |     |
|---|-----|-----|---|-----|-----|
|   | (가) | (나) |   | (가) | (나) |
| ① | ㄱ   | ㄴ   | ② | ㄱ   | ㄷ   |
| ③ | ㄴ   | ㄱ   | ④ | ㄷ   | ㄹ   |
| ⑤ | ㄹ   | ㄷ   |   |     |     |

15. 그림은 전표회계에 대한 수업 장면이다. 선생님의 질문에 바르게 대답한 학생만을 있는 대로 고른 것은?



- ① 철수                      ② 혜정                      ③ 철수, 덕호
- ④ 혜정, 덕호              ⑤ 철수, 혜정, 덕호

16. 그림은 ○○기업이 영업용으로 사용 중인 건물의 가치변화를 나타낸 것이다. 이에 대한 설명으로 옳은 것은? [3점]

○ 2007년 결산일까지의 건물감가상각누계액은 ₩200,000이며, 감가상각에 대한 기장방법은 간접법으로 한다.

- ① 감가상각비는 영업외비용 항목이다.
- ② 건물의 취득원가는 ₩1,000,000이다.
- ③ 건물감가상각누계액은 유동부채 항목이다.
- ④ 2008년 손익계산서에 표시할 감가상각비는 ₩200,000이다.
- ⑤ 2008년 기말 대차대조표에 표시할 건물감가상각누계액은 ₩300,000이다.

17. 다음 ○○기업의 자료를 바탕으로 5월 중 갑상품의 총매출액을 계산한 것으로 옳은 것은? (단, 갑상품만 취급한다.) [3점]

상품재고장											
〈선입선출법〉			품명: 갑상품						(단위: 개/원)		
날짜	적요	인 수			인 도			잔 액			
		수량	단가	금액	수량	단가	금액	수량	단가	금액	
5월 1	전월이월	××	××	×××				××	××	×××	
5월 31	차월이월				20	1,200	24,000				
		130		144,000	130		144,000				

(단, 매입환출, 매입에누리 및 매입할인과 매출환입은 없다.)

- 동일 기간(5월 1일~5월 31일)에 발생한 매출총이익은 ₩40,000이다.
- 매출에누리 및 매출할인액은 ₩5,000이다.

- ① ₩144,000      ② ₩160,000      ③ ₩165,000
- ④ ₩184,000      ⑤ ₩189,000

18. 그림은 재무제표와 관련된 대화 장면이다. 밑줄 친 내용에 해당하는 재무제표로 옳은 것은?



\* 자본변동표는 기업회계기준서 제21호(2006. 12. 31. 이후부터 시행)에 의해 재무제표에 추가되었다.

- ① 대차대조표      ② 손익계산서      ③ 자본변동표
- ④ 현금흐름표      ⑤ 이익잉여금처분계산서

19. 다음은 총계정원장 약식계정의 일부이다. (A), (B)와 같이 마감되는 (가), (나)의 계정과목으로 옳은 것을 <보기>에서 고른 것은? [3점]

( 가 )			
(A) → 12/31 차기이월 ××× └──────────┬────────── ×××	∴ ∴ ∴ ∴ ∴ ∴ └──────────┬────────── ×××	∴ ∴ ∴ ∴ ∴ ∴ └──────────┬────────── ×××	∴ ∴ ∴ ∴ ∴ ∴ └──────────┬────────── ×××
( 나 )			
∴ ∴ ∴ ∴ ∴ ∴ └──────────┬────────── ×××	∴ ∴ ∴ ∴ ∴ ∴ └──────────┬────────── ×××	12/31 손익 ××× ← (B) └──────────┬────────── ×××	∴ ∴ ∴ ∴ ∴ ∴ └──────────┬────────── ×××

<보기>

ㄱ. 개발비	ㄴ. 외환차익
ㄷ. 장기차입금	ㄹ. 광고선전비

- |     |     |     |     |
|-----|-----|-----|-----|
| (가) | (나) | (가) | (나) |
| ① ㄱ | ㄴ   | ② ㄱ | ㄷ   |
| ③ ㄴ | ㄹ   | ④ ㄷ | ㄴ   |
| ⑤ ㄷ | ㄹ   |     |     |

20. 다음 대화에서 밑줄 친 ㉠, ㉡을 분개할 때 차변 계정과목으로 옳은 것은?



- |          |        |
|----------|--------|
| ㉠        | ㉡      |
| ① 건물     | 건물     |
| ② 건물     | 수선비    |
| ③ 투자부동산  | 수선비    |
| ④ 투자부동산  | 건설중인자산 |
| ⑤ 건설중인자산 | 수선비    |

\* 확인 사항  
○ 답안지의 해당란에 필요한 내용을 정확히 기입(표기)했는지 확인 하시오.