

제 4 교시

직업탐구 영역(회계 원리)

성명 수험 번호

1. 다음은 ○○(주)의 상품 판매와 관련한 대화 장면이다. 이에 나타난 거래를 ○○(주)가 분개할 때 대변 계정과목으로 옳은 것은?



- ① 예수금 ② 가수금 ③ 미수금
- ④ 선수금 ⑤ 가지급금

2. 다음은 개인기업인 ○○상점 2017년의 자본금 계정 일부와 [경영 성과 및 자본 변동 내역]을 나타낸 것이다. (가)의 금액으로 옳은 것은? (단, 회계기간은 매년 1월 1일부터 12월 31일까지이고, 제시된 자료 외의 것은 고려하지 않는다.)

자본금					
12/31	차기이월	450,000	1/ 1	전기이월	200,000
		/	:		
		\	:		
		450,000	450,000		

[경영 성과 및 자본 변동 내역]

- 총수익: ₩600,000 • 총비용: (가)
- 추가 출자액: ₩180,000

- ① ₩150,000 ② ₩350,000 ③ ₩420,000
- ④ ₩530,000 ⑤ ₩780,000

3. 다음은 재무제표를 구성하는 기본 요소 중 특정 요소에 대해 학생이 요약한 것이다. 이에 속하는 계정과목으로 옳은 것은? (단, 일반기업회계기준을 적용한다.)

정의: 기업의 경영 활동과 관련된 재화의 판매 또는 용역의 제공 등에 대한 대가로 발생하는 자산의 유입 또는 부채의 감소

구분: 기업의 경영 활동에 따라 다양한 형태로 발생하고, 매출액, 이자수익, 배당금수익 등으로 분류

- ① 비품 ② 연구비 ③ 감자차익
- ④ 단기차입금 ⑤ 수수료수익

4. 다음은 회계 교육 안내문 일부이다. (가)에 해당하는 재무제표로 가장 적절한 것은? (단, 일반기업회계기준을 적용한다.)

안내문

예비 창업자를 대상으로 다음과 같이 회계 교육을 실시합니다.

1. 일시: 2018년 3월 8일(목) 14시
2. 장소: 5층 대강당
3. 내용: 재무제표의 의의
 - (1) (가)의 목적과 구분 표시
 - 일정 시점의 기업 재무상태에 대한 보고 필요성
 - 자산, 부채, 자본의 구분과 표시
 - (2) × × ×의 목적과 구분 표시

2018년 3월 5일
○○창업지원센터

- ① 손익계산서 ② 재무상태표 ③ 현금흐름표
- ④ 자본변동표 ⑤ 이익잉여금처분계산서

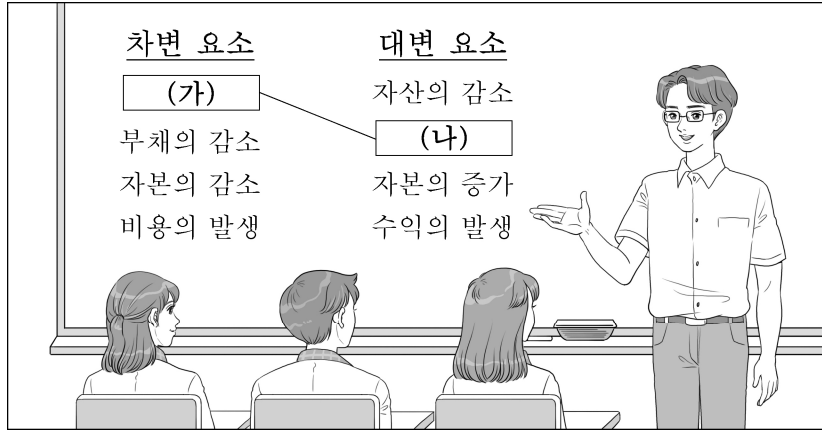
5. 다음은 ○○(주)가 취득한 A 주식과 관련된 2017년 분개이다. 이를 통해 알 수 있는 내용으로 옳은 것을 <보기>에서 고른 것은? (단, 일반기업회계기준을 적용하고, 회계기간은 매년 1월 1일부터 12월 31일까지이며, 제시된 자료 외의 것은 고려하지 않는다.) [3점]

취득 (5월 3일)	(차변) 단기매매증권 74,000 (대변) 현금 78,000 수수료비용 4,000
↓	
일부 처분 (6월 2일)	(차변) 현금 48,000 (대변) 단기매매증권 37,000 단기투자자산처분이익 11,000
↓	
평가 (12월 31일)	(차변) 단기매매증권 3,000 (대변) 단기투자자산평가이익 3,000

- <보 기>
- ㄱ. 5월 3일 단기매매증권의 취득원가는 ₩78,000이다.
 - ㄴ. 결산 시 수정 전 잔액시산표에 표시되는 단기매매증권은 ₩37,000이다.
 - ㄷ. 결산 시 이월시산표에 표시되는 단기매매증권은 ₩44,000이다.
 - ㄹ. A 주식의 취득, 처분 및 평가로 당기순이익은 ₩10,000 증가한다.

- ① ㄱ, ㄴ ② ㄱ, ㄷ ③ ㄴ, ㄷ ④ ㄴ, ㄹ ⑤ ㄷ, ㄹ

6. 다음은 거래의 8요소 결합 관계에 대한 수업 장면이다. (가)와 (나)의 결합 관계에 해당하는 거래로 옳은 것은?



- ① 외상매출금 ₩100,000을 현금으로 회수하다.
- ② 현금 ₩200,000을 출자하여 영업을 시작하다.
- ③ 은행으로부터 현금 ₩250,000을 장기 차입하다.
- ④ 종업원에 대한 급여 ₩120,000을 현금으로 지급하다.
- ⑤ 상품 ₩150,000을 매출하고 대금은 약속어음으로 받다.

7. 다음은 △△(주)의 경영 성과와 관련한 기사 내용이다. (가)에 들어갈 내용으로 가장 적절한 것은? (단, 일반기업회계기준을 적용하고, 제시된 자료 외의 것은 고려하지 않는다.) [3점]

△△(주)는 2017년도 영업이익 62억 원, 당기순이익 25억 원이라고 발표하였다. 이는 2016년도 대비 영업이익과 영업외수익은 동일하지만, 당기순이익은 5억 원 감소한 것이다. △△(주)는 전년 대비 당기순이익이 감소된 원인을 2017년도에 (가) 하였기 때문이라고 밝혔다.

- ○○신문, 2018년 3월 15일 자 -

- ① 외상매입금을 현금으로 상환
- ② 건축 경영으로 홍보비가 감소
- ③ 매도가능증권평가손실이 발생
- ④ 자기주식을 장부금액으로 처분
- ⑤ 사채 발행으로 이자비용이 증가

8. 다음은 ○○(주)의 [거래]와 이를 기입한 전표이다. (가), (나)에 들어갈 내용으로 옳은 것은? (단, 3전표제를 채택한다.)

[거래]
4월 2일 영업팀 당일 회식비 ₩80,000을 현금으로 지급하다.

(가) 전 표		담당	과장	부장
2018년 4월 2일		인	인	인
No. 15				
계정과목	(나)	거래처	△△식당	
	적 요		금 액	
영업팀 직원 회식비 지급			8	0 0 0 0
			8	0 0 0 0
합 계			₩ 8	0 0 0 0

- | | | | |
|------|-------|------|-------|
| (가) | (나) | (가) | (나) |
| ① 입금 | 접대비 | ② 입금 | 복리후생비 |
| ③ 출금 | 광고선전비 | ④ 출금 | 복리후생비 |
| ⑤ 대체 | 광고선전비 | | |

9. 다음은 ○○(주)의 2017년 [대손 관련 자료]와 수정 후 잔액시산표 일부이다. (가)의 금액으로 옳은 것은? (단, 대손 관련 계정은 외상매출금에 대한 것이고, 회계기간은 매년 1월 1일부터 12월 31일까지이며, 제시된 자료 외의 것은 고려하지 않는다.) [3점]

[대손 관련 자료]

- 결산 정리 사항 반영 전 대손충당금 계정

대손충당금			
9/ 5 외상매출금	80,000	1/ 1 전기이월	90,000

- 결산 정리 사항
12월 31일 결산 시 외상매출금 잔액에 대하여 2%의 대손을 추산하다.

잔액시산표(수정 후)
2017년 12월 31일

(단위: 원)

○○(주)							
차변	원면	계정과목		대변			
500,000		현	금				
200,000		당	좌	예	금		
2,000,000	생	외	상	매	출		
⋮	략	대	손	충	당		× × ×
(가)		대	손	상	각	비	⋮

- ① ₩30,000 ② ₩40,000 ③ ₩50,000
- ④ ₩70,000 ⑤ ₩80,000

10. 다음은 ○○(주)의 업무용 [A 건물 관련 자료]이다. 2018년 1월 1일 A 건물의 처분 금액을 계산한 것으로 옳은 것은? (단, 회계기간은 매년 1월 1일부터 12월 31일까지이고, A 건물 처분 시 수수료는 없으며, 제시된 자료 외의 것은 고려하지 않는다.) [3점]

[A 건물 관련 자료]

- 2016년 거래
1월 1일 건물을 ₩4,800,000에 구입하고 대금은 취득세 ₩200,000과 함께 현금으로 지급하다.
- 2017년 총계정원장 일부

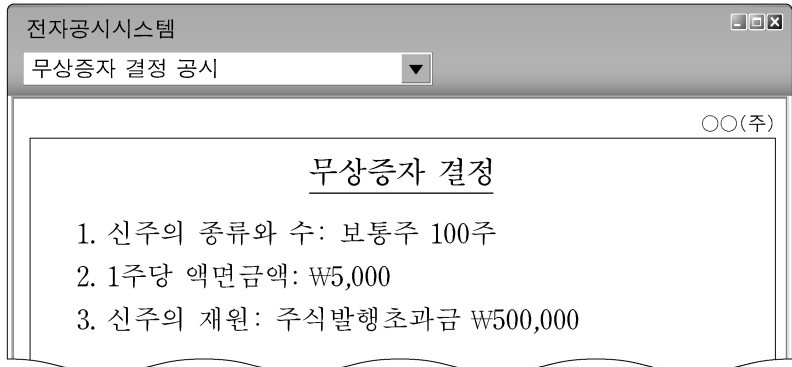
건물감가상각누계액			
12/31 차 기 이 월	2,000,000	1/ 1 전 기 이 월	1,000,000
		12/31 감가상각비	1,000,000
	2,000,000		2,000,000

- 2018년 총계정원장 일부

유형자산처분손실			
1/ 1 건	물	500,000	

- ① ₩2,300,000 ② ₩2,500,000 ③ ₩3,500,000
- ④ ₩4,300,000 ⑤ ₩4,500,000

11. 다음은 ○○(주)의 무상증자 결정 공시 일부이다. 이를 실행하여 회계 처리한 결과에 대한 설명으로 옳은 것을 <보기>에서 고른 것은? (단, 일반기업회계기준을 적용하고, 제시된 자료 외의 것은 고려하지 않는다.) [3점]



<보 기>
 가. 자본금이 ₩500,000 증가한다.
 나. 자본잉여금이 ₩500,000 감소한다.
 다. 기타포괄손익누계액이 ₩500,000 감소한다.
 르. 자본 총액이 ₩500,000 증가한다.

- ① 가, 나 ② 가, 다 ③ 나, 다 ④ 나, 르 ⑤ 다, 르

12. 다음은 ○○(주)의 현금 지출 내역서이다. 이를 ○○(주)가 분개할 때 차변 계정과목으로 옳은 것은?

월 일		내역	금 액
4	30	당월분 사무실 인터넷 사용료	₩30,000
계			₩30,000

- ① 기부금 ② 수선비 ③ 통신비
 ④ 수도광열비 ⑤ 차량유지비

13. 다음은 ○○(주)의 제7기 [기말 상품 관련 자료]와 손익계산서 일부이다. 이를 통해 제7기 매출총이익을 계산한 금액으로 옳은 것은? (단, 일반기업회계기준을 적용하고, 제시된 자료 외의 것은 고려하지 않는다.) [3점]

[기말 상품 관련 자료]

- 장부 재고액: ₩20,000(20개, @₩1,000)
- 실제 재고액: ₩15,000(15개, @₩1,000)

(단, 감모 수량 중 3개는 정상적인 발생분이고, 나머지는 비정상적인 발생분임.)

손익계산서
 제7기 2017년 1월 1일부터 2017년 12월 31일까지

○○(주) (단위: 원)

과 목	당 기
매출액	300,000
매출원가	× × ×
기초상품재고액	30,000
당기상품매입액	170,000

- ① ₩112,000 ② ₩115,000 ③ ₩117,000
 ④ ₩118,000 ⑤ ₩120,000

14. 다음은 ○○(주)의 특허권 취득과 상각에 관한 2017년 거래를 분개한 것이다. 이를 통해 알 수 있는 내용으로 옳은 것만을 <보기>에서 있는 대로 고른 것은? (단, 일반기업회계기준을 적용하고, 회계기간은 매년 1월 1일부터 12월 31일까지이며, 제시된 자료 외의 것은 고려하지 않는다.)

취득 (1월 1일) 특허권을 취득하고 ₩700,000을 현금으로 지급하다. (차변) 특허권 700,000 (대변) 현금 700,000

• 내용연수: 7년 • 잔존가치: (가)
 • 상각 방법: 정액법

상각 (12월 31일) 결산 시 특허권을 상각하다. (차변) × × × 100,000 (대변) 특허권 100,000

<보 기>
 가. (가)의 금액은 ₩0이다.
 나. 2017년 손익계산서에 표시되는 무형자산상각비 중 특허권 상각비는 ₩100,000이다.
 다. 2017년 결산 시 재무상태표에 산업재산권으로 통합 표시될 특허권은 ₩600,000이다.

- ① 가 ② 나 ③ 가, 다 ④ 나, 다 ⑤ 가, 나, 다

15. 다음은 ○○(주)의 [사채 관련 자료]이다. 이를 통해 알 수 있는 내용으로 옳은 것만을 <보기>에서 있는 대로 고른 것은? (단, 회계기간은 매년 1월 1일부터 12월 31일까지이고, 제시된 자료 외의 것은 고려하지 않는다.) [3점]

[사채 관련 자료]

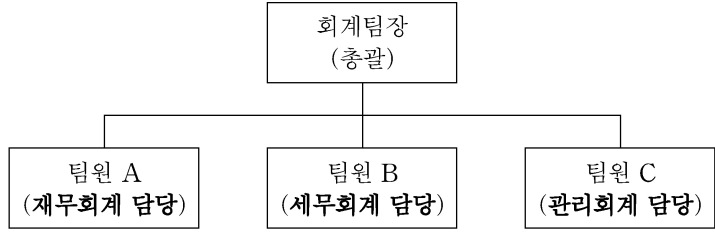
- 사채 발행 자료
 - 발행 일: 2017년 1월 1일
 - 액면금액: ₩1,000,000
 - 만기일: 2019년 12월 31일(전액 만기 상환)
 - 액면이자율: 연 7%
 - 이자지급일: 매년 12월 31일(연 1회 현금 지급)
- 사채할인발행차금 상각표 일부

날짜	유효이자	액면이자	사채할인발행차금상각액	사채장부금액
2017년 1월 1일	-	-	-	₩925,390
2017년 12월 31일	₩92,539	×××	×××	×××

<보 기>
 가. 사채 발행 시 유효이자율은 10%이다.
 나. 2017년 결산 시 손익 계정에 대체되는 이자비용은 ₩70,000이다.
 다. 2017년 결산 시 재무상태표에 표시되는 사채 장부금액은 ₩947,929이다.

- ① 가 ② 나 ③ 가, 다 ④ 나, 다 ⑤ 가, 나, 다

16. 다음은 ○○(주)의 회계 분류에 따라 구성된 회계팀 업무 조직도이다. 이를 통해 알 수 있는 내용으로 적절한 것을 <보기>에서 고른 것은? (단, 제시된 자료 외의 것은 고려하지 않는다.)



<보 기>

ㄱ. 팀원 A는 주주, 채권자의 의사결정에 유용한 회계 정보를 작성하여 제공한다.
 ㄴ. 팀원 B는 세무당국에 제공될 과세소득 정보를 작성한다.
 ㄷ. 팀원 C는 재무제표를 작성하여 공시한다.
 ㄹ. 팀원 A와 C는 세법에 따라 회계 정보를 작성한다.

- ① ㄱ, ㄴ ② ㄱ, ㄷ ③ ㄴ, ㄷ ④ ㄴ, ㄹ ⑤ ㄷ, ㄹ

17. 다음은 단일 상품을 취급하는 ○○(주)의 제2기 상품재고장파손익 계정 일부이다. 갑상품의 당기 순매입액을 계산한 금액으로 옳은 것은? (단, 회계기간은 매년 1월 1일부터 12월 31일까지이고, 제시된 자료 외의 것은 고려하지 않는다.) [3점]

상품재고장
(선입선출법) 품명: 갑상품 (단위: 개, 원)

날짜	적 요	인수			인도			잔액		
		수량	단가	금액	수량	단가	금액	수량	단가	금액
1 1	전기이월	20	1,000	20,000				20	1,000	20,000
12 31	차기이월				10	3,000	30,000			

손익

12/31	매입	60,000	12/31	매출	100,000
	∴	∴		∴	∴

① ₩60,000 ② ₩70,000 ③ ₩80,000
 ④ ₩90,000 ⑤ ₩110,000

18. 다음은 ○○(주)의 제3기 [거래]와 이를 [잘못 기입한 분개장] 일부이다. 이를 정정하지 않았을 경우 제3기 재무제표에 미치는 영향으로 옳은 것을 <보기>에서 고른 것은? (단, 일반기업회계기준을 적용하고, 미수이자는 없으며, 제시된 자료 외의 것은 고려하지 않는다.) [3점]

[거래]
5월 31일 단기대여금에 대한 당월 발생 이자 ₩20,000을 현금으로 받다.

[잘못 기입한 분개장]

분개장

날짜	적 요	원면	차변	대변
5 31	(현금) (단기대여금) 단기대여금에 대한 이자 수취	생략	20,000	20,000

<보 기>

ㄱ. 당좌자산의 과소 계상 ㄴ. 영업이익의 과대 계상
 ㄷ. 영업외수익의 과소 계상 ㄹ. 비유동자산의 과대 계상

① ㄱ, ㄴ ② ㄱ, ㄷ ③ ㄴ, ㄷ ④ ㄴ, ㄹ ⑤ ㄷ, ㄹ

[19~20] 다음은 개인기업인 ○○상점의 2017년 수정 전 잔액시산표와 [결산 정리 사항]이다. 물음에 답하시오. (단, 일반기업회계기준을 적용하고, 회계기간은 매년 1월 1일부터 12월 31일까지이며, 제시된 자료 외의 것은 고려하지 않는다.)

잔액시산표(수정 전)
2017년 12월 31일 (단위: 원)

○○상점		계정과목		대변
차변	원면			
50,000		현	금	
38,000		당	좌	
45,000		이	월	
60,000		토	상	
		외	상	30,000
		자	매	110,000
		매	입	155,000
		임	대	5,000
70,000		매	입	
20,000		금	여	
10,000		소	모	
2,000		세	금	
5,000		기	부	
			공	
			과	
			금	
300,000				300,000

[결산 정리 사항]

- 소모품 미사용액은 ₩7,000이다.
- 임대료 선수분은 ₩3,000이다.
- 급여 미지급분은 ₩5,000이다.
- 기말 상품 재고액은 ₩30,000이다.

19. 위 자료에서 2017년 결산 시 소모품에 대한 결산 정리 사항을 분개한 것으로 옳은 것은?

	차변	대변
① 소모품	3,000	소모품비 3,000
② 소모품	7,000	소모품비 7,000
③ 소모품	10,000	소모품비 10,000
④ 소모품비	3,000	소모품 3,000
⑤ 소모품비	7,000	소모품 7,000

20. 위 자료의 [결산 정리 사항]을 회계 처리하여 반영한 결과에 대한 설명으로 옳은 것을 <보기>에서 고른 것은? [3점]

<보 기>

ㄱ. 당기 발생 임대료는 ₩3,000이다.
 ㄴ. 결산 시 손익 계정에 대체되는 급여는 ₩25,000이다.
 ㄷ. 2017년 결산 시 재무상태표에 표시되는 유동자산은 ₩125,000이다.
 ㄹ. 2017년 손익계산서에 표시되는 영업이익은 ₩35,000이다.

- ① ㄱ, ㄴ ② ㄱ, ㄷ ③ ㄴ, ㄷ ④ ㄴ, ㄹ ⑤ ㄷ, ㄹ

* 확인 사항

○ 답안지의 해당란에 필요한 내용을 정확히 기입(표기)했는지 확인하시오.