


제 4 교시

# 직업탐구 영역(회계원리)

성명  수험 번호

1. 그림은 회계의 기본 원리 수업 장면이다. 선생님의 설명에 해당하는 거래로 옳은 것은?



- ① 거래처에 상품 ₩800,000을 주문하다.
- ② 은행으로부터 현금 ₩100,000을 차입하다.
- ③ 건물을 월 ₩300,000의 조건으로 임차 계약을 맺다.
- ④ 업무용 노트북을 ₩600,000에 구입하기로 결정하다.
- ⑤ 월 급여 ₩1,000,000의 조건으로 종업원을 채용하다.

2. 다음 기사에 나타난 내용을 △△기업이 회계 처리할 때 차변 계정과목으로 옳은 것은?

**△△기업의 교복 지원 활동**

△△기업은 지난달 전국 공부방 청소년 3,500명에게 8억 7천 5백만 원을 들여 신학기 교복 구입을 지원했다. 이는 “가난으로 인한 교육 불평등이 대물림 돼서는 안 된다.”는 기업 이념에 따른 기부 활동이다.

- ○○신문, 2012년 3월 16일자 -

- ① 기부금                      ② 접대비                      ③ 도서인쇄비
- ④ 수수료비용                ⑤ 세금과공과

3. 다음 내용에 모두 해당하는 계정과목으로 옳은 것을 <보기>에서 고른 것은?

○ 기업의 주된 영업활동에서 발생한다.  
○ 잔액자산표 차변에 기입된다.  
○ 영업이익에 영향을 미친다.

— <보기> —

ㄱ. 임대료                                      ㄴ. 운반비  
ㄷ. 통신비                                      ㄹ. 이자비용

- ① ㄱ, ㄴ                                      ② ㄱ, ㄷ                                      ③ ㄴ, ㄷ
- ④ ㄴ, ㄹ                                      ⑤ ㄷ, ㄹ

4. 다음은 개인기업인 ○○상점이 약식으로 작성한 수정 잔액자산표와 이월자산표이다. 이를 통해 알 수 있는 내용으로 옳은 것을 <보기>에서 고른 것은? [3점]

잔액자산표(수정 전)			이월자산표		
○○상점	2011년 12월 31일 (단위: 원)		○○상점	2011년 12월 31일 (단위: 원)	
차 변	계 정 과 목	대 변	차 변	계 정 과 목	대 변
400,000	현 금		400,000	현 금	
200,000	이 월 상 품		100,000	이 월 상 품	
	자 본	400,000	10,000	선급보험료	
	매 출	520,000		미지급이자	30,000
250,000	매 입			자 본 금	480,000
20,000	보 험 료				510,000
50,000	이 자 비 용				
920,000		920,000	510,000		

— <보기> —

ㄱ. 기말 자본금은 ₩480,000이다.  
ㄴ. 당기분 보험료는 ₩10,000이다.  
ㄷ. 당기분 이자비용은 ₩50,000이다.  
ㄹ. 당기순이익은 ₩50,000이다.

- ① ㄱ, ㄴ                                      ② ㄱ, ㄷ                                      ③ ㄴ, ㄷ                                      ④ ㄴ, ㄹ                                      ⑤ ㄷ, ㄹ

5. 다음은 하나의 거래를 출금전표와 대체전표에 기입한 것이다. 이를 통해 거래를 추정하여 분개한 것으로 옳은 것은? (단, 3전표제를 채택하고 있다.)

출 금 전 표				담당	팀장	사장
No. 1				(담당)	(팀장)	(사장)
2012년 6월 4일						
계정과목	비 품	거래처명	○○상점			
적 요			금 액			
비품 구입			3 0 0 0 0 0 0			
합 계			₩ 3 0 0 0 0 0 0			

대 체 전 표				담당	팀장	사장
No. 2				(담당)	(팀장)	(사장)
2012년 6월 4일						
계정과목	차 변	계정과목	대 변			
비 품	6 0 0 0 0 0 0	미지급금	6 0 0 0 0 0 0			
합 계		합 계		₩ 6 0 0 0 0 0 0		
적 요 ○○상점에서 비품 구입						

- | 차 변  |         | 대 변   |         |
|------|---------|-------|---------|
| ① 비품 | 300,000 | 현금    | 300,000 |
| ② 비품 | 600,000 | 미지급금  | 600,000 |
| ③ 비품 | 300,000 | 외상매입금 | 300,000 |
| ④ 비품 | 900,000 | 현금    | 300,000 |
|      |         | 미지급금  | 600,000 |
| ⑤ 비품 | 900,000 | 현금    | 300,000 |
|      |         | 외상매입금 | 600,000 |

6. 다음은 어느 자산에 대하여 설명하고 있는 일반기업회계기준서 내용의 일부이다. 이를 재무상태표에 표시할 때 분류 항목으로 옳은 것은?

정의	물리적 형태가 없지만 식별 가능하고 기업이 통제하고 있으며, 미래 경제적 효익이 있는 비화폐성 자산이다.
종류	산업재산권, 라이선스와 프랜차이즈, 저작권, 컴퓨터 소프트웨어, 광업권, 어업권 등

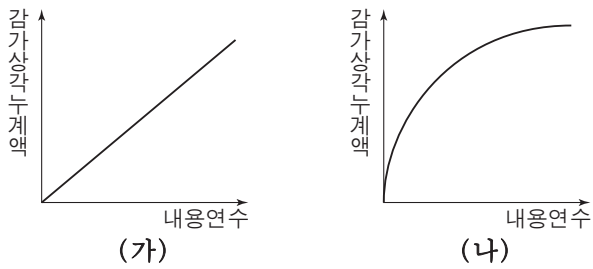
- ① 재고자산      ② 투자자산      ③ 유형자산  
 ④ 무형자산      ⑤ 기타비유동자산

7. 다음은 ○○(주)의 2011년 제9기 손익계산서 일부를 나타낸 것이다. (가)의 금액으로 옳은 것은?

과 목	제9(당)기	제8(전)기
매출액	750,000	500,000
매출원가	400,000	300,000
기초상품재고액	×××	100,000
당기상품매입액	350,000	400,000
기말상품재고액	(가)	(×××)
매출총이익	350,000	200,000
⋮	⋮	⋮

- ① ₩50,000      ② ₩100,000      ③ ₩150,000  
 ④ ₩300,000      ⑤ ₩400,000

8. 그래프는 감가상각누계액의 변화 추이에 따른 감가상각 방법을 나타낸 것이다. (가), (나)에 대한 설명으로 옳은 것을 <보기>에서 고른 것은? [3점]



<보기>

- ㄱ. (가)에 의한 감가상각비는 매기 일정하다.  
 ㄴ. (가)는 취득원가에서 잔존가치를 차감한 금액을 내용연수로 나누어 감가상각비를 계산한다.  
 ㄷ. (나)에 의한 감가상각비는 매기 증가한다.  
 ㄹ. (나)는 감가상각누계액에 정률을 곱하여 감가상각비를 계산한다.

- ① ㄱ, ㄴ      ② ㄱ, ㄷ      ③ ㄴ, ㄷ  
 ④ ㄴ, ㄹ      ⑤ ㄷ, ㄹ

9. 다음은 ○○(주)의 단기매매증권 현황을 나타낸 것이다. 이를 회계 처리한 결과가 2011년 결산 시 재무제표에 미치는 영향으로 옳은 것은? (단, 회계기간은 1월 1일부터 12월 31일까지이며, 제시된 자료 외에는 고려하지 않는다.) [3점]

단기매매증권 현황

구분	취득 내역(2011년)			처분 내역(2011년)			공정가치 (2011.12.31)
	날짜	주식 수	금액	날짜	주식 수	금액	
A주식	2/1	100주	₩500,000	9/2	50주	₩200,000	₩280,000
B주식	3/4	50주	₩300,000	8/5	50주	₩350,000	-

- ① 투자자산이 ₩280,000 증가한다.  
 ② 영업이익이 ₩130,000 증가한다.  
 ③ 영업외수익이 ₩80,000 증가한다.  
 ④ 영업외비용이 ₩30,000 증가한다.  
 ⑤ 판매비와관리비가 ₩30,000 증가한다.

10. 다음은 ○○(주)의 [사채 관련 자료]와 [사채의 장부금액 변동 그래프]이다. 이에 대한 설명으로 옳은 것은? (단, 사채발행비는 없으며, 제시된 자료 외에는 고려하지 않는다.) [3점]

**[사채 관련 자료]**

- 사 채 발 행 일: 2010년 1월 1일
- 사 채 만 기 일: 2012년 12월 31일
- 사채액면금액: ₩100,000
- 액 면 이 자 율: 10%
- 이 자 지 급 일: 매년 12월 31일(연 1회)
- 회 계 기 간: 1월 1일 ~ 12월 31일
- ※ 사채할인(할증)발행차금의 상각(환입)은 유효이자율법에 의한다.(원 미만 반올림)

**[사채의 장부금액 변동 그래프]**

(단위: 원)

- ① 액면이자율이 유효이자율보다 높다.  
 ② 사채할증발행차금 환입액은 매년 증가한다.  
 ③ 2010년 말 액면금액으로 전액 상환 시 사채상환이익이 발생한다.  
 ④ 2011년 말 사채할인발행차금 미상각잔액은 ₩1,786이다.  
 ⑤ 2012년 말 손익계산서에 표시되는 이자비용은 ₩10,000이다.

11. 다음 개인기업인 ○○상점의 당일 상품 거래를 통해 알 수 있는 내용으로 옳은 것만을 <보기>에서 있는 대로 고른 것은? (단, 상품의 감모손실과 평가손실은 없다.) [3점]

○○상점의 직원은 아침에 출근하여 어제 팔고 남은 사과 100개(@₩1,000)를 확인하고 판매를 시작하였다. 오전에는 어제 주문한 사과 500개(@₩1,000)가 도착하여 검수에 합격한 사과 450개를 매장에 진열하고 불량품 50개는 반품하였다. 당일의 영업을 종료한 후 재고를 조사한 결과, 사과는 200개가 남았으며 총 판매 금액은 100만 원이었다.

— <보기> —  
 ㄱ. 순매입액은 ₩500,000이다.  
 ㄴ. 매출 수량은 400개이다.  
 ㄷ. 매출총이익은 ₩650,000이다.

- ① ㄱ                      ② ㄷ                      ③ ㄱ, ㄴ  
 ④ ㄴ, ㄷ                ⑤ ㄱ, ㄴ, ㄷ

12. 다음은 개인기업인 ○○ 상점의 종업원 급여 지급과 관련된 거래와 총계정원장 일부이다. (가)의 계정과목으로 옳은 것은?

• 거래  
 4월 25일 종업원의 4월분 급여 ₩1,000,000에서 소득세 ₩20,000을 차감한 잔액을 현금으로 지급하다.

• 총계정원장 일부

현 금	( 가 )
4/25 급여 980,000	4/25 급여 20,000
급 여	
4/25 제좌 1,000,000	

- ① 인출금                ② 법인세비용            ③ 복리후생비  
 ④ 수도광열비        ⑤ 소득세예수금

13. 다음은 ○○(주)의 영업부 직원이 제출한 출장보고서이다. 이를 회계 처리한 결과가 재무제표에 미치는 영향으로 옳은 것은?

출장보고서		결	담	과	부
		재	당	장	장
			담	과	부
			당	장	장
보고사항	1. 거래처 확보 2. 여비 개산액 ₩300,000 정산				
출장 경비 정산 내역과 금액					
항 목	적 요	금 액	비 고		
교통비	왕복 기차 요금	₩100,000			
숙식비	숙박료 및 식대	₩200,000			
	합 계	₩300,000			
2012년 6월 1일		이길동 (인)			

- ① 자산이 증가한다.  
 ② 부채가 감소한다.  
 ③ 영업외비용이 증가한다.  
 ④ 매출총이익이 증가한다.  
 ⑤ 판매비와관리비가 증가한다.

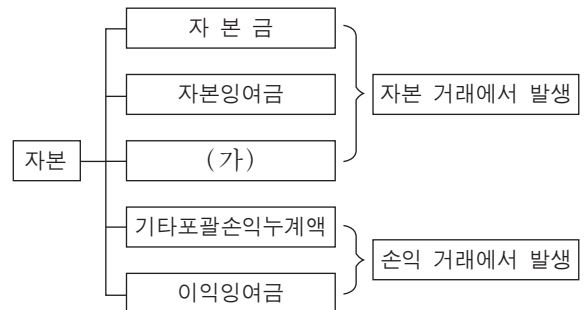
14. 다음은 ○○(주)의 받을어음기입장 일부이다. 이를 통해 ○○(주)의 거래를 추정할 것으로 옳은 것은? [3점]

**받을어음기입장**

월 일	적요	금 액	어음 종류	어음번호	지급인	발행인 또는 배서인	발행일	만기일	지급 장소	전 말	
										월 일	적요
9 1	매출	200,000	약속어음	가나 12345678	대양상점	대양상점	9 1	12 1	민국은행	12 1	추심 당좌입금
9 10	매출	300,000	환어음	나다 12345679	대림상점	양양상점	9 10	11 10	대한은행	10 15	배서양도 (매입)

- ① 9월 1일에 상품 ₩200,000을 대양상점에 현금으로 매출하다.  
 ② 9월 10일에 상품 ₩300,000을 양양상점에 매출하고 대금은 자기앞수표로 받다.  
 ③ 10월 15일에 상품 ₩300,000을 매입하고 대금은 소유하고 있던 대림상점 발행의 약속어음을 배서양도하다.  
 ④ 11월 10일에 소유하고 있던 양양상점 발행의 환어음 ₩300,000이 당좌예금 계좌에 입금되다.  
 ⑤ 12월 1일에 대양상점 발행의 약속어음 ₩200,000이 당좌예금 계좌에 입금되다.

15. 다음은 주식회사 자본의 분류이다. (가)에 해당하는 계정과목이 나타나는 거래로 옳은 것은? (단, 제시된 자료 외에는 고려하지 않는다.) [3점]



- ① 주주총회에서 미처분이익잉여금 중 ₩1,000,000을 이익준비금으로 처분하기로 결의하다.  
 ② 결산 시 보유하고 있는 매도가능증권 200주(장부금액 @₩8,000)의 공정가치는 @₩6,000이다.  
 ③ 회사 설립 시 주식 1,000주(액면금액 @₩5,000)를 액면발행하고 주식 대금은 납입받아 당좌예입하다.  
 ④ 자기주식 200주(액면금액 @₩5,000)를 1주당 ₩6,000에 매입하고 대금은 당좌수표를 발행하여 지급하다.  
 ⑤ 이익준비금 ₩5,000,000을 자본금에 전입하기로 하고 신주 1,000주(액면금액 @₩5,000)를 발행하여 주주에게 무상으로 교부하다.

16. 다음은 ○○(주)의 분개장 일부이다. (가), (나)의 금액을 손익계산서에 반영한 결과에 대한 설명으로 옳은 것은? [3점]

월 일	적 요	원면	차변	대변
12 31	제 좌 (이월상품)			15,000
	(가)		6,000	
	(나)		9,000	
	갑상품 5개(@₩3,000) 갑모 발생(2개는 원가성이 있고, 3개는 원가성이 없음)	생략		

- ① (가)에 의해 매출원가가 감소한다.
- ② (가)에 의해 판매비와관리비가 증가한다.
- ③ (나)에 의해 영업이익이 감소한다.
- ④ (나)에 의해 영업외비용이 증가한다.
- ⑤ (가)와 (나)에 의해 당기순이익이 증가한다.

17. 다음은 ○○(주)가 2011년 12월 31일 현재 보유하고 있는 금융상품 내역이다. 이를 재무상태표에 표시할 때 (가)의 금액으로 옳은 것은?

금융상품 내역

금융상품	금 액	가입(취득)일	만기일
당좌예금	₩200,000	2010.01.04	-
보통예금	₩100,000	2010.01.04	-
정기적금	₩400,000	2011.08.01	2012.08.01
양도성예금증서	₩300,000	2011.12.20	2012.02.20

재무상태표

○○(주) 2011년 12월 31일 현재 (단위: 원)	
과 목	금 액
자산	
유동자산	×××
당좌자산	×××
현금및현금성자산	(가)
⋮	⋮
⋮	⋮

- ① ₩300,000      ② ₩500,000      ③ ₩600,000
- ④ ₩700,000      ⑤ ₩1,000,000

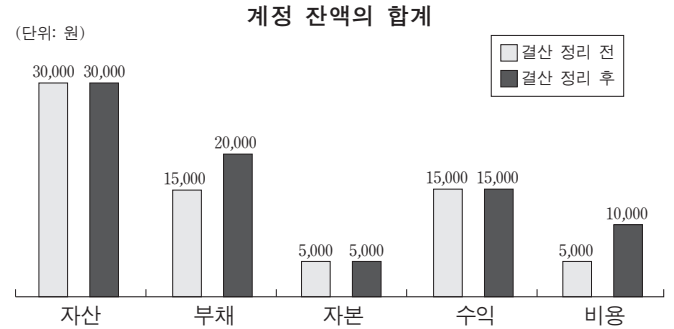
18. 다음은 ○○(주)의 외상매출금 계정이다. 이를 통해 알 수 있는 내용으로 옳은 것은? (단, 매출은 모두 외상 거래이며, 제시된 자료 외에는 고려하지 않는다.) [3점]

외상매출금

1/ 1 전 기 이 월	1,000,000	1/ 3 현 금	500,000
4/ 5 매 출	2,000,000	3/ 4 대 손 총 당 금	10,000
		4/ 6 매 출	50,000
		7/ 9 대 손 상 각 비	20,000
		12/31 차 기 이 월	2,420,000
	<u>3,000,000</u>		<u>3,000,000</u>

- ① 순매출액은 ₩2,000,000이다.
- ② 외상매출금 회수액은 ₩580,000이다.
- ③ 외상매출금 대손 발생액은 ₩30,000이다.
- ④ 당기 말 외상매출금 미회수액은 ₩3,000,000이다.
- ⑤ 전기 말 외상매출금 대손 예상액은 ₩30,000이다.

19. 그래프는 ○○(주)의 결산 정리 전·후 계정 잔액의 합계를 나타낸 것이다. 이와 같은 변동을 발생시킨 결산 정리 사항을 분개한 것으로 옳은 것은? (단, 비용은 지급 시 비용처리법에 의한다.)



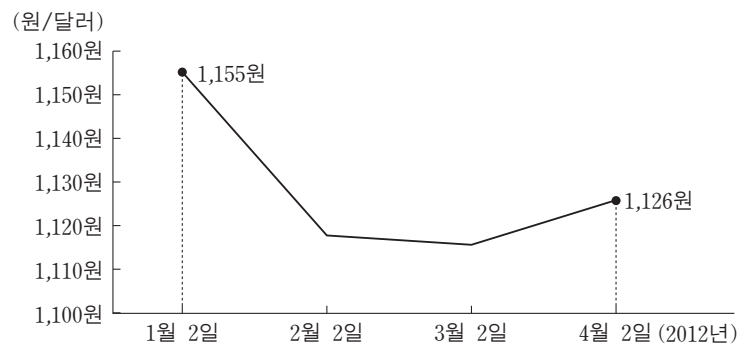
- | 차변            | 대변          |
|---------------|-------------|
| ① 소모품 5,000   | 소모품비 5,000  |
| ② 임차료 5,000   | 미지급비용 5,000 |
| ③ 선급비용 5,000  | 보험료 5,000   |
| ④ 미수수익 5,000  | 이자수익 5,000  |
| ⑤ 수수료수익 5,000 | 선수수익 5,000  |

20. 다음은 ○○(주)의 [거래]와 [환율 변동 그래프]이다. 환율 변동을 반영하여 거래를 회계 처리한 결과에 대한 설명으로 옳은 것은? (단, 결산일은 12월 31일이며, 제시된 자료 외에는 고려하지 않는다.) [3점]

[거래]

4월 2일 해외 거래처에 1월 2일 외상으로 매출하였던 대금 US \$10,000를 전액 회수한 후 환전하여 당좌예입하다.

[환율 변동 그래프]



- ① 유동부채가 증가한다.
- ② 외환차손이 발생한다.
- ③ 외환차익이 발생한다.
- ④ 외화환산손실이 발생한다.
- ⑤ 외화환산이익이 발생한다.

\* 확인 사항

○ 답안지의 해당란에 필요한 내용을 정확히 기입(표기)했는지 확인 하시오.