

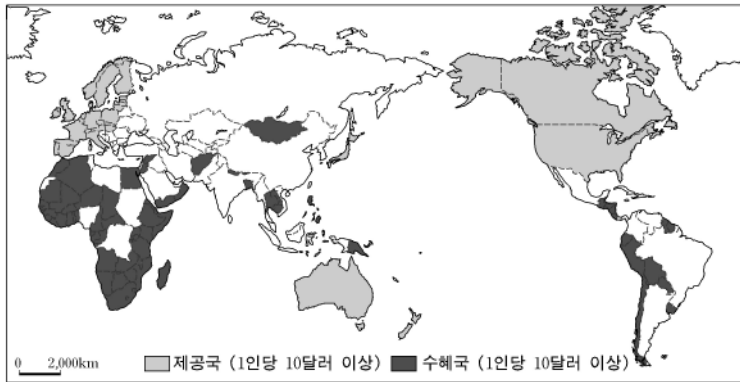
제 4 교시

사회탐구 영역(경제 지리)

성명 수험 번호

- 자신이 선택한 과목의 문제지인지 확인하시오.
- 문제지의 해당란에 성명과 수험 번호를 정확히 쓰시오.
- 답안지의 해당란에 성명과 수험 번호를 쓰고, 또 수험 번호와 답을 정확히 표시하시오.
- 선택한 과목 순서대로 문제를 풀고, 답은 답안지의 '제1선택'란부터 차례대로 표시하시오.
- 문항에 따라 배점이 다르니, 각 물음의 끝에 표시된 배점을 참고하시오. 3점 문항에만 점수가 표시되어 있습니다. 점수 표시가 없는 문항은 모두 2점입니다.

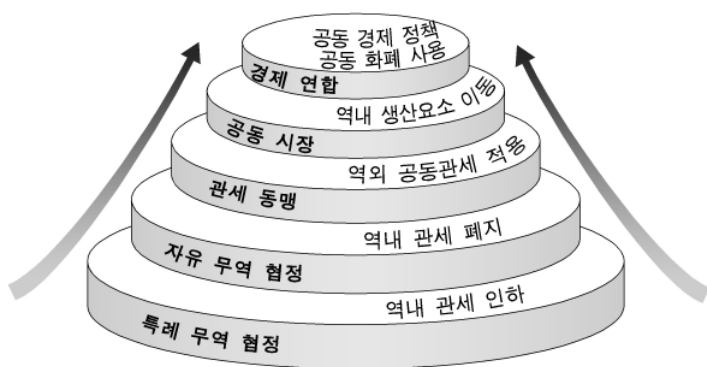
1. 지도는 세계의 원조 제공국과 수혜국을 나타낸 것이다. 수혜국에 비해 제공국에서 높게 나타나는 지표로 적절하지 않은 것은?



* 원조(aid) : 특정 국가가 다른 국가를 도와주기 위한 경제적 지원

- ① 문자 해독률
- ② 노령화 지수
- ③ 출생률과 사망률
- ④ 1인당 물 사용량
- ⑤ 1,000인당 특허등록 건수

2. 그림은 지역 경제 협력체의 통합 단계를 나타낸 것이다. 통합의 심화에 따라 나타날 현상으로 옳지 않은 것은? [3점]



- ① 역내 국가 간 교역의 비중이 높아진다.
- ② 역내 국가 간 공간적 분업이 확대된다.
- ③ 역외 국가에 대한 지역주의적 차별이 완화된다.
- ④ 역외 국가에 대한 역내 국가의 공동 대응이 강화된다.
- ⑤ 최종 단계에 도달하면 역내 기업 간 거래에서 환율 변동의 위험이 감소한다.

3. 다음 신문 기사를 통해 알 수 있는 다국적 기업의 적절한 입지 요인을 <보기>에서 고른 것은?

○○신문 2007년 4월 ○○일

미국의 식품회사 ○○, 의류회사 △△ 등은 마드리드와 리스본에 있는 유럽 본부를 취리히로 옮긴다고 발표했다. 스위스 경제부의 집계에 따르면, 외국 다국적 기업 중 스위스에 사무실을 가진 기업은 4,900여 개에 이르고 다국적 기업이 스위스 국내총생산(GDP)에서 차지하는 비중은 34%나 된다.

...(중 략)...

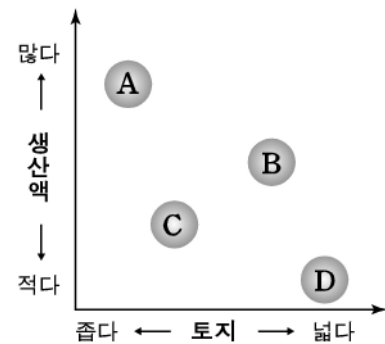
국제적 컨설팅업체인 ◇◇이 발표한 세계 215개 도시의 '삶의 질'(2006년) 평가에서 스위스 취리히와 제네바가 지난해와 마찬가지로 1, 2위를 유지했다. 이 두 도시는 유럽의 주요 도시로부터 1~2시간 이내에 도달할 수 있다. 특히 제네바는 국제노동기구(ILO), 세계보건기구(WHO), 국제적십자본부 등 각종 국제 기관이 모여 있다.

<보 기>

- ㄱ. 단일 언어 사용
- ㄴ. 풍부한 생산적 인력
- ㄷ. 쾌적한 생활 환경
- ㄹ. 뛰어난 지리적 접근성

- ① ㄱ, ㄴ ② ㄱ, ㄷ ③ ㄴ, ㄷ ④ ㄴ, ㄹ ⑤ ㄷ, ㄹ

4. 그래프는 농업의 유형을 토지와 생산액에 근거하여 구분한 것이다. A~D의 적절한 사례를 <보기>에서 골라 바르게 배열한 것은? [3점]



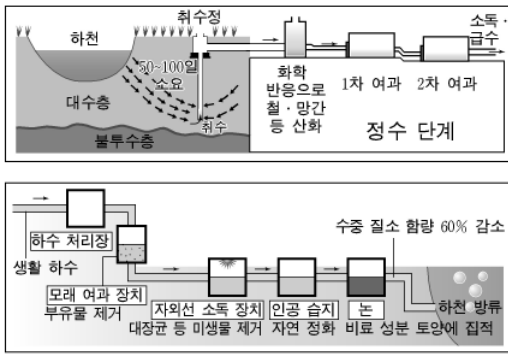
* 각 위치는 상대적 양을 표현함
** A와 B는 자본 투입, C는 노동 투입이 큼

<보 기>

- ㄱ. 뉴질랜드의 상업적 양 사육
- ㄴ. 네덜란드의 상업적 치즈 생산
- ㄷ. 에티오피아의 자급자족적 유목
- ㄹ. 캄보디아의 자급자족적 벼농사

- | | A 유형 | B 유형 | C 유형 | D 유형 |
|---|------|------|------|------|
| ① | ㄱ | ㄴ | ㄷ | ㄹ |
| ② | ㄱ | ㄴ | ㄹ | ㄷ |
| ③ | ㄱ | ㄹ | ㄴ | ㄷ |
| ④ | ㄴ | ㄱ | ㄷ | ㄹ |
| ⑤ | ㄴ | ㄱ | ㄹ | ㄷ |

5. (가), (나) 자료는 물 자원 개발과 관리 체계를 나타낸 것이다. 이에 대한 옳은 설명을 <보기>에서 고른 것은?



(가) 강물이 강 아래 모래와 흙 층을 지나는 과정에서 자연 정화된 물을 취수하여 사용하는 체계
(나) 생활하수를 자연적으로 정화시킨 후 농업용으로 이용하는 체계

<보 기>
 가. (가)는 증발로 인한 물의 손실이 많아 대책이 필요하다.
 나. (가)는 기존 상수도 체계보다 인공적 정수 단계가 줄어든다.
 다. (나)는 환경친화적 원리를 활용한 물 자원 확보 방법이다.
 리. (나)의 과도한 이용은 지하수의 감소로 지반 침하를 초래한다.

- ① 가, 나 ② 가, 다 ③ 나, 다 ④ 나, 리 ⑤ 다, 리

6. 다음 글은 우리나라 공업의 특징에 대해 서술한 것이다. 밑줄 친 부분에 해당하는 용어로 가장 적절한 것은

지난 40여 년 동안 우리나라의 공업은 고도의 성장을 이룩하였으나, 빠른 성장에 초점을 맞추어 왔기 때문에 여러 가지 문제점들이 나타나고 있다. 무엇보다도 균형적인 투자보다는 효율성을 중시하였기 때문에 공간적으로 불균등한 공업 분포가 뚜렷해졌을 뿐만 아니라, 기업의 규모에 따른 경제적 격차도 심화되었다. 이러한 문제점을 해소하기 위해서는 공업 재배치 정책과 더불어 경쟁력 있는 중소기업 육성 전략을 적극적으로 펴야 한다.

- ① 규모의 경제 ② 공업의 이중 구조
 ③ 공업 집적의 불이익 ④ 공업의 지역적 편재
 ⑤ 노동의 공간적 분화

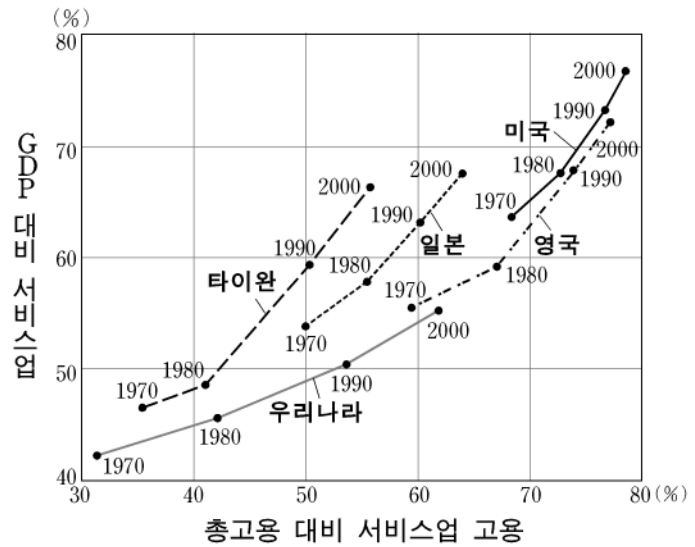
7. 표는 세계 주요 국가별 수출입과 미국의 주요 교역국을 나타낸 것이다. 이에 대한 설명으로 적절하지 않은 것은? [3점]

국가별 수출입액 (단위 : 십억 달러)			미국의 주요 교역국 비중 (단위 : %)		
국가	수출	수입	국가	수출	수입
미국	694	1,202	캐나다	22.4	22.4
일본	416	336	멕시코	13.8	13.9
중국	326	295	일본	7.9	11.1
멕시코	161	176	영국	5.6	8.9
러시아	107	60	독일	4.1	5.2

자료 : WTO(2006년)

- ① 미국은 무역 수지 적자를 겪고 있다.
 ② 무역 수지 흑자가 가장 큰 국가는 일본이다.
 ③ 캐나다는 미국과의 무역 수지에서 균형을 이루고 있다.
 ④ 일본, 영국, 독일은 미국과의 무역에서 흑자를 기록하고 있다.
 ⑤ 미국은 북미자유무역협정(NAFTA) 국가들과 교역이 활발하다.

8. 그림은 주요 국가별 서비스업의 비중 추이를 나타낸 것이다. 이에 대한 적절한 추론을 <보기>에서 고른 것은? [3점]

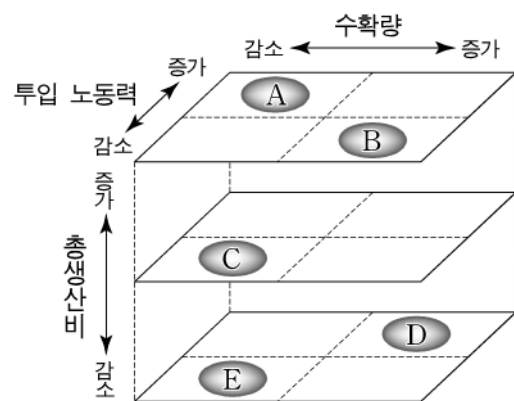


<보 기>
 가. 일본의 제조업 고용 비중은 미국에 비해 낮을 것이다.
 나. 2000년 영국의 서비스업 생산성은 미국보다 높을 것이다.
 다. 2000년 타이완의 서비스업 생산액은 타 산업보다 높을 것이다.
 리. 우리나라의 서비스업 고용 흡수력은 미국에 비춰 볼 때 앞으로도 증가할 수 있을 것이다.

- ① 가, 나 ② 가, 다 ③ 나, 다 ④ 나, 리 ⑤ 다, 리

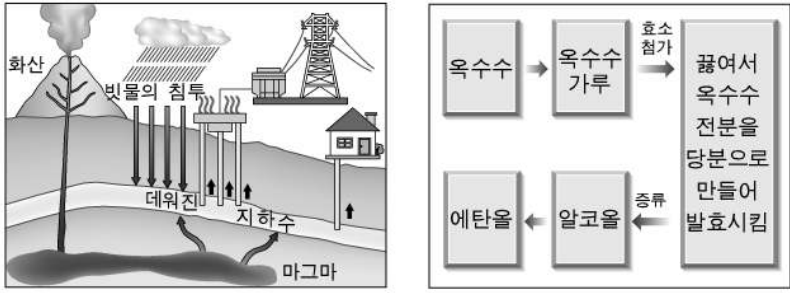
9. 다음 자료에 나타난 농법을 도입하였을 때 나타나는 초기 특성으로 가장 적절한 것을 그림에서 고르면? [3점]

○○군에서는 천적과 생물학적 기술을 이용하여 흙의 자생력을 높이고 오염도를 줄이기 위해 오리농법, 자운영농법, 왕우렁이농법, 쌀겨농법 등을 적극 지원하고 있다. 이러한 농법을 도입한 농부들은 3~5년 후에야 경제적 안정을 얻을 수 있다. 초기 투입비용이 크고 단기간 효과를 기대하기 어려우나, 최근 웰빙 경향과 녹색 소비자의 등장으로 이 농법을 사용한 경작지가 꾸준히 늘어나고 있다.



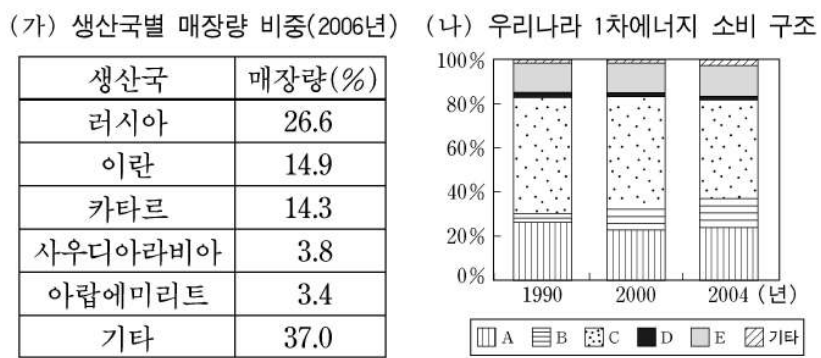
- ① A ② B ③ C ④ D ⑤ E

13. (가), (나)는 에너지의 생산 원리를 나타낸 것이다. 이 에너지에 대한 설명으로 옳지 않은 것은?



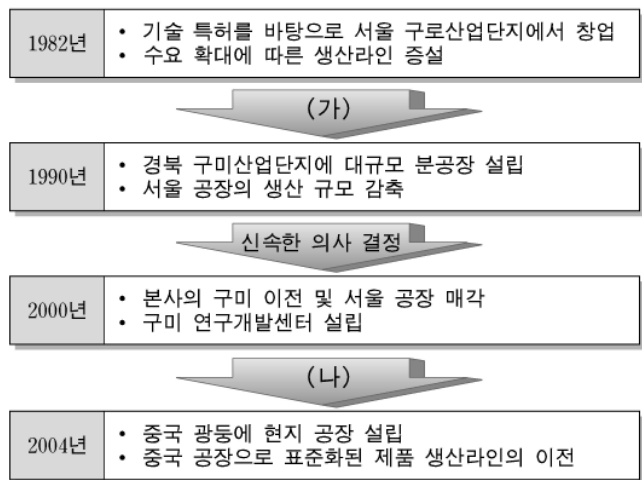
- ① (가)는 에너지원이 널리 분포하므로 입지 제약이 작다.
- ② (가)는 발전 외에 지역 난방, 시설 영농 등에 활용할 수 있다.
- ③ (나)는 국제 곡물 시장의 가격 변동에 영향을 미칠 수 있다.
- ④ (나)는 에너지 추출을 위한 경작지 확대로 환경 파괴의 위험이 있다.
- ⑤ (가)와 (나)는 화석연료를 대체하는 신·재생 에너지에 해당한다.

14. (가) 자료는 어떤 에너지자원의 주요 생산국별 매장량 비중을 나타낸 것이다. 이 자원을 (나) 그림에서 고른 것은?



- ① A ② B ③ C ④ D ⑤ E

15. 다음 자료는 ○○ 전자업체의 성장 과정에 관한 것이다. (가)와 (나)에 중요하게 고려되었을 입지 요인을 바르게 배열한 것은? [3점]



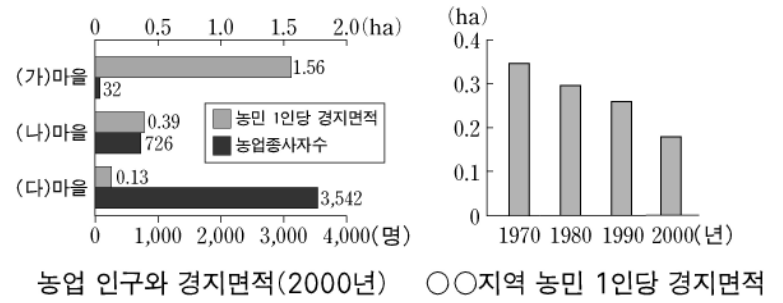
- | | |
|---|--|
| <ul style="list-style-type: none"> ① 시장 개척 및 확대 ② 시장 개척 및 확대 ③ 관련 기업의 집적 ④ 부지 확보 용이 ⑤ 부지 확보 용이 | <ul style="list-style-type: none"> 생산비 절감 세금 감면 혜택 고급 노동력 확보 고급 노동력 확보 시장 개척 및 확대 |
|---|--|

16. 다음은 '서비스 산업' 단원에 대한 수업 장면이다. 발표 내용이 적절하지 않은 학생은?

선생님 : 서비스 산업의 일반적인 특성에 대해 말해 보세요.
 학생 1 : 생산자와 소비자를 연결하는 경제 활동으로, 수요가 소규모로 분산되어 있는 특성이 있습니다.
 학생 2 : 생산지와 소비지가 일치하여 인구가 많고 경제 활동이 활발한 곳은 사업체 수도 많습니다.
 학생 3 : 기술 집약적이어서 제조업에 비해 고용창출 효과가 낮습니다.
 선생님 : 자, 이번에는 소비자 서비스업과 생산자 서비스업의 입지 특성에 대해서 말해 볼까요?
 학생 4 : 소비자 서비스업은 소비자의 이동거리를 최소화하려고 소비자 가까이에 입지하는 경향이 있습니다.
 학생 5 : 생산자 서비스업은 소도시보다는 기업의 본사가 몰려 있는 대도시를 중심으로 발달합니다.

- ① 학생 1 ② 학생 2 ③ 학생 3 ④ 학생 4 ⑤ 학생 5

17. 다음은 ○○ 지역 특성을 나타낸 자료이다. 이에 대한 적절한 추론을 <보기>에서 고른 것은? (단, 다른 조건들은 마을별 차이가 없음) [3점]



<보 기>

- ㄱ. 총 경지면적은 (다) 마을이 (가) 마을보다 넓을 것이다.
- ㄴ. 노동력의 이동이 없다면, 노동 집약도는 (다) 마을이 가장 높을 것이다.
- ㄷ. 농민 1인당 경지면적으로 볼 때, (가) 마을의 영농 규모가 가장 작을 것이다.
- ㄹ. ○○지역의 농민 1인당 경지면적 변화는 농업 종사자의 진출 때문일 것이다.

- ① ㄱ, ㄴ ② ㄱ, ㄷ ③ ㄴ, ㄷ ④ ㄴ, ㄹ ⑤ ㄷ, ㄹ

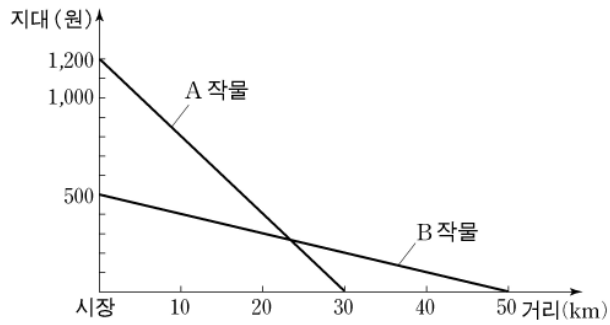
18. 표는 거리에 따른 운송비 구조를 나타낸 것이다. 최소 운송비 지점에 공장이 입지할 경우, (가)와 (나)의 유형에 해당하는 공업의 사례를 바르게 배열한 것은?

(단위 : 천원)

구분	(가)		(나)	
	원료운송비	제품운송비	원료운송비	제품운송비
0km	0	0	0	0
10km	100	200	200	100
30km	300	600	600	300
50km	500	1,000	1,000	500

- | | | | |
|---|--|--|--|
| <ul style="list-style-type: none"> ① 시멘트 ③ 반도체 ⑤ 시멘트 | <ul style="list-style-type: none"> ② 섬유 ④ 음료수 ⑥ 자동차 | <ul style="list-style-type: none"> ② 음료수 ④ 음료수 | <ul style="list-style-type: none"> ① 시멘트 ③ 반도체 |
|---|--|--|--|

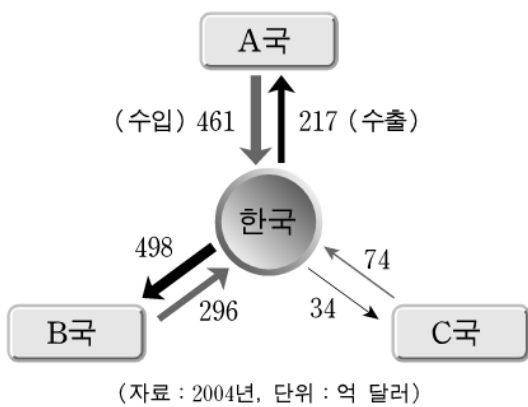
19. 튀넨의 고립국 이론을 적용할 때, A~C 작물에 대한 설명으로 옳지 않은 것은? (단, 지대=시장가격-생산비-운송비) [3점]



C 작물	시장가격	생산비	운송비
	1,300 (원/kg)	500 (원/kg)	20 (원/kg·km)

- ① 작물의 재배 면적은 B>A>C이다.
- ② 시장에서 작물의 지대는 A>C>B이다.
- ③ 거리에 따른 지대 감소는 A>C>B이다.
- ④ 시장에서 25km 떨어진 지점에서는 C 작물이 재배된다.
- ⑤ C 작물의 지대가 0이 되는 지점은 시장에서 40km 떨어져 있다.

20. 다음 자료는 우리나라와 주요 교역국의 무역액과 특징을 나타낸 것이다. 이를 바탕으로 A~C국을 바르게 배열한 것은?



- A국과의 최대 수출·입 품목은 반도체이다.
- B국은 최근 들어 최대의 수출 대상국으로 부상했다.
- C국으로부터는 주로 광물과 농·축산물을 수입하고 있다.

- | | | |
|-----------|-----------|-----------|
| <u>A국</u> | <u>B국</u> | <u>C국</u> |
| ① 미국 | 중국 | 브라질 |
| ② 미국 | 일본 | 오스트레일리아 |
| ③ 일본 | 미국 | 인도 |
| ④ 일본 | 중국 | 오스트레일리아 |
| ⑤ 중국 | 미국 | 인도 |

* 확인 사항
 ◦ 답안지의 해당란에 필요한 내용을 정확히 기입(표기)했는지 확인 하시오.