

제 4 교시

직업탐구 영역(회계 원리)

성명  수험 번호

- 자신이 선택한 과목의 문제지인지 확인하시오.
- 문제지에 성명과 수험 번호를 정확히 써 넣으시오.
- 답안지에 성명과 수험 번호를 써 넣고, 또 수험 번호와 답을 정확히 표시하시오.
- 과목을 선택한 순서대로 풀고, 답은 답안지의 '제1선택'란에서부터 차례대로 표시하시오.
- 문항에 따라 배점이 다르니, 각 물음의 끝에 표시된 배점을 참고하시오. 3점 문항에만 점수가 표시되어 있습니다. 점수 표시가 없는 문항은 모두 2점입니다.

1. 그림은 외상 매입 대금의 지급에 대한 수업 장면이다. 선생님의 질문에 알맞은 대답을 <보기>에서 모두 고른 것은?



<보 기>  
 가. 현금    나. 당좌예금    다. 미지급금    리. 지급어음

- ① 가, 다                      ② 가, 리                      ③ 나, 다  
 ④ 가, 나, 리                ⑤ 나, 다, 리

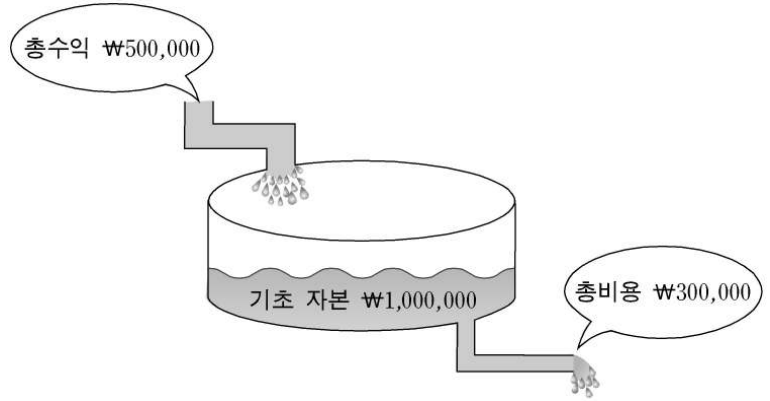
2. 다음 거래에서 대차대조표 계정의 증감 내용이 기입될 계좌로 바른 것을 모두 고른 것은?

5월 1일 현금 ₩500,000을 차입하고 3개월 후에 상환하기로 하다.

자산 계정		부채 계정		자본 계정	
가	나	다	리	감소	증가

- ① 가, 다                      ② 가, 리                      ③ 나, 다  
 ④ 가, 나, 리                ⑤ 나, 다, 리

3. 그림의 내용에서 ○○기업의 기말 자본을 바르게 계산한 것은? (단, 추가 출자액과 인출액은 없다.)



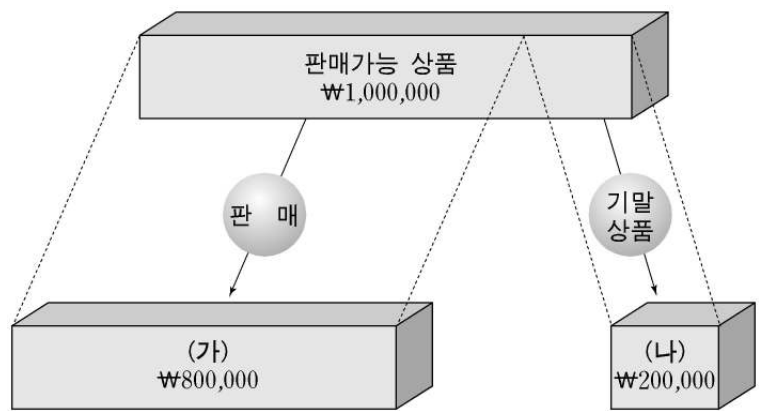
- ① ₩800,000                ② ₩1,200,000                ③ ₩1,300,000  
 ④ ₩1,500,000                ⑤ ₩1,800,000

4. 자본의 증가 요인이 되는 거래를 <보기>에서 모두 고른 것은? [3점]

<보 기>  
 가. 급여 ₩400,000을 현금으로 지급하다.  
 나. 상품 ₩100,000(원가 ₩70,000)을 매출하고, 대금은 당좌 예입하다.  
 다. 신주 100주(액면 @₩5,000)를 @₩6,000에 발행하고, 납입금은 당좌예입하다.

- ① 가                              ② 나                              ③ 가, 나  
 ④ 가, 다                        ⑤ 나, 다

5. 그림은 상품의 흐름에 대한 내용이다. (가)와 (나)에 알맞은 항목을 바르게 짝지은 것은? [3점]



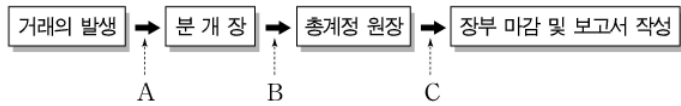
- (가)                              (나)  
 ① 자본금                        재고자산  
 ② 매입채무                      매출  
 ③ 매입채무                      자본금  
 ④ 매출원가                      매출  
 ⑤ 매출원가                      재고자산

6. 다음 자료에서 2005년도 12월 말 결산 시의 감가상각비를  
바르게 계산한 것은? (단, 결산은 연 1회이다.)

기계장치	건설중인자산
○ 취득원가 : ₩1,000,000	○ 공사비 : ₩1,000,000
○ 내용연수 : 4년	○ 완공 예정일 : 2006년 2월 1일
○ 잔존가액 : ₩200,000	○ 건물 완공 후
○ 상각방법 : 정액법	· 내용연수 : 20년
○ 취득일 : 2005년 1월 3일	· 잔존가액 : ₩100,000
	· 상각방법 : 정액법

- ① ₩100,000      ② ₩200,000      ③ ₩245,000  
 ④ ₩250,000      ⑤ ₩300,000

7. 다음은 회계의 순환 과정이다. A~C의 내용을 바르게 짝지  
은 것은?



- |   | A  | B  | C  |
|---|----|----|----|
| ① | 결산 | 분개 | 이월 |
| ② | 결산 | 분개 | 전기 |
| ③ | 분개 | 대체 | 이월 |
| ④ | 분개 | 전기 | 결산 |
| ⑤ | 이월 | 전기 | 결산 |

8. 다음 보고서에서 추론할 수 있는 내용과 거리가 먼 것은?  
[3점]

**경영분석 보고서**

○○(주) 귀중

귀사의 2005년 경영성과를 분석한 결과 동일 업종의 평균과 비교할 때 다음과 같은 특징이 있습니다.

- 매출액은 많지만 매출총이익은 상대적으로 적다.
- 판매비와 관리비는 판매활동의 강화로 인해 상대적으로 많다.

(이하 생략)

2006. 4. 5.

△△경영컨설팅 대표이사 홍길동

- ① 접대비의 과다 발생  
 ② 매출원가의 과다 발생  
 ③ 재해손실의 과다 발생  
 ④ 광고선전비의 과다 발생  
 ⑤ 여비교통비의 과다 발생

9. 그림은 ○○(주)의 신입 사원 채용 면접 장면이다. 대담으로  
옳지 않은 응시자는?

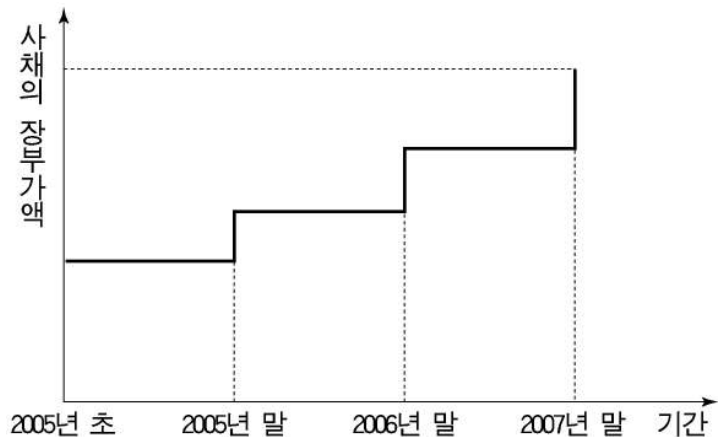


- ① 가 : 매입채무는 일반적 상거래에서 발생합니다.  
 ② 나 : 장기차입금은 타인으로부터 장기간 빌린 돈입니다.  
 ③ 다 : 선수금은 상품 매매 계약금을 받았을 때 발생합니다.  
 ④ 라 : 미지급금은 영업 본래의 목적이 아닌 거래에서 발생합니다.  
 ⑤ 마 : 예수금은 계정 과목이나 금액이 확정될 때까지 임시로 처리하는 계정입니다.

10. 다음 자료와 그래프에서 추론할 수 있는 대한(주)의 사채 발행  
방법으로 옳은 것은? [3점]

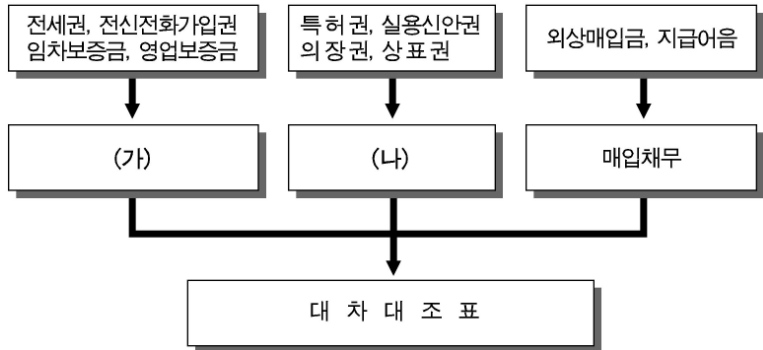
2005년 1월 1일 신규 사업 자금을 마련하기 위하여 사채  
를 발행하였다.

- 액면가액 : ₩1,000,000
- 상환기간 : 3년 만기 일시 상환
- 액면이자율 : 8%
- 결산 및 이자지급일 : 매년 12월 31일
- 단, 사채발행비는 없다.



- ① 고가발행      ② 액면발행      ③ 평가발행  
 ④ 할인발행      ⑤ 할증발행

11. 그림에서 (가)와 (나)에 알맞은 계정 과목을 바르게 짝지은 것은?



- |       |       |
|-------|-------|
| (가)   | (나)   |
| ① 보증금 | 영업권   |
| ② 전세금 | 영업권   |
| ③ 전세금 | 라이선스  |
| ④ 권리금 | 산업재산권 |
| ⑤ 보증금 | 산업재산권 |

12. 그림은 결산 예비 절차에 관한 대화이다. (A)와 (B)에 알맞은 것을 바르게 짝지은 것은? [3점]



- |       |                   |
|-------|-------------------|
| (A)   | (B)               |
| ① 분개장 | 차·대변을 다른 금액으로 기장  |
| ② 시산표 | 차변 금액을 기장 누락      |
| ③ 시산표 | 차·대변 금액을 모두 기장 누락 |
| ④ 정산표 | 대변 금액을 기장 누락      |
| ⑤ 정산표 | 차변 금액을 기장 누락      |

13. 그림에서 순매입액을 바르게 계산한 것은? (단, 운임은 당점 부담이다.)



- |            |            |            |
|------------|------------|------------|
| ① ₩275,000 | ② ₩300,000 | ③ ₩325,000 |
| ④ ₩350,000 | ⑤ ₩375,000 |            |

14. 다음은 ○○기업의 결산 시 원장의 일부와 부분 손익계산서이다. (가)와 (나)에 알맞은 금액을 바르게 짝지은 것은? [3점]

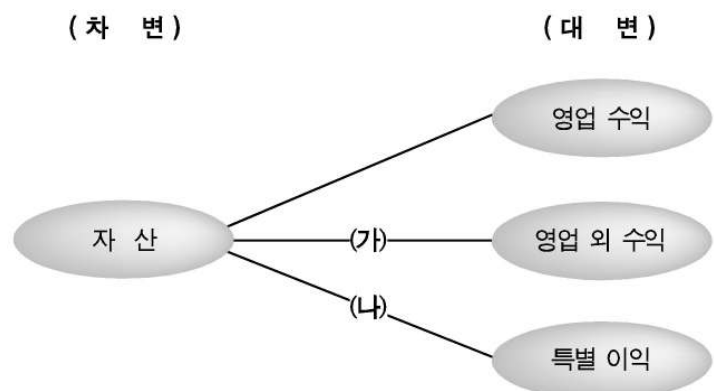
6/1 현금	금	36,000	12/31 선급보험료	15,000
			" 손익	21,000
		<u>36,000</u>		<u>36,000</u>

12/31 선수임대료	70,000	8/1 현금	120,000
" 손익	50,000		
	<u>120,000</u>		<u>120,000</u>

손익계산서(약식)  
 회사명: ○○기업    2005년 1월 1일부터 2005년 12월 31일까지    (단위: 원)

보험료 (가)		임대료 (나)	
①	₩15,000	①	₩50,000
②	₩21,000	②	₩50,000
③	₩21,000	③	₩70,000
④	₩36,000	④	₩21,000
⑤	₩36,000	⑤	₩70,000

15. 그림은 자산과 수익 간의 결합 관계를 나타낸 것이다. (가)와 (나)에 해당하는 분개를 <보기>에서 골라 바르게 짝지은 것은? [3점]



<보기>

(차변)	(대변)
ㄱ. 현금 60,000	이자수익 60,000
ㄴ. 기계장치 200,000	자산수증이익 200,000
ㄷ. 외상매출금 300,000	매산수증이출 300,000

- |     |     |
|-----|-----|
| (가) | (나) |
| ① ㄱ | ㄴ   |
| ② ㄱ | ㄷ   |
| ③ ㄴ | ㄱ   |
| ④ ㄷ | ㄱ   |
| ⑤ ㄷ | ㄴ   |

16. 다음은 결산 정리 사항의 일부이다. (가)~(다)에 해당하는 계정 과목을 바르게 짝지은 것은?

(가) 당기 발생분 이자를 비용처리  
 (나) 특허권 취득원가를 일정 기간에 걸쳐 비용처리  
 (다) 매출채권 중 회수할 수 없을 것으로 예상되는 부분을 비용처리

- |   |       |         |         |
|---|-------|---------|---------|
|   | (가)   | (나)     | (다)     |
| ① | 이자비용  | 감가상각비   | 대손상각비   |
| ② | 이자비용  | 무형자산상각비 | 대손상각비   |
| ③ | 감가상각비 | 대손상각비   | 무형자산상각비 |
| ④ | 감가상각비 | 무형자산상각비 | 이자비용    |
| ⑤ | 대손상각비 | 감가상각비   | 무형자산상각비 |

17. 다음 내용에서 (가)와 (나)에 해당하는 것을 바르게 짝지은 것은? (단, 결제 수단은 미국 달러이다.) [3점]

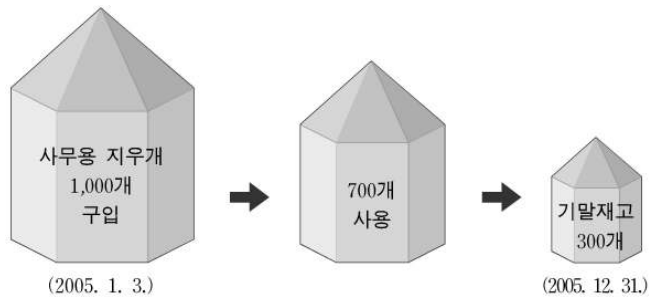
**환율 하락 수출 기업 비상**

3개월 전에 미화 1달러당 ₩1,038 하던 환율이 연말 현재 ₩1,004으로 떨어졌다. 환율 하락으로 외상 수출 대금이 있는 기업은 매출채권이 ( 가 )할 것이며, 매출채권의 ( 가 )는 당기의 ( 나 )에 상당한 영향을 미칠 것으로 예상된다.

(이하 생략)  
 -○○일보, 2005. 12. 31.-

- |   |     |       |
|---|-----|-------|
|   | (가) | (나)   |
| ① | 감소  | 경상이익  |
| ② | 감소  | 영업이익  |
| ③ | 증가  | 경상이익  |
| ④ | 증가  | 영업이익  |
| ⑤ | 증가  | 매출총이익 |

18. 그림과 같은 조건에서 결산 정리 분개를 한 후에 나타나는 결과를 <보기>에서 모두 고른 것은? (단, 소모품은 구입 시 비용 처리한다.) [3점]



<보 기>

ㄱ. 자산이 감소한다.  
 ㄴ. 비용이 증가한다.  
 ㄷ. 당기순이익이 증가한다.

- ① ㄱ      ② ㄴ      ③ ㄷ      ④ ㄱ, ㄴ      ⑤ ㄴ, ㄷ

19. 다음 거래로 인하여 재무상태에 영향을 미치는 항목을 그림에서 모두 고른 것은? [3점]

4월 18일 업무용 컴퓨터소프트웨어 ₩100,000을 구입하고 대금 중 ₩40,000은 현금 지급하고, 잔액은 1개월 후에 지급하기로 하다.



- ① ㄱ, ㄷ      ② ㄴ, ㄷ      ③ ㄷ, ㄴ  
 ④ ㄱ, ㄴ, ㄷ      ⑤ ㄱ, ㄴ, ㄷ

20. 다음 거래와 전표에서 (가)에 해당하는 전표의 종류와 (나)에 기입할 계정 과목을 바르게 짝지은 것은? (단, 3전표 제도를 채택한다.)

5월 6일 ○○기업은 △△(주)에 벽시계 20개를 @₩40,000에 판매하고, 대금은 동점 발행 약속어음으로 받다. (만기일은 7월 6일)

( 가 )

계	원	과	장	원	부	장	원
No.40      2006년 5월 6일							
계정 과목	차      변			계정 과목	대      변		
( 나 )			8 0 0 0 0 0	매      출			8 0 0 0 0 0
합      계			₩ 8 0 0 0 0 0	합      계			₩ 8 0 0 0 0 0
적      요    △△(주)에 벽시계 20개 @₩40,000 매출, 약속어음(만기일 7월 6일)							

- |   |       |       |
|---|-------|-------|
|   | (가)   | (나)   |
| ① | 대체 전표 | 받을어음  |
| ② | 매입 전표 | 받을어음  |
| ③ | 매출 전표 | 지급어음  |
| ④ | 입금 전표 | 외상매출금 |
| ⑤ | 출금 전표 | 외상매출금 |

\* 확인 사항  
 ◦ 답안지의 해당란에 필요한 내용을 정확히 기입(표기)했는지 확인 하시오.