

제 4 교시

직업탐구 영역(인간 발달)

성명 수험 번호

- 자신이 선택한 과목의 문제지인지 확인하십시오.
- 문제지에 성명과 수험 번호를 정확히 써 넣으십시오.
- 답안지에 성명과 수험 번호를 써 넣고, 또 수험 번호와 답을 정확히 표시하십시오.
- 과목을 선택한 순서대로 풀고, 답은 답안지의 '제1선택'란에서부터 차례대로 표시하십시오.
- 문항에 따라 배점이 다르니, 각 물음의 끝에 표시된 배점을 참고하십시오. 3점 문항에만 점수가 표시되어 있습니다. 점수 표시가 없는 문항은 모두 2점입니다.

1. 다음은 바움린드가 제시한 부모의 양육 유형을 나타낸 것이다. (가)~(다)에 해당하는 양육 유형을 바르게 짝지은 것은?

부모의 양육 유형	(가)	엄마 : 밥 먹어라. 아이 : 나 밥 안 먹을래! 엄마 : 지금 먹는 게 어떻겠니? 어서 오렴.
	(나)	엄마 : 밥 먹어라. 아이 : 나 밥 안 먹을래! 엄마 : (화난 목소리로) 지금 빨리 와서 먹어!
	(다)	엄마 : 밥 먹어라. 아이 : 나 밥 안 먹을래! 엄마 : 그럼, 그렇게 하렴.

- | | | |
|-----------|---------|---------|
| (가) | (나) | (다) |
| ① 권위적 | 허용적 | 권위를 사용한 |
| ② 권위적 | 권위를 사용한 | 허용적 |
| ③ 허용적 | 권위적 | 권위를 사용한 |
| ④ 권위를 사용한 | 권위적 | 허용적 |
| ⑤ 권위를 사용한 | 허용적 | 권위적 |

2. 다음 글은 아기에게 대소변 훈련을 시키는 장면이다.

엄마 : 철수야! 또 옷에 응가하면 어떻게 하니?
(혼잣말로) 13개월이나 됐는데 왜 이렇게 대소변을 못 가리지?
철수 : 잉잉잉 ... (운다)
엄마 : 한 번만 더 옷에 응가하면 혼내 줄 거야. 응가하고 싶으면 엄마한테 말해. 제발 ... 알았지!

프로이트의 이론에 비추어 볼 때, 이 아기에게 나타나게 될 성격을 <보기>에서 고른 것은? [3점]

- <보 기>
- ㄱ. 수치심을 갖게 된다.
 - ㄴ. 자신을 스스로 통제한다.
 - ㄷ. 절대적인 규칙까지도 무시한다.
 - ㄹ. 지나치게 깨끗한 것에 집착한다.
 - ㅁ. 구두쇠 같은 인색한 성격을 보인다.

- | | | |
|-----------|-----------|-----------|
| ① ㄱ, ㄴ, ㄷ | ② ㄱ, ㄴ, ㄹ | ③ ㄱ, ㄹ, ㅁ |
| ④ ㄴ, ㄷ, ㅁ | ⑤ ㄷ, ㄹ, ㅁ | |

3. 다음 부부 간의 대화에 나타난 신생아의 반사 운동은?



- | | | |
|---------|-----------|---------|
| ① 걷기 반사 | ② 모로 반사 | ③ 빨기 반사 |
| ④ 파악 반사 | ⑤ 바린스키 반사 | |

4. 다음은 <하인즈의 딜레마>에 대한 글이다.

어느 약사가 죽음에 임박한 하인즈의 부인을 구할 수 있는 약을 발명하였다. 그런데 그 약을 재료비의 10배나 되는 비싼 값에 팔려고 한다. 하인즈는 그 약사에게 약값의 절반 밖에 없으니 약을 싸게 팔거나 나중에 지불하게 해 달라고 부탁했으나 거절당한다. 그래서 하인즈는 약방을 부수고 약을 훔친다.

위의 글을 읽은 아동의 반응에 대한 설명으로 옳은 것은? [3점]

아동 : "하인즈는 남의 것을 훔쳤기 때문에 벌을 받을 거예요. 그래서 훔치면 안돼요."

- ① 타인의 관점과 입장을 잘 이해하고 있다.
- ② 전인습적 도덕 수준으로 타율적 도덕 단계에 해당된다.
- ③ 인습적 도덕 수준에 맞는 행동이 도덕적 행동이라고 믿는다.
- ④ 피아제의 도덕성 발달 이론 중 자율적 도덕성 단계에 해당된다.
- ⑤ 인간의 존엄성을 인정하는 차원에서 도덕적 판단을 하고 있다.

5. 다음은 임신부들의 견해이다. 태아의 환경에 대해 가장 잘 이해하고 있는 사람을 고른 것은?



- | | | |
|----------|----------|----------|
| ① 경희, 나영 | ② 경희, 미란 | ③ 나영, 미란 |
| ④ 나영, 유진 | ⑤ 미란, 유진 | |

6. 브론펜브레너의 생태학 이론에 대한 설명 중 옳은 것을 <보기>에서 모두 고른 것은? [3점]

<보 기>

ㄱ. 가족과 학교의 교류를 아동의 외체계로 본다.
 ㄴ. 환경을 크게 미시 체계, 중간 체계, 외체계, 거시 체계로 구분한다.
 ㄷ. 부모의 직장 근무 조건을 아동 발달에 영향을 미치는 하나의 요인으로 본다.
 ㄹ. 인간 발달은 인간과 변화하는 환경이 서로에 대한 조절 과정을 거쳐 이루어진다고 본다.

- ① ㄱ, ㄴ ② ㄱ, ㄷ ③ ㄴ, ㄹ
 ④ ㄱ, ㄷ, ㄹ ⑤ ㄴ, ㄷ, ㄹ

7. 그림은 이성 교제에 대한 수업 장면이다. (가)에 들어갈 내용으로 옳은 것을 <보기>에서 고른 것은?

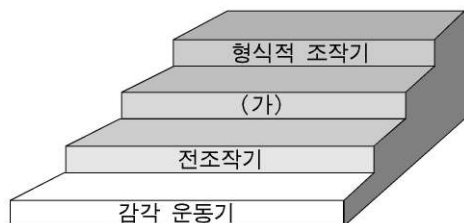


<보 기>

ㄱ. 물질적 욕구를 해결할 수 있어요.
 ㄴ. 배우자 선택의 기회를 가질 수 있어요.
 ㄷ. 이성에 대한 기대나 환상을 가질 수 있어요.
 ㄹ. 타인의 개성과 인격을 존중할 줄 알게 돼요.
 ㅁ. 성인으로서의 남녀 역할을 학습할 수 있어요.


- ① ㄱ, ㄴ, ㄷ ② ㄱ, ㄴ, ㄹ ③ ㄱ, ㄷ, ㅁ
 ④ ㄴ, ㄹ, ㅁ ⑤ ㄷ, ㄹ, ㅁ

8. 그림은 피아제의 인지 발달 단계를 나타낸 것이다. (가) 단계의 발달 특징으로 옳은 것은? [3점]



- ① 대상 영속성 개념이 형성되기 시작한다.
 ② 체계적이고 조합적인 사고가 가능하다.
 ③ 자기 중심적인 사고에서 벗어나기 시작한다.
 ④ 전체와 부분 간의 관계를 분류하지 못한다.
 ⑤ 상징, 모방 등을 사용하는 표상 능력이 증가한다.

9. 그림 (가)와 (나)에 나타난 청소년기 사고의 특징을 바르게 짚지은 것은?



- | | |
|----------|--------|
| (가) | (나) |
| ① 동조 행동 | 개인적 우화 |
| ② 개인적 우화 | 동조 행동 |
| ③ 개인적 우화 | 상상적 관중 |
| ④ 상상적 관중 | 동조 행동 |
| ⑤ 상상적 관중 | 개인적 우화 |

10. 다음은 인간 발달의 어느 단계에 대한 설명이다. 이 시기의 신체적 특징으로 옳은 것을 <보기>에서 모두 고른 것은?

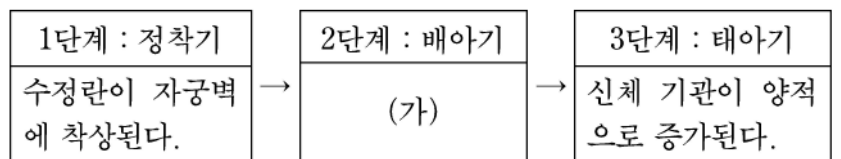
남성과 여성의 성역할 차이가 극대화 된다. 또한 직업인, 배우자, 부모로서의 새로운 역할 변화를 경험하게 된다.

<보 기>

ㄱ. 지구력이 절정에 이른다.
 ㄴ. 성숙의 가속화 현상이 일어난다.
 ㄷ. 병에 걸렸다 하더라도 곧 회복된다.
 ㄹ. 통각과 온도에 대한 감각이 감소된다.

- ① ㄱ, ㄷ ② ㄴ, ㄹ ③ ㄷ, ㄹ
 ④ ㄱ, ㄴ, ㄷ ⑤ ㄱ, ㄴ, ㄹ

11. 다음은 태아의 발달 단계를 나타낸 것이다. (가)에 해당하는 내용을 <보기>에서 고른 것은? [3점]



<보 기>

ㄱ. 태반이 발달하기 시작한다.
 ㄴ. 태아의 성별을 구별할 수 있게 된다.
 ㄷ. 신체 기관이 형성되는 결정적 시기이다.
 ㄹ. 태아의 허파와 중추 신경계가 발달하여 호흡이 가능해진다.

- ① ㄱ, ㄷ ② ㄱ, ㄹ ③ ㄴ, ㄷ ④ ㄴ, ㄹ ⑤ ㄷ, ㄹ

12. 그림은 인간 발달 단계를 나타낸 것이다. 에릭슨의 심리사회성 발달 이론에 의거하여 (가)와 (나)에 해당하는 발달 특질을 <보기>에서 골라 바르게 짝지은 것은? [3점]



<보 기>

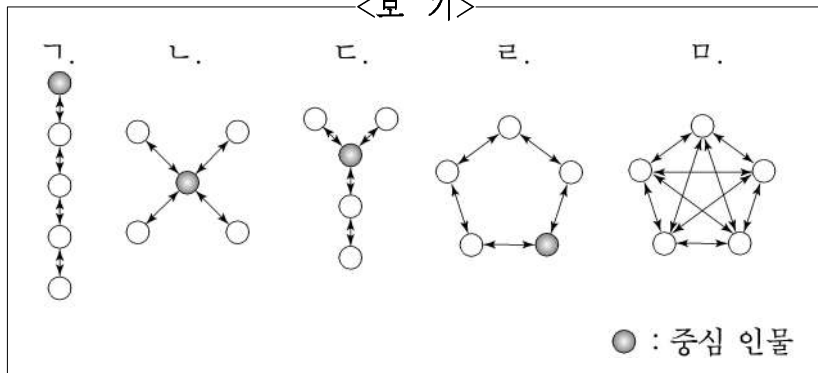
- ㄱ. 또래집단과의 놀이에서 자기 주장과 경쟁을 경험하는 시기이다.
- ㄴ. 근면성을 갖추지 못하면 평생 열등감에 빠지게 되는 시기이다.
- ㄷ. 긍정적 자아와 부정적 자아 간의 갈등을 극복해 가는 시기이다.
- ㄹ. 기본적인 욕구가 충족되지 못하면 불신감을 가지게 되는 시기이다.

	(가)	(나)
①	ㄱ	ㄴ
②	ㄱ	ㄷ
③	ㄴ	ㄷ
④	ㄴ	ㄹ
⑤	ㄷ	ㄹ

13. 다음은 의사소통망의 유형에 관한 내용이다. (가)와 (나)에 해당하는 것을 <보기>에서 골라 바르게 짝지은 것은?

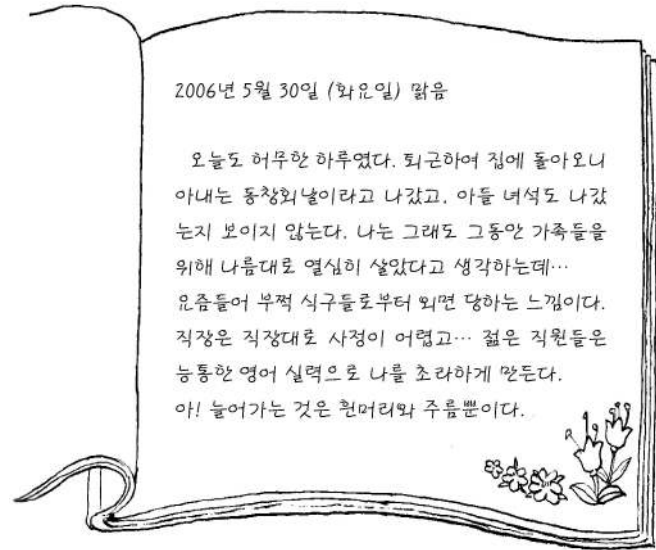
가족마다 독특한 의사소통망이 있다. 과거에 가장 보편적인 의사소통망은 □(가)□ 이었다. 이 유형은 중심이 되는 인물이 가운데 위치하고, 그 밖의 다른 가족원들은 중심 인물을 통해 의사소통을 하는 것이다. 그러나 현대에는 시간과 노력이 많이 요구되기는 하지만 가족 구성원 모두에게 만족을 주는 □(나)□ 으로 변해가고 있다.

<보 기>



	(가)	(나)
①	ㄱ	ㄷ
②	ㄱ	ㅁ
③	ㄴ	ㄹ
④	ㄴ	ㅁ
⑤	ㄷ	ㄹ

14. 다음은 어느 직장 남성이 쓴 일기의 일부이다. 이 시기에 해당하는 남성의 발달적 특질을 <보기>에서 고른 것은? [3점]



<보 기>

- ㄱ. 새로운 직업으로의 전환은 일어나지 않는다.
- ㄴ. 실제적인 문제 해결 능력은 절정에 도달한다.
- ㄷ. 노부모와 자녀 세대에 끼인 샌드위치 입장에 있다.
- ㄹ. 대부분의 직업 분야에서 낮은 직무 수행 능력을 보인다.

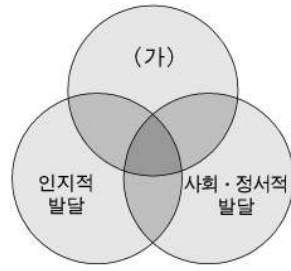
① ㄱ, ㄴ	② ㄱ, ㄷ	③ ㄴ, ㄷ
④ ㄴ, ㄹ	⑤ ㄷ, ㄹ	

15. 다음 설명에 나타난 성역할을 가장 잘 표현한 그림은?

한 개인이 남성적 특성과 여성적 특성을 모두 갖추는 것으로, 이러한 성향을 갖춘 사람들은 상황에 따라 성역할을 융통성 있게 적절히 수행할 수 있다.



16. 그림은 인간 발달을 세 영역으로 분류한 것이다. (가) 영역에 해당하는 내용을 <보기>에서 고른 것은?



<보 기>

- ㉠. 가영이는 작년에 비해 키가 10cm나 컸다.
- ㉡. 철수는 요즘 2차 방정식을 잘 풀게 되었다.
- ㉢. 영철이는 아버지를 닮아 달리기를 잘 한다.
- ㉣. 미진이는 친구들뿐만 아니라 선생님과도 잘 지낸다.

- ① ㉠, ㉡ ② ㉠, ㉢ ③ ㉡, ㉢ ④ ㉡, ㉣ ⑤ ㉢, ㉣

17. 그림에 나타난 노인들의 성격 유형에 대한 설명으로 옳은 것을 <보기>에서 고른 것은? [3점]

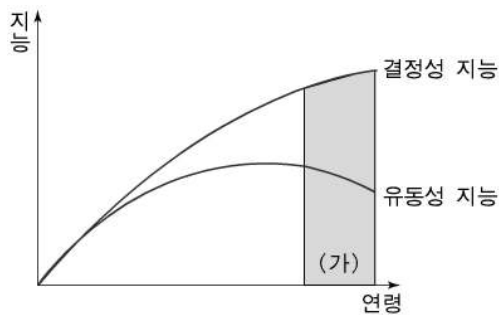


<보 기>

- ㉠. 사회적 활동과 기능을 중단한다.
- ㉡. 자신의 죽음에 대해 두려워한다.
- ㉢. 인생의 실패 원인을 자신에게 돌린다.
- ㉣. 자녀로부터의 경제적 도움을 거부한다.
- ㉤. 노년기의 수동성과 무기력에 저항한다.

- ① ㉠, ㉡ ② ㉠, ㉢ ③ ㉠, ㉣ ④ ㉡, ㉣ ⑤ ㉢, ㉣

18. 그래프는 연령에 따른 지능의 변화를 나타낸 것이다. (가) 시기의 지능과 관련된 설명으로 옳은 것을 <보기>에서 고른 것은? [3점]



<보 기>

- ㉠. 생물학적으로 타고난 지능이 증가한다.
- ㉡. 공간 지각과 추상적 추론 능력이 증가한다.
- ㉢. 새로운 정보를 처리하는 능력이 감퇴한다.
- ㉣. 어휘력, 단어 연상 능력, 일반 상식 등이 증가한다.

- ① ㉠, ㉡ ② ㉠, ㉢ ③ ㉡, ㉢ ④ ㉡, ㉣ ⑤ ㉢, ㉣

19. 그림에 나타난 언어적 표현으로 보아 이 시기에 해당하는 아이의 사고 특징을 <보기>에서 고른 것은? [3점]



<보 기>

- ㉠. 상징놀이를 한다.
- ㉡. 물활론적 사고를 한다.
- ㉢. 타인의 입장에서 원인과 결과를 해석한다.
- ㉣. 모든 물건은 사람을 위해서 만들어졌다고 믿는다.
- ㉤. 사물이나 사건을 크기 순서대로 배열하는 능력이 있다.

- ① ㉠, ㉡, ㉢ ② ㉠, ㉢, ㉣ ③ ㉠, ㉢, ㉤
④ ㉡, ㉣, ㉤ ⑤ ㉢, ㉣, ㉤

20. 다음은 학부모가 선생님께 보낸 편지의 일부이다. 학부모의 생각과 같은 학자와 이론을 바르게 짝지은 것은?

선생님, 안녕하세요?
저는 희은이 엄마입니다. 다름이 아니라 희은이는 지금 1학년인데 선생님께서 2학년 교재로 지도하신다고 하기에 걱정되어 편지를 드리게 되었습니다.
제 생각에는 아이들이란 그 시기에 맞는 발달을 하기 때문에 그보다 상위 수준의 내용을 가르친다 해도 큰 효과가 없으며, 때가 되면 자연적으로 상위 수준에 도달할 것으로 보입니다.
... <중략> ...
희은이 엄마 올림

- | 학자 | 이론 |
|-------|---------|
| ① 계절 | 성숙 이론 |
| ② 계절 | 학습 이론 |
| ③ 왓슨 | 학습 이론 |
| ④ 매슬로 | 성숙 이론 |
| ⑤ 매슬로 | 인본주의 이론 |

* 확인 사항
◦ 답안지의 해당란에 필요한 내용을 정확히 기입(표기)했는지 확인 하시오.