

제 4 교시

직업탐구 영역(회계원리)

성명 수험 번호

1. 다음은 [거래]를 [거래 요소의 결합 관계]로 나타낸 것이다. (가), (나)에 들어갈 내용으로 옳은 것은?

[거래]
○ 장부금액 ₩300,000의 업무용 토지를 ₩450,000에 처분하고 대금은 현금으로 받다.

[거래 요소의 결합 관계]

차변 요소	대변 요소
(가)	(나)
	수익의 발생

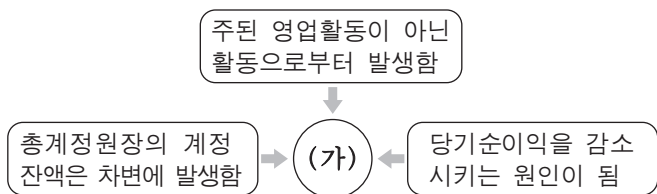
- | | |
|----------|--------|
| (가) | (나) |
| ① 부채의 감소 | 부채의 증가 |
| ② 부채의 감소 | 자산의 감소 |
| ③ 자본의 감소 | 자본의 증가 |
| ④ 자산의 증가 | 부채의 증가 |
| ⑤ 자산의 증가 | 자산의 감소 |

2. 다음 기사에서 △△(주)가 절감한 비용 계정과목으로 옳은 것은?

지난 6월 21일 전 국민이 참여해 사상 처음으로 정전 대비 훈련을 실시하여 10분 만에 548만 kW의 전력 수요가 줄었다. 이 훈련에 참여한 △△(주)의 사장은 “우리 회사는 전기 절약형 고효율 기기의 사용 등을 통해 전기 요금을 절감하여 회사의 영업 수지 개선에 도움이 되고 있다.”고 하였다.
- ○○신문, 2012년 6월 26일자 -

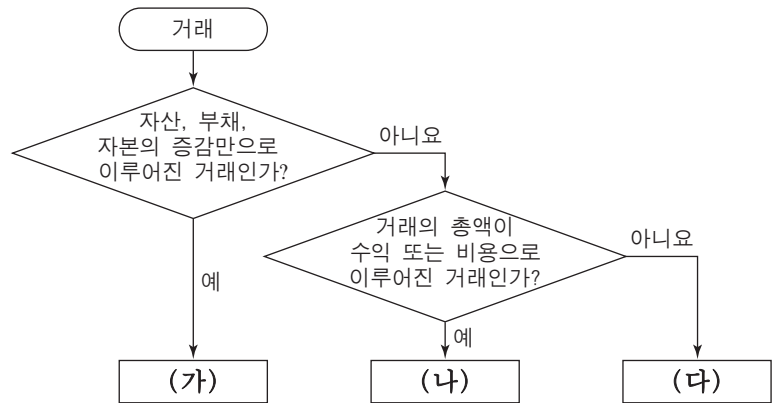
- | | | |
|---------|---------|--------|
| ① 기부금 | ② 운반비 | ③ 소모품비 |
| ④ 수도광열비 | ⑤ 여비교통비 | |

3. 다음 내용을 모두 포함하는 (가)의 계정과목이 나타나는 거래로 옳은 것은?



- ① 종업원 급여 ₩2,000,000을 현금으로 지급하다.
- ② 사무실 전화 요금 ₩30,000을 현금으로 납부하다.
- ③ 업무용 차량의 자동차세 ₩50,000을 현금으로 납부하다.
- ④ 단기차입금에 대한 이자 ₩100,000을 현금으로 지급하다.
- ⑤ 거래처 직원 접대를 위한 식대 ₩20,000을 현금으로 지급하다.

4. 다음은 거래의 종류를 구분하기 위한 순서도이다. (가)~(다)에 들어갈 내용으로 옳은 것은?



- | | | |
|--------|------|------|
| (가) | (나) | (다) |
| ① 혼합거래 | 손익거래 | 교환거래 |
| ② 혼합거래 | 교환거래 | 손익거래 |
| ③ 손익거래 | 교환거래 | 혼합거래 |
| ④ 교환거래 | 혼합거래 | 손익거래 |
| ⑤ 교환거래 | 손익거래 | 혼합거래 |

5. 다음은 ○○(주)의 2011년 업무용 건물에 대한 [거래]와 [총계정원장]의 일부이다. 이를 통해 알 수 있는 내용으로 옳은 것은? (단, 회계기간은 1월 1일부터 12월 31일까지이며, 제시된 자료 외에는 고려하지 않는다.) [3점]

[거래]
○ 1월 1일: 업무용 건물을 ₩5,000,000에 구입하고 대금은 중개 수수료 ₩100,000과 함께 당좌수표를 발행하여 지급하다.
(내용연수 10년, 잔존가치 ₩500,000)
○ 12월 31일: 결산 시 위 건물에 대한 감가상각비를 계상하다.

[총계정원장]

건물감가상각누계액			
12/31 차기이월	460,000	12/31 × × ×	460,000

- ① 감가상각 방법은 정액법이다.
- ② 건물의 취득원가는 ₩5,000,000이다.
- ③ 감가상각비의 기장 방법은 직접법이다.
- ④ 당기 말 건물의 장부금액은 ₩4,500,000이다.
- ⑤ 당기 분 건물의 감가상각비는 ₩500,000이다.

6. 다음은 개인기업인 ○○상점의 2011년 기초 재무상태표와 [총계정원장]의 일부이다. 이를 통해 알 수 있는 내용으로 옳은 것은? (단, 제시된 자료 외에는 고려하지 않는다.) [3점]

○○상점 자산	금액	부채 및 자본	금액
현금및현금성자산	250,000	매입채무	200,000
매출채권	550,000	장기차입금	300,000
상품	200,000	자본금	500,000
	<u>1,000,000</u>		<u>1,000,000</u>

[총계정원장]

8/20 현금	<u>30,000</u>	12/31 자본금	<u>30,000</u>
---------	---------------	-----------	---------------

12/31 매입	700,000	12/31 매출	900,000
⋮		⋮	
	<u>×××</u>	12/31 자본금	<u>150,000</u>
			<u>×××</u>

- ① 매출원가는 ₩500,000이다.
- ② 매출총이익은 ₩900,000이다.
- ③ 당기순이익은 ₩150,000이다.
- ④ 기말 자본금은 ₩320,000이다.
- ⑤ 기초상품재고액은 ₩700,000이다.

7. 다음은 ○○(주)의 2011년 현금출납장의 일부 및 [금고에 보관 중인 자산 내역]과 이와 관련된 [결산 정리 사항 및 분개]이다. (가)의 금액으로 옳은 것은? (단, 제시된 자료 외에는 고려하지 않는다.) [3점]

월 일	적 요	수 입	지 출	잔 액
12 1	전월이월	50,000		50,000
⋮	⋮	⋮	⋮	⋮
13	외상 매출 대금 회수	100,000		400,000
14	현금 초과액 발견	×××		×××

[금고에 보관 중인 자산 내역]

- 12월 14일 현재
 - 지폐 ₩150,000
 - 자기앞수표 ₩80,000
 - 우편환증서 ₩190,000
 - 약속어음(2012년 5월 10일 만기) ₩70,000
 - 환매채(2012년 4월 25일 만기) ₩100,000

[결산 정리 사항 및 분개]

- 12월 31일: 결산 시까지 현금 초과액 전액에 대한 원인이 판명되지 않았다.
(차변) 현금과부족 ××× (대변) 잡이익 (가)

- ① ₩20,000 ② ₩30,000 ③ ₩40,000
- ④ ₩90,000 ⑤ ₩190,000

8. 다음은 ○○(주)의 자금 조달 방안에 관한 이사회 의사록의 일부이다. 의결 사항을 실행하여 회계 처리한 경우 자본 항목의 변화로 옳은 것을 <보기>에서 고른 것은? [3점]

1. 일시: 2012년 4월 10일 16시
2. 장소: 본사 회의실
3. 안건 설비자산 구입을 위한 자금 조달 방안의 건
6. 의결 사항 보통주 10,000주(액면 @₩5,000)를 @₩15,000에 발행하고 납입금 전액은 당좌예입하기로 의결함

<보기>

- ㄱ. 자본금의 증가
- ㄴ. 이익잉여금의 증가
- ㄷ. 자본잉여금의 증가
- ㄹ. 기타포괄손익누계액의 증가

- ① ㄱ, ㄴ ② ㄱ, ㄷ ③ ㄴ, ㄷ ④ ㄴ, ㄹ ⑤ ㄷ, ㄹ

9. 다음은 ○○(주)의 2011년 [기말 상품 재고 관련 자료]와 손익 계산서 일부이다. 이를 통해 매출총이익을 계산한 금액으로 옳은 것은? [3점]

- [기말 상품 재고 관련 자료]
- 장부 재고: 10개 @₩1,000
 - 실제 재고: 10개
 - 순실현가능가치(시가): @₩900

○○(주) 과 목	당 기
매출액	500,000
매출원가	×××
기초상품재고액	20,000
당기상품매입액	360,000
기말상품재고액	(×××)

- ① ₩128,000 ② ₩129,000 ③ ₩130,000
- ④ ₩150,000 ⑤ ₩151,000

10. 다음은 유형자산 취득 후의 지출을 지출 효과에 따라 구분한 것이다. (가), (나)에 해당하는 내용으로 옳은 것은?

구 분	○○○ 지출	△△△ 지출
지출 효과	내용연수 연장 또는 가치 증가	원상회복 또는 현상 유지
사 례	(가)	(나)
회계 처리	유형자산 취득원가에 가산 (건물 등)	당기 비용으로 처리 (수선비 등)

- | | |
|-------------|-----------|
| (가) | (나) |
| ① 건물 증축 | 외벽 페인트 칠 |
| ② 외벽 페인트 칠 | 엘리베이터 설치 |
| ③ 외벽 페인트 칠 | 파손된 유리 교체 |
| ④ 엘리베이터 설치 | 건물 증축 |
| ⑤ 파손된 유리 교체 | 건물 증축 |

11. 다음은 ○○(주)의 2011년 [화재 보험 가입 내역]과 [총계정원장]의 일부이다. 결산 시 보험료에 대한 정리 분개를 할 때 차변 계정과목과 금액으로 옳은 것은? (단, 회계기간은 1월 1일부터 12월 31일까지이다.) [3점]

[화재 보험 가입 내역]

- 보험 회사: △△보험(주)
- 보험목적물: 본사 건물
- 보험기간: 2011년 5월 1일 ~ 2012년 4월 30일
- 보험료: 1년 분 전액 지급(5월 1일)

[총계정원장]

	보험료
5/ 1	현 금 600,000

- | 차변 계정과목 | 금액 |
|----------|----------|
| ① 보험료 | ₩200,000 |
| ② 보험료 | ₩400,000 |
| ③ 선급보험료 | ₩200,000 |
| ④ 선급보험료 | ₩400,000 |
| ⑤ 미지급보험료 | ₩200,000 |

12. 다음 출금전표의 (가)에 들어갈 계정과목으로 옳은 것은? (단, 상품 매매는 3분법에 의한다.)

출금전표		계	과장	부장	
2012년 7월 10일		(교육)	(과장)	(평가)	
No. 24					
계정과목	(가)	거래처	○○의류		
적요	금액				
판대용 의류 30벌 @₩80,000 매입			2	4	0 0 0 0 0
합계			₩	2	4 0 0 0 0 0

- ① 매입 ② 매출 ③ 비품
 ④ 현금 ⑤ 소모품

13. 다음은 ○○(주)의 영업 실적에 대한 보고 장면이다. 보고 내용과 같은 결과에 영향을 미친 손익계산서 항목의 변화로 옳은 것은? (단, 제시된 자료 외에는 고려하지 않는다.) [3점]

2011년도 영업 실적은 매출액 50억 원으로 전년도와 동일하고, 매출총이익은 18억 원으로 전년도 대비 3억 원이 감소하였으나 영업이익은 10억 원으로 오히려 2억 원이 증가하였습니다.

항목	2010년	2011년
매출액	50	50
매출총이익	21	18
영업이익	8	10

- ① 매출원가의 감소 ② 법인세비용의 감소
 ③ 영업외비용의 증가 ④ 영업외수익의 증가
 ⑤ 판매비와관리비의 감소

14. 다음은 ○○(주)의 2011년 [사채 발행 관련 자료]와 [결산 시 이자 지급 분개] 및 [총계정원장]의 일부이다. 이를 통해 알 수 있는 내용으로 옳은 것만을 <보기>에서 있는 대로 고른 것은? (단, 회계기간은 1월 1일부터 12월 31일까지이다.) [3점]

[사채 발행 관련 자료]

- 사채 발행일: 2011년 1월 1일
- 사채 만기일: 2013년 12월 31일
- 이자 지급일: 12월 31일(연 1회)

[결산 시 이자 지급 분개]

(차변) ××× 11,424	(대변) 현금	10,000
	사채할인발행차금	1,424

[총계정원장]

사채		사채할인발행차금	
12/31 차기이월	100,000	1/ 1 채 좌	100,000
1/ 1 사 채	4,802	12/31 ×××	1,424
		12/31 차기이월	3,378
	4,802		4,802

<보기>

ㄱ. 사채의 액면이자율은 연 10%이다.
 ㄴ. 2011년도 말 사채의 장부금액은 ₩96,622이다.
 ㄷ. 2011년도 결산 시 손익계산서에 계상될 이자비용은 ₩1,424이다.

- ① ㄱ ② ㄷ ③ ㄱ, ㄴ ④ ㄴ, ㄷ ⑤ ㄱ, ㄴ, ㄷ

15. 다음은 결산 절차와 수행 내용의 일부를 나타낸 것이다. (가)에 해당하는 수행 내용으로 옳은 것은?

결산 절차	수행 내용
예비 절차	○ 총계정원장의 합계 및 잔액을 하나의 표로 집계한다. :
(가)	○ 분개장을 마감한다. :
결산 보고서 작성	○ 일정 시점의 재무상태를 파악하기 위하여 재무상태표를 작성한다. :

- ① 기말 상품의 실제 재고액을 조사한다.
 ② 비용과 수익 계정의 잔액을 손익 계정으로 대체한다.
 ③ 각 계정의 잔액을 실제액과 일치하도록 수정 기입한다.
 ④ 일정 기간의 경영성과를 파악하기 위하여 손익계산서를 작성한다.
 ⑤ 일정 기간의 현금흐름 변동 내용을 파악하기 위하여 현금흐름표를 작성한다.

16. 다음은 개인기업인 ○○상점의 오류 수정 전 잔액시산표와 [오류 사항]이다. [오류 사항]을 수정하여 반영한 후의 잔액시산표 차변 합계액으로 옳은 것은?

잔액시산표(수정 전)

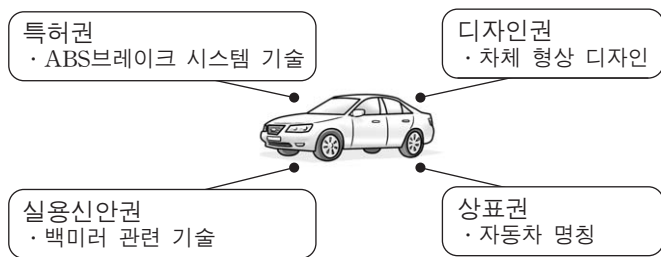
○○상점		2011년 12월 31일		(단위: 원)
차 변	원면	계 정 과 목	대 변	
570,000		현 금		
800,000		외 상 매 출 금		
200,000		상 품		
	생	비 품	20,000	
	략	외 상 매 입 금	450,000	
		미 지 급 금	20,000	
		자 본	600,000	
		상 품 매 출 이 익	350,000	
		금		
100,000		여		
1,670,000			1,440,000	

[오류 사항]

- 비품 ₩20,000을 외상으로 구입하고 비품 계정 대변과 미지급금 계정 대변에 ₩20,000으로 전기하였다.
- 외상매출금 ₩300,000을 현금으로 회수하고 외상매출금 계정 차변에 ₩300,000과 현금 계정 대변에 ₩30,000으로 전기하였다.

- ① ₩1,120,000 ② ₩1,420,000 ③ ₩1,450,000
- ④ ₩1,700,000 ⑤ ₩1,770,000

17. 다음은 ○○자동차(주)가 취득한 무형자산이다. 이를 재무상태표에 통합 표시하는 항목으로 옳은 것은?



- ① 광업권 ② 산업재산권 ③ 임차권리금
- ④ 프랜차이즈 ⑤ 컴퓨터소프트웨어

18. 다음은 유동부채에 속하는 계정과목에 대한 과제 보고서의 일부이다. (가)에 들어갈 계정과목으로 옳은 것은?

과제 보고서

뜻	거래처로부터 상품을 주문 받고 그 상품을 인도하기 전에 대금의 일부를 계약금으로 받은 경우에 회계 처리하는 계정과목이다.
사례	○○(주)는 상품 ₩500,000을 주문 받고 계약금으로 현금 ₩50,000을 받다.
분개	(차변) 현금 50,000 (대변) (가) 50,000

- ① 가수금 ② 선수금 ③ 예수금
- ④ 지급어음 ⑤ 외상매입금

19. 다음은 ○○(주)의 2011년 [단기매매증권 관련 자료]이다. (가), (나)의 금액으로 옳은 것은? (단, 회계기간은 1월 1일부터 12월 31일까지이며, 제시된 자료 외에는 고려하지 않는다.) [3점]

[단기매매증권 관련 자료]

○ 거래

- 6월 12일: 단기 매매 차익을 얻을 목적으로 △△(주)의 주식 100주를 1주당 ₩10,000(액면 @₩5,000)에 취득하고 대금은 당좌수표를 발행하여 지급하다.
- 9월 15일: 보유하고 있던 △△(주)의 주식 60주를 1주당 (가)에 처분하고 대금은 당좌예입하다.

○ 결산 정리 분개

(차변) 단기매매증권 50,000 (대변) 단기투자자산평가이익 50,000

잔액시산표(수정 후)

○○(주)		2011년 12월 31일		(단위: 원)
차 변	원면	계 정 과 목	대 변	
⋮		⋮		
(나)	생	단 기 매 매 증 권		
⋮	략	⋮		
		단기투자자산처분이익	60,000	
		단기투자자산평가이익	50,000	

- | | | | |
|-----------|----------|-----------|----------|
| (가) | (나) | (가) | (나) |
| ① ₩6,000 | ₩450,000 | ② ₩10,000 | ₩400,000 |
| ③ ₩10,000 | ₩450,000 | ④ ₩11,000 | ₩400,000 |
| ⑤ ₩11,000 | ₩450,000 | | |

20. 다음은 ○○(주)의 2011년 외상매출금 관련 [거래]와 [총계정원장]의 일부이다. (가)의 금액으로 옳은 것은? (단, 회계기간은 1월 1일부터 12월 31일까지이며, 제시된 자료 외에는 고려하지 않는다.) [3점]

[거래]

- 10월 24일: 거래처 파산으로 외상매출금 ₩7,000이 대손되다.
- 12월 31일: 결산 시 외상매출금 잔액에 대해 1%의 대손을 예상하다.

[총계정원장]

외상매출금	
⋮	⋮
12/31 차기이월	2,000,000
대손충당금	
⋮	⋮
1/ 1 전기이월	10,000
대손상각비	
12/31 대손충당금 (가)	⋮

- ① ₩7,000 ② ₩10,000 ③ ₩17,000
- ④ ₩20,000 ⑤ ₩27,000

* 확인 사항

- 답안지의 해당란에 필요한 내용을 정확히 기입(표기)했는지 확인하시오.