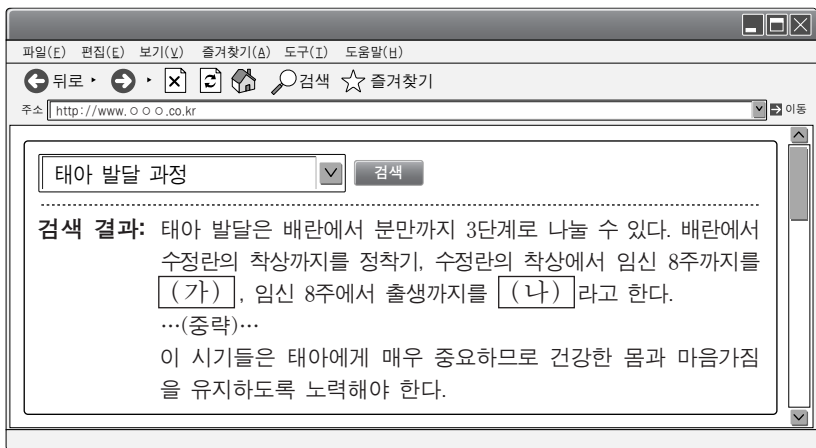


제 4 교시

# 직업탐구 영역(인간발달)

성명  수험 번호

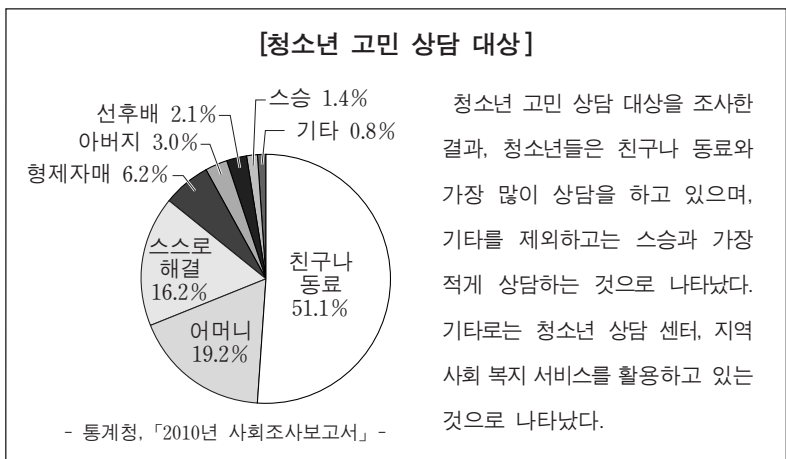
1. 다음은 인터넷 검색 결과이다. (가), (나)의 시기에 해당하는 내용으로 옳은 것을 <보기>에서 고른 것은?



- <보기>
- ㉠. (가)에는 태반이 발달하기 시작한다.
  - ㉡. (가)에는 태아의 피부가 태지로 덮여 있다.
  - ㉢. (나)에는 태아의 신체 기관이 양적으로 급격히 커진다.
  - ㉣. (나)에는 임신 기간 중 환경의 영향을 가장 많이 받는다.

- ① ㉠, ㉡    ② ㉠, ㉢    ③ ㉡, ㉢    ④ ㉡, ㉣    ⑤ ㉢, ㉣

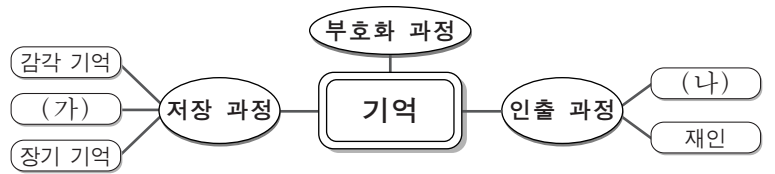
2. 다음 보고서를 통해 알 수 있는 내용으로 옳은 것만을 <보기>에서 있는 대로 고른 것은? (단, 브론펜브레너의 생태학 이론에 근거한다.) [3점]



- <보기>
- ㉠. 상담 대상 중 선후배와 스승은 외체계에 속한다.
  - ㉡. 미시 체계 내에서 어머니와의 상담 비율이 가장 높다.
  - ㉢. 외체계보다 미시 체계를 활용한 상담 비율이 더 높다.

- ① ㉠    ② ㉢    ③ ㉠, ㉡    ④ ㉡, ㉢    ⑤ ㉠, ㉡, ㉢

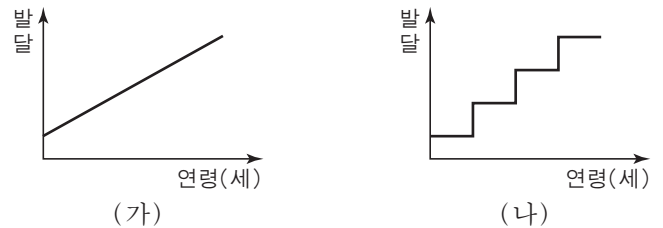
3. 다음은 기억에 관한 마인드맵이다. (가), (나)에 대한 설명으로 옳은 것을 <보기>에서 고른 것은?



- <보기>
- ㉠. (가)는 정보를 조직하는 일시적 단계이다.
  - ㉡. (가)는 중년기 이후에는 감소하지 않는다.
  - ㉢. (나)는 주관식 문제를 풀 때 사용한다.
  - ㉣. (나)는 정보를 기억할 수 있는 형태로 기록하는 것이다.

- ① ㉠, ㉡    ② ㉠, ㉢    ③ ㉡, ㉢    ④ ㉡, ㉣    ⑤ ㉢, ㉣

4. 그래프는 인간 발달에 대한 서로 다른 두 가지 관점을 도식화한 것이다. (가), (나)에 대한 설명으로 옳은 것은? [3점]



- ① (가)는 인간 발달의 비연속성을 강조하고 있다.
- ② (가)는 전성설을 주장하는 학자들과 이론적 관점이 같다.
- ③ (나)는 발달이 관찰과 모방을 통해 이루어진다고 본다.
- ④ (나)를 주장하는 대표적인 학자로는 프로이트와 피아제가 있다.
- ⑤ (가)는 (나)에 비해 유전적 영향의 중요성을 강조한다.

5. 다음 관찰 기록지에 나타난 두 아동의 행동을 통해 알 수 있는 내용으로 옳은 것만을 <보기>에서 있는 대로 고른 것은?

관찰 기록지		관찰일 : 2012. 7. 2.(월)
번호	이름	관찰 행동
1	이은지	<ul style="list-style-type: none"> <li>• 엄마와 떨어지기 전부터 심하게 불안해 하고 엄마가 보이지 않자 울음을 터뜨린다.</li> <li>• 엄마가 돌아와서 안아 주었지만 회를 내며 밀어 내고 쉽게 달래지지 않는다.</li> </ul>
2	조동우	<ul style="list-style-type: none"> <li>• 엄마와 쉽게 헤어지고 금세 선생님 옆에서 장난감을 가지고 논다.</li> <li>• 엄마가 돌아오자 환하게 웃으며 안기고, 갖고 놀던 장난감을 보여 준다.</li> </ul>

- <보기>
- ㉠. 은지는 불안-회피 애착 유형에 속한다.
  - ㉡. 동우는 엄마에게 신뢰감이 형성되었다.
  - ㉢. 은지는 동우에 비해 격리 불안을 더 많이 느끼고 있다.

- ① ㉠    ② ㉡    ③ ㉠, ㉢    ④ ㉡, ㉢    ⑤ ㉠, ㉡, ㉢

6. 다음은 교육 프로그램 계획서이다. (가), (나)에 들어갈 내용으로 가장 적절한 것은?

• 프로그램 명: (가) 남성의 생애 설계  
 • 실시 기간: 2012. 6. 2. ~ 6. 16.  
 • 소요 시간: 회기별 2시간  
 • 회기별 계획

회기	주제	내용
1	건강한 신체, 건강한 정신	• 신체적 변화와 체력 증진 • 우울증의 극복
2	(나)	• 청소년 자녀와의 유대 강화 • 샌드위치 세대의 부담과 대처
3	일과 도전 그리고 성공	• 테크노 스트레스와 직업 재교육 • 직업 전환의 시도

- (가) (나)
- ① 성년기 부모기로의 전환
  - ② 중년기 자원봉사와 자아실현
  - ③ 중년기 행복한 가족관계
  - ④ 노년기 자원봉사와 자아실현
  - ⑤ 노년기 행복한 가족관계

7. 다음은 십자말풀이이다. (가)에 들어갈 내용으로 옳은 것은? [3점]

		B		
	A		C	

[세로 열쇠]  
 A: 어머니의 젓 냄새에 반응하는 신생아의 감각이다.  
 B: 임신 기간이 42주가 지난 출산이다.  
 C: 아기가 생후 초기부터 표현하는 정서로 뚜렷한 개인 차가 있다.

[가로 열쇠]  
 A: \_\_\_\_\_ (가)

- ① 아기가 산도를 통해 빠져 나오는 시기
- ② 산모의 몸이 임신 전의 상태로 회복되는 시기
- ③ 태아 출산 후 태반이 자궁 밖으로 빠져 나오는 시기
- ④ 진통과 함께 자궁 입구가 완전히 열릴 때까지의 시기
- ⑤ 태아가 골반 쪽으로 내려와 태동이 느껴지지 않는 시기

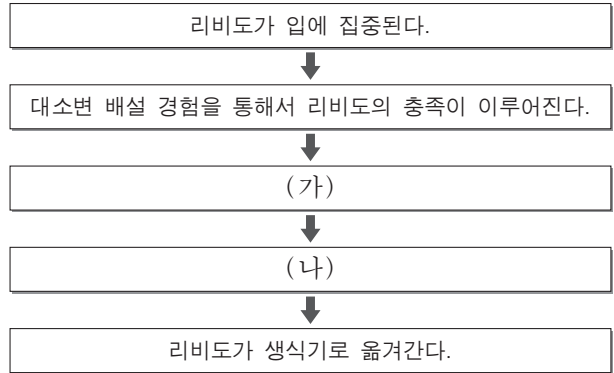
8. 다음은 퇴임사의 일부이다. ㉠~㉣에 나타난 욕구로 옳은 것은? (단, 매슬로의 위계적 욕구 이론에 근거한다.)

**퇴 임 사**

저의 퇴임식에 참석해 주셔서 감사합니다. 제가 직장에서 근무한 지도 어느덧 25년이 지났습니다. 신입 사원 시절에는 ㉠ 저축하여 내 집을 마련 하느라 정신없이 바빴고 ... (중략)... 직장에서 ㉡ 상사에게 인정받고 후배들이 따르는 선배가 되기 위해 부단히 노력해 왔습니다. 이제 시간적 여유가 생겼으니 ㉢ 남을 위한 봉사도 하면서 평소의 꿈이었던 사진작가의 길을 가고 싶습니다.

- ㉠                      ㉡                      ㉢
- ① 생리적 욕구          안전의 욕구          소속의 욕구
  - ② 생리적 욕구          존중의 욕구          안전의 욕구
  - ③ 안전의 욕구          소속의 욕구          존중의 욕구
  - ④ 안전의 욕구          존중의 욕구          자아실현의 욕구
  - ⑤ 존중의 욕구          소속의 욕구          자아실현의 욕구

9. 다음은 프로이트의 심리성적 발달 단계를 나타낸 것이다. (가), (나)의 단계를 에릭슨의 심리사회적 발달 이론에 근거하여 설명한 것으로 옳은 것을 <보기>에서 고른 것은? [3점]



— < 보기 > —

- ㄱ. 자아 갈등을 통해 자신의 정체감을 확립한다.
- ㄴ. 타인을 인정하고 수용하면서 친밀감을 형성한다.
- ㄷ. 환경을 능동적으로 탐색하며 주도성을 확립한다.
- ㄹ. 학업에 열중하고 일생에 필요한 근면성을 형성한다.

- (가)                      (나)
- ① ㄱ                      ㄴ
  - ② ㄴ                      ㄷ
  - ③ ㄴ                      ㄹ
  - ④ ㄷ                      ㄱ
  - ⑤ ㄷ                      ㄴ

10. 그림의 대화에 나타난 가족의 의사소통에 대한 설명으로 적절한 것만을 <보기>에서 있는 대로 고른 것은? [3점]

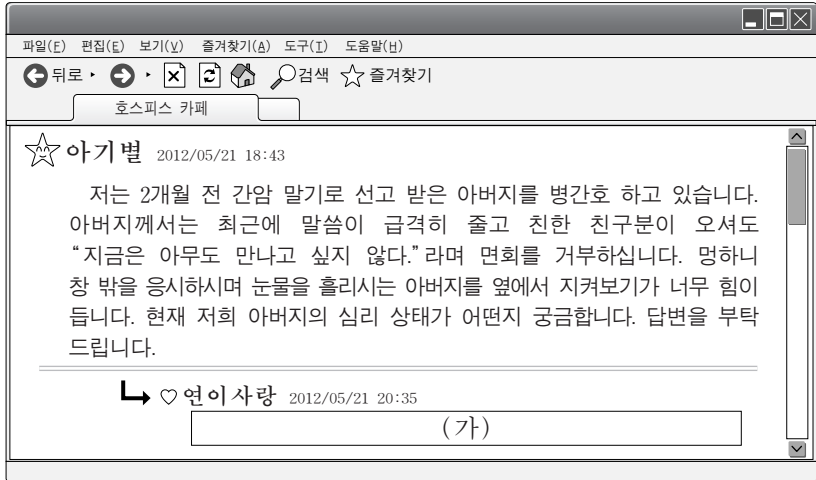


— < 보기 > —

- ㄱ. 아버지는 수평적 의사소통을 하고 있다.
- ㄴ. 어머니는 의사소통에서 중심적인 인물이다.
- ㄷ. 가족원 상호 간에 자유로운 의사소통을 하고 있다.

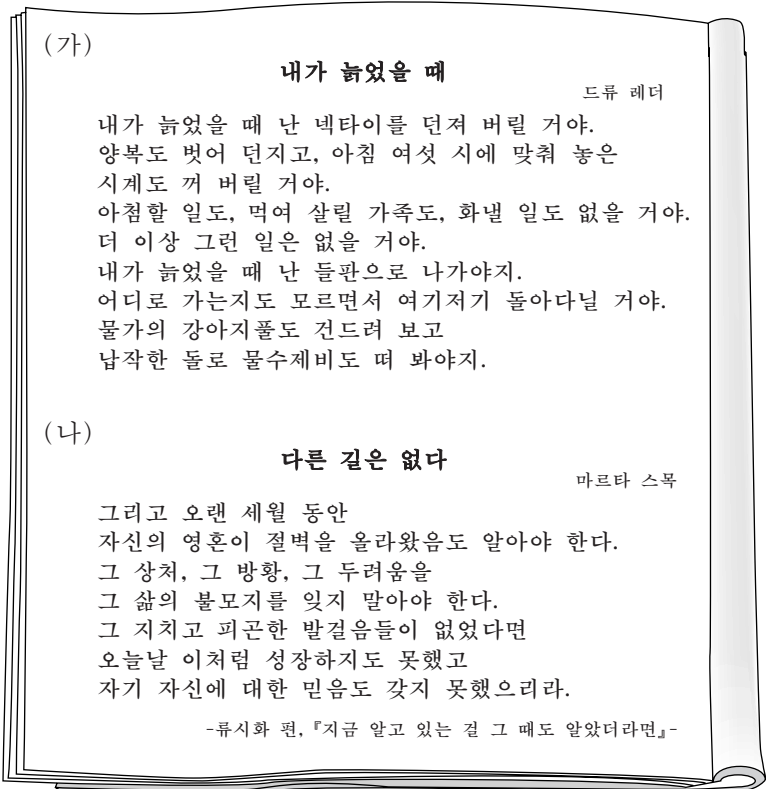
- ① ㄱ                      ② ㄴ                      ③ ㄱ, ㄷ                      ④ ㄴ, ㄷ                      ⑤ ㄱ, ㄴ, ㄷ

11. 다음은 인터넷 카페에 올라온 글이다. 큐블러로스의 죽음 전 심리 변화에 대한 이론에 근거하여 (가)에 들어갈 내용으로 옳은 것은?



- ① 죽음에 대한 생각으로 침울해져서 슬픔을 표현하고 게시네요.
- ② 자신의 죽음을 사실로 받아들이지 않고 거부하고 게시는 거예요.
- ③ 더 오래 살 수 있는 여러 가지 방법을 의논하고 싶어 하실 거예요.
- ④ 사랑하는 사람들과 이별을 준비하며 마음의 정리를 하고 게시네요.
- ⑤ 왜 나에게 이런 일이 일어났는지에 대한 생각으로 화가 나신 거예요.

12. 다음 (가), (나)의 시 구절을 통해 유추할 수 있는 노화 적응 유형으로 가장 적절한 것은?



- |         |        |
|---------|--------|
| (가)     | (나)    |
| ① 성숙형   | 분노형    |
| ② 자학형   | 무장 방어형 |
| ③ 자학형   | 성숙형    |
| ④ 흔들의자형 | 무장 방어형 |
| ⑤ 흔들의자형 | 성숙형    |

13. 다음 대화를 통해 알 수 있는 민수와 영미의 도덕성 발달 수준에 대한 설명으로 옳은 것은? (단, 콜버그의 도덕성 발달 이론에 근거한다.) [3점]



- ① 민수는 개인의 관심에 따라 도덕적 행위를 결정한다.
- ② 민수는 모든 인간의 평등함과 존엄성을 중요시한다.
- ③ 영미는 법보다는 보편적 가치를 추구하려고 한다.
- ④ 영미는 사람들의 기대에 부응하고 인정받으려고 한다.
- ⑤ 민수는 영미에 비해 도덕성 발달 수준이 더 높다.

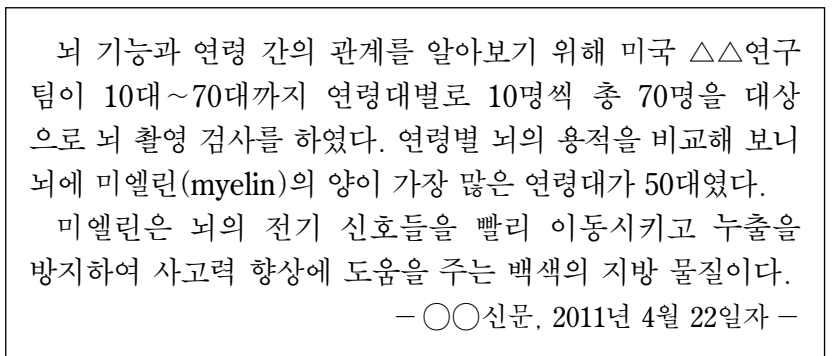
14. 그림에 나타난 사고 특성을 보이는 시기의 아동 발달 특성으로 옳은 것을 <보기>에서 고른 것은?



- <보기> —
- ㄱ. 탈중심화 사고를 한다.
  - ㄴ. 자율적 도덕성이 형성된다.
  - ㄷ. 과잉 일반화 언어를 사용한다.
  - ㄹ. 만족 지연이 나타나기 시작한다.

- ① ㄱ, ㄴ    ② ㄱ, ㄷ    ③ ㄴ, ㄷ    ④ ㄴ, ㄹ    ⑤ ㄷ, ㄹ


15. 다음 기사에 나타난 연구 방법에 대한 설명으로 옳은 것을 <보기>에서 고른 것은? [3점]



- <보기> —
- ㄱ. 개인의 발달 변화를 볼 수 있다.
  - ㄴ. 동시대 출생 집단 효과가 있다.
  - ㄷ. 각 연령 집단 간의 차이를 볼 수 있다.
  - ㄹ. 반복 측정에 따른 연습의 효과가 있다.

- ① ㄱ, ㄴ    ② ㄱ, ㄷ    ③ ㄴ, ㄷ    ④ ㄴ, ㄹ    ⑤ ㄷ, ㄹ

16. 그림에 나타난 언어 특성을 보이는 시기의 아동 발달 특성으로 옳은 것을 <보기>에서 고른 것은?

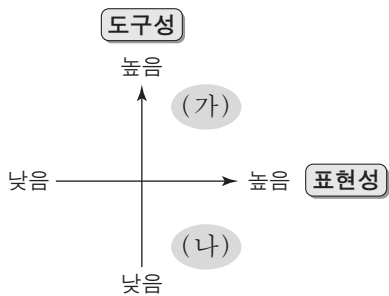


<보기>

- ㄱ. 협동 놀이를 한다.
- ㄴ. 인공론적 사고를 한다.
- ㄷ. 대상 영속성의 개념이 획득된다.
- ㄹ. 감각과 운동을 통해 사고가 발달된다.

- ① ㄱ, ㄴ    ② ㄱ, ㄷ    ③ ㄴ, ㄷ    ④ ㄴ, ㄹ    ⑤ ㄷ, ㄹ

17. 다음은 벰(Bem)의 성 역할 유형을 도식화한 것이다. (가), (나)에 대한 설명으로 옳은 것을 <보기>에서 고른 것은? [3점]



<보기>

- ㄱ. (가)는 주변 환경에 대한 적응력이 높은 유형이다.
- ㄴ. (가) 유형은 남성성과 여성성이 모두 높게 나타난다.
- ㄷ. (나)는 미분화된 유형이다.
- ㄹ. (나) 유형은 독립적이고 자기 주장이 강한 성향을 갖는다.

- ① ㄱ, ㄴ    ② ㄱ, ㄷ    ③ ㄴ, ㄷ    ④ ㄴ, ㄹ    ⑤ ㄷ, ㄹ

18. 다음 일기에서 ㉠, ㉡에 대한 설명으로 옳은 것을 <보기>에서 고른 것은?

2012년 7월 6일 금요일

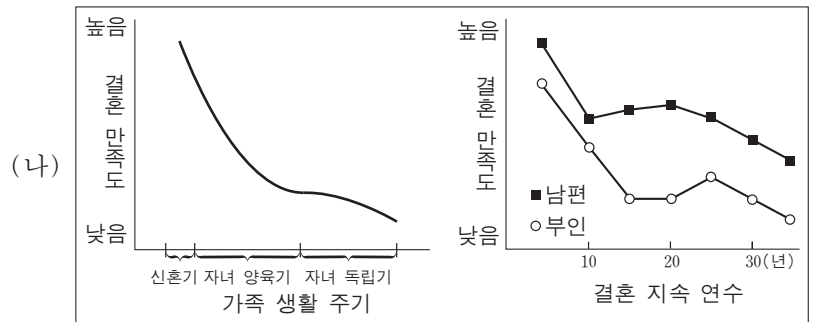
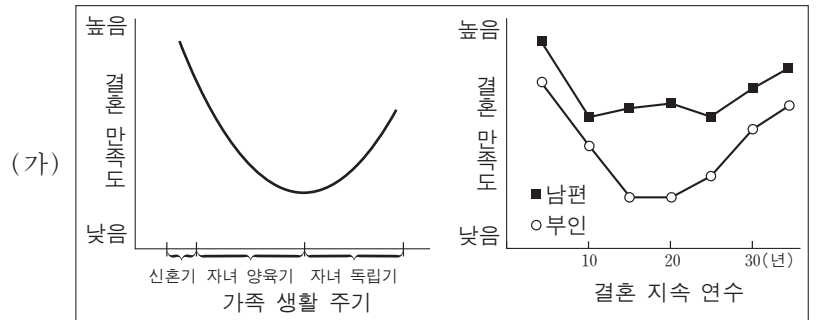
오늘은 태어난 지 3주째 되는 조카를 보러 갔다. 귀여워서 예쁜 입가에 손가락을 대었더니 빨려고 했다. 언니는 조카가 ㉠ 입에 닿는 것은 무엇이든지 빨다고 했다. 작은 손도 예뻐서 ㉡ 손바닥에 내 손가락을 갖다 대니 제법 힘 있게 꼭 쥐고 놓지 않았다. 어디서 그런 힘이 나오는지 신기하기만 했다.

<보기>

- ㄱ. ㉠은 빨기 반사이다.
- ㄴ. ㉠은 생존과 관련 있는 행동이다.
- ㄷ. ㉡은 성장 후 놀람 반사로 대처된다.
- ㄹ. ㉡은 의식적이고 자발적인 행동이다.

- ① ㄱ, ㄴ    ② ㄱ, ㄷ    ③ ㄴ, ㄷ    ④ ㄴ, ㄹ    ⑤ ㄷ, ㄹ

19. 그래프는 서로 다른 결혼 만족도 유형을 도식화한 것이다. (가), (나)에 대한 설명으로 적절한 것만을 <보기>에서 있는 대로 고른 것은? [3점]



<보기>

- ㄱ. (가) 유형은 '빈 둥지 시기' 이후 '제2의 신혼기'를 맞이 한다.
- ㄴ. (나) 유형은 자녀 독립기 이후 부부 간의 위기를 극복한다.
- ㄷ. (가)와 (나)의 유형은 부인이 남편보다 결혼 생활을 더 긍정적으로 여긴다.

- ① ㄱ    ② ㄷ    ③ ㄱ, ㄴ    ④ ㄴ, ㄷ    ⑤ ㄱ, ㄴ, ㄷ

20. 다음은 인지 발달 수준을 알아보기 위한 실험 과정을 나타낸 것이다. [변형 제시] 후 진호의 답변에 대한 근거로 옳은 것을 <보기>에서 고른 것은? [3점]

[최초 제시]	1. 진호 앞에 [최초 제시]와 같이 5개의 바둑알을 두 줄로 놓는다. 2. 두 줄의 바둑알 개수가 같은지 질문한다. 3. 진호는 '같다'고 대답한다.
↓	
[변형 제시]	4. [변형 제시]와 같이 한 줄은 그대로 두고 다른 한 줄은 길게 늘어 놓는다. 5. 두 줄의 바둑알 개수가 같은지 질문한다. 6. 진호는 '다르다'고 대답한다.

<보기>

- ㄱ. 논리적 사고가 가능하기 때문이다.
- ㄴ. 사물을 직관적으로 판단하기 때문이다.
- ㄷ. 가역성의 원리를 이해하고 있기 때문이다.
- ㄹ. 수에 대한 보존 개념을 습득하지 못했기 때문이다.

- ① ㄱ, ㄴ    ② ㄱ, ㄷ    ③ ㄴ, ㄷ    ④ ㄴ, ㄹ    ⑤ ㄷ, ㄹ

\* 확인 사항  
○ 답안지의 해당란에 필요한 내용을 정확히 기입(표기)했는지 확인 하시오.