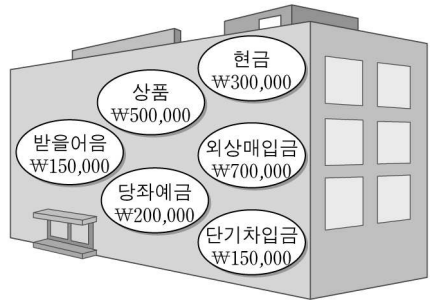


제 4 교시

직업탐구 영역 (회계 원리)

성명 수험 번호

1. 다음은 2009년 12월 31일 ○○(주)의 자산과 부채 상태를 나타낸 것이다. (가)에 해당하는 금액으로 옳은 것은?



대 차 대 조 표
○○(주) 2009년 12월 31일 (단위: 원)

현금및현금성자산	(가)	매입채무	700,000
⋮	⋮	⋮	⋮

*대차대조표는 기업회계기준 수정목록09-2호(2009.2.27.)에서 재무상태표로 수정되었다.
*현금및현금성자산은 기업회계기준서 제21호(2006.12.31. 이후부터 시행)시행 전에는 현금및현금등가물로 표기하였다.

- ① ₩300,000 ② ₩450,000 ③ ₩500,000
- ④ ₩650,000 ⑤ ₩900,000

2. 그림은 ○○(주)가 영업부 직원 야간 근무 식대를 지출하고 수령한 영수증이다. 이를 회계 처리 시 이 거래와 동일한 거래 요소 결합관계를 나타내는 거래로 옳은 것은? (단, 부가가치세는 고려하지 않는다.)



- ① 당월 임차료 ₩50,000을 미지급하다.
- ② 전화요금 ₩120,000을 현금으로 지급하다.
- ③ 대여금에 대한 이자 ₩100,000을 현금으로 받다.
- ④ 비품 ₩300,000을 구입하고 대금은 현금으로 지급하다.
- ⑤ 외상매입금 ₩3,000,000을 약속어음을 발행하여 지급하다.

3. 다음은 식품 지원 협약에 대한 신문기사이다. 이 내용을 △△식품(주)의 입장에서 회계 처리 시 차변 계정과목으로 옳은 것은?

△△식품(주), 푸드뱅크와 식품 무상 지원 협약
△△식품(주)는 최근 한국사회복지협의회 전국 푸드뱅크와 식품 무상 지원 협약을 체결하고 주력 품목 50박스를 지원했다. 이번 협약에 따라 △△식품(주)는 주력 상품들을 전국 푸드뱅크에 정기적으로 지원하게 된다고 밝혔다. 특히 이번 협약을 계기로 지역사회의 복지증진과 더불어 기업의 나눔 문화 확산을 선도한다는 계획이다.
- ○○신문, 2010년 6월 17일자 -

- ① 매출 ② 기부금 ③ 접대비
- ④ 대손상각비 ⑤ 복리후생비

4. 다음은 월드컵 경기 시청률과 광고 효과에 대한 신문기사이다. 밑줄 친 내용이 포함되는 손익계산서 구분 항목에 해당하는 계정과목을 <보기>에서 고른 것은?

남아공월드컵, △△자동차(주) 광고 효과 대박
2010년 남아공월드컵 경기 중 한국 선수의 골인 장면은 시청률 상승을 가져왔다. 이로 인해 골대 뒤에 광고물을 설치한 △△자동차(주)는 홍보물에 지출한 비용에 대비하여 매우 큰 효과를 얻었다.
- ○○신문, 2010년 6월 15일자 -

<보 기>

ㄱ. 이자비용 ㄴ. 복리후생비
ㄷ. 세금과공과 ㄹ. 외화환산손실

- ① ㄱ, ㄴ ② ㄱ, ㄷ ③ ㄴ, ㄷ ④ ㄴ, ㄹ ⑤ ㄷ, ㄹ

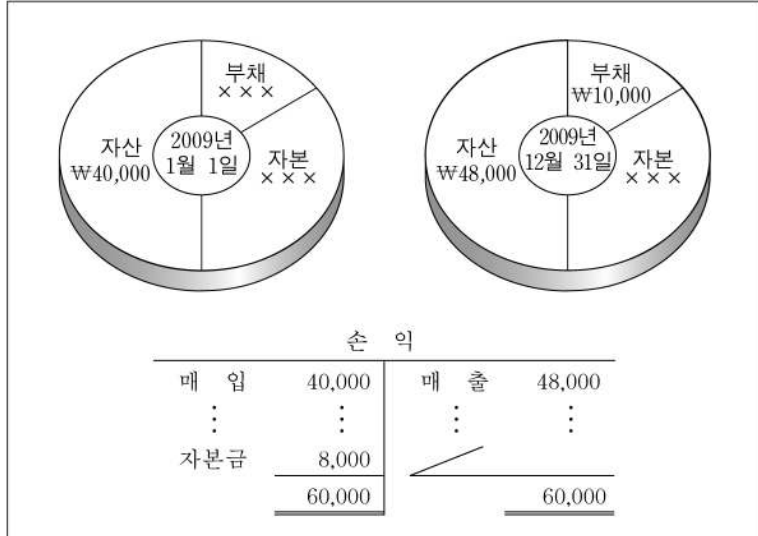
5. 다음은 ○○은행의 정기예금 이율표이다. △△(주)가 A의 예금에 가입한 경우의 회계 처리 시 차변 계정과목으로 옳은 것은?

만 기	이율(연이율, 세 전, 단위 %)
1개월 이상 ~ 3개월 미만	3.00
3개월 이상 ~ 1년 미만	3.30
1년 이상 ~ 2년 미만	3.45
A → 2년 이상 ~ 3년 미만	3.75

*기업회계기준서 제21호(2006.12.31. 이후부터 시행)시행 전에는 장기예금을 장기금융상품으로, 현금및현금성자산을 현금및현금등가물로 표기하였다.

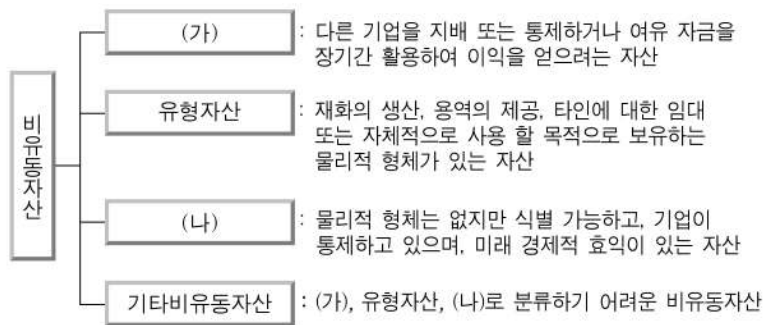
- ① 장기예금 ② 장기대여금 ③ 현금성자산
- ④ 단기매매증권 ⑤ 만기보유증권

6. 다음은 개인기업인 ○○상점의 기초와 기말 재무상태 및 결산 시 손익 계정의 일부이다. 이에 대한 설명으로 옳은 것은? (단, 추가 출자액과 인출금은 없다.) [3점]



- ① 매출원가는 ₩48,000이다.
- ② 당기순손실은 ₩8,000이다.
- ③ 기말 자본은 ₩30,000이다.
- ④ 기초 자본은 ₩32,000이다.
- ⑤ 기초 부채는 ₩10,000이다.

7. 다음은 비유동자산의 분류를 나타낸 것이다. (가), (나)가 포함되어 있는 거래를 <보기>에서 고른 것은? [3점]



※ 비유동자산의 분류에는 기업회계기준서 제21호(2006.12.31. 이후부터 시행)에 의해 기타비유동자산이 추가되었다.

<보 기>

- ㄱ. 영업용 차량을 구입하고 ₩5,000,000을 현금으로 지급하다.
- ㄴ. 투자 목적의 토지를 취득하고 ₩2,000,000을 현금으로 지급하다.
- ㄷ. 게임 개발 특허권을 취득하고 ₩10,000,000을 현금으로 지급하다.
- ㄹ. 보험회사로부터 화재 보험금 ₩5,000,000을 보상하겠다는 통지를 받다.

- | | | | | | |
|---|-----|-----|---|-----|-----|
| | (가) | (나) | | (가) | (나) |
| ① | ㄱ | ㄴ | ② | ㄱ | ㄷ |
| ③ | ㄴ | ㄷ | ④ | ㄴ | ㄹ |
| ⑤ | ㄷ | ㄹ | | | |

8. 다음은 ○○(주)가 2009년 12월 31일 △△상점의 재무상태를 평가 반영하여 인수한 시점의 대차대조표와 [인수 대금 결제 자료]이다. 이를 회계 처리한 결과로 옳은 것은? [3점]

대 차 대 조 표

△△상점 2009년 12월 31일 (단위 : 원)

과 목	금 액	과 목	금 액
현금및현금성자산	500,000	매 입 채 무	4,000,000
단 기 대 여 금	2,000,000	자 본 금	1,500,000
건 물	3,000,000		
	5,500,000		5,500,000

[인수 대금 결제 자료]
△△상점을 ₩2,000,000에 인수하고 대금은 당좌수표를 발행하여 지급하다.

※ 대차대조표는 기업회계기준 수정목록09-2호(2009.2.27.)에서 재무상태표로 수정되었다.
※ 현금및현금성자산은 기업회계기준서 제21호(2006.12.31. 이후부터 시행)시행 전에는 현금및현금등가물로 표기하였다.

- ① 무형자산이 증가했다.
- ② 유동부채가 감소했다.
- ③ 유형자산이 감소했다.
- ④ 비유동부채가 증가했다.
- ⑤ 비유동자산이 감소했다.

9. 다음은 재무제표에 대한 대화이다. (가)를 통해서 알 수 있는 회계 정보로 옳은 것은?

선생님 : 재무제표의 종류에는 무엇이 있나요?
 상 원 : 대차대조표, 손익계산서 그리고 자본변동표가 있습니다.
 예 슬 : 현금흐름표, 이익잉여금처분계산서와 주석도 포함합니다.
 선생님 : 모두 맞았습니다. 그럼, 수익과 비용 항목으로 구성되어 있는 재무제표는 무엇인가요?
 선 진 : (가)입니다.
 선생님 : 정답입니다.

※ 대차대조표는 기업회계기준 수정목록09-2호(2009.2.27.)에서 재무상태표로 수정되었다.
 ※ 재무제표의 종류는 기업회계기준서 제21호(2006.12.31. 이후부터 시행)에 의하여 자본변동표가 추가되고 주기는 삭제되었다.

- ① 자본의 변동 상태
- ② 현금의 흐름 상태
- ③ 일정 시점의 재무상태
- ④ 일정 기간의 경영성과
- ⑤ 이익잉여금의 처분 사항

10. 다음은 결산 보고에 대한 대화와 [결산 정리 누락 사항]이다. 이를 반영하여 계산한 후의 당기순이익으로 옳은 것은? [3점]

신 과장 : 장 대리님, 제출한 결산보고서를 살펴보니, 손익계산서에 당기순이익이 70,000원으로 표시되어 있는데, 누락된 결산 정리 사항이 발견되었습니다.
 장 대리 : 예, 수정하도록 하겠습니다.

[결산 정리 누락 사항]
 임대료 미수액 ₩20,000
 광고선전비 미지급액 ₩5,000

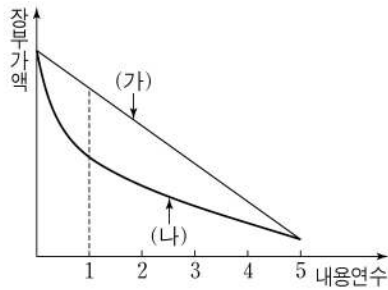
- ① ₩45,000
- ② ₩70,000
- ③ ₩85,000
- ④ ₩90,000
- ⑤ ₩95,000

11. 다음은 ○○(주)의 건물 신축과 관련된 내용이다. 2010년 9월 1일 회계 처리로 옳은 것은? (단, 중도금 지급은 없다.)

2010년 3월 1일	2010년 9월 1일
 <p>건물공사 계약금으로 현금 ₩30,000,000을 지급하고 회계 처리함.</p>	 <p>건물 완공 후 잔금 ₩270,000,000을 자기앞수표로 지급함.</p>

- | | |
|------------------|--------------------|
| <u>차 변</u> | <u>대 변</u> |
| ① 건물 270,000,000 | 현금 270,000,000 |
| ② 건물 270,000,000 | 당좌예금 270,000,000 |
| ③ 건물 270,000,000 | 건설중인자산 270,000,000 |
| ④ 건물 300,000,000 | 현금 270,000,000 |
| | 건설중인자산 30,000,000 |
| ⑤ 건물 300,000,000 | 당좌예금 270,000,000 |
| | 건설중인자산 30,000,000 |

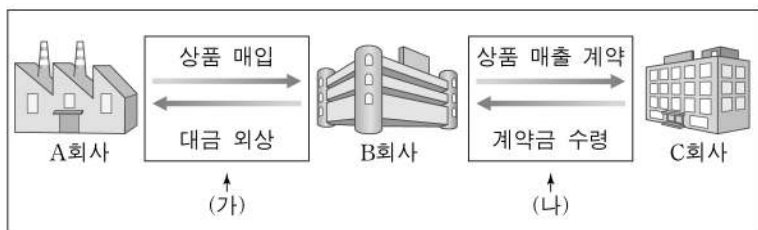
12. 그래프는 사무용 컴퓨터의 감가상각 방법별 시간 경과에 따른 장부가액 변화를 나타낸 것이다. 취득 후 1차년도 기말에 (가), (나)의 방법에 의해 회계 처리 시 나타나는 결과로 옳은 것만을 <보기>에서 있는 대로 고른 것은? (단, 감가상각 회계 처리 가장 방법은 간접법, 잔존가치는 존재한다.) [3점]



- <보 기>
- ㄱ. (가)는 (나)보다 감가상각누계액이 더 적다.
 ㄴ. (가)는 (나)보다 판매비와관리비가 더 적다.
 ㄷ. (가)는 (나)보다 감가상각 대상금액이 더 적다.

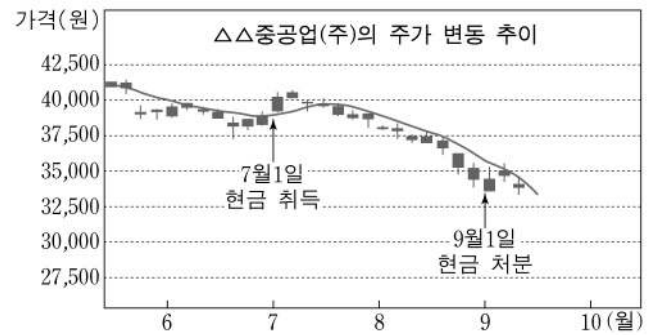
- ① ㄱ ② ㄷ ③ ㄱ, ㄴ ④ ㄴ, ㄷ ⑤ ㄱ, ㄴ, ㄷ

13. 그림은 상품 거래 흐름을 나타낸 것이다. B회사의 입장에서 (가), (나)를 회계 처리 시 대변 계정과목으로 옳은 것은?



- | | |
|------------|------------|
| <u>(가)</u> | <u>(나)</u> |
| ① 미지급금 | 선급금 |
| ② 미지급금 | 선수금 |
| ③ 외상매입금 | 가수금 |
| ④ 외상매입금 | 선급금 |
| ⑤ 외상매입금 | 선수금 |

14. 그래프는 ○○전자(주)가 단기 매매 차익을 얻기 위하여 취득한 △△중공업(주)의 주가 변동 추이를 나타낸 것이다. 처분 시점에서 회계 처리한 결과로 옳은 것은? (단, 취득한 주식은 매수와 매도가 적극적으로 빈번하게 이루어진다.) [3점]



- ① 재고자산이 감소하였다.
 ② 당좌자산이 감소하였다.
 ③ 유동부채가 증가하였다.
 ④ 영업외비용이 감소하였다.
 ⑤ 판매비와관리비가 증가하였다.

15. 다음은 ○○(주)의 사채 상환 관련 업무보고서 일부이다. (A)에 들어갈 내용으로 옳은 것은? (단, 사채는 전액 상환이며, 상환 수수료는 없다.) [3점]

업 무 보 고 서

제 목 사채 상환에 관한 보고

1. 2009년 업무계획(2009.12.01.)에 의거
 2. 다음과 같이 사채를 매입하여 상환하였습니다.

— 다 음 —

가. 일 시 : 2009년 12월 31일

나. 사채 상환 내역

- 액면 금액 : ₩10,000,000
- 만 기 일 : 2011년 12월 31일
- 상환 금액 : ₩9,500,000
- 상환 방법 : 매입 상환
- 사채할인발행차금 상각 후 잔액 : ₩600,000
(단, 사채발행비는 ₩100,000이었다.)
- 대금 지급 : 당좌수표를 발행하여 지급

다. 사채 상환 결과

- 사채의 상환으로 (A)

* 기타포괄손익누계액은 기업회계기준서 제21호(2006.12.31. 이후부터 시행)에 의해 추가되었다.

- ① 유동자산이 증가하였다.
 ② 기타포괄손익누계액이 발생하였다.
 ③ 비유동부채 ₩8,800,000이 감소하였다.
 ④ 사채상환손실 ₩100,000이 발생하였다.
 ⑤ 사채상환이익 ₩500,000이 발생하였다.

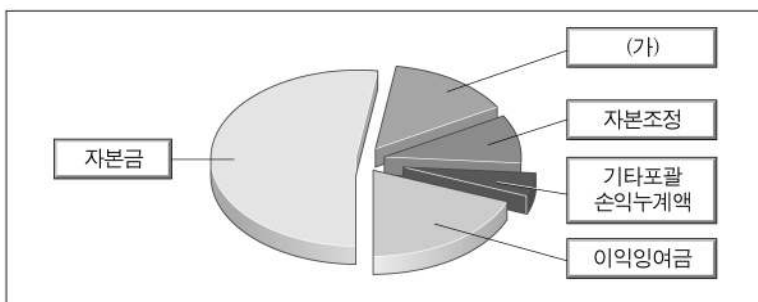
16. 다음은 A상품만 취급하는 ○○(주)의 상품재고장과 매출장이다. 8월의 상품매출이익을 계산한 것으로 옳은 것은? [3점]

2010년		적요		인 수			인 도			잔 액		
월	일	수량	단가	금액	수량	단가	금액	수량	단가	금액		
8	1	전월이월	20	5,000	100,000			20	5,000	100,000		
	5	매 입	30	6,000	180,000			20	5,000	100,000		
	10	매 입	50	6,000	300,000			30	6,000	180,000		
	15	매 출				xxx	xxx	xxx				
	31	차월이월				xxx	xxx	xxx	xxx	xxx		
9	1	전월이월	xxx	xxx	xxx			xxx	xxx	xxx		

2010년		적 요		금 액	
8	15	(△△상점) 외 상			500,000
		A상품 50개 @₩10,000			
	20	(△△상점) 에누리			50,000
	31	총 매출액			xxx
	31	매출에누리			xxx
	31	순 매출액			xxx

- ① ₩170,000 ② ₩280,000 ③ ₩300,000
- ④ ₩450,000 ⑤ ₩580,000

17. 그래프는 주식회사의 자본 분류를 나타낸 것이다. (가)에 대한 설명으로 옳은 것은? [3점]



※ 자본의 분류에는 기업회계기준서 제21호(2006.12.31. 이후부터 시행)에 의해 기타포괄손익누계액이 추가되었다.

- ① 주식할인발행차금, 자기주식 등이 해당된다.
- ② 자본 거래를 원천으로 하여 발생한 잉여금이다.
- ③ 1주당 액면금액에 발행주식수를 곱한 금액이다.
- ④ 상법의 규정에 따라 자본금의 1/2에 달할 때까지 적립한다.
- ⑤ 기업의 영업활동으로 인해 발생한 이익을 사내에 유보한 금액이다.

18. 다음은 △△(주)의 경영 실적에 대한 신문기사이다. (가)에 해당하는 계정과목과 (나)에 해당하는 손익계산서 구분 항목으로 옳은 것은? (단, 법인세와 중단사업손익은 고려하지 않는다.)

△△(주)의 전년도 매출액과 영업이익은 각각 34억 원, 9억 원을 기록했지만 당기순손실은 2억 원을 나타냈다. 이는 (가)의 영향으로 (나)이 증가하였기 때문이다.
- ○○신문, 2010년 6월 15일자 -

- | | | |
|---|----------|---------|
| | (가) | (나) |
| ① | 대손상각비 | 매출원가 |
| ② | 대손상각비 | 영업외비용 |
| ③ | 대손상각비 | 판매비와관리비 |
| ④ | 유형자산처분손실 | 영업외비용 |
| ⑤ | 유형자산처분손실 | 판매비와관리비 |

19. 다음은 ○○(주)의 보험료와 선급보험료 계정이다. 이에 대한 설명으로 옳은 것만을 <보기>에서 있는 대로 고른 것은? (단, 결산일은 12월 31일이다.) [3점]

보 험 료					
9/1	현 금	100,000	12/31	선급보험료	40,000

선급보험료				
12/31	보 험 료	40,000		

- <보 기>
- ㄱ. 미경과 보험료는 ₩40,000이다.
 - ㄴ. 선급보험료 계정은 손익으로 마감한다.
 - ㄷ. 결산 정리 분개는 (차변)선급보험료 40,000 (대변)보험료 40,000이다.
- ① ㄱ ② ㄴ ③ ㄱ, ㄷ ④ ㄴ, ㄷ ⑤ ㄱ, ㄴ, ㄷ

20. 다음은 ○○(주)의 7월 중 거래에 대한 약식 전표이다. 2010년 7월 31일의 외상매출금 잔액으로 옳은 것은? (단, 외상매출금 월초 잔액은 없다.)

대 체 전 표			
2010년 7월 1일			
외상매출금	500,000	매 출	500,000

대 체 전 표			
2010년 7월 10일			
받을어음	300,000	외상매출금	300,000

입 금 전 표	
2010년 7월 17일	
외상매출금	100,000

- ① ₩100,000 ② ₩200,000 ③ ₩300,000
- ④ ₩400,000 ⑤ ₩500,000

* 확인 사항
○ 답안지의 해당란에 필요한 내용을 정확히 기입(표기)했는지 확인 하시오.