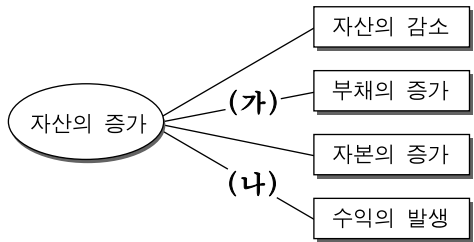


제 4 교시

직업탐구 영역(회계원리)

성명 수험번호

1. 다음 거래 요소의 결합 관계에서 (가), (나)에 해당하는 거래로 옳은 것을 <보기>에서 고른 것은?



<보기>

- ㄱ. 업무용 토지 ₩5,000,000을 현금으로 구입하다.
- ㄴ. 현금 ₩300,000을 2년 후 상환 조건으로 차입하다.
- ㄷ. 건물에 대한 보험료 ₩40,000을 현금으로 지급하다.
- ㄹ. 단기대여금에 대한 이자 ₩10,000을 현금으로 받다.

- | | | |
|---|-----|-----|
| | (가) | (나) |
| ① | ㄱ | ㄴ |
| ② | ㄱ | ㄷ |
| ③ | ㄴ | ㄷ |
| ④ | ㄴ | ㄹ |
| ⑤ | ㄷ | ㄹ |

2. 그림의 대화에 나타난 내용을 회계 처리할 때 (가)에 해당하는 계정과목으로 옳은 것은? [3점]



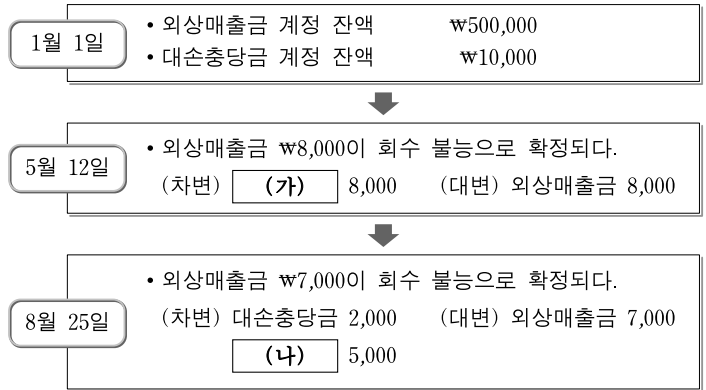
- ① 재해손실 ② 감가상각비 ③ 대손상각비
- ④ 유형자산처분손실 ⑤ 투자자산처분손실

3. 다음은 ○○상점과 관련한 보통예금의 입금과 출금 내역이다. A의 내역을 회계 처리할 때 차변 계정과목으로 옳은 것은?

거래하신 내용(예금 및 대출)					△△은행	
차	거래일	내 용	찾으신금액	맡기신금액	남은금액	처리점
			748301-01-*****		*4,662,640	
	20110613	결산이자		*2,250	*4,664,890	
	20110613	이자세금	*340		*4,664,550	
	20110613	예약이체	홍길동	*20,000	*4,684,550	
	20110620	인터넷이체	전기요금 *80,000		*4,604,550	
	20110620	인터넷이체	수도요금 *60,000		*4,544,550	

- ① 운반비 ② 통신비 ③ 보험료
- ④ 수선비 ⑤ 수도광열비

4. 다음은 (주)○○의 2011년 외상매출금 대손에 대한 회계 처리 내용이다. (가), (나)의 계정과목으로 옳은 것은? (단, 회계기간은 1월 1일부터 12월 31일까지이다.)



- | | |
|-----------|---------|
| (가) | (나) |
| ① 대손충당금 | 대손상각비 |
| ② 대손충당금 | 대손충당금환입 |
| ③ 대손상각비 | 대손상각비 |
| ④ 대손상각비 | 대손충당금환입 |
| ⑤ 대손충당금환입 | 대손상각비 |

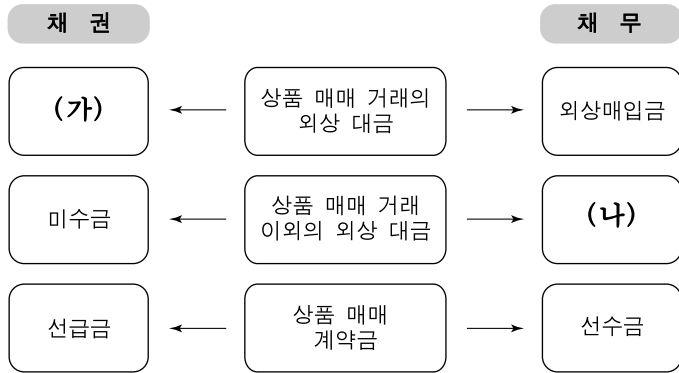
5. 다음은 ○○상점의 임차료 지급과 관련된 자료이다. 2010년 결산 수정 분개 시 선급임차료 금액으로 옳은 것은? (단, 회계기간은 1월 1일부터 12월 31일까지이다.)

○ 2010년 9월 1일
임차료 1년분 ₩120,000을 현금으로 지급하다.
(차변) 임차료 120,000 (대변) 현금 120,000

← 2010년 →				← 2011년 →							
9월	10월	11월	12월	1월	2월	3월	4월	5월	6월	7월	8월

- ① ₩30,000 ② ₩40,000 ③ ₩80,000
- ④ ₩90,000 ⑤ ₩120,000

6. 그림은 채권과 채무에 관련된 계정과목을 발생 원인에 따라 분류한 것이다. (가), (나)의 계정과목이 나타나는 거래로 옳은 것을 <보기>에서 고른 것은? [3점]



— <보기> —

ㄱ. 비품 ₩50,000을 현금으로 구입하다.
 ㄴ. 상품 ₩300,000을 외상으로 매출하다.
 ㄷ. 상품을 주문하고 계약금으로 현금 ₩100,000을 지급하다.
 ㄹ. 비품 ₩500,000을 구입하고 대금은 월말에 지급하기로 하다.

- | | | | | | |
|---|-----|-----|---|-----|-----|
| | (가) | (나) | | (가) | (나) |
| ① | ㄱ | ㄴ | ② | ㄱ | ㄷ |
| ③ | ㄴ | ㄷ | ④ | ㄴ | ㄹ |
| ⑤ | ㄷ | ㄹ | | | |

7. 다음은 결산 시 [상품 관련 계정]과 [추가 자료]이다. 이를 통해 알 수 있는 내용으로 옳은 것을 <보기>에서 고른 것은? (단, 상품의 회계 처리는 3분법이며, 제시된 자료 외에는 고려하지 않는다.) [3점]

[상품 관련 계정]			
이월상품			
1/ 1	전기이월	200,000	
매 입			
5/ 8	외상매입금	1,000,000	5/ 9 외상매입금 100,000
11/20	현 금	500,000	
매 출			
12/23	외상매출금	200,000	12/22 외상매출금 3,000,000
[추가 자료]			
○ 기말상품재고액 ₩300,000			


— <보기> —

ㄱ. 매출원가는 ₩1,700,000이다.
 ㄴ. 순매출액은 ₩2,800,000이다.
 ㄷ. 5월 8일의 거래는 상품 ₩1,000,000을 외상으로 매입한 것이다.
 ㄹ. 12월 23일의 거래는 상품 ₩200,000을 외상으로 매출한 것이다.

- | | | |
|--------|--------|--------|
| ① ㄱ, ㄴ | ② ㄱ, ㄷ | ③ ㄴ, ㄷ |
| ④ ㄴ, ㄹ | ⑤ ㄷ, ㄹ | |

8. 다음 기사에서 (주)△△가 지출한 비용 계정과목으로 옳은 것은?

아웃도어 시장 급성장



최근 아웃도어 시장 규모가 확대되면서 업체별 광고 경쟁도 치열해지고 있다. 이에 따라 (주)△△는 방송 매체 등을 통해 많은 광고비를 지출하고 있다. 유통업계 관계자는 “이러한 광고비 지출로 인해 일시적으로 비용은 증가하겠지만, 소비자 인지도를 높이기 위한 마케팅 전략으로 효과적이다.”라고 말했다.

— ○○신문, 2011년 5월 30일자 —

- | | | |
|---------|---------|---------|
| ① 기부금 | ② 접대비 | ③ 복리후생비 |
| ④ 세금과공과 | ⑤ 광고선전비 | |

9. 다음은 회계 정보 이용자에 따라 회계를 분류한 것이다. (가)와 관련된 설명으로 옳은 것만을 <보기>에서 있는 대로 고른 것은?

구분	(가)	관리회계	세무회계
보고 대상	주주, 채권자, 투자자 등	경영자 등	정부 기관 (국세청 등)
보고 수단	재무제표 등	제한 없음	세법에 규정된 양식

— <보기> —

ㄱ. 일정 기간의 경영성과를 보고하기 위하여 손익계산서를 작성한다.
 ㄴ. 일정 시점의 재무상태를 보고하기 위하여 재무상태표를 작성한다.
 ㄷ. 기업의 외부 회계 정보 이용자에게 유용한 정보 제공을 목적으로 한다.

- ① ㄱ ② ㄴ ③ ㄱ, ㄷ ④ ㄴ, ㄷ ⑤ ㄱ, ㄴ, ㄷ

10. (주)△△는 다음 기사의 내용에 나타난 정기예금에 가입하였다. 이를 회계 처리할 때 나타나는 차변 계정과목을 재무상태표에 통합 표시할 항목으로 옳은 것은?

시중 자금의 단기화 심화

주식과 부동산 시장이 조정을 거치면서 시중 자금이 마땅한 투자처를 찾지 못하고 있다. 이에 따라 만기 3개월 미만의 정기예금 잔액이 3조 4000억 원 급증했다. “고객들은 일단 금리가 낮더라도 자금을 짧게 운용하면서 투자 기회를 엿보는 것 같다.”라고 금융 기관 관계자는 말했다.

— ○○신문, 2011년 6월 17일자 —

- | | |
|------------|----------|
| ① 매출채권 | ② 투자부동산 |
| ③ 장기대여금 | ④ 장기투자증권 |
| ⑤ 현금및현금성자산 | |

11. 다음은 개인기업인 ○○상점의 결산 대체 분개를 기입한 분개장의 일부이다. (가)~(다)에 대한 설명으로 옳은 것을 <보기>에서 고른 것은? [3점]

분 개 장				
날짜	적 요	원면	차변	대변
12 31	(가) (손익) △△계정 잔액을 손익 계정에 대체		9,000	9,000
31	(손익) 제좌 (나) (이자비용) □□계정 잔액을 손익 계정에 대체		6,000	2,000
				4,000
31	(손익) (자본금) (다)		3,000	3,000

<보기>

- ㄱ. (가)에는 급여가 기입된다.
- ㄴ. (나)에는 임대료가 기입된다.
- ㄷ. (다)에는 당기순이익을 자본금 계정에 대체하는 내용이 기입된다.
- ㄹ. (가)와 (나)의 계정과목은 손익계산서 계정이다.

- ① ㄱ, ㄴ ② ㄱ, ㄷ ③ ㄴ, ㄷ
- ④ ㄴ, ㄹ ⑤ ㄷ, ㄹ

12. 다음은 (주)○○의 [사채 발행 관련 자료]와 [사채할인발행차금 상각 관련 자료]이다. 2010년 12월 31일 사채를 ₩99,000에 현금으로 전액 상환할 때 분개로 옳은 것은? (단, 사채 이자는 정상적으로 회계 처리되었으며, 제시된 자료 외에는 고려하지 않는다.) [3점]

[사채 발행 관련 자료]

- 사채발행일: 2009년 1월 1일
- 만기일: 2011년 12월 31일
- 이자지급일: 매년 12월 31일
- 액면금액: ₩100,000
- 액면이자율: 연 10%
- 유효이자율: 연 12%
- 사채할인발행차금 상각은 유효이자율법에 의한다.

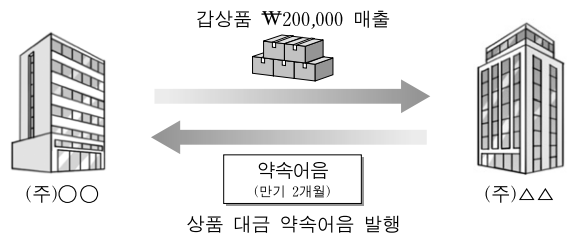
[사채할인발행차금 상각 관련 자료]

	상각액	미상각잔액	장부금액
2009년 1월 1일		₩4,802	₩95,198
2009년 12월 31일	₩1,424	3,378	96,622
2010년 12월 31일	1,595	1,783	98,217
2011년 12월 31일	-	-	-

* 개정 전 기업회계기준에서 액면금액은 액면가액으로, 장부금액은 장부가액으로 표현하였다.

	(차변)		(대변)
① 사채	99,000	현금	99,000
② 사채	100,000	현금	99,000
		사채상환이익	1,000
③ 사채	98,217	현금	99,000
사채상환손실	783		
④ 사채	100,000	현금	99,000
사채상환손실	783	사채할인발행차금	1,783
⑤ 사채	100,000	현금	99,000
사채할인발행차금	1,783	사채상환이익	2,783

13. 그림은 상품 매매와 관련된 거래를 나타낸 것이다. 이를 회계 처리한 결과로 옳은 것을 <보기>에서 고른 것은?



<보기>

- ㄱ. (주)○○은 가수금 계정 잔액이 증가한다.
- ㄴ. (주)○○은 받을어음 계정 잔액이 증가한다.
- ㄷ. (주)△△는 지급어음 계정 잔액이 증가한다.
- ㄹ. (주)△△는 외상매입금 계정 잔액이 증가한다.

- ① ㄱ, ㄴ ② ㄱ, ㄷ ③ ㄴ, ㄷ ④ ㄴ, ㄹ ⑤ ㄷ, ㄹ

14. 다음 출금전표를 통해 추정할 수 있는 거래로 옳은 것은?

출금 전 표		계	과장	부장
		정기	한국	외국
No. 23	2011년 8월 22일			
계정과목	매입	거래처	○○ 상점	
적 요		금	액	
A상품 200개 @₩2,000			4	0 0 0 0 0 0
합 계		₩	4	0 0 0 0 0 0

- ① 상품 ₩400,000을 외상으로 매입하다.
- ② 상품 ₩400,000을 현금으로 매입하다.
- ③ 상품 ₩400,000을 매입하고 대금은 당좌수표를 발행하여 지급하다.
- ④ 소모품 ₩400,000을 구입하고 대금은 1개월 후에 지급하기로 하다.
- ⑤ 소모품 ₩400,000을 구입하고 대금은 약속어음을 발행하여 지급하다.

15. 다음은 (주)○○의 유상증자에 관한 자료이다. 이를 회계 처리한 결과에 대한 설명으로 옳은 것을 <보기>에서 고른 것은? (단, 제시된 자료 외에는 고려하지 않는다.) [3점]

(주)○○은 공장 증설을 위한 자금을 조달하기 위하여 이사회에서 주식을 발행하기로 결의하였다. 이에 따라 주식 10,000주 (액면금액 @₩5,000)를 @₩8,000에 발행하고 전액 납입받아 당좌예입하였다.

* 개정 전 기업회계기준에서 액면금액은 액면가액으로 표현하였다.

<보기>

- ㄱ. 자본금 계정 잔액이 증가한다.
- ㄴ. 감자차익 계정 잔액이 증가한다.
- ㄷ. 주식발행초과금 계정 잔액이 증가한다.
- ㄹ. 자기주식처분이익 계정 잔액이 증가한다.

- ① ㄱ, ㄴ ② ㄱ, ㄷ ③ ㄴ, ㄷ ④ ㄴ, ㄹ ⑤ ㄷ, ㄹ

16. 다음은 개인기업인 ○○상점이 작성한 잔액시산표와 [오류 사항]이다. [오류 사항]을 수정하여 반영한 올바른 잔액시산표의 차변 합계액으로 옳은 것은? (단, 제시된 자료 외에는 고려하지 않는다.) [3점]

잔액시산표

○○상점		2010년 12월 31일		(단위: 원)	
차 변	계 정 과 목			대 변	
60,000	현 금				
100,000	외 상 매 출 금				
50,000	이 월 상 품				
20,000	선 금				
150,000	매 도 가 능 증 권				
	외 상 매 입 금			80,000	
	자 본			100,000	
	매 출			380,000	
	매 입				
150,000					
530,000				560,000	

[오류 사항]

- 비품 계정 잔액 ₩40,000을 누락하였다.
- 보험료 ₩20,000을 선급금으로 기입하였다.
- 현금으로 수취한 배당금수익 ₩10,000을 현금 계정 차변에는 기입하였으나, 배당금수익 계정에는 기입하지 않았다.
- 현금으로 지급한 외상매입금 ₩30,000을 현금 계정 대변과 외상매입금 계정 차변에 ₩80,000으로 기입하였다.

- ① ₩520,000 ② ₩570,000 ③ ₩620,000
 ④ ₩640,000 ⑤ ₩650,000

17. 그림은 ○○상점의 기말 결산 시 기말상품재고액과 관련된 대화이다. (가)에 들어갈 내용으로 옳은 것만을 <보기>에서 있는 대로 고른 것은? [3점]

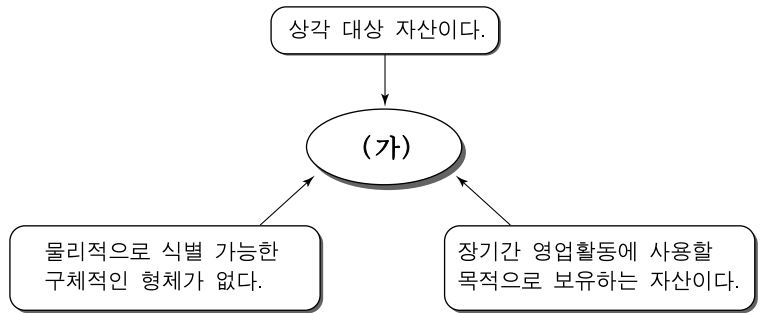


— <보기> —

- ㄱ. 매출원가가 과대 계상
- ㄴ. 기말 자산이 과대 계상
- ㄷ. 매출총이익이 과대 계상

- ① ㄱ ② ㄷ ③ ㄱ, ㄴ
 ④ ㄴ, ㄷ ⑤ ㄱ, ㄴ, ㄷ

18. 다음의 내용을 모두 만족시키는 (가)에 해당하는 계정과목으로 옳은 것을 <보기>에서 고른 것은? [3점]



— <보기> —

- ㄱ. 광업권
- ㄴ. 특허권
- ㄷ. 차량운반구
- ㄹ. 건설중인자산

- ① ㄱ, ㄴ ② ㄱ, ㄷ ③ ㄴ, ㄷ
 ④ ㄴ, ㄹ ⑤ ㄷ, ㄹ

19. 다음은 개인기업인 ○○상점의 자본변동과 경영성과를 나타낸 것이다. (가)의 금액으로 옳은 것은? (단, 제시된 자료 외에는 고려하지 않는다.) [3점]

(단위: 원)

구분		회계연도		
		제 3 기	제 4 기	제 5 기
자본변동	기 초 자 본	200,000	×××	×××
	기 중 추 가 출 자	100,000	0	0
	기 말 자 본	×××	×××	(가)
경영성과	총 수 익	600,000	800,000	700,000
	총 비 용	400,000	500,000	900,000

- ① ₩400,000 ② ₩500,000 ③ ₩600,000
 ④ ₩700,000 ⑤ ₩800,000

20. 다음은 개인기업인 ○○상점이 약식으로 작성한 재무상태표이다. 이에 대한 설명으로 옳은 것은?

재무상태표

○○상점 2010년 12월 31일 (단위: 원)

현금및현금성자산	1,000,000	매 입 채 무	4,500,000
매 출 채 권	3,500,000	단 기 차 입 금	1,000,000
상 품	700,000	장 기 차 입 금	1,500,000
토 지	3,000,000	자 본 금	2,000,000
산 업 재 산 권	800,000		
	<u>9,000,000</u>		<u>9,000,000</u>

- ① 자본 합계액이 부채 합계액보다 크다.
- ② 당좌자산 합계액이 재고자산 합계액보다 크다.
- ③ 유형자산 합계액이 무형자산 합계액보다 작다.
- ④ 유동자산 합계액이 비유동자산 합계액보다 작다.
- ⑤ 유동부채 합계액이 비유동부채 합계액보다 작다.

*** 확인 사항**

- 답안지의 해당란에 필요한 내용을 정확히 기입(표기)했는지 확인 하시오.