


6. 그림의 대화에 나타난 명현이의 행동 특성과 동일한 사례로 가장 적절한 것은?



- ① 자신의 첫사랑은 특별하고 영원할 것이라고 믿는다.
- ② 차도에서 헬멧을 쓰지 않고 자전거로 전력 질주한다.
- ③ 이상적인 부모상에 대해 생각하고 자신의 부모와 비교한다.
- ④ 친구들이 많이 갖고 있는 유명 상표 신발을 사 달라고 조른다.
- ⑤ 집 앞 슈퍼에 심부름을 가기 위해 한 시간이 넘게 머리를 손질한다.

7. 표는 인간 발달의 쟁점에 따른 각 발달 이론들의 관점을 정리한 것이다. (가), (나)에 들어갈 내용으로 옳은 것은? [3점]

발달 쟁점	이론	성숙 이론	인지 발달 이론
연속성 대 비연속성	(가)	연속성과 비연속성 인정: 적응 행동은 연속적으로 추가 되지만 어떤 적응 능력은 민감기 동안 갑자기 나타남.	(가) 인정: 각 단계마다 질적으로 서로 다른 변화를 강조함.
유전 대 환경	(나)	(나) 인정: 생물학적으로 프로그래밍된 적응 행동을 강조함.	유전과 환경 인정: 두뇌 성숙 및 타고난 지적 탐구 활동이 풍부하고 자극적인 환경에 의해 발달함.

- | | |
|--------|--------|
| (가) | (나) |
| ① 연속성 | 유전 |
| ② 연속성 | 환경 |
| ③ 비연속성 | 유전 |
| ④ 비연속성 | 환경 |
| ⑤ 비연속성 | 유전과 환경 |

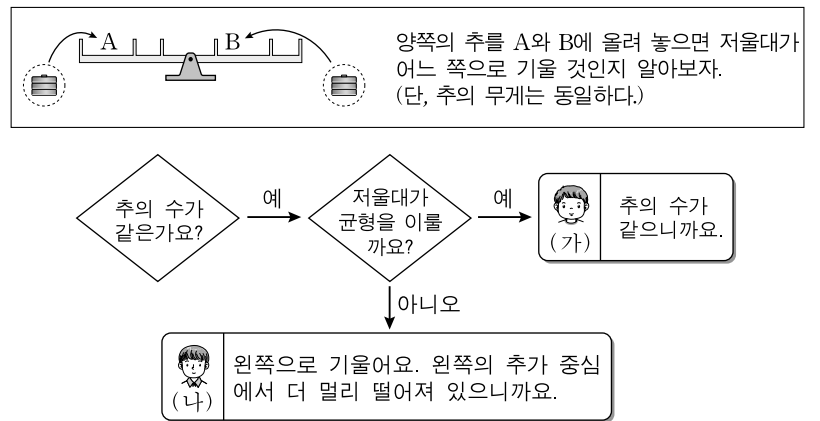
8. 다음 신문 기사를 통해 알 수 있는 시기의 발달 특성으로 옳은 것을 <보기>에서 고른 것은? [3점]

나이는 50대, 마음은 20대, 외모는 30대인 아줌마가 늘어난다. 나이가 들어도 젊은 감각을 유지하고자 하는 여성을 가리키는 말로 루비(RUBY)족이 있다. 루비족은 신선함(Refresh), 비범함(Uncommon), 아름다움(Beautiful), 젊음(Young)을 나타내는 말로 외모와 패션에 관심이 많고 자기 표현에 적극적이면서 평범하고 전통적인 아줌마이기를 거부하는 여성을 일컫는다.
-○○신문, 2011년 ○월 ○일자-

- <보기> —
- ㄱ. 모발의 휴지기가 길어진다.
 - ㄴ. 중요한 발달 과업은 생산성 획득이다.
 - ㄷ. 추상적인 문제 해결 능력이 가장 높다.
 - ㄹ. 생물학적 성과 동일한 성 역할이 강화된다.

- ① ㄱ, ㄴ
- ② ㄱ, ㄷ
- ③ ㄴ, ㄷ
- ④ ㄴ, ㄹ
- ⑤ ㄷ, ㄹ

9. 그림은 두 아동의 문제 해결 과정을 나타낸 것이다. 아동 (가), (나)가 속한 시기의 사회성 발달 특성에 대한 설명으로 옳은 것을 <보기>에서 고른 것은? [3점]



- <보기> —
- ㄱ. (가)는 같이 노는 사람은 누구나 친구로 여긴다.
 - ㄴ. (가)는 부모보다 또래의 영향을 더 많이 받는다.
 - ㄷ. (나)는 성 역할 동일시가 나타나기 시작한다.
 - ㄹ. (나)는 (가)보다 도구적 공격성이 감소하고 적대적 공격성은 증가한다.

- ① ㄱ, ㄷ
- ② ㄱ, ㄹ
- ③ ㄴ, ㄷ
- ④ ㄴ, ㄹ
- ⑤ ㄷ, ㄹ

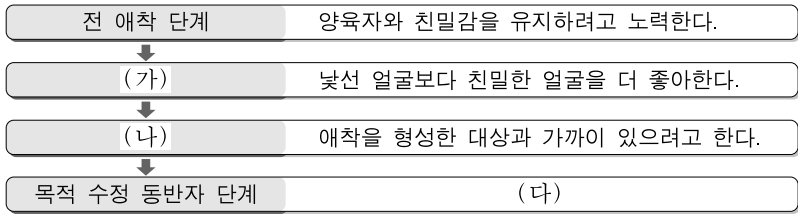
10. 그림은 죽음을 앞둔 환자의 심리적 변화 단계를 나타낸 것이다. (가), (나)에 대한 설명으로 옳은 것만을 <보기>에서 있는 대로 고른 것은? (단, 큐블러로스의 이론에 근거한다.)



- <보기> —
- ㄱ. (가)의 가족은 환자가 혼자서 마음을 정리할 수 있도록 간섭하지 않아야 한다.
 - ㄴ. (나)의 환자는 자신의 죽음이 임박했음에 충격을 받고 그 사실을 부정한다.
 - ㄷ. (가)는 인정 단계이고, (나)는 우울 단계이다.

- ① ㄱ
- ② ㄴ
- ③ ㄱ, ㄷ
- ④ ㄴ, ㄷ
- ⑤ ㄱ, ㄴ, ㄷ

11. 다음은 아동의 애착 발달 단계와 행동 특성이다. (가)~(다)에 대한 설명으로 옳은 것을 <보기>에서 고른 것은? [3점]



— <보기> —

ㄱ. (가) 단계의 아동은 모든 사람들에게 애착 행동을 보인다.
 ㄴ. (나) 단계의 아동은 낯가리기를 시작한다.
 ㄷ. (나) 단계에서 불안-회피 애착을 보이는 아동은 애착 대상자와 떨어져도 울지 않는다.
 ㄹ. (다)의 아동은 애착 대상자의 행동을 예측할 수 있게 되어 분리 불안이 감소한다.

- ① ㄱ, ㄴ ② ㄱ, ㄷ ③ ㄴ, ㄷ ④ ㄴ, ㄹ ⑤ ㄷ, ㄹ

12. 다음 대화에서 나타난 부모의 양육 유형에 대한 설명으로 옳은 것을 <보기>에서 고른 것은? (단, 바움린드의 이론에 근거한다.)



— <보기> —

ㄱ. 냉담하고 거부적이며 복종을 요구한다.
 ㄴ. 따뜻하고 수용적이며 자녀 행동을 거의 통제하지 않는다.
 ㄷ. 자녀의 독립심을 격려하고 훈육 시 논리적으로 설명한다.
 ㄹ. 아동의 판단 능력이 충분하지 않을 때에도 아동에게 결정을 하게 한다.

- ① ㄱ, ㄴ ② ㄱ, ㄷ ③ ㄴ, ㄷ ④ ㄴ, ㄹ ⑤ ㄷ, ㄹ

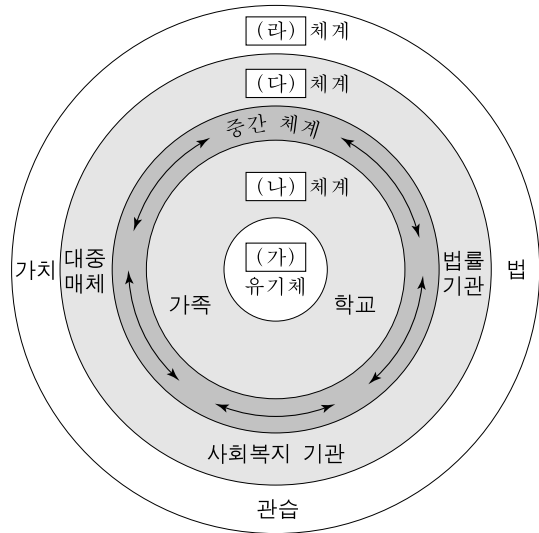
13. 다음은 에릭슨의 심리 사회성 발달 단계에 대한 설명이다. (가)~(다)에 해당하는 것으로 옳은 것은?

○○단계: 프로이트 이론의 (가)에 해당하는 시기로 부모들은 자녀가 자율성을 발달시킬 수 있도록 지도해야 한다. 만약 부모가 기다려 주지 않고 자녀의 할 일을 대신해 주거나 지나치게 요구하면 자녀들은 무능력과 무력감을 형성하게 되어 자신의 능력에 대해 (나)을 갖게 된다.

△△단계: 프로이트 이론의 잠복기에 해당하는 시기로 이 시기의 주요 과업은 기술을 쌓고 의미 있는 일을 성취하기 위해 다양한 활동에 열정적으로 참여함으로써 (다)을 형성하는 것이다.

- | | | |
|-------|-----|-----|
| (가) | (나) | (다) |
| ① 남근기 | 수치심 | 근면성 |
| ② 남근기 | 죄책감 | 주도성 |
| ③ 항문기 | 수치심 | 근면성 |
| ④ 항문기 | 수치심 | 주도성 |
| ⑤ 항문기 | 죄책감 | 주도성 |

14. 그림은 브론펜브레너의 생태학 이론을 도식화한 것이다. (가)~(라)에 해당되는 청소년 비행의 위험 요인으로 옳은 것을 <보기>에서 고른 것은? [3점]




— <보기> —

ㄱ. (가)는 공격적 성향 등을 포함한다.
 ㄴ. (나)는 부모의 무관심 등을 포함한다.
 ㄷ. (다)는 불량 친구와의 친밀한 관계 등을 포함한다.
 ㄹ. (라)는 열악한 이웃 환경 등을 포함한다.

- ① ㄱ, ㄴ ② ㄱ, ㄷ ③ ㄴ, ㄷ ④ ㄴ, ㄹ ⑤ ㄷ, ㄹ

15. 그림은 도덕적 갈등 상황에 대한 [질문]과 [대답]이다. A, B와 같이 대답한 아동의 도덕성 발달 단계에 대한 설명으로 옳은 것을 <보기>에서 고른 것은? (단, 피아제의 이론에 근거한다.)



[질문]
승기와 연우 중 누가 더 잘못했나요?

[대답]
A: 승기요. 컵을 더 많이 깨뜨렸잖아요.
B: 연우요. 승기는 동생을 위해 꺼내다가 깨뜨렸잖아요.

— <보기> —

ㄱ. A는 행위의 결과에 따라 옳고 그름을 판단한다.
 ㄴ. B는 규칙을 어기면 항상 나쁜 결과가 따라 온다고 믿는다.
 ㄷ. A는 B보다 앞선 시기에 나타난다.
 ㄹ. A는 자율적, B는 타율적 도덕성 단계이다.

- ① ㄱ, ㄷ ② ㄱ, ㄹ ③ ㄴ, ㄷ ④ ㄴ, ㄹ ⑤ ㄷ, ㄹ

16. 그림은 유아기의 운동 능력을 나타낸 것이다. (가)~(다)를 발달이 시작되는 순서대로 바르게 배열한 것은?



(가) (나) (다)

- ① (가) - (나) - (다)
- ② (가) - (다) - (나)
- ③ (나) - (가) - (다)
- ④ (다) - (가) - (나)
- ⑤ (다) - (나) - (가)

17. 다음은 어느 시기의 부모-자녀 관계의 특성이다. 이 시기에 나타나는 자녀의 발달 특성으로 옳은 것을 <보기>에서 고른 것은?

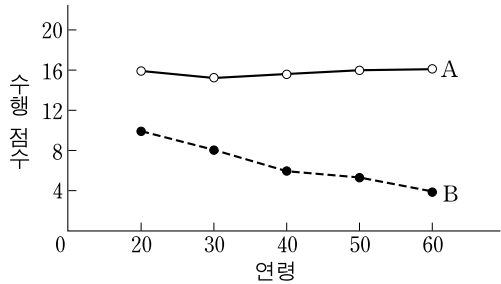
- 급속한 신체적 성장으로 부모의 통제를 어렵게 만든다.
- 부모로부터 독립하고 싶어 하는 동시에 애착 관계를 유지하기 원한다.
- 부모가 설정한 규칙이나 가치관에 대해 논리적 모순을 발견하고 의문을 제기한다.

<보기>

- ㄱ. 성충동이 잠복하는 시기이다.
- ㄴ. 체계적이고 조합적인 사고가 가능하다.
- ㄷ. 신체 성장 속도가 일생 중 가장 빠르다.
- ㄹ. 자기 탐색 과정을 통해 자아 정체감을 형성한다.

- ① ㄱ, ㄴ
- ② ㄱ, ㄷ
- ③ ㄴ, ㄷ
- ④ ㄴ, ㄹ
- ⑤ ㄷ, ㄹ

18. 그래프는 연령에 따른 여성의 재인과 회상을 수행 점수로 나타낸 것이다. A, B에 대한 설명으로 옳은 것만을 <보기>에서 있는 대로 고른 것은? [3점]



<보기>

- ㄱ. A는 옛 사진을 보고 고등학교 시절의 친구를 기억해 낼 때 사용된다.
- ㄴ. B의 변화는 기억 재료를 분류하고 조직하는 능력이 감퇴하기 때문이다.
- ㄷ. A와 B는 단기 기억 내에 저장되어 있는 정보를 인출하는 과정이다.

- ① ㄱ
- ② ㄷ
- ③ ㄱ, ㄴ
- ④ ㄴ, ㄷ
- ⑤ ㄱ, ㄴ, ㄷ

19. 다음은 아동의 사고 특성을 알아보는 실험이다. 이 시기 아동의 발달 특성으로 옳은 것을 <보기>에서 고른 것은? [3점]

[실험명]
아동의 사고 특성
[방법 및 과정]
1. 아동을 선생님 맞은편에 앉게 한다.
2. 앞면에는 고양이, 뒷면에는 강아지가 그려진 카드를 아동에게 확인시킨다.
3. 아동에게 앞면의 고양이 그림을 제시한다.
4. 아동에게 선생님 편에서 보이는 그림은 무엇인지 질문한다.



질문: 선생님은 어떤 그림을 보고 있을까요?
대답: 강아지요. 고양이 뒤에는 강아지 그림이 있잖아요.

<보기>

- ㄱ. 탈중심적 사고가 가능하다.
- ㄴ. 언어의 과잉일반화가 나타난다.
- ㄷ. 모든 물체에 생명이 있다고 생각한다.
- ㄹ. 물체를 공통의 속성에 따라 분류한다.

- ① ㄱ, ㄷ
- ② ㄱ, ㄹ
- ③ ㄴ, ㄷ
- ④ ㄴ, ㄹ
- ⑤ ㄷ, ㄹ

20. 다음 (가), (나)에서 나타난 노인의 노화 적응 유형으로 옳은 것은?



(가)

(나)

- | | |
|---------|-------|
| (가) | (나) |
| ① 성숙형 | 무장방어형 |
| ② 성숙형 | 흔들의자형 |
| ③ 무장방어형 | 성숙형 |
| ④ 무장방어형 | 흔들의자형 |
| ⑤ 흔들의자형 | 성숙형 |

* 확인 사항
○ 답안지의 해당란에 필요한 내용을 정확히 기입(표기)했는지 확인하십시오.