

제 4 교시

# 직업탐구 영역(인간발달)

성명  수험 번호

1. 다음 그림을 그린 아동의 발달 시기에 나타나는 사고 특성으로 옳은 것을 <보기>에서 고른 것은?



<보기>

- ㄱ. 물이 가득 찬 욕조에 몸을 담그면 물이 왜 넘치는지를 안다.
- ㄴ. 나뭇잎을 반찬으로 만들어서 놀지만 먹을 수 없다는 것을 안다.
- ㄷ. 해와 달도 사람이 필요로 해서 만들어 하늘에 띄웠다고 생각한다.
- ㄹ. 장미와 백합이 모양과 색깔은 다르지만 꽃의 범주에 속한다는 것을 안다.

- ① ㄱ, ㄴ                      ② ㄱ, ㄷ                      ③ ㄴ, ㄷ
- ④ ㄴ, ㄹ                      ⑤ ㄷ, ㄹ

2. 다음은 할로(Harlow)의 실험이다. 이를 통해 알 수 있는 내용으로 옳은 것만을 <보기>에서 있는 대로 고른 것은?




새끼 원숭이는 배가 고프면 우유병이 달려 있는 철사 엄마에게 갔지만, 곰 인형이 갑자기 북을 두드리는 공포의 상황에서는 형질 엄마에게 매달렸다.

<보기>

- ㄱ. 환경 조건은 애착 형성에 영향을 준다.
- ㄴ. 애착이 형성되기 위해서는 공포가 필요하다.
- ㄷ. 애착 형성에서 신체적 접촉을 통한 안락함이 중요하다.

- ① ㄱ                              ② ㄴ                              ③ ㄱ, ㄷ
- ④ ㄴ, ㄷ                      ⑤ ㄱ, ㄴ, ㄷ

3. 그림에 나타난 보림과 유영의 사고로 옳은 것을 <보기>에서 고른 것은? [3점]



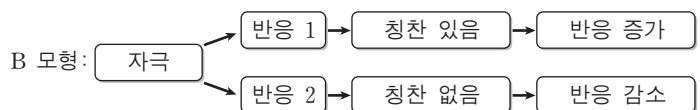
<보기>

- ㄱ. 가설적 사고                      ㄴ. 보존적 사고
- ㄷ. 인공론적 사고                  ㄹ. 물활론적 사고

	보림	유영		보림	유영
①	ㄱ	ㄴ	②	ㄱ	ㄹ
③	ㄴ	ㄷ	④	ㄷ	ㄹ
⑤	ㄹ	ㄴ			

4. 그림은 두 가지 이론을 도식화한 것이다. A, B 모형에 해당하는 것을 <보기>에서 고른 것은? [3점]

A 모형: 모델 제시 → 관찰(주시) → 기억 → 기억 정보의 재현 → 동기화 → 일치 행동



<보기>

- ㄱ. 학습 이론                      ㄴ. 생태학 이론                  ㄷ. 사회 학습 이론

	A 모형	B 모형		A 모형	B 모형
①	ㄱ	ㄴ	②	ㄱ	ㄷ
③	ㄴ	ㄷ	④	ㄷ	ㄱ
⑤	ㄷ	ㄴ			

5. 다음은 신생아기의 생리적 특징에 대한 퀴즈이다. 정답을 모두 맞힌 학생을 <결과표>에서 고른 것은?

[Quiz] 신생아기를 잡아라 ~ 이름: ○○○

■ 수업 시간에 학습한 내용을 바탕으로 맞으면 O, 틀리면 X로 표시하세요.

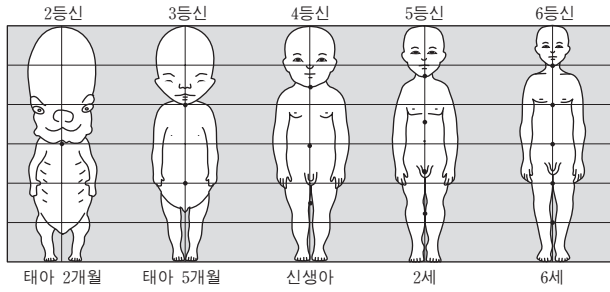
질문 내용	O, X
문항 1. 체온 조절 능력이 미숙하여 어른보다 체온이 낮다.	
문항 2. 어른에 비해 렘(REM) 상태의 수면 시간이 더 길다.	
문항 3. 생후 한 달 동안 황달이 나타나는 것은 자연스러운 현상이다.	
문항 4. 태내에서 들이킨 양수로 인해 생후 1-2일경 암녹색 대변을 본다.	

<결과표>

	명희	윤서	정민	유진	도균
문항 1	○	×	×	○	○
문항 2	×	○	○	×	○
문항 3	○	○	×	×	×
문항 4	×	×	○	○	×

- ① 명희                              ② 윤서                              ③ 정민
- ④ 유진                              ⑤ 도균

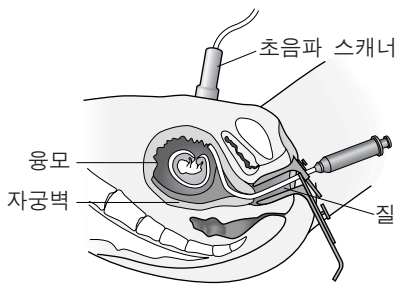
6. 그림을 통해 알 수 있는 신체 발달에 대한 설명으로 옳은 것만을 <보기>에서 있는 대로 고른 것은? [3점]



— <보기> —  
 ㄱ. 신체 발달은 개인에 따라 다르게 나타난다.  
 ㄴ. 머리가 신체의 다른 부위보다 발달이 먼저 진행된다.  
 ㄷ. 신체 각 부분의 비율은 성장에 따라 다르게 나타난다.

- ① ㄱ                      ② ㄷ                      ③ ㄱ, ㄴ
- ④ ㄴ, ㄷ                ⑤ ㄱ, ㄴ, ㄷ

7. 그림은 태아의 상태를 진단하는 검사 방법 중 하나이다. 이에 대한 설명으로 옳은 것을 <보기>에서 고른 것은?



— <보기> —  
 ㄱ. 수정 후 14주부터 실시 가능하다.  
 ㄴ. 유전자의 이상 유무를 알 수 있다.  
 ㄷ. 모든 임신부에게 필수적인 검사이다.  
 ㄹ. 양수를 추출하는 검사보다 유산의 위험이 더 크다.

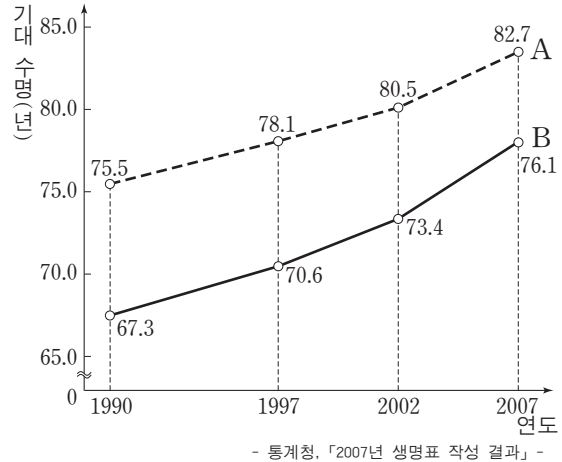
- ① ㄱ, ㄴ                      ② ㄱ, ㄷ                      ③ ㄴ, ㄷ
- ④ ㄴ, ㄹ                      ⑤ ㄷ, ㄹ

8. 그림 속 청소년의 말에 나타난 사고와 동일한 특성이 드러난 표현은?



- ① 나는 앞으로 어떤 인생을 살게 될까?
- ② 얼굴에 난 뾰루지 때문에 내일 소풍에 못 가겠어.
- ③ 나처럼 애절한 첫사랑을 한 사람이 세상에 또 있을까?
- ④ 유행에 뒤떨어진 옷을 입고 가면 친구들이 전부 날 쳐다보겠지.
- ⑤ 난 댄스 음악이 싫지만 댄스 가수들을 모르면 친구들이 비웃을 거야.

9. 그래프는 성별에 따른 기대 수명 추이를 나타낸 것이다. A, B에 대한 설명으로 옳은 것을 <보기>에서 고른 것은? (단, 기대 수명은 특정 연도에 출생한 사람들이 생존할 것으로 기대되는 평균 연수이다.) [3점]

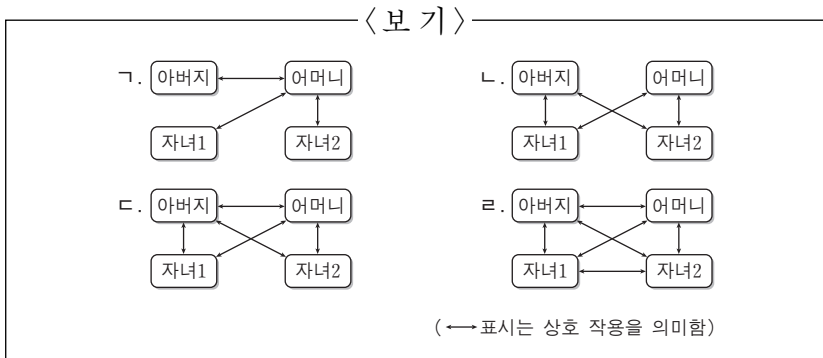


— <보기> —  
 ㄱ. A와 B의 기대 수명 차이는 감소하는 추세이다.  
 ㄴ. A는 B보다 노화와 관련된 증상을 오래 경험할 확률이 높다.  
 ㄷ. A는 B보다 Y 성염색체로 인하여 질병에 대한 면역력이 낮다.  
 ㄹ. 기대 수명은 1990년에 태어난 A가 2007년에 태어난 B보다 길다.

- ① ㄱ, ㄴ                      ② ㄱ, ㄷ                      ③ ㄴ, ㄷ
- ④ ㄴ, ㄹ                      ⑤ ㄷ, ㄹ

10. 다음은 두 아버지의 대화이다. A, B 아버지를 통해 알 수 있는 가족 구성원 간의 관계를 도식화한 것으로 적절한 것을 <보기>에서 고른 것은?

A 아버지 : 난 아내하고는 아이 문제에 대해 가끔씩 이야기를 나누지만, 회사 일로 너무 바빠 아이들과는 놀아주지 못해 항상 미안한 생각이 들어. 대신 아내는 아이들과 잘 놀아 주고 있어. 자네는 어때?  
 B 아버지 : 난 종종 아내와 대화도 하고 함께 아이들과 잘 어울려 놀아. 아이들끼리도 나이 차이가 얼마 나지 않아 친구처럼 잘 지내는 것 같아.



- |   |              |              |   |              |              |
|---|--------------|--------------|---|--------------|--------------|
|   | <u>A 아버지</u> | <u>B 아버지</u> |   | <u>A 아버지</u> | <u>B 아버지</u> |
| ① | ㄱ            | ㄷ            | ② | ㄱ            | ㄹ            |
| ③ | ㄴ            | ㄷ            | ④ | ㄴ            | ㄹ            |
| ⑤ | ㄷ            | ㄹ            |   |              |              |

11. 그림은 비슷한 연령대의 딸을 둔 두 아버지의 대화이다. 두 딸의 발달 시기에 바람직한 양육 태도로 적절한 것을 <보기>에서 고른 것은? (단, 에릭슨의 심리 사회적 발달 이론으로 한정한다.) [3점]



<보기>

- ㄱ. 새로운 환경을 주도적으로 탐색할 수 있도록 배려한다.
- ㄴ. 기본적인 욕구 충족에 초점을 맞추어 신뢰감을 키워준다.
- ㄷ. 누적된 실패 경험으로 인해 죄책감을 갖지 않도록 도와준다.
- ㄹ. 감각 운동 능력을 촉진할 수 있는 자극을 지속적으로 제공해 준다.

- ① ㄱ, ㄴ                      ② ㄱ, ㄷ                      ③ ㄴ, ㄷ
- ④ ㄴ, ㄹ                      ⑤ ㄷ, ㄹ

12. 표는 기억의 종류와 사례를 나타낸 것이다. (가), (나)에 대한 설명으로 옳은 것을 <보기>에서 고른 것은? [3점]

기억의 종류	사 례
감각 기억	TV 광고 속에 등장한 인물의 표정을 순간적으로 파악한다.
(가)	방금 소개받은 사람의 이름을 1분 정도는 기억하지만 한 시간 후에는 잊어버린다.
(나)	방정식을 풀 때, 어릴 때 암기한 구구단을 활용한다.

<보기>

- ㄱ. (가)는 청년기 이후 증가하기 시작한다.
- ㄴ. (나)는 시각 기억과 청각 기억으로 나뉜다.
- ㄷ. (가)와 (나)는 정보 처리 과정을 거친다.
- ㄹ. (나)는 (가)보다 중년기 이후 더 많이 감소한다.

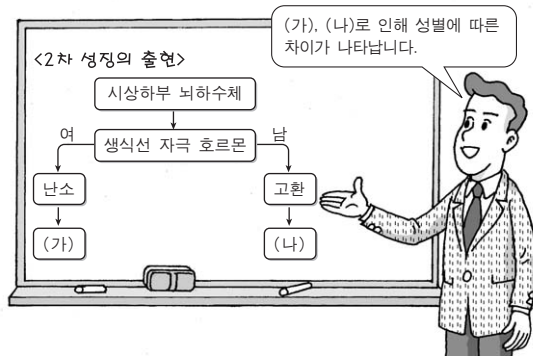
- ① ㄱ, ㄴ                      ② ㄱ, ㄷ                      ③ ㄴ, ㄷ
- ④ ㄴ, ㄹ                      ⑤ ㄷ, ㄹ

13. 다음 일지를 쓴 사람의 봉사 활동에 대한 설명으로 가장 적절한 것은?

일 자	2009년 ○월 ○일
환자 상태	• 의식이 혼미하고 말을 알아듣지 못함. • 오전 11시, 오후 2시 경 각각 30분 정도 의식이 돌아옴.
봉사 내용	• 진통제 투여할 때 간호사를 도움. • 의식이 돌아왔을 때 딸을 찾으셔서 딸에게 연락함. • 가족과 함께 기도함.
봉사 후기	○○○ 씨가 얼마 남지 않은 생을 편안히 보내는 데 내가 도움이 되면 좋겠다.

- ① 국가 자격증이 필요하다.
- ② 종교가 있어야 할 수 있다.
- ③ 질병 치료를 주된 목적으로 한다.
- ④ 의사의 허락이 있어야 할 수 있다.
- ⑤ 사설 기관이나 가정에서도 이루어질 수 있다.

14. 다음은 2차 성징의 출현을 설명하는 수업 장면이다. (가), (나)로 인해 나타나는 현상으로 옳은 것을 <보기>에서 고른 것은?



<보기>

- ㄱ. 초경의 시작                      ㄴ. 키의 급격한 성장
- ㄷ. 남성의 목소리 변화                      ㄹ. 성정체감 형성 시작

- ① ㄱ, ㄴ                      ② ㄱ, ㄷ                      ③ ㄴ, ㄷ
- ④ ㄴ, ㄹ                      ⑤ ㄷ, ㄹ

15. 다음은 연령과 자아 존중감의 관계를 파악하기 위한 서로 다른 연구 방법의 일부이다. A, B에 대한 설명으로 옳은 것을 <보기>에서 고른 것은? [3점]

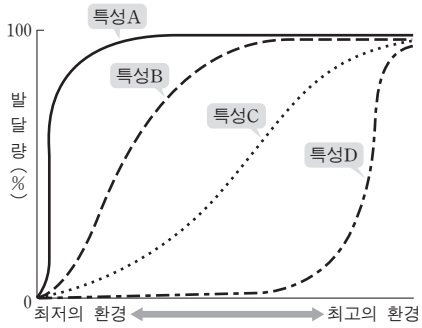
A: 남자 청소년 300명(만 13, 14, 15세 각 100명)을 대상으로 2006년 ○월 1회 설문 조사  
B: 남자 청소년 300명(만 13세)을 대상으로 2006년 ○월부터 2008년 ○월까지 추적하여 1년마다 1회씩 설문 조사

<보기>

- ㄱ. A에서는 동시대 출생 집단 효과를 고려해야 한다.
- ㄴ. B에서는 반복 측정으로 인한 연습 효과를 고려해야 한다.
- ㄷ. B를 통해 동일 시점의 연령 집단 간 자아 존중감의 차이를 알 수 있다.
- ㄹ. A는 B보다 조사 비용이 많이 소요된다.

- ① ㄱ, ㄴ                      ② ㄱ, ㄷ                      ③ ㄴ, ㄷ
- ④ ㄴ, ㄹ                      ⑤ ㄷ, ㄹ

16. 그래프는 환경 조건에 따른 발달량을 발달 특성별로 나타낸 것이다. 특성 A~D에 대한 설명으로 옳은 것만을 <보기>에서 있는 대로 고른 것은? (단, 연구 대상은 일란성 쌍생아로서 유전 조건이 동일하다.) [3점]

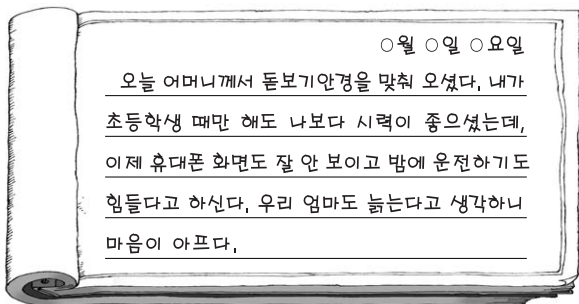


— <보기> —

ㄱ. A는 학습 이론보다는 성숙 이론을 더 지지한다.  
 ㄴ. B는 C보다 환경의 영향력이 더 크다.  
 ㄷ. A~D는 유전과 환경의 상호 작용을 나타낸다.

- ① ㄱ                      ② ㄴ                      ③ ㄱ, ㄷ  
 ④ ㄴ, ㄷ                ⑤ ㄱ, ㄴ, ㄷ

17. 다음은 어느 학생의 일기이다. 일기 속의 어머니에게 나타난 시각의 변화와 관련된 내용으로 옳은 것을 <보기>에서 고른 것은?



— <보기> —

ㄱ. 동공이 커진다.  
 ㄴ. 안압이 낮아진다.  
 ㄷ. 수정체의 탄력성이 감소한다.  
 ㄹ. 빛과 어둠에 적응하는 시간이 길어진다.

- ① ㄱ, ㄴ                      ② ㄱ, ㄷ                      ③ ㄴ, ㄷ  
 ④ ㄴ, ㄹ                      ⑤ ㄷ, ㄹ

18. 다음 대화에 나타난 시기의 태아의 특징으로 옳은 것은?



- ① 성장 속도가 최고조에 이른다.  
 ② 체중이 증가하고 태아가 내려앉는다.  
 ③ 손톱과 발톱, 눈썹이 생기기 시작한다.  
 ④ 태반으로부터 영양분을 공급받기 시작한다.  
 ⑤ 소리에 반응하나 빛에는 반응하지 않는다.

19. 그림은 두 아동의 대화 장면이다. 형의 시기에 나타나는 발달 특성으로 옳은 것을 <보기>에서 고른 것은? [3점]



— <보기> —

ㄱ. 성 충동이 잠복하게 된다.  
 ㄴ. 탈중심화된 사고가 가능하다.  
 ㄷ. 또래와 상징 놀이를 하기 시작한다.  
 ㄹ. 만족 지연 행동이 나타나기 시작한다.

- ① ㄱ, ㄴ                      ② ㄱ, ㄷ                      ③ ㄴ, ㄷ  
 ④ ㄴ, ㄹ                      ⑤ ㄷ, ㄹ

20. 다음 글을 통해 ㉠, ㉡에 대하여 유추할 수 있는 내용으로 옳은 것을 <보기>에서 고른 것은? [3점]

요즘 육아와 가사에 적극적으로 참여하는 남성들이 늘어나고 있다. 이러한 추세를 반영하듯 ㉠ '프렌디(Friendly)' 또는 ㉡ '슈퍼 대디(Super Daddy)' 와 같은 신조어까지 등장했다. 프렌디는 친구(Friend)와 아빠(Daddy)의 합성어로 친구같은 아빠를, 슈퍼 대디는 직장 일뿐만 아니라 가사와 육아에 적극적인 아빠를 뜻한다.

— <보기> —

ㄱ. ㉠의 가족에서는 부모의 성역할 구분이 더 확실해질 것이다.  
 ㄴ. ㉡의 가족에서는 어머니의 역할 과부하 현상이 감소될 수 있다.  
 ㄷ. ㉠과 ㉡는 과거 남성에게 비해 도구적인 역할을 많이 할 것이다.  
 ㄹ. ㉠과 ㉡는 무의식에 존재하는 아니마를 자연스럽게 표출할 수 있다.

- ① ㄱ, ㄴ                      ② ㄱ, ㄷ                      ③ ㄴ, ㄷ  
 ④ ㄴ, ㄹ                      ⑤ ㄷ, ㄹ

\* 확인 사항  
 ○ 답안지의 해당란에 필요한 내용을 정확히 기입(표기)했는지 확인 하시오.