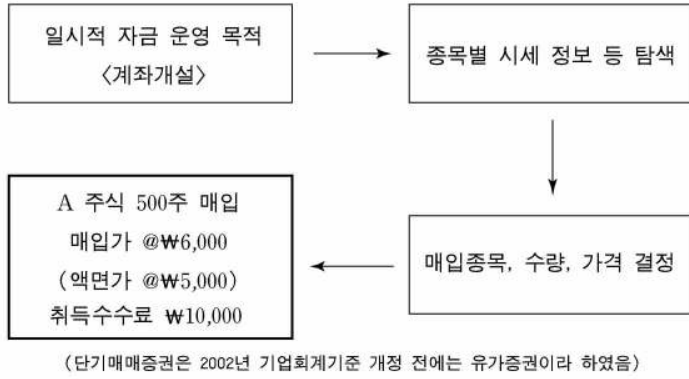






11. 그림은 ○○회사가 주식을 취득하는 과정을 나타낸 것이다. A 주식을 취득하고 대금은 취득수수료와 함께 당좌수표를 발행하여 지급하였을 때 바르게 분개한 것은?



- ① (차변) 단기매매증권 2,500,000 (대변) 당좌예금 2,500,000
- ② (차변) 단기매매증권 2,510,000 (대변) 당좌예금 2,510,000
- ③ (차변) 단기매매증권 3,010,000 (대변) 당좌예금 3,010,000
- ④ (차변) 단기매매증권 2,500,000 (대변) 당좌예금 2,510,000  
수수료비용 10,000
- ⑤ (차변) 단기매매증권 3,000,000 (대변) 당좌예금 3,010,000  
수수료비용 10,000

12. 다음 자료에 따라 사채할인발행차금을 계산한 결과로 옳은 것은? [3점]

○○주식회사는 2005년 5월 3일 그림과 같은 사채를 다음의 조건으로 발행하고 납입금은 당좌 예입하다.

- 발행가액 : 액면가액에 대하여 ₩950,000에 발행
- 이 율 : 연 5%(이자지급 연 1회)
- 사채발행비 : ₩20,000 지급(모집광고비, 인쇄비 등)



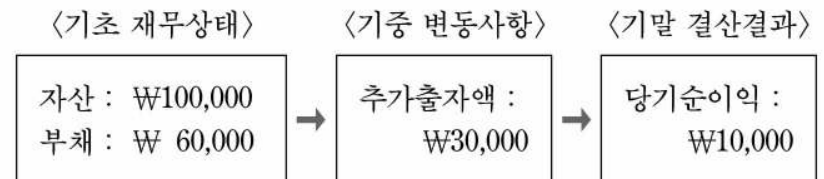
- ① ₩30,000                      ② ₩47,500                      ③ ₩50,000
- ④ ₩60,000                      ⑤ ₩70,000

13. 다음 거래를 바르게 분개한 것은? [3점]

종업원 2명이 퇴직하게 되어 퇴직금 ₩10,000,000을 현금으로 지급하다. 퇴직 시 퇴직급여충당금 계정의 잔액은 ₩6,000,000이 있다.

- ① (차변) 퇴직금 10,000,000 (대변) 현금 10,000,000
- ② (차변) 퇴직급여 10,000,000 (대변) 현금 10,000,000
- ③ (차변) 퇴직급여충당금 10,000,000 (대변) 현금 10,000,000
- ④ (차변) 퇴직급여 4,000,000 (대변) 현금 10,000,000  
퇴직급여충당금 6,000,000
- ⑤ (차변) 퇴직급여 6,000,000 (대변) 현금 10,000,000  
퇴직급여충당금 4,000,000

14. 다음 자료는 ○○상회의 기초 재무상태와 그 변화를 나타낸 것이다. 이를 근거로 하여 기말 자본을 계산한 결과로 옳은 것은? [3점]



- ① ₩40,000                      ② ₩50,000                      ③ ₩60,000
- ④ ₩70,000                      ⑤ ₩80,000

15. 다음은 오류가 있는 약식 잔액시산표이다. 오류를 정정한 후의 잔액시산표 차변 합계액으로 옳은 것은? [3점]

잔액시산표

○○회사	2004년 12월 31일 현재	(단위 : 원)
차 변	계정과목	대 변
300,000	외상매출금	
	지급어음	50,000
150,000	자 본 금	
500,000	매 출	
	매 입	400,000
950,000	합 계	450,000

- ① ₩350,000                      ② ₩450,000                      ③ ₩650,000
- ④ ₩700,000                      ⑤ ₩900,000

16. 그림은 계정과목의 일부를 (A), (B) 집단으로 나누어 나타낸 것이다. 두 집단의 공통적인 내용을 <보기>에서 고른 것은?

(A)	(B)
<ul style="list-style-type: none"> <li>○ 외상매출금</li> <li>○ 미수금</li> <li>○ 선급금</li> <li>○ 장기대여금</li> <li>○ 토지</li> </ul>	<ul style="list-style-type: none"> <li>○ 외상매입금</li> <li>○ 단기차입금</li> <li>○ 미지급금</li> <li>○ 사 채</li> <li>○ 장기차입금</li> </ul>

<보기>

ㄱ. 대손상각의 대상이다.  
 ㄴ. 대차대조표 계정으로 분류한다.  
 ㄷ. 결산시 손익계정에 대체하여 마감한다.  
 ㄹ. 총계정원장 마감시 차기이월로 마감한다.(영미식)

① ㄱ, ㄴ                      ② ㄱ, ㄷ                      ③ ㄴ, ㄷ  
 ④ ㄴ, ㄹ                      ⑤ ㄷ, ㄹ

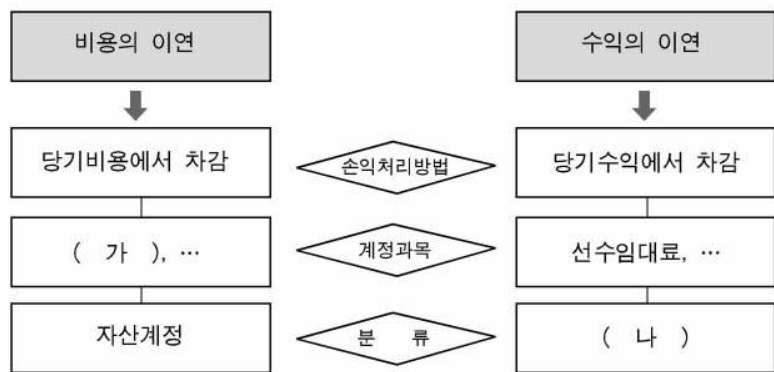
17. 건물을 취득한 후 지출에 대한 회계처리와 관련된 내용이다. 바르게 설명한 내용을 <보기>에서 고른 것은? [3점]

<보기>

ㄱ. 수익적 지출은 수익으로 계상한다.  
 ㄴ. 자본적 지출은 자산 증가로 계상한다.  
 ㄷ. 현상유지를 위한 지출은 수익적 지출이다.  
 ㄹ. 내용년수를 연장시키는 지출은 수익적 지출이다.

① ㄱ, ㄴ                      ② ㄱ, ㄷ                      ③ ㄴ, ㄷ  
 ④ ㄴ, ㄹ                      ⑤ ㄷ, ㄹ

18. 그림은 손익의 이연에 대한 내용이다. (가), (나)에 들어갈 내용을 바르게 짝지은 것은?



- | (가)      | (나)  |
|----------|------|
| ① 선급보험료  | 부채계정 |
| ② 선수이자   | 부채계정 |
| ③ 미지급이자  | 부채계정 |
| ④ 선급임차료  | 자산계정 |
| ⑤ 미지급임차료 | 자산계정 |

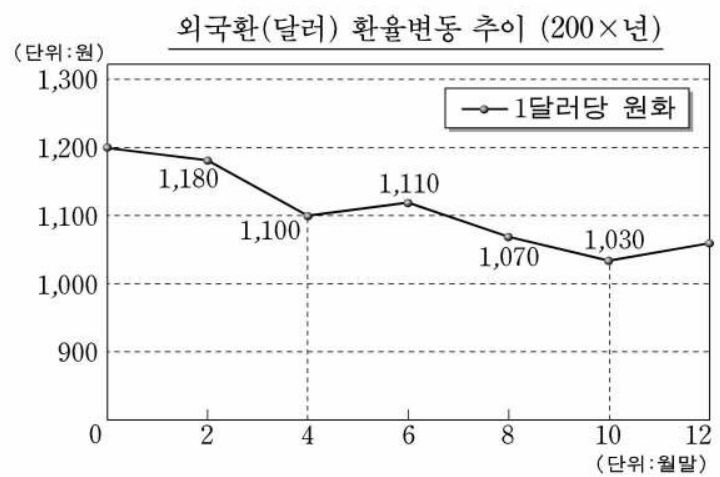
19. 다음 대화에서 (가)~(다)에 들어갈 보고서의 명칭을 바르게 짝지은 것은?

○ 주호: 재무제표가 뭐지?  
 ○ 유라: 간단히 말하면 기업의 여러 재무상황을 정리한 보고서이지.  
 ○ 주호: 그렇구나! 그럼 어떤 종류가 있을까?  
 ○ 유라: 우선 기업의 재무상태를 보여주는 ( 가 )가 있고, 기업의 경영성과를 나타내는 ( 나 )도 있지.  
 ○ 주호: 그래? 두 가지 보고서밖에 없어?  
 ○ 유라: 아니 더 있어. 기업의 현금 증감내역을 보여주는 ( 다 )가 있고, 또한 이익잉여금의 변동내역을 나타내는 이익잉여금처분계산서도 있어.

- | (가)     | (나)   | (다)   |
|---------|-------|-------|
| ① 대차대조표 | 현금흐름표 | 손익계산서 |
| ② 대차대조표 | 손익계산서 | 현금흐름표 |
| ③ 손익계산서 | 현금흐름표 | 대차대조표 |
| ④ 손익계산서 | 대차대조표 | 현금흐름표 |
| ⑤ 현금흐름표 | 손익계산서 | 대차대조표 |

20. 다음 거래를 아래와 같은 그래프를 이용하여 분개할 때 발생하는 계정과목으로 옳은 것은?

○○(주)는 4월 말에 차입하였던 외화단기차입금 \$2,000을 10월 말에 상환하였다.(단, 이자와 환전수수료 등은 없음)



- ① 외환차익                      ② 외환차손                      ③ 사채상환이익  
 ④ 사채상환손실                      ⑤ 채무면제이익

\* 확인 사항  
 ◦ 답안지의 해당란에 필요한 내용을 정확히 기입(표기)했는지 확인 하시오.