

6. 다음은 개인기업인 ○○상점의 매입장과 [갑상품 관련 자료]이다. 이를 통해 7월의 매출원가를 계산한 금액으로 옳은 것은? (단, 재고자산 장부 기록 방법은 계속기록법을 적용하고, 제시된 자료 외의 것은 고려하지 않는다.) [3점]

날짜	적요	금액
7 9	(A 상점) 현금 갑상품 400개 @₩1,000	400,000
10	(A 상점) 환출 갑상품 100개 @₩1,000	100,000
13	(B 상점) 외상 갑상품 600개 @₩2,000	1,200,000
31	총매입액 매입에누리 및 할인·환출액 순매입액	1,600,000 xxx xxx

[갑상품 관련 자료]

- 월초상품재고: 100개 @₩1,000
- 당월 매출 정보
- 7월 11일 300개 @₩3,000 - 7월 20일 400개 @₩4,000
- 상품의 인도 단가 결정 방법: 선입선출법 적용

- ① ₩600,000 ② ₩900,000 ③ ₩1,000,000
④ ₩1,500,000 ⑤ ₩1,600,000

7. 다음은 현금과 관련된 거래 내용이다. 이를 분개한 것으로 옳은 것만을 <보기>에서 있는 대로 고른 것은?

10월 10일 현금 장부잔액은 ₩150,000인데 실제잔액은 ₩200,000이다.

10월 11일 10월 10일의 초과액 중 ₩40,000은 임대료로 받았으나 기장을 누락한 것으로 판명되었다.

12월 31일 결산 시까지 초과액 ₩10,000에 대한 불일치의 원인이 밝혀지지 않았다.

<보기>

- ㄱ. 10월 10일: (차변) 현금 50,000 (대변) 현금과부족 50,000
ㄴ. 10월 11일: (차변) 현금과부족 40,000 (대변) 임대료 40,000
ㄷ. 12월 31일: (차변) 잡손실 10,000 (대변) 현금과부족 10,000

- ① ㄱ ② ㄷ ③ ㄱ, ㄴ ④ ㄴ, ㄷ ⑤ ㄱ, ㄴ, ㄷ

8. 다음은 ○○(주)의 거래를 기입한 전표와 이를 전기한 현금 계정이다. (가)에 해당하는 계정과목으로 옳은 것은?

계정과목	xxx	거래처	△△상점
적요			금액
상품을 매출하기로 하고 계약금 수령			1000000
합계		₩	1000000

- ① 매출 ② 선수금 ③ 당좌예금
④ 받을어음 ⑤ 외상매출금

9. 다음은 ○○(주)의 제3기 [외화차입금 관련 거래 내역]과 각 시점에 적용된 [원/달러 환율]이다. 거래 내역을 회계 처리 한 결과에 대한 설명으로 옳은 것을 <보기>에서 고른 것은? (단, 일반기업회계기준을 적용하고, 환전을 전제로 하며, 제시된 자료 외의 것은 고려하지 않는다.) [3점]

[외화차입금 관련 거래 내역]

- 12월 1일 US \$2,000를 6개월 상환 조건으로 차입하여 당좌 예입하다.
- 12월 23일 US \$1,000를 현금으로 조기 상환하다.
- 12월 31일 결산 시 외화차입금 잔액을 평가하다.

[원/달러 환율]

날짜	12월 1일	12월 23일	12월 31일
₩/US \$1	₩1,000	₩1,100	₩1,050

<보기>

- ㄱ. 12월 1일 비유동부채가 ₩2,000,000 증가한다.
ㄴ. 12월 23일 외환차손이 ₩100,000 발생한다.
ㄷ. 12월 31일 외화환산이익이 ₩50,000 발생한다.
ㄹ. 12월 31일 외화단기차입금이 ₩50,000 증가한다.

- ① ㄱ, ㄴ ② ㄱ, ㄷ ③ ㄴ, ㄷ ④ ㄴ, ㄹ ⑤ ㄷ, ㄹ

10. 다음은 개인기업인 ○○상점의 [2016년 재무상태 관련 자료]와 이월시산표이다. 이를 통해 알 수 있는 내용으로 옳은 것만을 <보기>에서 있는 대로 고른 것은? (단, 일반기업회계기준을 적용하고, 제시된 자료 외의 것은 고려하지 않는다.) [3점]

[2016년 재무상태 관련 자료]

- 기초 자산 ₩700,000 ○ 기초 부채 ₩200,000
- 추가 출자액 ₩400,000 ○ 기중 인출액 ₩100,000

이월시산표

차변	원면	계정과목	대변
600,000	생략	현금	
450,000		외상매출금	
150,000		단기매매증권	
200,000		이월상품비	
100,000		외상매입금	440,000
		미지급금	100,000
		단기차입금	60,000
		자본금	xxx
1,500,000			1,500,000

<보기>

- ㄱ. 기말 당좌자산은 ₩1,200,000이다.
ㄴ. 기말 자본은 ₩900,000이다.
ㄷ. 당기순이익은 ₩100,000이다.

- ① ㄱ ② ㄷ ③ ㄱ, ㄴ ④ ㄴ, ㄷ ⑤ ㄱ, ㄴ, ㄷ

11. 다음은 ○○(주)의 당좌예금출납장 일부이다. 이를 통해 8월 16일 거래를 추정하여 분개한 것으로 옳은 것은? (단, 당좌차월 계약을 맺고 있으며, 한도액은 ₩1,000,000이고, 제시된 자료 외의 것은 고려하지 않는다.)

당좌예금출납장

날짜	적요	예입	인출	차·대	잔액
8월 1	전월이월	300,000		차	300,000
10	상품 대금 지급		400,000	대	100,000
16	현금 당좌 예입	500,000		차	xxx

- | | 차변 | 대변 |
|--------|--------------|------------------------------|
| ① 현금 | 500,000 | 당좌차월 100,000
당좌예금 400,000 |
| ② 현금 | 600,000 | 당좌차월 100,000
당좌예금 500,000 |
| ③ 당좌예금 | 400,000 | 현금 400,000 |
| ④ 당좌차월 | 100,000 | 현금 500,000 |
| | 당좌예금 400,000 | |
| ⑤ 당좌차월 | 100,000 | 현금 600,000 |
| | 당좌예금 500,000 | |

12. 다음 기사에 나타난 회계 정보를 알 수 있는 재무제표로 가장 적절한 것은? (단, 일반기업회계기준을 적용한다.)

통신 장비 제조사인 △△기업은 2008년 해외 시장을 개척하여 10년 만에 처음으로 목표하였던 영업이익을 달성하였다. 이 기업은 수출 초기에 매출원가의 절감에 실패하여 손실을 보는 상황이 지속되었으나, 2016년부터 현지 정부의 인터넷 통신망과 차세대 이동 통신 인프라 확장 정책에 힘입어 올 상반기에는 매출액이 4,240만 달러를 기록하여 지난해 같은 기간과 비교해 3배 이상 증가하였다.
- ○○신문, 2017년 7월 10일 자 -

- ① 손익계산서 ② 자본변동표
③ 재무상태표 ④ 현금흐름표
⑤ 이익잉여금처분계산서

13. 다음은 ○○(주)의 제2기 자본과 관련된 정보이다. 이를 통해 기말 미처분이익잉여금을 계산한 금액으로 옳은 것은? (단, 일반기업회계기준을 적용하고, 제시된 자료 외의 것은 고려하지 않는다.) [3점]

○ 기초 자본 정보
- 자본금 ₩500,000 - 자본잉여금 ₩100,000
- 이익준비금 ₩100,000 - 미처분이익잉여금 ₩300,000

○ 기중 자본 변동에 관한 정보
- 전기 이익에 대한 중간 배당(현금) ₩100,000
- 이익준비금은 법정 최소 한도액으로 적립

○ 당기 경영성과 정보
- 당기순이익 ₩300,000

- ① ₩200,000 ② ₩300,000 ③ ₩490,000
④ ₩500,000 ⑤ ₩590,000

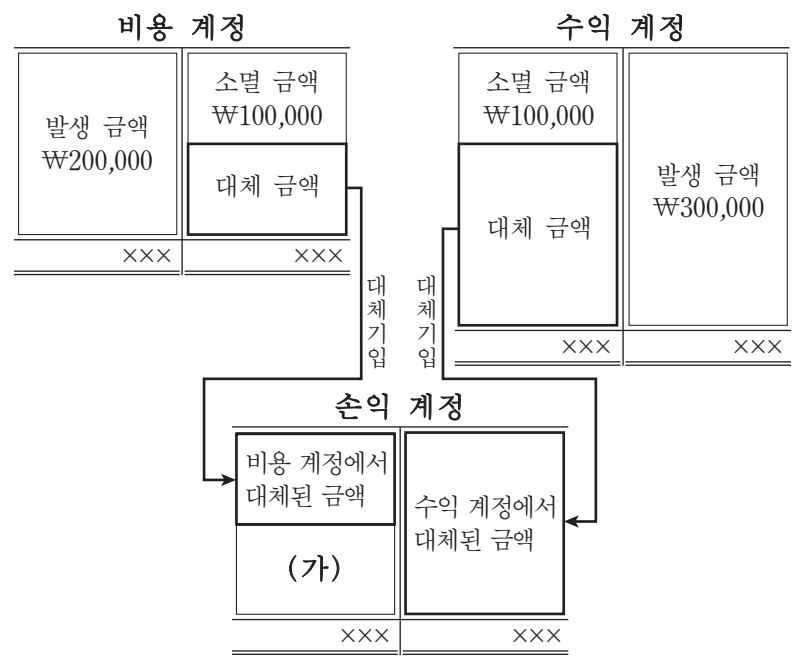
14. 다음은 ○○(주)의 자금 조달과 관련된 이사회 회의록 일부이다. 의결 사항을 실행하여 회계 처리 한 결과에 대한 설명으로 옳은 것을 <보기>에서 고른 것은? (단, 일반기업회계기준을 적용하고, 제시된 자료 외의 것은 고려하지 않는다.) [3점]

이사회 회의록			
일자	2017년 6월 1일(목)	장소	회의실
안건	사업 확장을 위한 자금 조달 건		
의결 사항	사업 확장에 필요한 자금을 조달하기 위하여 아래와 같이 유상 증자하기로 의결함 1. 발행주식 수: 100주 2. 액면금액: 1주당 ₩5,000 3. 발행금액: 1주당 ₩8,000 4. 납입금: 전액 당좌 예입하기로 함		

— <보기> —
 가. 자본금이 ₩500,000 증가되었다.
 나. 유동자산이 ₩500,000 감소되었다.
 다. 자본잉여금이 ₩300,000 증가되었다.
 르. 이익잉여금이 ₩800,000 감소되었다.

- ① 가, 나 ② 가, 다 ③ 나, 다 ④ 나, 르 ⑤ 다, 르

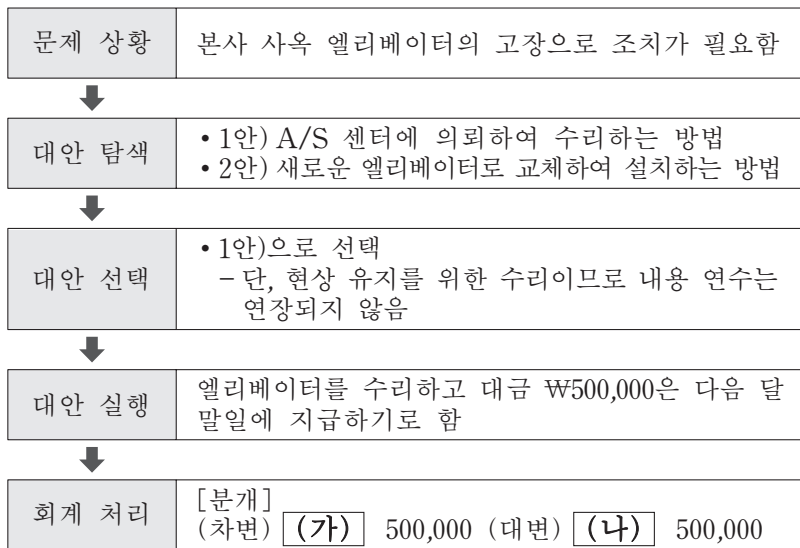
15. 다음은 개인기업인 ○○상점의 수익과 비용 계정을 마감하는 과정을 도식화한 것이다. (가)에 대한 설명으로 옳은 것을 <보기>에서 고른 것은? (단, 일반기업회계기준을 적용하고, 제시된 자료 외의 것은 고려하지 않는다.) [3점]



— <보기> —
 가. 자본을 증가시킨다.
 나. 판매비와관리비의 합계액이다.
 다. 영업외비용이 증가하면 감소된다.
 르. 기말 결산 시 이월상품 계정에 대체된다.

- ① 가, 나 ② 가, 다 ③ 나, 다 ④ 나, 르 ⑤ 다, 르

16. 다음은 ○○(주)의 문제 상황을 해결하는 과정을 나타낸 것이다. (가), (나)에 해당하는 계정과목으로 옳은 것은?



- | | | | |
|-------|-------|-------|-------|
| (가) | (나) | (가) | (나) |
| ① 건물 | 미지급금 | ② 건물 | 외상매입금 |
| ③ 수선비 | 당좌예금 | ④ 수선비 | 미지급금 |
| ⑤ 수선비 | 외상매입금 | | |

[17~18] 다음은 개인기업인 ○○상점의 수정 전 잔액시산표와 [결산 정리 사항]이다. 물음에 답하시오. (단, 회계기간은 1월 1일부터 12월 31일까지이고, 상품의 회계 처리는 3분법에 의하며, 제시된 자료 외의 것은 고려하지 않는다.)

○○상점	차 변	원면	계 정 과 목	대 변
	500,000		현 금	
	200,000		보 통 예 금	
	100,000		이 월 상 품	
	∴		∴	∴
		생	자 본 금	1,000,000
	1,500,000	략	매 출	3,000,000
	500,000		매 입	
	100,000		임 차 료	
	70,000		소 모 품 비 용	
	50,000		이 자 비 용	
	xxx			xxx

17. 위 자료에서 [결산 정리 사항]을 반영하여 계산한 판매비와관리비 금액으로 옳은 것은? [3점]

- ① ₩670,000 ② ₩680,000 ③ ₩700,000
④ ₩730,000 ⑤ ₩750,000

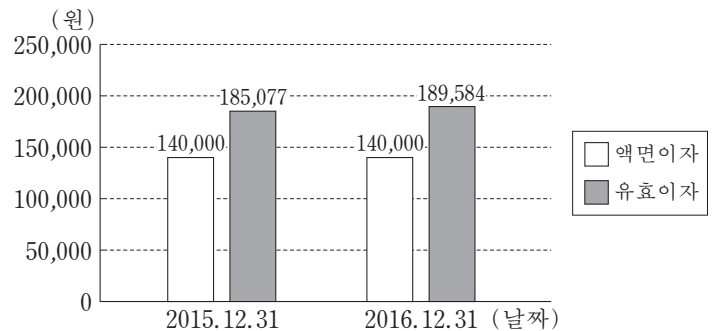
18. 위 자료에서 [결산 정리 사항]을 반영한 결과로 인하여 자산이 증가된 금액으로 옳은 것은?

- ① ₩20,000 ② ₩30,000 ③ ₩50,000
④ ₩80,000 ⑤ ₩100,000

19. 다음은 ○○(주)의 [사채 관련 자료]이다. 이를 통해 알 수 있는 내용으로 옳은 것을 <보기>에서 고른 것은? (단, 회계기간은 1월 1일부터 12월 31일까지이고, 유효이자 원미만 반올림하여 계산하며, 제시된 자료 외의 것은 고려하지 않는다.) [3점]

[사채 관련 자료]

- 발행일: 2015년 1월 1일 ○ 만기일: 2017년 12월 31일
- 액면금액: ₩2,000,000 ○ 발행금액: ₩1,850,766
- 이자 지급일: 매년 12월 31일(연 1회 현금 지급)
- 연도별 이자 변동 그래프



<보기>

- ㄱ. 사채의 유효이자율은 7%이다.
- ㄴ. 2015년 결산 시 손익계산서에 표시되는 이자비용은 ₩185,077이다.
- ㄷ. 2016년도 사채할인발행차금 상각 금액은 ₩49,584이다.
- ㄹ. 2016년 결산 후의 사채 장부금액은 ₩2,000,000이다.

- ① ㄱ, ㄴ ② ㄱ, ㄷ ③ ㄴ, ㄷ ④ ㄴ, ㄹ ⑤ ㄷ, ㄹ

20. 다음은 개인기업인 ○○상점의 [상품 매매 관련 인명 계정]과 [결산 정리 사항]이다. 결산 시 대손충당금 추가 설정액을 계산한 금액으로 옳은 것은? (단, 일반기업회계기준을 적용하고, 제시된 자료 외의 것은 고려하지 않는다.) [3점]

[상품 매매 관련 인명 계정]

1/ 1 전기이월	800,000	2/11 당좌예금	450,000
2/11 매 출	550,000	3/10 현 금	350,000
4/16 매 출	1,450,000	12/31 차기이월	2,000,000
	<u>2,800,000</u>		<u>2,800,000</u>

5/ 5 현 금	750,000	1/ 1 전기이월	500,000
12/31 차기이월	1,000,000	5/ 7 매 입	1,250,000
	<u>1,750,000</u>		<u>1,750,000</u>

[결산 정리 사항]

- 12월 31일 결산 시 외상매출금 잔액에 대하여 2%의 대손충당금을 설정하다. (단, 대손충당금의 설정 전 잔액은 ₩16,000이다.)

- ① ₩4,000 ② ₩16,000 ③ ₩24,000
④ ₩40,000 ⑤ ₩56,000

* 확인 사항

- 답안지의 해당란에 필요한 내용을 정확히 기입(표기)했는지 확인하시오.