

제 4 교시

직업탐구 영역(인간발달)

성명 수험 번호

1. 그림의 대화를 통해 알 수 있는 이 시기 아동의 발달 특성으로 옳은 것은? (단, 에릭슨의 심리 사회적 발달 이론에 근거한다.)



- ① 사회적 기술의 연습을 통해 근면성을 습득한다.
- ② 긍정적인 수용과 만족을 통해 자아 통합을 이룬다.
- ③ 자신이 설정한 목표의 달성을 통해 주도성을 확립한다.
- ④ 민감하고 애정적인 보살핌을 통해 신뢰감을 형성한다.
- ⑤ 타인과의 밀접한 관계 형성을 통해 친밀감을 형성한다.

2. 다음은 A~C 부족의 생활 특성을 조사한 결과이다. 이를 통해 알 수 있는 내용으로 적절한 것만을 <보기>에서 있는 대로 고른 것은? [3점]

- A 부족
남녀 모두 적대적이며 공격적인 행동이 많이 나타났다.
- B 부족
여성은 고기잡이, 농사짓기 등의 바깥일과 육아, 가사 등의 집안일을 담당하고, 남성은 집에서 화장을 하고 춤을 개발하는 등 예술적 활동에 치중하고 있다.
- C 부족
남녀 모두 집안일을 함께 하며 온순하고 평화스러운 모습으로 살고 있다.

<보기>
 ㄱ. A 부족의 남성은 아니마를 표출하고 있다.
 ㄴ. B 부족의 여성에게 역할 과부하 현상이 나타날 수 있다.
 ㄷ. A~C 부족의 남녀 성 역할은 생물학적 요인에 의해 결정된다.

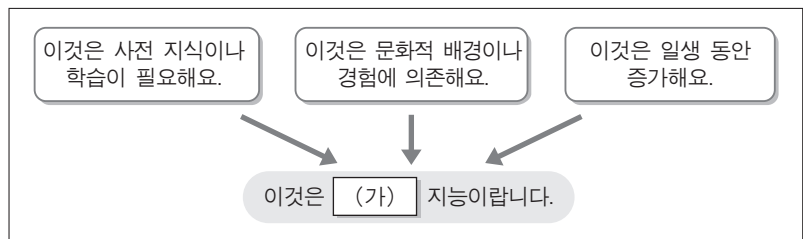
- ① ㄱ ② ㄴ ③ ㄱ, ㄷ
- ④ ㄴ, ㄷ ⑤ ㄱ, ㄴ, ㄷ

3. 다음 글을 통해 유추할 수 있는 인간 발달에 대한 관점으로 가장 적절한 것은?

- 불비는 영아기에 부모와 애착이 불안정하게 형성되면 성장 후 대인 관계에 어려움을 보인다고 믿었다.
- 프로이트는 영아기에 구강을 통한 욕구가 충족되지 못하면 성장 후 손톱을 물어뜯거나 과식을 하게 된다고 믿었다.

- ① 발달은 초기 경험이 중요하다.
- ② 발달의 순서는 일정하게 진행된다.
- ③ 발달의 속도에는 개인차가 존재한다.
- ④ 발달은 유전적 요인에 의해 결정된다.
- ⑤ 발달은 분화와 통합의 과정을 거친다.

4. 다음은 지능의 종류를 알아보기 위한 퀴즈이다. (가) 지능을 측정할 수 있는 요소로 옳은 것을 <보기>에서 고른 것은? [3점]



<보기>
 ㄱ. 단어 연상 ㄴ. 일반 상식
 ㄷ. 지각 속도 ㄹ. 추상적 추론

- ① ㄱ, ㄴ ② ㄱ, ㄷ ③ ㄴ, ㄷ
- ④ ㄴ, ㄹ ⑤ ㄷ, ㄹ

5. 그림은 분만 교육에 참여한 아버지들의 대화이다. 이를 통해 알 수 있는 분만 방법으로 가장 적절한 것은?



- ① 무통 분만 ② 겸자 분만 ③ 라마즈 분만
- ④ 르보이에 분만 ⑤ 스프롤로지 분만

6. 다음은 자아 개념의 형성 과정을 나타낸 것이다. (가) 시기 아동의 발달 특성으로 가장 적절한 것은? [3점]



- ① 도구적 공격성이 증가한다.
- ② 타율적 도덕성이 발달한다.
- ③ 체계적이고 조합적인 사고를 한다.
- ④ 자기 중심적인 개인적 우화를 만든다.
- ⑤ 타인의 관점과 사고를 이해하기 시작한다.

7. 그림의 대화는 아동의 언어 발달 특성을 나타낸 것이다. 이 시기 아동의 발달 특성으로 옳은 것을 <보기>에서 고른 것은?



<보기>

- ㄱ. 상징 놀이를 할 수 있다.
- ㄴ. 세발자전거를 탈 수 있다.
- ㄷ. 스무고개 놀이를 할 수 있다.
- ㄹ. 공간 지각 능력이 나타나기 시작한다.

- ① ㄱ, ㄴ ② ㄱ, ㄷ ③ ㄴ, ㄷ
- ④ ㄴ, ㄹ ⑤ ㄷ, ㄹ

8. 다음은 도덕적 갈등 [상황]에 대한 [질문]과 [답변]이다. 전인습적 수준에 해당하는 학생을 고른 것은? (단, 콜버그의 도덕성 발달 이론에 근거한다.) [3점]

[상황] 장발장은 빵집을 지나다가 굶주린 조카들이 생각나 빵을 훔쳤다.

[질문] 장발장의 행동에 대해 어떻게 생각하나요?

[답변]




- ◎ 경태 - 빵을 훔쳐서 도둑이 되면 조카들한테 부끄러운 삼촌이 되니까 안 돼요.
- ◎ 승연 - 나빠요. 남의 것을 훔치면 벌을 받아야 하니까 훔쳐서는 안 돼요.
- ◎ 자인 - 조카들을 위하는 마음은 알겠지만 법은 지켜져야 하니까 훔치는 것은 어떤 경우라도 안 돼요.
- ◎ 희동 - 빵집 주인도 돈을 벌기 위해 빵을 만들었으므로 장발장은 훔치지 말았어야 해요.

- ① 경태, 승연 ② 경태, 자인 ③ 승연, 자인
- ④ 승연, 희동 ⑤ 자인, 희동

9. 다음은 영아의 인지 발달 특성을 알아보기 위한 실험이다. 이 실험의 결과를 통해 알 수 있는 내용으로 가장 적절한 것은? [3점]

[실험 방법]

- 영아에게 그림 카드를 1, 2단계 순서로 보여준다.
- 각 단계에서 영아의 응시 시간을 측정한다.

<p>[1단계] 자극 A를 8회 반복하여 보여주고 응시 시간을 측정한다.</p> <div style="text-align: center;">  <p>자극 A</p> </div>	<p>[2단계] 습관화*된 자극 A와 새로운 자극 B를 동시에 보여주고 응시 시간을 측정한다.</p> <div style="display: flex; justify-content: space-around; align-items: center;"> <div style="text-align: center;">  <p>자극 A</p> </div> <div style="text-align: center;">  <p>자극 B</p> </div> </div>
---	--

[실험 결과]

- [1단계]에서 자극 제시 횟수가 늘어날수록 자극 A에 대한 영아의 응시 시간이 줄어들었다.
- [2단계]에서 영아는 습관화된 자극 A보다 새로운 자극 B를 더 오래 응시하였다.

* 습관화 : 어떤 자극이 여러 번 반복하여 제시되면 그 자극에 대해 반응하는 강도가 감소하는 것

- ① 재인 능력을 가지고 있다.
- ② 보존 개념이 형성되고 있다.
- ③ 만족 지연 능력을 가지고 있다.
- ④ 자아 통제 능력을 가지고 있다.
- ⑤ 대상 영속성의 개념이 형성되고 있다.

10. 그림에 나타난 부모의 양육 유형에 따른 자녀의 특성으로 적절한 것을 <보기>에서 고른 것은? (단, 바움린드가 제안한 부모 양육 유형에 근거한다.)

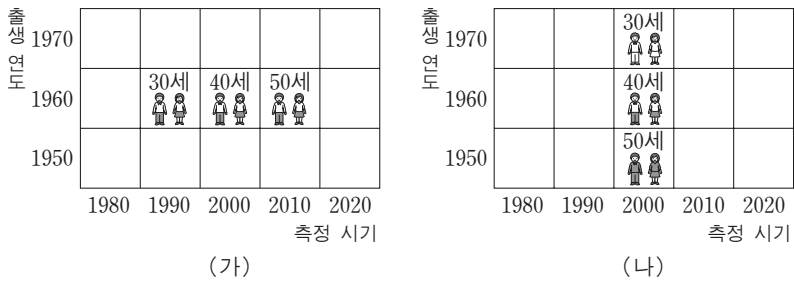


<보기>

- ㄱ. 의존적이며 책임감이 낮다.
- ㄴ. 자기 중심적이고 충동적이다.
- ㄷ. 자존감이 낮고 불신감이 많다.
- ㄹ. 복종적이며 자신감이 부족하다.

- ① ㄱ, ㄴ ② ㄱ, ㄷ ③ ㄴ, ㄷ
- ④ ㄴ, ㄹ ⑤ ㄷ, ㄹ

11. 그림은 두 가지 연구 방법을 도식화한 것이다. 연구 방법 (가), (나)에 대한 설명으로 옳은 것만을 <보기>에서 있는 대로 고른 것은? [3점]



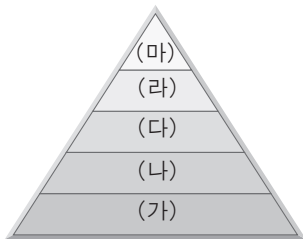
— <보기> —
 ㄱ. (가)는 서로 다른 연령 집단을 동시에 비교할 수 있다.
 ㄴ. (나)는 동시대 출생 집단 효과가 나타날 수 있다.
 ㄷ. (나)는 (가)에 비해 연구 수행 기간이 더 짧다.

- ① ㄱ ② ㄴ ③ ㄱ, ㄷ
- ④ ㄴ, ㄷ ⑤ ㄱ, ㄴ, ㄷ

12. 다음은 어느 여성의 일기이다. 이 글에 나타난 여성의 욕구로 가장 적절한 것을 [매슬로의 위계적 욕구 단계]에서 고른 것은?

2011년 ○월 ○일

드디어 내일은 내 인생에서 첫 개인전을 여는 날이다. 너무 기뻐서 잠이 안 온다. 50세라는 뒤늦은 나이에 대학에 들어가 미술을 전공한다고 했을 때 사람들은 왜 사서 고생을 하냐고 했었다. 하지만 내가 얼마나 그림을 그리고 싶어했는지 아무도 몰랐을 것이다. 이제야 내 꿈이 이루어진 것이다. 60세인 내가 여는 첫 개인 전시회! 전업 주부였던 내가 평생 소원했던 그림을 마음껏 그릴 수 있게 되었다는 사실이 정말 행복하다.



[매슬로의 위계적 욕구 단계]

- ① (가) ② (나) ③ (다) ④ (라) ⑤ (마)

13. 다음은 어린이급식관리지원센터에 관한 신문 기사이다. 밑줄 친 ㉠~㉤에 해당하는 환경 체계로 옳은 것은? (단, 환경 체계의 중심은 아동이며, 브론펜브레너의 생태학 이론에 근거한다.) [3점]

식품의약품안전청은 어린이집, 유치원에 다니는 아동의 먹거리와 건강에 대한 ㉠ 부모의 걱정을 해소하기 위해 2015년까지 전국에 70여 곳의 어린이급식관리지원센터를 설치하여 운영할 계획이라고 밝혔다.

올해는 경기도 하남시를 시작으로 서울, 인천 등 10개 ㉡ 지방자치단체에 ㉢ 어린이급식관리지원센터를 설치할 예정이다. 센터에 소속된 ㉣ 영양사 등의 전문가가 ㉤ 어린이집이나 유치원을 직접 순회 방문해서 맞춤형 식단 제공, 영양 교육, 식사 및 식자재 관리 지도 등을 실시하게 된다.

-○○신문, 2011년 3월 24일자-

- ① ㉠ - 외체계 ② ㉡ - 중간 체계
- ③ ㉢ - 중간 체계 ④ ㉣ - 거시 체계
- ⑤ ㉤ - 미시 체계

14. 다음은 상실의 상황에 대한 자녀의 심리적 반응이다. 큐블러로스카 제시한 죽음 전의 심리적 변화 단계를 적용하여 (가)~(다)에 해당하는 반응으로 적절한 것을 <보기>에서 고른 것은? [3점]

상실의 상황 다행해 보이던 부모님이 갑자기 황혼 이혼을 결정하셨다.

심리적 반응

부모님이 이혼을 하신다니 그럴 리 없어. 사실이 아닐 거야.

↓

(가)

↓

(나)

↓

(다)


↓

두 분도 많이 괴로우셨겠지. 힘들게 내리신 결정이라면 받아들여야지.

— <보기> —
 ㄱ. 왜 하필이면 나에게 이런 일이 생긴 거야.
 ㄴ. 이제부터 두 분께 더 잘 하면 이혼을 막을 수 있을 거야.
 ㄷ. 그냥 혼자 있고 싶어. 누구와도 이런 얘기를 하고 싶지 않아.

- | | (가) | (나) | (다) |
|---|-----|-----|-----|
| ① | ㄱ | ㄴ | ㄷ |
| ② | ㄱ | ㄷ | ㄴ |
| ③ | ㄴ | ㄱ | ㄷ |
| ④ | ㄴ | ㄷ | ㄱ |
| ⑤ | ㄷ | ㄱ | ㄴ |

15. 그림은 아동이 낱말을 기억하는 방법을 나타낸 것이다. 아동 A~C가 사용한 기억 방법에 대한 설명으로 옳은 것은? [3점]



- ① 아동 A의 기억법은 상위 개념과 하위 개념에 대한 이해를 필요로 한다.
- ② 아동 B의 기억법은 유아기 아동이 주로 사용하는 방법이다.
- ③ 아동 C는 공통점을 찾아 유목화하는 기법을 사용하였다.
- ④ 아동 A는 조직화 방법을 사용하였고, 아동 B는 정교화 방법을 사용하였다.
- ⑤ 아동 A~C는 모두 단기 기억을 장기 기억으로 바꾸는 전략을 사용하였다.

16. 그림은 임신부가 경험하는 상황을 나타낸 것이다. (가), (나)에 나타난 태내 발달 시기의 특징으로 옳은 것만을 <보기>에서 있는 대로 고른 것은?



— < 보 기 > —
 ㄱ. (가)시기는 배아기이다.
 ㄴ. (가)시기에는 외배엽, 중배엽, 내배엽이 분화된다.
 ㄷ. (나)시기는 신체 기관이 형성되는 결정적인 시기이다.

- ① ㄱ ② ㄷ ③ ㄱ, ㄴ
 ④ ㄴ, ㄷ ⑤ ㄱ, ㄴ, ㄷ

17. 다음 실험의 결과로 알 수 있는 아동의 사고 특성으로 옳은 것은? [3점]

[과제] 인형의 자리(B지점)에서 보이는 나무 블록의 모양 찾기

[방법]

1. 아동에게 테이블을 돌아보며 나무 블록의 모양을 살펴보게 한다.
2. A 지점에 아동을 앉게 하고 B 지점에 인형을 앉힌다.
3. 그림 카드 (가), (나) 중 인형의 자리(B지점)에서 보이는 나무 블록의 모양을 아동에게 선택하게 한다.

[결과]

아동은 그림 카드 (나)를 선택하였다.

- ① 가설적 사고 ② 직관적 사고
 ③ 물활론적 사고 ④ 인공론적 사고
 ⑤ 탈중심적 사고

18. 그림의 대화를 통해 알 수 있는 노부부의 노화 적응 유형으로 가장 적절한 것은?



- | | |
|---------|--------|
| 아내 | 남편 |
| ① 성숙형 | 분노형 |
| ② 성숙형 | 무장 방어형 |
| ③ 흔들의자형 | 분노형 |
| ④ 흔들의자형 | 성숙형 |
| ⑤ 흔들의자형 | 무장 방어형 |

19. 다음 글의 밑줄 친 ㉠, ㉡에 해당하는 사랑의 유형으로 적절한 것은?

홍스 판사는 ㉠ 고등학교 때 지금의 아내인 세실리를 보고 첫눈에 반해 사랑에 빠졌다. 서로에게 첫사랑이었던 두 사람은 설레는 마음으로 데이트를 하며 꿈 같은 시간을 보냈다. 두 사람은 마침내 결혼을 하였고 홍스 판사는 나이가 들어갈수록 아내에 대한 사랑이 깊어졌다고 말했다. 그의 아내인 세실리도 ㉡ “결혼한 지 50년이 지난 지금도 편안한 친구 같아요. 우리 늘 함께 해요. 남편과 같이 정원을 가꿀 때는 정말 즐거워요.” 라고 말했다.

- | | |
|-----------|---------|
| ㉠ | ㉡ |
| ① 이타적 사랑 | 성적 사랑 |
| ② 이타적 사랑 | 동반자적 사랑 |
| ③ 낭만적 사랑 | 성적 사랑 |
| ④ 낭만적 사랑 | 동반자적 사랑 |
| ⑤ 동반자적 사랑 | 낭만적 사랑 |

20. 그림의 대화에 나타난 의사 소통에 대한 설명으로 적절한 것을 <보기>에서 고른 것은?



— < 보 기 > —
 ㄱ. 아빠의 표정은 비언어적 의사 소통이다.
 ㄴ. 엄마는 의사 소통에서 비중심적인 인물이다.
 ㄷ. 딸은 나 전달법을 사용하여 대화하고 있다.
 ㄹ. 가족은 완전 통로형의 의사 소통을 하고 있다.

- ① ㄱ, ㄴ ② ㄱ, ㄷ ③ ㄴ, ㄷ
 ④ ㄴ, ㄹ ⑤ ㄷ, ㄹ

* 확인 사항
 ○ 답안지의 해당란에 필요한 내용을 정확히 기입(표기)했는지 확인 하시오.