

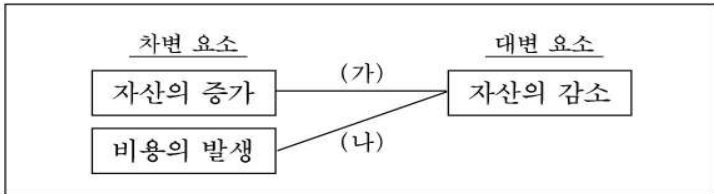
제 4 교시

직업탐구 영역(회계 원리)

성명 수험 번호

- 자신이 선택한 과목의 문제지인지 확인하십시오.
- 문제지에 성명과 수험 번호를 정확히 써 넣으십시오.
- 답안지에 성명과 수험 번호를 써 넣고, 또 수험 번호와 답을 정확히 표시하십시오.
- 과목을 선택한 순서대로 풀고, 답은 답안지의 '제1선택'란에서부터 차례대로 표시하십시오.
- 문항에 따라 배점이 다르니, 각 물음의 끝에 표시된 배점을 참고하십시오. 3점 문항에만 점수가 표시되어 있습니다. 점수 표시가 없는 문항은 모두 2점입니다.

1. 그림에서 제시된 (가), (나)의 결합 관계가 동시에 일어날 수 있는 거래를 <보기>에서 모두 고른 것은?



<보 기>

ㄱ. 현금 W400,000과 건물 W600,000을 출자하여 영업을 시작하다.

ㄴ. 상품 W300,000을 주문하고, 계약금 W50,000을 현금으로 지급하다.

ㄷ. 취득원가 W300,000인 토지를 W250,000에 처분하고, 대금은 현금으로 받다.

- ① ㄱ ② ㄴ ③ ㄷ ④ ㄱ, ㄴ ⑤ ㄴ, ㄷ

2. 다음 상품재고장에 대해 바르게 이해한 학생을 <보기>에서 고른 것은? [3점]

상품재고장											
(후입선출법) 품명 : 갑상품 (단위 : 원)											
월	일	적 요	인 수			인 도			잔 액		
			수량	단가	금액	수량	단가	금액	수량	단가	금액
6	1	전월이월	500	150	75,000				500	150	75,000
	15	매 입	300	200	60,000				500	150	75,000
	20	매 출				300	200	60,000	300	200	60,000
	30	차월이월				500	150	75,000	500	150	75,000
			800		135,000	800		135,000			
7	1	전월이월	500	150	75,000				500	150	75,000

<보 기>

선화: 6월 갑상품의 판매가능 상품액은 60,000원이지.

철수: 6월 중 갑상품 총매입액은 135,000원이다.

명수: 6월 갑상품의 매출원가는 60,000원이군.

영이: 6월 갑상품의 월말상품재고액은 75,000원이지.

- ① 선화, 명수 ② 선화, 영이 ③ 철수, 명수
④ 철수, 영이 ⑤ 명수, 영이

3. 다음 거래를 분개장에 기입할 때, (가), (나)에 기입되는 계정과목을 바르게 짝지은 것은?(단, 분개장의 원면 기입은 생략한다.)

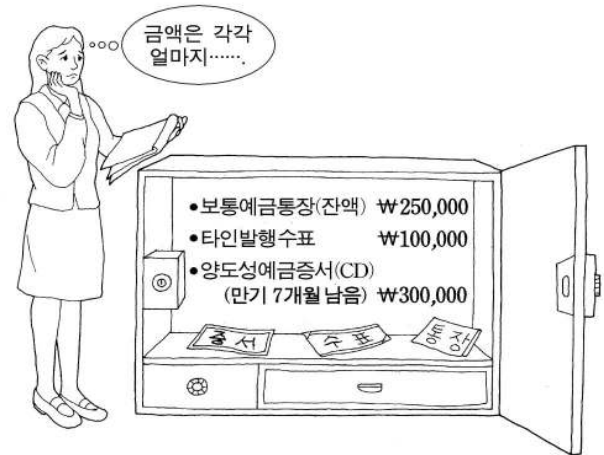
8월 4일 본사 영업부 직원들의 회식비 W100,000을 현금으로 지급하다.

8월 7일 건물의 구조를 변경하고, 대금 W500,000을 현금으로 지급하다. (자본적 지출로 처리한다.)

분 개 장				
(1)				
월 일	적 요	원면	차 변	대 변
8 4	(가) (현 금) 본사 영업부 직원들의 회식비 지급		100,000	100,000
7	(나) (현 금) 건물의 구조를 변경하고, 자본적 지출로 처리		500,000	500,000

- | | |
|---------|-----|
| (가) | (나) |
| ① 접대비 | 건물 |
| ② 접대비 | 수선비 |
| ③ 복리후생비 | 건물 |
| ④ 복리후생비 | 잡손실 |
| ⑤ 여비교통비 | 수선비 |

4. 그림은 2004년 12월 31일 현재, 금고 안의 자산 내역을 실사한 현황이다. 이 자산을 현금 및 현금등가물과 단기금융상품 계정으로 분류하여 각각의 금액을 바르게 계산한 것끼리 짝지은 것은?



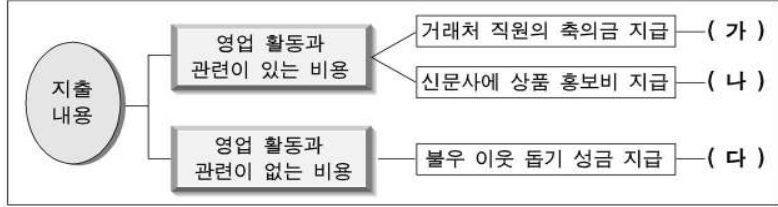
- | | |
|------------|----------|
| 현금 및 현금등가물 | 단기금융상품 |
| ① W100,000 | W550,000 |
| ② W250,000 | W400,000 |
| ③ W300,000 | W350,000 |
| ④ W350,000 | W300,000 |

⑤

₩400,000

₩250,000

5. 그림은 기업 활동에서 지출한 광고선전비, 기부금, 접대비를 분류하는 내용을 나타낸 것이다. (가)~(다)에 해당하는 차변 계정과목으로 옳은 것은?



- | | | |
|---------|-------|-------|
| (가) | (나) | (다) |
| ① 기부금 | 광고선전비 | 접대비 |
| ② 접대비 | 광고선전비 | 기부금 |
| ③ 접대비 | 기부금 | 광고선전비 |
| ④ 광고선전비 | 기부금 | 접대비 |
| ⑤ 광고선전비 | 접대비 | 기부금 |

- | | |
|---------|----------|
| ④ 보험료 | 채무면제이익 |
| ⑤ 선수수수료 | 유형자산처분이익 |

6. 그림은 건물에 화재가 발생하여 보험금을 청구하고 나서 보험금 지급 통보를 받은 과정을 나타낸 것이다. 이에 대한 회계 처리 내용으로 옳은 것을 <보기>에서 모두 고른 것은? [3점]



- <보 기>
- ㉠. 보험금 청구 시 미결산 계정 금액은 ₩3,600,000이다.
 ㉡. 보험금 지급 통보를 받았을 때 보험차익이 발생한다.
 ㉢. 화재가 발생한 건물의 감가상각 기장 방법은 직접법이다.

- ① ㉠ ② ㉡ ③ ㉢ ④ ㉠, ㉡ ⑤ ㉡, ㉢

7. 그림은 기업회계기준에 따른 수익의 분류를 나타낸 것이다. (가), (나)에 들어갈 수 있는 계정과목을 바르게 짝지은 것은?



- | | |
|-------|--------|
| (가) | (나) |
| ① 임대료 | 감가상각비 |
| ② 임대료 | 채무면제이익 |
| ③ 보험료 | 감가상각비 |

11. 다음 2004년도 거래 내역을 <계산식>에 대입하였을 때, (가)항목의 금액으로 바른 것은? [3점]

1월 1일 전기로부터 이월된 상품 W50,000이 있다.
 9월 4일 상품 W100,000을 외상으로 매입하고, 당사 부담의 운반비 W10,000은 현금으로 지급하다.
 12월 31일 창고에 이월상품 W60,000이 있음을 확인하다.
 (단, 상품에 대한 재고감모손실액과 재고평가손실액은 없다.)

<보 기>
 기초상품재고액 + (가) - 기말상품재고액 = 상품매출원가

- ① W50,000 ② W60,000 ③ W90,000
- ④ W100,000 ⑤ W110,000

12. 다음 조사 보고서의 내용에 대해 바르게 이해한 학생을 <보기>에서 고른 것은? [3점]

○○주식회사 탐방 조사 보고서

1. 주 제 : 주식회사의 자금 조달 방법
 2. 모둠명 : 꿈나무
 3. 자금 조달 조사 결과
 ○ 조달 방법 : 주식발행 (보통주)
 ○ 조달 내용 : 발행주식수 10,000주
 1주당 액면가액 W5,000
 1주당 발행가액 W8,000
 ○ 납입금 : 전액 당좌예입

<보 기>
 영철 : 주식의 발행 방법은 할증발행이야.
 철수 : 이자수익도 발생하지.
 선희 : 주식을 발행한 것이니까 부채가 증가한 거야.
 미영 : 보통주 자본금은 발행주식수에 1주당 액면가액을 곱하여 계산하지.

- ① 영철, 철수 ② 영철, 미영 ③ 철수, 미영
- ④ 철수, 선희 ⑤ 선희, 미영

13. 다음은 단기매매증권의 취득과 평가에 대한 거래이다. 결산일에 수정분개를 하였을 때, 당기순이익에 미치는 영향으로 옳은 것은? (단, 그 밖의 수익과 비용은 고려하지 않는다.) [3점]

9월 1일 단기 보유 목적으로 ○○주식회사의 주식 100주를 1주당 W10,000(액면가액 W5,000)에 취득하고, 대금은 현금으로 지급하다.
 12월 31일 결산일 현재, 위 주식 100주를 1주당 W13,000으로 평가하다.
 (단기매매증권은 2002년 기업회계기준 개정 전에는 유가증권이라 하였음.)

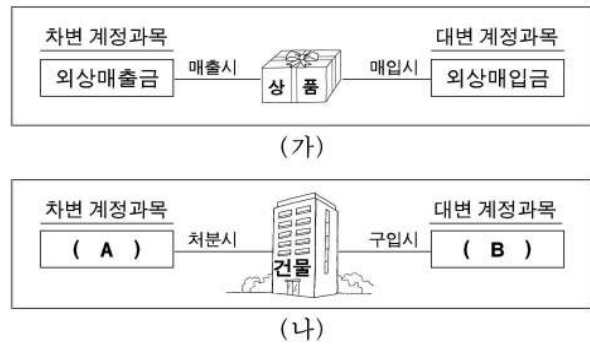
- ① W300,000 증가 ② W300,000 감소 ③ W500,000 증가

④ W800,000 증가 ⑤ W800,000 감소
 14. 그림 (가)와 (나)는 △△주식회사가 영업활동 과정에서 받은 영수증이다. 이것을 회계처리할 때, 공통된 차변 계정과목으로 옳은 것은?



- ① 통신비 ② 수선비 ③ 이자비용
- ④ 대손상각비 ⑤ 수도광열비

15. (가)는 상품을, (나)는 영업용 건물을 전액 외상 거래한 내역을 나타낸 그림이다. 그림 (가)를 참고하여 그림 (나)의 건물을 회계처리할 때, (A), (B)에 들어갈 계정과목을 바르게 짝지은 것은?



- (A) (B)
- ① 가수금 선수금
- ② 선수금 예수금
- ③ 미수금 선수금
- ④ 미수금 미지급금
- ⑤ 예수금 미지급금

16. 다음은 ○○주식회사의 경영성과를 나타낸 표이다. (가)를 작성하는 기준으로 옳은 것을 <보기>에서 고른 것은?

(가)

○○주식회사	2004년 1월 1일부터	2004년 12월 31일까지	(단위:원)
과 목	당 기	전 기	
I. 매출액		5,600,000	(생략)
II. 매출원가		2,850,000	
1. 기초상품재고액	1,600,000		
2. 당기매입액	2,950,000		
3. 기말상품재고액	1,700,000		
III. 매출총이익		2,750,000	
IV. 판매비와 수수료			
V. 판매원급부			
VI. 법인세비용		146,000	
VII. 당기순이익		1,879,000	

<보 기>

ㄱ. 1년 기준	ㄴ. 발생주의
ㄷ. 수익과 비용의 대응	ㄹ. 잉여금의 구분 표시

- ① ㄱ, ㄴ ② ㄱ, ㄷ ③ ㄴ, ㄷ ④ ㄴ, ㄹ ⑤ ㄷ, ㄹ

17. 다음 당기말 자료를 이용하여 개인기업의 대차대조표를 작성하고자 한다. 유동성배열법으로 (A)~(D)를 기입할 때, (B)와 (C)에 들어갈 계정과목과 금액으로 옳은 것끼리 짝지은 것은? [3점]

- 건물 W150,000 ◦ 상품 W30,000
- 매출채권 W20,000 ◦ 현금 및 현금등가물 W10,000

대차대조표			
○○상회		2004년 12월 31일 현재	
(단위: 원)			
(A)	매입채무		40,000
(B)	미지급비용		80,000
(C)	자본금		140,000
(D)	(당기순이익 30,000)		
개발비		50,000	
		260,000	260,000

- | | |
|---------------------|------------|
| (B) | (C) |
| ① 건물 150,000 | 상품 30,000 |
| ② 매출채권 20,000 | 건물 150,000 |
| ③ 매출채권 20,000 | 상품 30,000 |
| ④ 현금 및 현금등가물 10,000 | 건물 150,000 |
| ⑤ 현금 및 현금등가물 10,000 | 상품 30,000 |

18. 다음 거래를 전표에 기입하고자 한다. 출금전표에서 (가)와 대체전표에서 (나)에 해당되는 계정과목으로 옳은 것끼리 짝지은 것은? (단, 3전표 제도를 채택하고 있다.) [3점]

- 5월 10일 갑문구점에서 사무용 복사용지를 W30,000에 현금으로 구입하다. (단, 비용으로 처리한다.)
- 5월 25일 을가구점에서 사무용 책상을 W100,000에 구입하고, 대금은 당좌수표를 발행하여 지급하다.

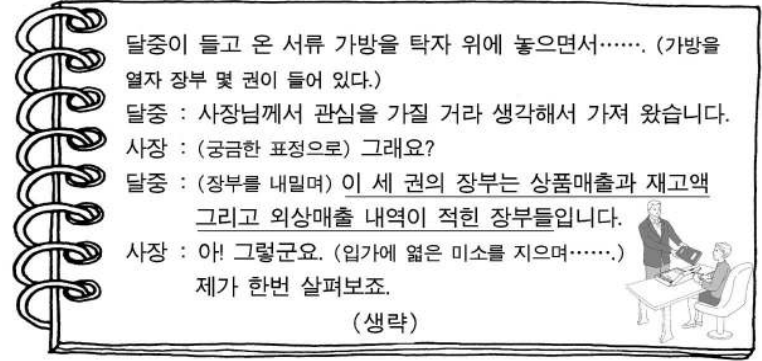
출금전표			
No. 31		2005년 5월 10일	
(단위: 원)			
계정과목	(가)	거래처	갑문구점
	적요		금액
	사무용 복사용지 구입		30000
	합계		W30000

대체전표			
No. 40		2005년 5월 25일	
(단위: 원)			
계정과목	차변	계정과목	대변
(나)	100000	당좌예금	100000
	합계	합계	W100000
적요	을가구점에서 사무용 책상 구입		

- | | |
|--------|-----|
| (가) | (나) |
| ① 현금 | 상품 |
| ② 현금 | 소모품 |
| ③ 소모품 | 비품 |
| ④ 소모품비 | 상품 |

⑤ 소모품비 비품

19. 다음은 사장이 거래와 관련된 장부를 검토하려는 대본의 일부이다. 밑줄 친 부분과 관련된 보조장부를 <보기>에서 고른 것은?



- <보 기>
- | | | |
|-----------|------------|----------|
| ㄱ. 매출장 | ㄴ. 매출처원장 | ㄷ. 상품재고장 |
| ㄹ. 유형자산대장 | ㅁ. 지급어음기입장 | |

- | | | |
|-----------|-----------|-----------|
| ① ㄱ, ㄴ, ㄷ | ② ㄱ, ㄷ, ㄹ | ③ ㄱ, ㄷ, ㅁ |
| ④ ㄴ, ㄷ, ㅁ | ⑤ ㄴ, ㄹ, ㅁ | |

20. 다음 자료는 사채의 발행에 관한 내역을 기입한 대차대조표의 일부이다. A기업과 B기업에 관한 내용에 해당하는 것을 <보기>에서 골라 바르게 짝지은 것은? [3점]

대차대조표(보고식)		
A기업		2004년 12월 31일 현재
(단위: 원)		
과목	금	액
사채	200,000	
사채할증발행차금	10,000	210,000

대차대조표(보고식)		
B기업		2004년 12월 31일 현재
(단위: 원)		
과목	금	액
사채	100,000	
사채할인발행차금	(5,000)	95,000

- <보 기>
- ㄱ. 발행가액이 액면금액과 같다.
 - ㄴ. 발행가액이 액면금액보다 낮다.
 - ㄷ. 발행가액이 액면금액보다 높다.

- | | |
|-----|-----|
| A기업 | B기업 |
| ① ㄱ | ㄴ |
| ② ㄱ | ㄷ |
| ③ ㄴ | ㄷ |
| ④ ㄷ | ㄱ |
| ⑤ ㄷ | ㄴ |

* 확인 사항
 ◦ 답안지의 해당란에 필요한 내용을 정확히 기입(표기)했는지 확인 하시오.