

2005학년도 11월 고2 전국연합학력평가 문제지

사회탐구 영역 (세계지리)

제 4 교시

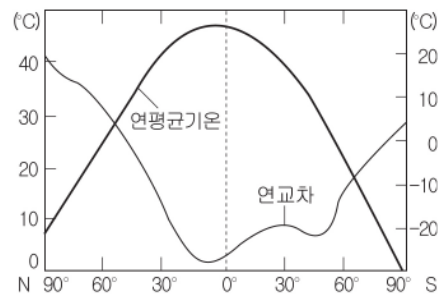
성명

수험번호

1

- 먼저 수험생이 선택한 과목의 문제지인지 확인하시오.
- 반드시 자신이 선택한 과목의 문제지를 풀어야 합니다.
- 문제지에 성명과 수험 번호를 정확히 기입하시오.
- 답안지에 수험 번호, 선택 과목, 답을 표기할 때에는 반드시 '수험생 이 지켜야 할 일'에 따라 표기하시오.
- 문항에 따라 배점이 다르니, 각 물음의 끝에 표시된 배점을 참고하시오. 3점 문항에만 점수가 표시되어 있습니다. 점수 표시가 없는 문항은 모두 2점씩입니다.

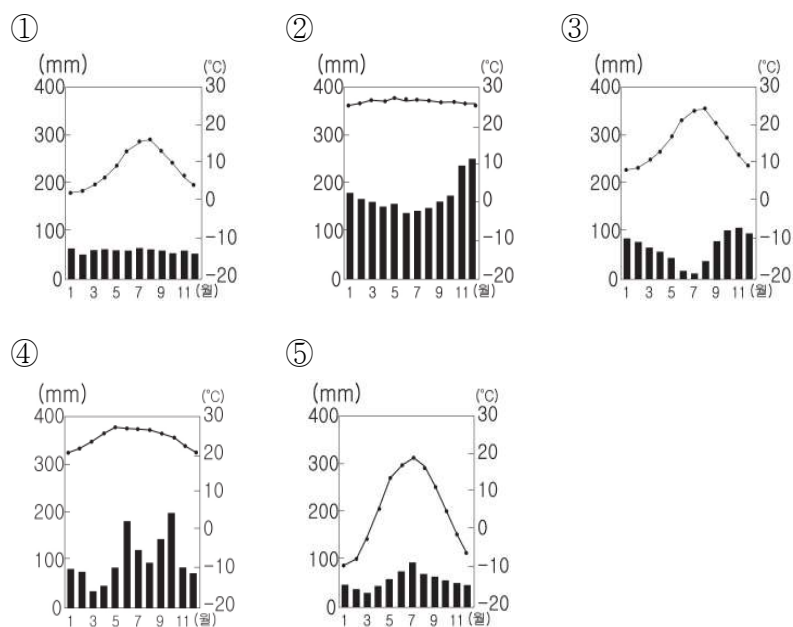
1. 다음은 위도별 연평균 기온과 연교차를 나타낸 것이다. 이를 바르게 설명한 것은? [3점]



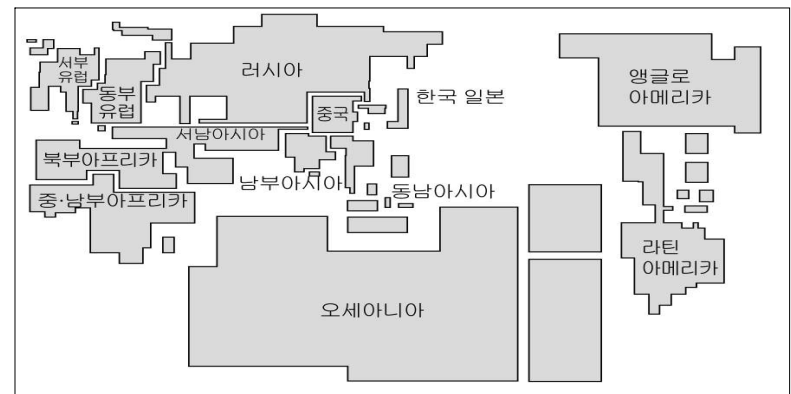
- ① 고위도로 갈수록 연평균 기온은 높아진다.
- ② 연평균 기온과 연교차는 대체로 반비례한다.
- ③ 연평균 기온은 남극 지방이 북극 지방보다 높다.
- ④ 고위도 지역의 연교차는 남반구가 북반구보다 크다.
- ⑤ 저위도에서 고위도로 가면서 대체로 연교차는 작아진다.

2. 다음은 어느 학생이 겨울 방학 중에 여행하고자 하는 지역에 대해 메모한 것이다. 이 지역의 기후 그래프로 바르게 것은?

• 나뭇잎은 두껍고 단단함
• 고대 문명의 유적지가 많음
• 오렌지 생산과 포도주로 유명함



3. 다음은 지역별 인구당 자원 보유 정도와 1인당 국내 총소득을 나타낸 것이다. 이를 분석한 내용으로 바르게 것을 <보기>에서 고르면? [3점]



지역	1인당 국내 총소득(달러)	지역	1인당 국내 총소득(달러)
앵글로 아메리카	26,025	서남아시아	3,400
서부 유럽	24,016	북부 아프리카	2,924
한국, 일본	20,260	라틴 아메리카	2,924
오세아니아	17,470	러시아	909
동남아시아	4,015	남부아시아	472
		중남부 아프리카	444

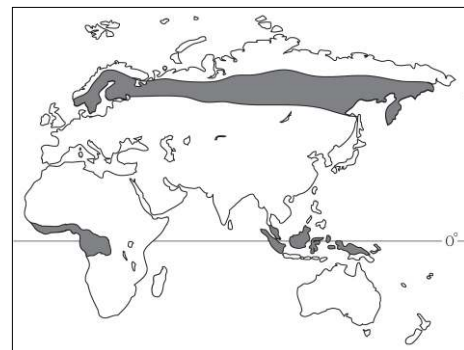
※ 국내 총소득은 지역 평균치임

<보기>

- ㄱ. 남부 아시아는 인구에 비해 자원이 빈약한 편이다.
- ㄴ. 오세아니아와 러시아는 자원이 풍부하나 인구가 적은 편이다.
- ㄷ. 한국과 일본은 자원이 빈약하여 1인당 에너지 소비량이 적은 편이다.
- ㄹ. 라틴 아메리카와 서남 아시아는 자원이 빈약하여 경제적으로 빈곤한 편이다.

- ① ㄱ, ㄴ
- ② ㄱ, ㄷ
- ③ ㄴ, ㄷ
- ④ ㄴ, ㄹ
- ⑤ ㄷ, ㄹ

4. 지도에 검게 표시된 지역의 공통적인 특징은?



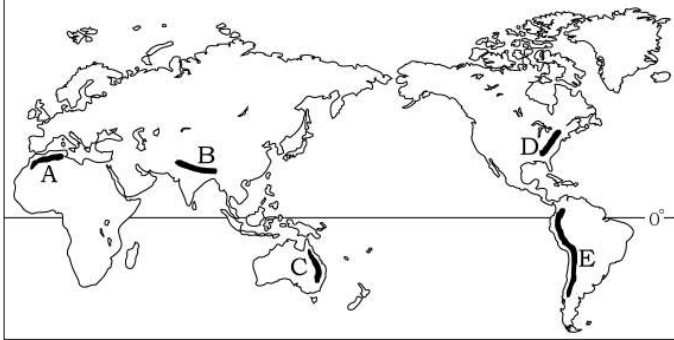
- ① 세계적인 삼림지대를 이룬다.
- ② 연중 대류성 강수가 나타난다.
- ③ 연교차에 비해 일교차가 크다.
- ④ 상업적 플랜테이션이 행해진다.
- ⑤ 기계적 풍화가 우세하게 나타난다.

2

사회탐구 영역 (세계지리)

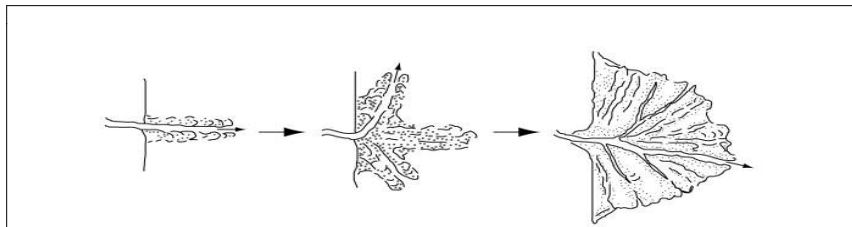
5. 다음 자료와 관계 깊은 산지를 지도에서 찾으면?

- 석탄이 대량으로 매장되어 있다.
- 고생대에 습곡작용으로 육지화 되었다.
- 장기간 침식을 받아 고도가 높지 않고, 지반이 안정되어 있다.



- ① A, B ② A, E ③ B, C
 ④ C, D ⑤ D, E

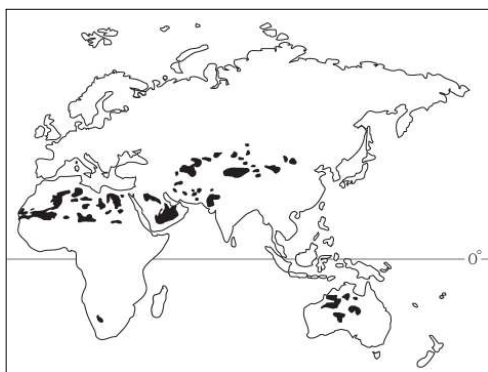
6. 다음은 하천 지형에 대한 수업장면이다. 학생의 발표 내용으로 바르지 않은 것은?



교사 : 위의 그림에 나타난 지형은 약 2,500년 전에 헤로도투스가 삼각형을 뜻하는 그리스 문자(Δ)를 따서 '델타'라고 했습니다. 이 지형에 대하여 조사한 내용을 발표해 봅시다.

- ① 정미 : 하구 일대의 지형에 따라 형태가 다양해집니다.
- ② 희승 : 유속의 감소로 운반 물질이 퇴적되어 만들어집니다.
- ③ 순영 : 나일강, 갠지스강, 메콩강 등에서도 볼 수 있습니다.
- ④ 진수 : 조석의 영향을 많이 받는 하천에서는 잘 형성되지 않습니다.
- ⑤ 선숙 : 농경지로 이용되지는 못하지만 관광지로 인기가 많습니다.

7. 지도는 어떤 지형의 분포를 나타낸 것이다. 이 지형에 대한 설명으로 바르지 않은 것은? [3점]



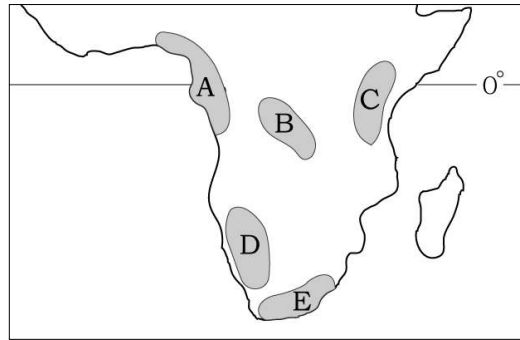
- ① 빙하가 녹아 형성된 호수이다.
- ② 현무암이 분출하여 형성된 대지이다.
- ③ 하천의 범람에 의해서 형성된 지형이다.
- ④ 바람에 의해 운반된 모래가 퇴적된 지형이다.
- ⑤ 석회암이 용식 작용을 받아 형성된 와지이다.

8. 다음이 설명하는 지형의 공통적인 형성요인으로 바르지 않은 것은?

- U 자형 골짜기
- 산 정상 부근의 날카로운 봉우리
- 암석이 떨어져 나간 움푹 파인 자리

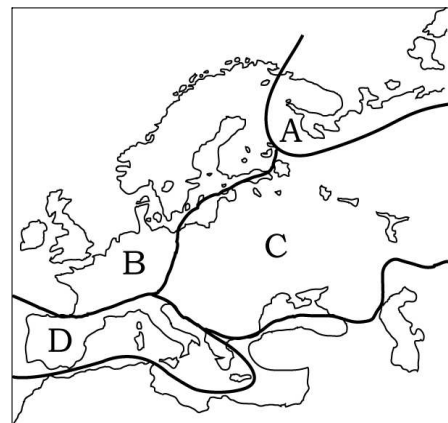
- ① 하천의 침식작용 ② 암석의 차별침식
 ③ 바람의 침식작용 ④ 빗물의 용식작용
 ⑤ 빙하의 침식작용

9. 지도에 표시된 각 지역에 대한 설명으로 옳은 것은? [3점]



- ① A지역에서는 석유가 생산된다.
- ② B지역에서는 밀이 기업적으로 재배된다.
- ③ C지역에서는 탄전을 중심으로 공업이 발달하고 있다.
- ④ D지역에서는 상품작물이 대량으로 생산되고 있다.
- ⑤ E지역에는 보크사이트가 대량으로 매장되어 있다.

10. 지도는 유럽을 문화적 특성에 따라 구분한 것이다. 각 지역에 대한 설명으로 바르지 않은 것을 <보기>에서 고르면? [3점]



<보기>

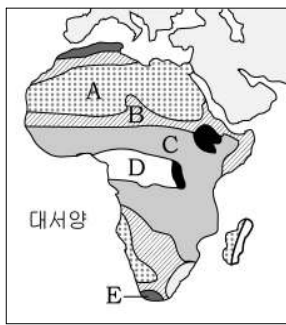
- ㄱ. A지역에는 몽골인종이 분포한다.
- ㄴ. B지역은 단일 민족으로 구성되어 있다.
- ㄷ. C지역에서는 영어를 공용어로 사용하고 있다.
- ㄹ. D지역의 사람들은 주로 가톨릭을 믿는다.

- ① ㄱ, ㄴ ② ㄱ, ㄷ ③ ㄴ, ㄷ
 ④ ㄴ, ㄹ ⑤ ㄷ, ㄹ

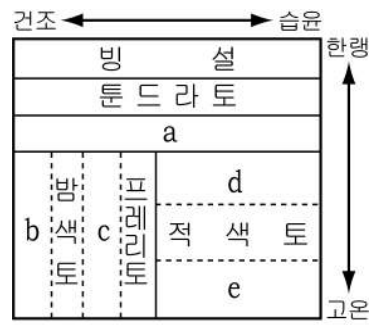
사회탐구 영역 (세계지리)

3

11. 다음 두 자료를 보고 기후지역과 토양을 바르게 짝지은 것은?



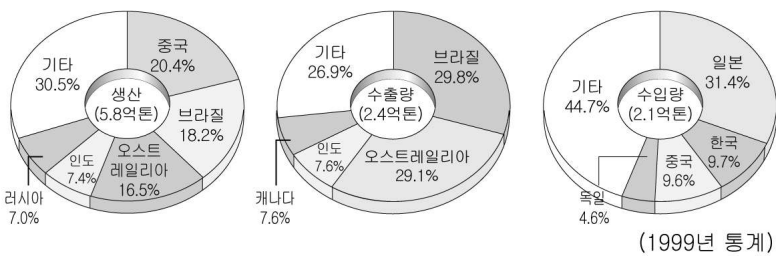
<아프리카의 기후>



<성대토양의 분포>

기후지역	토양	기후지역	토양
① A	c	② B	b
③ C	d	④ D	e
⑤ E	a		

12. 다음 자료를 통해 알 수 있는 자원에 대한 설명으로 옳은 것을 <보기>에서 고르면? [3점]




<보기>

- ㄱ. 남반구에서 북반구로 주로 수출된다.
- ㄴ. 편재성이 심하여 자원민족주의가 나타난다.
- ㄷ. 공업의 기초가 되며 소비량이 많은 금속 자원이다.
- ㄹ. 이 자원의 분포지역은 신기조산대와 대체로 일치한다.

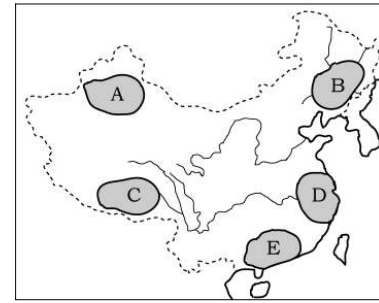
- ① ㄱ, ㄴ ② ㄱ, ㄷ ③ ㄴ, ㄷ
- ④ ㄴ, ㄹ ⑤ ㄷ, ㄹ

13. 교사의 질문에 대해 바르게 대답하지 못한 학생은?



- ① 우영 ② 영희 ③ 예준
- ④ 정은 ⑤ 진욱

14. 다음 지도의 A~E 지역에 대한 설명으로 옳은 것은? [3점]



- ① A는 현재 조선족 자치주이다.
- ② B는 개혁과 개방의 전초기지이다.
- ③ C는 최대의 벼농사 지대이다.
- ④ D는 최대의 종합 공업 지역이다.
- ⑤ E는 유목과 오아시스 농업 지역이다.

15. 다음 밑줄 친 물음에 대한 대답으로 가장 옳은 것은?

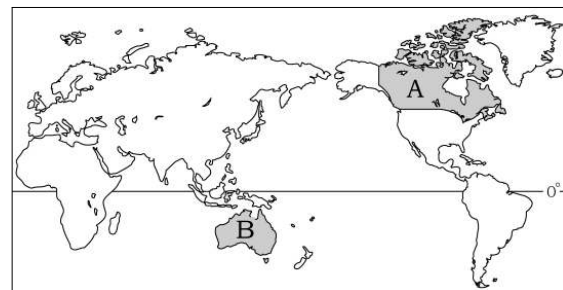


러시아 북쪽 해안은 북극권에 포함되어 있다. 이 해안은 기본적으로 항상 얼어있기 때문에 항구로서의 기능이 어렵다. 그런데 뜻밖에도 무역항의 역할을 하는 얼지 않는 항구가 있다. 그곳은 인구 20만 명 이상의 도시로 북위 68도에 위치하는 무르만스크이다.

북극권에 위치한 이 항구가 얼지 않는 이유는 무엇일까?

- ① 지나친 도시화로 열섬 현상이 심화되었기 때문이다.
- ② 해양이 오염되어 해수의 온도가 상승했기 때문이다.
- ③ 지구 온난화로 인해 북극권 주변의 기온이 높아졌기 때문이다.
- ④ 북극권의 오존층이 파괴되면서 해수의 온도가 상승했기 때문이다.
- ⑤ 북대서양 해류가 스칸디나비아 반도를 따라 흘러 들어오기 때문이다.

16. A, B 두 국가의 공통점을 <보기>에서 고르면? [3점]



<보기>

- ㄱ. 전 국토에 인구가 고르게 분포하며 도시화율이 높다.
- ㄴ. A는 툰드라, B는 사막이 넓게 분포하여 1인당 경지 면적이 좁다.
- ㄷ. 출산율이 점차 낮아지고 있어 이민을 받아들여 노동력 부족을 해결하고 있다.
- ㄹ. 고유한 생활 방식을 유지해 온 원주민들이 소수 민족으로 남아 함께 살아가고 있다.

- ① ㄱ, ㄴ ② ㄱ, ㄷ ③ ㄴ, ㄷ
- ④ ㄴ, ㄹ ⑤ ㄷ, ㄹ

4

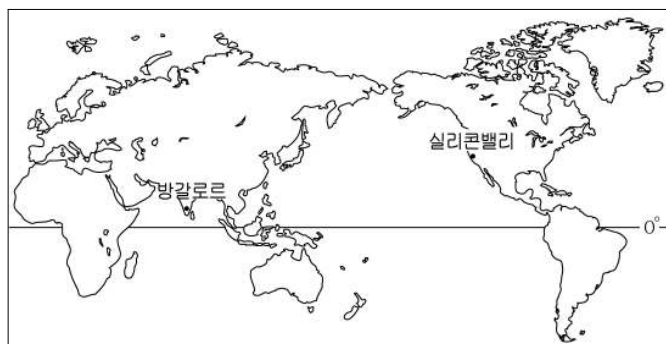
사회탐구 영역 (세계지리)

17. 밑줄 친 '사람'들이 주로 거주하는 지역을 표시한 지도는? [3점]

미국을 찾는 이유들은 매우 다양했다. 모험을 하러온 사람, 자유를 찾아온 사람, 좀더 나은 삶을 위해 기회를 찾아온 사람 등..... 세월이 지나면서 미국은 '인종의 도가니'가 되었다. 그 중에는 고대 로마 시대에 '히스파니아'라고 불렀던 이베리아 반도에서 이주해온 사람들과 후손들이 있었다.

- ① 
- ② 
- ③ 
- ④ 
- ⑤ 

18. 방갈로르에서는 실리콘밸리와 연계하여 정보통신(IT)산업이 발달하고 있다. 그 배경으로 옳은 것을 <보기>에서 고르면?



<보 기>

- ㄱ. 높은 임금의 고급 인력이 풍부하다.
- ㄴ. 두 지역간 시차는 업무의 연속성을 준다.
- ㄷ. 다수의 다국적 기업의 본사가 입지한다.
- ㄹ. 영어 사용 인구가 많아 의사소통이 원활하다.

- ① ㄱ, ㄴ ② ㄱ, ㄷ ③ ㄴ, ㄷ
- ④ ㄴ, ㄹ ⑤ ㄷ, ㄹ

19. 다음은 신문 기사의 일부이다. 니제르에서 나타나는 기근의 원인이 바르게 설명된 것을 <보기>에서 고르면? [3점]



니제르 남부의 한 주민은 “여섯 식구가 하루 한 끼로 버티고 있고, 마을의 10가구 중 8가구가 당장 내일 끼니를 걱정하고 있다”고 말한다. 풀과 농작물이 말라 버린 황토 바닥에선 발을 옮길 때마다 흙먼지가 날리고 흙으로 만든 뒤투 속엔 이들의 주식인 조 대신 먼지만 가득하다.

- ○○신문 2005. 7 -

<보 기>

- ㄱ. 지하자원이 무분별하게 개발되었다.
- ㄴ. 기상이변에 의해 강수량이 감소하였다.
- ㄷ. 과다 방목으로 인해 식생이 파괴되었다.
- ㄹ. 예년보다 열대성 저기압의 통과가 빈번해졌다.

- ① ㄱ, ㄴ ② ㄱ, ㄷ ③ ㄴ, ㄷ
- ④ ㄴ, ㄹ ⑤ ㄷ, ㄹ

20. 다음 자료에 해당하는 국가를 지도에서 찾아 바르게 짝지은 것은?

(가)	(나)
<ul style="list-style-type: none"> ◦ 피오르 해안이 나타난다. ◦ 세계적인 구리 생산국이다. ◦ 우리나라와 자유무역협정(FTA)을 체결하였다. 	<ul style="list-style-type: none"> ◦ 온대 초원이 나타난다. ◦ 밀과 육우의 주요 수출국이다. ◦ 총인구 중 코카서스 인종의 구성 비율이 높다.



- ① (가) A (나) C ② (가) A (나) D
- ③ (가) B (나) D ④ (가) C (나) B
- ⑤ (가) C (나) D

※ 확인사항

○ 문제지와 답안지의 해당란을 정확히 기입(표기)했는지 확인하십시오.