

2

사회탐구 영역 (경제지리)

6. 지도는 물 분쟁 지역을 나타낸 것이다. 물 분쟁이 일어나게 된 공통적인 원인으로 바른 것은?



- ① 모두 건조 지역으로 수자원이 절대적으로 부족하기 때문이다.
- ② 물 분쟁을 일으키는 하천은 두 개 이상의 국가를 통과하기 때문이다.
- ③ 세계적인 벼농사 지역으로 많은 양의 농업 용수가 필요하기 때문이다.
- ④ 상류에 위치한 국가가 전력 생산을 위해 대규모 댐을 건설하고 있기 때문이다.
- ⑤ 상류에 위치한 국가에 오염 시설이 집중됨으로써 하류에 위치한 국가에 피해를 주기 때문이다.

7. 다음 주제에 대해 학생들이 토론을 하고 있다. 발표한 내용이 옳지 않은 학생은? [3점]

<주제> 국내 제조업체의 해외 이전을 공업 입지론에 적용하기



구분	P지점	L ₁ 지점	L ₂ 지점
노동비(원)	7,000	4,000	3,000

수정 : 공장은 최소 생산비 지점인 P에 입지해야 해.
 보람 : L₁은 P보다 운송비가 약 2,500원이나 싸구나.
 슬기 : L₁은 P보다 운송비가 비싸지만 노동비가 저렴하다는 것도 고려해야되지 않니?
 셋별 : 그렇다면 현재 상황에서 L₂는 최적 입지가 될 수 없네.
 유경 : 그래, 하지만 L₂의 노동비가 1,500원으로 줄어든다면 L₂도 최적 입지가 될 수 있지.

- ① 수정 ② 보람 ③ 슬기
- ④ 셋별 ⑤ 유경

8. 그래프는 우리나라의 에너지 소비 구조를 나타낸 것이다. A~D자원에 대한 설명으로 바른 것을 <보기>에서 고르면? [3점]



(에너지 경제 연구원)

<보 기>

- ㄱ. A는 재생 불가능한 자원이다.
- ㄴ. B는 최근 우리나라에서도 생산된다.
- ㄷ. C는 청정 에너지로 소비량이 가장 많다.
- ㄹ. D는 주로 가정용으로 이용되고 있다.

- ① ㄱ, ㄴ ② ㄱ, ㄷ ③ ㄴ, ㄷ
- ④ ㄴ, ㄹ ⑤ ㄷ, ㄹ

9. 다음 밑줄 친 내용에 해당되는 것은?

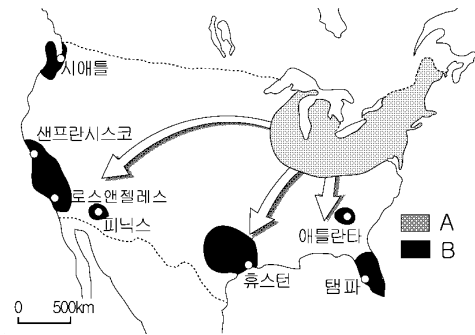
경상북도 △△군에 발전용량 3천kW 규모의 전국 최대 태양광 발전소가 들어설 예정이다. (주)◇◇에너지가 최근 경상북도로부터 태양광발전사업 허가를 받아 내년 1월께 착공에 들어갈 계획이라고 12일 밝혔다.

△△군 관계자는 “△△가 태양광 발전소 입지에 매우 유리한 자연 조건을 가지고 있으며, 발전소가 들어서면 지역 경기가 활성화되고 현장 학습의 장으로 각광받게 될 것”이라고 밝혔다.

-○○신문, 2005. 5-

- ① 일조량이 많다. ② 분지 지형이다.
- ③ 해발고도가 높다. ④ 여름 기온이 높다.
- ⑤ 무상일수가 짧다.

10. 지도는 미국 공업 지역의 변화를 나타낸 것이다. A에서 B로이전하는 기업이 얻을 수 있는 이점을 <보기>에서 고르면?



<보 기>

- ㄱ. 해상을 통한 유럽과의 무역에 유리하다.
- ㄴ. 쾌적한 자연 환경의 혜택을 누릴 수 있다.
- ㄷ. 지가가 저렴하여 토지 비용을 절감할 수 있다.
- ㄹ. 내륙 수운이 발달하여 운송비를 절감할 수 있다.

- ① ㄱ, ㄴ ② ㄱ, ㄷ ③ ㄴ, ㄷ
- ④ ㄴ, ㄹ ⑤ ㄷ, ㄹ

사회탐구 영역 (경제지리)

3

11. 다음 밑줄 친 ‘이 지역’에 공장을 설립할 경우 유리한 점을 <보기>에서 고르면?

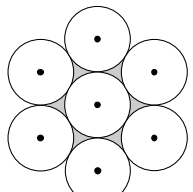
- 2004년 12월 15일 오전 11시 이 지역의 ○○회사 현지 공장에서 처음으로 생산된 냄비가 판문점을 지나 6시간 후, 서울의 한 백화점에서 판매 시작 15분만에 400세트가 모두 팔려나가는 뜨거운 열기를 뽐냈다. -○○신문, 2004. 12-
- 중소기업들이 이 지역의 장점으로 첫 손에 꼽는 것은 낮은 인건비다. 월 인건비는 57.5달러이고, 1년에 5% 이상 오르지 못하도록 되어 있다. -○○신문, 2005. 8-

<보 기>

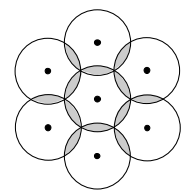
- ㄱ. 의사 소통이 원활하여 직원 교육이 쉽다.
- ㄴ. 지하 자원이 풍부하여 원료를 쉽게 공급받을 수 있다.
- ㄷ. 중국으로 진출하는 것보다 물류 비용을 절감할 수 있다.
- ㄹ. 사회 기반 시설이 잘 갖추어져 생산 활동이 유리하다.

- ① ㄱ, ㄴ ② ㄱ, ㄷ ③ ㄴ, ㄷ
- ④ ㄴ, ㄹ ⑤ ㄷ, ㄹ

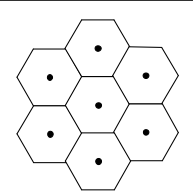
12. 다음 중심지 이론에서 육각형의 상권이 형성되는 과정을 통해 알 수 있는 전제 조건이 아닌 것은? [3점]



한 상점이 상품을 공급할 수 있는 범위는 한정되어 있으므로 같은 상품을 공급하는 상점의 상권 크기는 모두 같고, 상점은 서로 중복되지 않는 지점에 입지한다.

재화를 공급받지 못하는 지역이 발생하므로 더 많은 상점이 생기고, 상점들은 경쟁을 함으로써 상권은 서로 중복된다.

소비자는 합리적으로 이동하기 때문에 중복되는 지역은 반으로 나뉘어 정육각형의 상권이 형성된다.

- ① 등질 공간이다.
- ② 소비자는 경제인이다.
- ③ 인구의 분포는 균등하다.
- ④ 소비자의 소득과 구매력은 동일하다.
- ⑤ 중심지는 기능에 따라 계층이 존재한다.

13. 다음은 자동차 산업에 대한 수업 장면이다. 바르게 발표한 학생은?

- 교사 : 자동차는 우리나라 5대 수출 품목 중의 하나로 매우 중요한 산업입니다. 오늘은 자동차 산업의 특징에 대해 발표해 봅시다.
- 지인 : 자동차 산업은 생산 과정의 자동화를 통해 다품종 생산에서 소품종 생산 방식으로 변화하고 있습니다.
- 현규 : 자동차 산업은 다국적 기업의 활동으로 생산 활동이 세계적으로 다변화되어 가고 있습니다.
- 성수 : 자동차 산업은 순수 원료를 사용하기 때문에 운송비가 차지하는 비중이 낮습니다.
- 소영 : 부품 공장과의 연계성이 크기 때문에 부품 공장과의 조립 공장이 집적을 하면 기술 지원, 운송비 절감에 유리합니다.

- ① 지인, 현규 ② 지인, 성수 ③ 현규, 소영
- ④ 현규, 성수 ⑤ 성수, 소영

14. 다음 내용과 관계 깊은 사례로 적절한 것은? [3점]

생산 규모의 증대는 제품의 생산비를 낮춤으로써 국제 경쟁력을 높일 수 있게 도와준다. 즉, 같은 제품이라도 더 많이 더 크게 생산하면 제품의 단위 당 가격은 하락한다. 따라서 생산 규모가 증대됨에 따라 제품 당 생산비는 줄어들어 경제적 이익이 발생하는 것이다.

- ① A 제과점은 인지도가 높은 △△사의 브랜드를 사용하여 매출이 늘어났다.
- ② B 아파트 부녀회는 ○○면과 자매결연을 맺어 매주 직거래 장터를 열고 있다.
- ③ C 영농 법인은 경작지의 지속적인 확대를 통해 노동 생산성을 높이고 있다.
- ④ D 회사는 소비자가 직접 디자인한 제품을 제작해 줌으로써 큰 호응을 얻고 있다.
- ⑤ E 회사는 인력 채용 전문 기관을 통해 신입 사원을 채용하여 비용을 절감하고 있다.

15. 우리나라 주요 무역 상대국의 무역액 변화 그래프를 바르게 설명한 것은? [3점]




- ① 현재 제 1의 무역 상대국은 미국이다.
- ② 일본은 미국에 비해 수입 규제가 심하다.
- ③ 미국과의 교역에 있어서 계속 적자를 보이고 있다.
- ④ 1990년대 이후 중국과의 교역 증가율이 가장 높다.
- ⑤ 중국과의 교역은 외환 보유고의 하락을 가져올 것이다.

4

사회탐구 영역 (경제지리)

16. 그림은 가상 지역에서 나타난 두 업종에 대한 소비자의 구매 행태를 나타낸 것이다. 이를 바르게 비교한 것은?



- | | | |
|-------------|-----|-----|
| | (가) | (나) |
| ① 구매 빈도 | 낮다 | 높다 |
| ② 중심지 수 | 적다 | 많다 |
| ③ 최소 요구치 | 크다 | 작다 |
| ④ 중심지 간의 거리 | 멀다 | 가깝다 |
| ⑤ 재화의 도달 범위 | 좁다 | 넓다 |

17. 다음 (가), (나)에 대한 설명으로 바르지 않은 것은?

(가) 장날이 되면 단조로운 모습을 보이던 마을이 사람들의 떠드는 소리로 야단스럽다. 값을 둘러싼 흥정, 뜨거운 국밥, 어물전 아낙들의 투박한 사투리, 경운기를 몰고 나온 농부의 모습 등 장날의 정경이 다채롭다.

(나) 아파트촌 주민들은 저렴한 가격, 다양한 상품, 넓은 주차장이 있으면 가장 좋은 쇼핑 장소라고 여긴다. 이들은 현대식으로 쾌적하게 꾸민 매장에서 가족들과 함께 주말 쇼핑을 즐긴다.

- ① (가)는 도시화에 따라 그 수가 점차 증가하고 있다.
- ② (가)는 판매자가 이동하여 소비자에게 상품을 판매한다.
- ③ (나)는 맞벌이 부부의 증가로 더욱 성장하고 있다.
- ④ (나)는 최소 요구치의 범위 축소로 그 수가 증가하고 있다.
- ⑤ (나)는 (가)보다 일괄 구매를 하는 데 있어서 유리하다.

18. 표는 세계 유산을 대륙별로 나타낸 것이다. 바르게 해석한 것은?


[3점]

구 분	문화 유산		자연 유산		복합 유산		합 계	
	개수	비율(%)	개수	비율(%)	개수	비율(%)	개수	비율(%)
아 시 아	136	79.1	29	16.8	7	4.1	172	100
유 럽	326	89.8	31	8.5	6	1.7	363	100
아프리카	64	64.0	33	33.0	3	3.0	100	100
앵글로아메리카	13	41.9	18	58.1	0	0	31	100
라틴아메리카	77	69.4	31	27.9	3	2.7	111	100
오세아니아	1	5.0	14	70.0	5	25.0	20	100

(유네스코 한국 위원회, 2004)

- ① 신대륙이 구대륙에 비해 문화 유산이 많다.
- ② 자연 유산이 가장 많은 지역은 오세아니아이다.
- ③ 자연 유산은 문화 유산보다 지역별로 편차가 심하다.
- ④ 고대 문명이 발생한 지역은 문화 유산의 비율이 높다.
- ⑤ 유럽 문화의 영향을 받은 지역은 문화 유산의 비율이 높다.

19. 그림과 같은 산업이 발달하게 된 배경으로 옳은 것을 <보기>에서 고르면? [3점]




<보 기>

- ㄱ. 기업 물류 분야에서 아웃소싱의 확대
- ㄴ. 제조업과 서비스 산업 간의 의존성 약화
- ㄷ. 홈쇼핑, 통신 판매업 등 전자 상거래 급증
- ㄹ. 대형 할인점의 등장과 자동차 보급의 확대

- ① ㄱ, ㄴ ② ㄱ, ㄷ ③ ㄴ, ㄷ
- ④ ㄴ, ㄹ ⑤ ㄷ, ㄹ

20. 고속철도 개통 이후 대구의 지역 경제 변화에 대한 학생들의 진술로 가장 적절한 것은?



- ① 장민 : 동대구역 주변 상권이 보다 활성화될 거야.
- ② 지영 : 역세권 개발로 부동산 가격이 안정될 거야.
- ③ 영수 : 기존 철도의 화물 수송 비용이 상승할 거야.
- ④ 여민 : 대구~김포 간 항공 운항 편수가 전보다 늘어날 거야.
- ⑤ 재형 : 대구~서울보다 대구~광주 간의 인구 이동이 많아질 거야.

※ 확인사항

○ 문제지와 답안지의 해당란을 정확히 기입(표기)했는지 확인하시오.