

사회탐구 영역 (경제)

제 4 교시

성명

수험번호

1

- 먼저 수험생이 선택한 과목의 문제지인지 확인하시오.
- 반드시 자신이 선택한 과목의 문제지를 풀어야 합니다.
- 문제지에 성명과 수험 번호를 정확히 기입하시오.
- 답안지에 수험 번호, 선택 과목, 답을 표기할 때에는 반드시 '수험생이 지켜야 할 일'에 따라 표기하시오.
- 문항에 따라 배점이 다르니, 각 물음의 끝에 표시된 배점을 참고하시오. 3점 문항에만 점수가 표시되어 있습니다. 점수 표시가 없는 문항은 모두 2점씩입니다.

1. 다음 사례와 관련 있는 경제 개념으로 옳은 것은?

◦ A국은 외환보유액을 국내의 자산에 투자하지 못함으로써 손해를 보게 되었다.
◦ K군은 수시 2학기 모집에서 지원하고자 하는 대학은 많으나, 전형 일정이 중복되는 관계로 OO대학을 지원하게 되었다.

- ① 특화 ② 전문화 ③ 분업화
- ④ 기회 비용 ⑤ 비교 우위

2. 다음 사례를 종합하여 도출한 결론으로 적절한 것은?

◦ 인터넷을 통해 결성된 'OO 고객 권리 찾기' 회원들이 '리조트 운영회사가 국립공원 입장료를 받으면서 스키장 입장료까지 따로 받는 것은 부당이익을 챙기는 것'이라며 행동에 나서자, 경영진은 사과 성명과 함께 1년간 입장료를 받지 않기로 하였다.
◦ 중학교 3학년인 △△는 백화점이나 쇼핑몰에서 본 옷을 디지털 카메라로 찍어 자신의 의견을 인터넷에 올리거나, 구입한 물건에 문제점이 있으면 교환/환불을 요구하기도 한다.

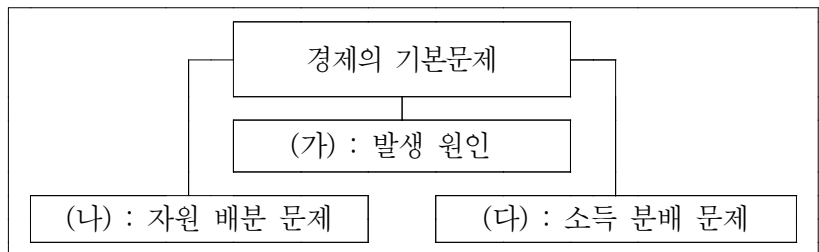
- ① 저렴한 상품을 구매할 것이다.
- ② 소비자 주권이 강화될 것이다.
- ③ 기업의 영향력이 증대될 것이다.
- ④ 소비와 생산의 분리 경향이 강화될 것이다.
- ⑤ 생산/유통 방식이 생산자 중심으로 변화될 것이다.

3. 다음과 같은 원리를 지지하는 학자들의 견해로 적절하지 않은 것은?

◦ [제 1의 원리] 시장은 본래 안정적인 것으로 자원을 효율적으로 배분한다.
◦ [제 2의 원리] 모든 산업의 규제를 철폐해야 하며 금융기관도 예외는 아니다.

- ① 가격 기구의 역할을 신뢰한다.
- ② 정부의 비개입 원칙을 강조한다.
- ③ 시장에서 정부의 역할을 강조한다.
- ④ 시장의 자동 조절 기능을 강조한다.
- ⑤ 자유 방임적 시장 경제를 지지한다.

4. 다음은 경제의 기본 문제를 도식화한 것이다. 이에 대한 설명으로 적절하지 않은 것은?



- ① (가) : 욕구는 무한하나 재화는 한정되어 있다는 것을 의미한다.
- ② (나) : '여가 시간에 군밤을 팔까, 고구마를 팔까'로 고민한다.
- ③ (다) : '숯과 가스 중 무엇을 사용하여 밥을 구울까'로 고민한다.
- ④ 시장 경제 체제는 시장 가격의 기능을 통해 해결한다.
- ⑤ 계획 경제 체제는 중앙 정부의 계획을 통해 해결한다.

5. 다음은 경제 수업의 한 장면이다. (가)에 들어갈 내용으로 적절한 것은?

선생님 : 한 나라의 경제력이나 국민들의 생활 수준 등을 파악할 수 있는 경제 지표에는 어떤 것들이 있을까요?
학 생 : 1인당 GNP, 1인당 GDP, 기술 수준.....
선생님 : 전에는 GNP가 주로 사용됐으나 최근에는 GDP가 주로 사용되는 이유는 무엇일까요?
학 생 : _____ (가) _____ 때문입니다.

- ① 시장 기능보다 정부 기능이 강조되기
- ② 한 나라 국민으로서의 국적이 중요하기
- ③ 국민들의 복지 수준을 정확히 측정할 수 있기
- ④ 국가 간 자본 이동, 기술 이전 등이 증가하기
- ⑤ 지하경제를 반영하여야 국민 소득 측정이 정확하기

2

사회탐구 영역 (경제)

6. 표는 종합 소득세의 과세 표준과 세율을 나타낸 것이다. 이와 같은 특징을 지닌 세금에 대한 설명으로 옳은 것을 <보기>에서 고르면? [3점]

과세 표준	세율
1,000만원 이하	9%
1,000만원 초과 4,000만원 이하	18%
4,000만원 초과 8,000만원 이하	27%
8,000만원 초과	36%

〈보 기〉

ㄱ. 조세 저항이 강할 것이다.
 ㄴ. 물가 상승을 유발할 것이다.
 ㄷ. 소득 재분배에 효과적일 것이다.
 ㄹ. 조세 전가 현상이 나타날 것이다.

- ① ㄱ, ㄴ ② ㄱ, ㄷ ③ ㄴ, ㄷ
 ④ ㄴ, ㄹ ⑤ ㄷ, ㄹ

7. 다음에서 알 수 있는 내용으로 옳지 않은 것은?

최근 우리나라 경제의 화두는 양극화 현상으로서 고소득층과 저소득층간, 수출기업과 내수기업간, 정규직과 비정규직간의 격차이다. 이는 IMF 경제 위기 이후, 빈곤층의 증가, 소비심리 위축, 경쟁력 제고를 위한 고용 감축과 비정규직 채용의 보편화로 심화되었던 것이다. 따라서 이를 해결하기 위한 정부의 대책이 절실히 요구되는 실정이다.

- ① 중산층의 감소를 초래했을 것이다.
 ② 계층간의 상대적 박탈감이 커질 것이다.
 ③ 미숙련 노동자의 소득이 감소되었을 것이다.
 ④ 수출기업과 내수기업간의 격차를 가중시켰을 것이다.
 ⑤ 시장의 자율성 증진을 위한 정부의 노력이 필요할 것이다.

8. 다음 사례에서 알 수 있는 경제 개념에 대한 설명으로 옳은 것을 <보기>에서 모두 고르면? [3점]

- 노래방에 가까운 독서실에서 공부하는 학생들이 소음으로 지장을 받고 있다.
- 공장에서 철야 작업을 위해 밝힌 조명등 때문에 주민들은 불면증에 시달리고 있다.

〈보 기〉

ㄱ. 사회적 최적 수준보다 많이 발생된다.
 ㄴ. 기업의 사적 비용이 사회적 비용보다 크다.
 ㄷ. 기업은 사회적 비용을 고려하여 생산량을 결정한다.

- ① ㄱ ② ㄴ ③ ㄷ ④ ㄱ, ㄴ ⑤ ㄴ, ㄷ

9. 표에 대한 분석으로 옳은 것을 <보기>에서 고르면? [3점]

구분	연도			
	1970	1980	1990	2000
월 평균 소득(천 원)	316.6	580.9	1,274.7	1,872.7
월 평균 소비지출액(천 원)	292.0	444.8	926.6	1,244.9
식료품비	46.5	43.0	32.7	27.5
교통□통신비	5.4	5.8	8.6	16.4
□	□	□	□	□
교육□교양□오락비	8.8	7.5	12.1	16.2
기타 소비지출	10.7	10.5	18.4	18.0

「자료 : 통계청」

〈보 기〉

ㄱ. 소비 성향이 높아지고 있다.
 ㄴ. 교통□통신비 비중은 증가하고 있다.
 ㄷ. 식료품비의 지출액은 증가하고 있다.
 ㄹ. 1990년~2000년의 소득 증가폭이 가장 크다.

- ① ㄱ, ㄴ ② ㄱ, ㄷ ③ ㄴ, ㄷ
 ④ ㄴ, ㄹ ⑤ ㄷ, ㄹ

10. 그래프는 가격 결정의 기본 원리를 보여준다. 이에 대한 설명으로 옳지 않은 것은? [3점]

- ① A는 거래가 성립되지 않는 가격 범위이다.
 ② B는 거래가 성립되는 가격 범위이다.
 ③ C는 공급자가 손해보는 가격 범위이다.
 ④ P₂는 시장에서 형성될 수 있는 최고 가격이다.
 ⑤ 소비자의 선호도가 증가하면 P₂는 B범위로 이동한다.

사회탐구 영역 (경제)

11. 밑줄 친 ‘블루오션 전략’을 가진 기업가의 행동으로 적절하지 않은 것은?

‘블루오션(Blue Ocean) 전략’은 남과 경쟁하지 않는 시장을 새로 창출하는 것을 말한다. 이는 무한한 성장 가능성을 보장하는 경영 전략, 즉 월등한 서비스□품질로 경쟁사가 도저히 발을 들여놓을 수 없는 시장 개척을 말한다.

- ① 장기적인 안목을 가지고 투자한다.
- ② 가격 차별화로 시장점유율을 높인다.
- ③ 시대적인 경향과의 적합성을 높인다.
- ④ 모방보다는 새로운 가치를 추구한다.
- ⑤ 고객의 새로운 요구를 적극 수용한다.

12. 다음 사례에서 추론할 수 있는 내용으로 옳은 것을 <보기>에서 모두 고르면? [3점]

매년 11월 14일 무비데이(movie day)에는 이른 아침에도 영화관을 찾는 연인들로 붐벼 왔다. 그래서 ○사장은 금년 무비데이에는 조조할인을 중단하기로 하였다. 그럼에도 불구하고 예년에 비해 조조할인 시간대 관람료 수입은 대폭 증가하였다.

<보 기>

- ㄱ. 비탄력적일수록 박리다매(薄利多賣) 전략이 성공할 것이다.
- ㄴ. ○사장의 결정은 영화 수요의 가격 탄력성을 고려한 것으로 볼 수 있다.
- ㄷ. 당일 조조할인 시간대의 영화 수요의 가격 탄력성은 평일의 조조할인 시간대보다 작을 것이다.

- ① ㄱ ② ㄴ ③ ㄱ, ㄴ ④ ㄱ, ㄷ ⑤ ㄴ, ㄷ

13. 다음과 같은 특징을 가진 재화에 대한 설명으로 옳지 않은 것은? [3점]

- 비용을 지불하지 않은 경제 주체를 소비로부터 배제할 수 없다.
- 다른 경제 주체가 추가로 소비하여도 이미 소비하고 있던 경제 주체들의 소비가 줄어들지 않는다.

- ① 정부가 시장의 수요를 정확히 파악할 수 있다.
- ② 국방, 치안, 도로, 공원 등이 이에 해당된다.
- ③ 시장은 사회적 필요만큼 생산하지 않는다.
- ④ 정부의 적극적인 역할이 필요할 것이다.
- ⑤ 무임 승차 문제를 야기한다.

14. 다음 신문 기사 제목에서 추론할 수 있는 내용을 <보기>에서 모두 고른 것은? [3점]

대한민국이 늙어간다.

- 출산율, 우리나라가 OECD 국가 중 최하위
- 20년 뒤엔 65세 이상 노인이 전체 인구의 20%

<보 기>

- ㄱ. 노동 생산성이 향상될 것이다.
- ㄴ. 국민의 조세 부담이 증가할 것이다.
- ㄷ. 종신 보험이나 연금 등 노후 생활에 대한 대책이 요구될 것이다.
- ㄹ. 정부는 육아 휴직 수당, 직장 보육 시설 확충에 노력할 것이다.

- ① ㄱ, ㄴ ② ㄴ, ㄷ ③ ㄷ, ㄹ
- ④ ㄱ, ㄷ, ㄹ ⑤ ㄴ, ㄷ, ㄹ

15. 그래프는 연필과 종이의 생산가능곡선이다. 이를 바르게 분석한 것을 <보기>에서 모두 고르면? (단, 다른 조건은 동일하다.) [3점]

(가)

(나)

<보 기>

- ㄱ. (가)에서 B국의 경우, 종이 한 단위의 기회비용은 연필 3/4단위이다.
- ㄴ. (나)에서 A국은 종이에 절대 우위가 있다.
- ㄷ. (가)와 (나) 모두 A국은 종이가 특화 상품이다.
- ㄹ. B국의 경우, 생산 기술이 발전하면 (가)에서 (나)로 변화할 수 있다.

- ① ㄱ, ㄴ ② ㄱ, ㄷ ③ ㄱ, ㄹ
- ④ ㄱ, ㄷ, ㄹ ⑤ ㄴ, ㄷ, ㄹ

4

사회탐구 영역 (경제)

16. 다음과 같은 특징을 가진 시장에 대한 진술로 옳은 것은?

- 동질의 상품이 거래된다.
- 시장에서의 진입과 탈퇴가 자유롭다.
- 다수의 수요자와 공급자가 존재한다.

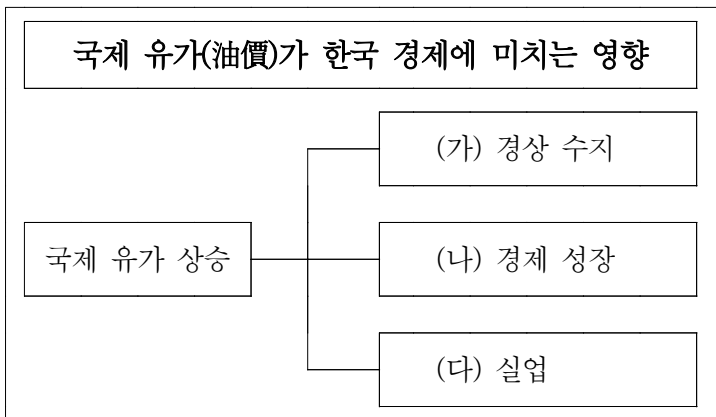
- ① 기술 혁신에 유리하다.
- ② 시장 지배력이 가장 강하다.
- ③ 기업의 담합이 나타나기 쉽다.
- ④ 자원의 효율적 배분이 이루어진다.
- ⑤ 소비자의 다양한 기호를 충족시켜 준다.

17. 다음 사례에서 고구마의 시장 가격 변화를 바르게 짝지은 것은?
(단, 다른 조건은 일정하다.) [3점]

- (가) 대체재인 감자의 가격이 하락하였다.
- (나) 고구마 수확량이 가뭄으로 감소하였다.
- (다) 고구마를 주 재료로 한 케이크가 인기를 끌고 있다.
- (라) 고구마의 새로운 재배 기술 보급으로 고구마의 생산이 증가하였다.

- | | | | | |
|---|----------|----------|------------|----------|
| | 상승 | 하락 | 상승 | 하락 |
| ① | (가), (다) | (나), (라) | ② (가), (라) | (나), (다) |
| ③ | (나), (다) | (가), (라) | ④ (나), (라) | (가), (다) |
| ⑤ | (다), (라) | (가), (나) | | |

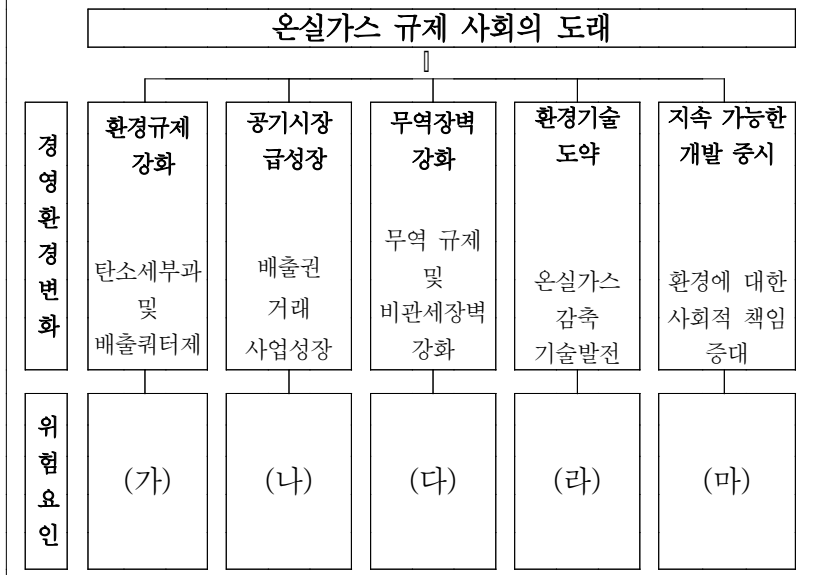
18. 국제 유가가 한국 경제에 미치는 영향을 도식화한 것이다.
(가)~(다)의 변화로 옳은 것은?



- | | | | | | |
|-----|-----|-----|-----|-----|-----|
| (가) | (나) | (다) | (가) | (나) | (다) |
| ① | 악화 | 촉진 | 증가 | ② | 악화 |
| ③ | 악화 | 둔화 | 감소 | ④ | 개선 |
| ⑤ | 개선 | 둔화 | 증가 | | |

19. 다음 (가)~(마)에 들어갈 내용으로 적절하지 않은 것은?

2005년 2월 16일 각국에 온실가스 감축 의무를 부과하는 교토의정서가 공식 발효되었다. 우리나라는 2013년 이후 감축 의무 이행이 불가피할 전망이다. 온실가스 규제 사회의 도래는 거부할 수 없는 대세이며, 정부와 기업의 선제적 대응이 필요한 시점이다.



- ① (가) - 원가 부담이 감소하여 공장 증설이 제한 받을 수 있다.
- ② (나) - 온실 가스 감축 및 배출권 구매 비용이 증가할 수 있다.
- ③ (다) - 제품이 환경 기준에 적합하지 않을 때, 기업은 범칙금을 부과 받을 수 있다.
- ④ (라) - 외국의 청정 연료가 상용화될 경우, 우리 기업의 환경 기술 개발에 투입된 비용을 상실할 수 있다.
- ⑤ (마) - 에너지 다(多)소비 기업의 제품에 대한 불매운동이 나타날 수 있다.

20. 그래프는 정부의 가격 규제를 보여주고 있다. 이에 대한 설명으로 옳은 것은? (D는 수요곡선, S는 공급곡선이다.) [3점]

- ① P₁으로 가격을 설정할 경우, 최저가격제에 해당된다.
- ② P₂로 가격을 설정할 경우, 초과수요가 발생한다.
- ③ 최고가격은 시장가격보다 높게 설정되는 것이 효과적이다.
- ④ 최저임금제를 실시하면 미숙련 노동자의 실업이 증가한다.
- ⑤ 생산물시장에서 P₁으로 가격을 설정할 경우, 암시장 최고가격은 시장의 균형가격보다 낮게 설정된다.

※ 확인사항

○ 문제지와 답안지의 해당란을 정확히 기입(표기)했는지 확인하십시오.