

5. 다음은 어느 학생이 로마 사회의 변화를 조사하기 위하여 정리한 연표이다. 그의 관심 주제를 타당하게 파악한 것은?

시 기	내 용
기원전 494년	호민관 설치
기원전 472년	평민회 설치
기원전 450년	12표법 제정
기원전 367년	리키니우스 법 제정
기원전 287년	호르텐시우스 법 제정

- ① 공화정의 붕괴 ② 평민권의 신장
- ③ 삼두 정치의 성립 ④ 군인 황제의 등장
- ⑤ 로마의 평화 시대의 전개

6. 다음은 그리스의 어떤 폴리스에 살았던 시민의 일생을 정리한 것이다. 이 폴리스에 대하여 잘못 설명한 것은? [3점]

- 7세 : 부모 곁을 떠나 공동 교육소(agoge)에 입소
- 14세 : 모의 전쟁을 통한 본격적인 군사 훈련 시작
- 19세 : 인내력을 향상하기 위한 특수 훈련 시작
- 21세 : 공동 교육소 졸업. 군인으로 전투에 참여
- 30세 : 결혼 후 단체(phidition)에 가입하여 공동 생활
- 60세 : 병역의 의무에서 면제

- ① 강력한 군사 통치 체제를 구축하였다.
- ② 경제면에서 상공업보다 농업이 발달하였다.
- ③ 시민들에게 통제된 집단 생활을 강요하였다.
- ④ 소수의 시민이 다수의 예속민을 지배하였다.
- ⑤ 참주의 출현을 막기 위해 도편 추방법을 실시하였다.

7. 다음에서 설명하고 있는 민족의 활동을 <보기>에서 모두 고른 것은?

이들은 흔히 최고의 항해 민족으로 알려져 있으며, 그리스인들의 해상 활동이 활발해질 때까지 600여 년 동안 지중해의 해상권을 독차지하여 무역과 식민 활동에 뛰어난 활약을 보였다. 이들은 염색, 유리 등의 제품을 만들어 해외에 수출하였으며, 이들의 최대 식민지 카르타고는 기원전 8세기경부터 번성하였다.

- < 보 기 > —
- ㄱ. 오리엔트 문명을 유럽에 전파하였다.
 - ㄴ. 알파벳의 기원이 되는 표음 문자를 만들었다.
 - ㄷ. 오리엔트 지역에 최초로 철기 문화를 보급하였다.
 - ㄹ. 오리엔트를 최초로 통일하여 대제국을 건설하였다.

- ① ㄱ, ㄴ ② ㄱ, ㄷ ③ ㄴ, ㄷ ④ ㄴ, ㄹ ⑤ ㄷ, ㄹ


8. 다음은 서양 고대인의 세계관을 알려주는 자료이다. (가)에서 (나)로 변화하면서 나타난 현상을 <보기>에서 모두 고른 것은? [3점]

- (가) 외국인은 노예가 되기 위해 생긴 것이다. 그리스 인은 부모 형제처럼 대하고, 외국인은 짐승처럼 취급하라.
- ↓
- (나) 모든 사람은 세계를 자기 모국처럼 생각하라. 선한 사람은 부모와 같이 대하고 악한 사람은 짐승처럼 취급하라.

- < 보 기 > —
- ㄱ. 세계 시민 사상이 생겨났다.
 - ㄴ. 외국인은 시민의 권리를 인정받지 못했다.
 - ㄷ. 개인의 행복을 중시하는 철학 사조가 유행하였다.
 - ㄹ. 시민들의 결속을 강화하기 위해 올림피아 제전이 열렸다.

- ① ㄱ, ㄴ ② ㄱ, ㄷ ③ ㄴ, ㄷ ④ ㄴ, ㄹ ⑤ ㄷ, ㄹ

9. 다음 유물과 유적을 남긴 두 사회의 공통점으로 옳은 것은?



- ① 신정 정치를 하였다.
- ② 시민 세력이 성장하였다.
- ③ 현세보다 내세를 중시하였다.
- ④ 오랫동안 통일 왕조가 유지되었다.
- ⑤ 철기 문화를 배경으로 국가가 형성되었다.

10. 다음 지도는 중국의 어느 시대를 나타낸 것이다. 이 시대의 사회상으로 옳은 것은? [3점]



- ① 토지 사유화가 진전되었다.
- ② 농업 생산력이 감소하였다.
- ③ 유학이 통치 이념으로 정립되었다.
- ④ 개인의 능력보다 신분이 중시되었다.
- ⑤ 오랜 전쟁으로 상공업이 침체되었다.

11. 두 개혁안의 공통점을 옳게 지적한 것은?

○ 로마 시민은 누구든 공유지를 500유게라 이상 보유할 수 없다. 단, 성년인 아들이 있는 경우 250유게라씩 1,000유게라를 보유할 수 있다. 보유 상한선을 초과하는 농지는 몰수하여 농지가 없는 로마 시민에게 추첨으로 30유게라씩 분배하고 일정한 농지세를 내도록 한다.
-티베리우스 그라쿠스가 제출한 농지법-

○ 천하의 토지를 왕전(王田)으로 노비를 사속(私屬)으로 이름을 바꾸며, 왕전과 사속은 모두 매매할 수 없다. 남자의 수가 8명이 안 되면서 토지가 1정(井)이 넘는 자는 나머지 토지를 9족(九族) 혹은 인근 향당(鄉黨)에 주도록 하라.
-왕망의 개혁안-

- ① 귀족 계층의 지지를 받았다.
- ② 전국의 토지를 국유화하려 하였다.
- ③ 노예를 이용한 대토지 경영을 장려하였다.
- ④ 개혁에 성공하여 경제적인 안정을 이루었다.
- ⑤ 가난한 농민들의 몰락을 방지하고자 하였다.

12. 고대 중국 사상가들의 주장이다. 이와 연관된 설명으로 타당한 것을 <보기>에서 모두 고른 것은? [3점]

(가) 덕으로써 백성들을 인도하고 예로써 백성들을 평등하게 다스리면, 저마다 마음속으로부터 참 인간으로서 양심적인 수치심을 느끼고 올바르게 행동하여 끝내는 선에 이르게 될 것이다.

(나) 장차 천하를 차지하고자 인위적인 노력을 한다면 아무 일도 이루지 못할 것임을 나는 안다. 왜냐하면 천하는 불가사의하고 오묘한 그릇과 같아서 사람이 하려고 하는 대로 되지 않기 때문이다.

(다) 명철한 군주는 신하로 하여금 법을 벗어날 궁리를 못하게 하고, 또 법 안에서는 은혜를 생각하지 못하게 하고, 모든 행동은 법에 따르지 않는 것이 없게 한다.

(라) 모든 사람들을 널리 사랑하도록 만든다면, 국가간에 서로 공격하는 일이 없고, 도둑이나 상해도 없어지고, 군신·부자 모두가 서로 공경할 것이다. 이렇게 된다면 세계는 평화롭게 유지될 것이다.

〈 보 기 〉

ㄱ. (가) - 차별없는 사랑과 평화를 주장하였다.
 ㄴ. (나) - 중국인의 예술과 종교에 큰 영향을 끼쳤다.
 ㄷ. (다) - 진시황이 통일 국가를 이루는 데 기여하였다.
 ㄹ. (라) - 한 무제가 국가 통치의 이념으로 중시하였다.

- ① ㄱ, ㄴ ② ㄱ, ㄷ ③ ㄴ, ㄷ ④ ㄴ, ㄹ ⑤ ㄷ, ㄹ

13. 다음 글의 (가)~(다)에 알맞은 정치 기구를 바르게 나열한 것은? [3점]

로마의 정치 기구는 서로 교묘하게 조절되어 세력 균형을 이루도록 권력이 배분되어 있다.

(가) 은(는) 중요한 사건을 입법 기관에 제출하고 법령을 집행한다. 싸움터에 병사를 이끌고 나가는 경우에는 거의 무제한의 권력을 갖는다.

(나) 은(는) 국고를 관리하며 수입과 지출을 통제한다. 그리고 개인이나 동맹국들 사이에 일어난 분쟁을 해결하고 형벌을 부과한다.

(다) 은(는) 평민에게 불리한 입법이 이루어질 경우 이를 거부할 수 있다.

	(가)	(나)	(다)
①	원로원	호민관	집정관
②	집정관	민회	호민관
③	원로원	집정관	민회
④	집정관	원로원	호민관
⑤	민회	원로원	집정관

14. 다음 제도가 성립되었던 당시 인도의 사회 모습으로 가장 적절한 것은? [3점]

신은 브라만에게 「베다」를 가르치고 제사지내는 일을 맡기셨다. 크샤트리아에게는 백성들을 보호하고 다스릴 것을, 바이샤에게는 농사를 짓고 짐승을 기를 것을 명령하셨다. 마지막으로 수드라에게는 다른 세 신분에 속한 사람들에게 봉사하는 임무를 명령하셨다.

- ① 인도 최초의 통일 제국이 형성되었다.
- ② 하라파와 모헨조다로가 대도시로 번성하였다.
- ③ 그리스 문화의 영향을 받아 불상이 제작되었다.
- ④ 범아일체를 주장하는 우파니샤드 철학이 발달하였다.
- ⑤ 자연신을 섬기고 제사 의식을 중시하는 종교가 성립되었다.

15. 다음은 로마의 농업 경영 형태의 변화를 설명한 것이다. 이러한 변화의 원인으로 가장 적절한 것은?


대토지 소유자들이 대규모 노예를 동원하여 포도와 올리브 등을 주로 생산하는 대농장제가 보편화되었다.



대토지 소유자들이 콜로누스라 불리는 소작인에게 토지를 빌려 주고 소작료를 징수하는 방식으로 주로 곡물을 재배하였다.

- ① 중장 보병제의 확립 ② 포에니 전쟁의 승리
- ③ 헬레니즘 문화의 전래 ④ 노예 공급의 감소
- ⑤ 도시와 화폐 경제의 발전

16. 고대의 어느 유적을 답사한 사람이 찍은 사진과 설명이다. 이 유적을 남긴 문명의 특징을 <보기>에서 모두 고른 것은? [3점]

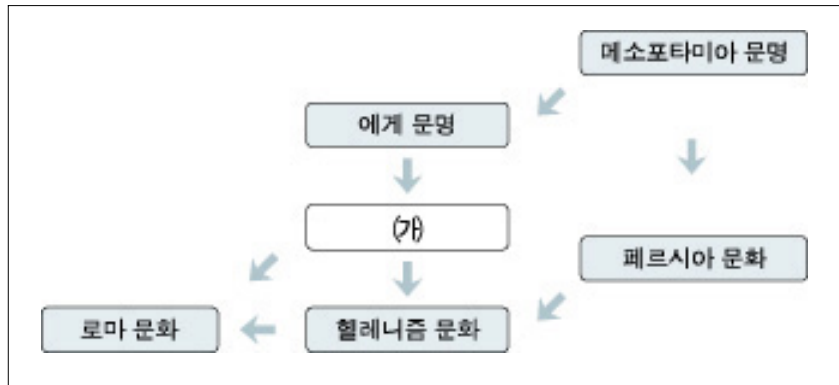


벽돌로 된 집에는 하수도망이 깔려 있어 돌로 된 관을 통해 각 가정에서 배출된 오물이 뚜껑 덮인 수로를 따라 하수 처리장으로 운반되었다. 도로 양편에는 곡식 창고, 공중 목욕탕, 집회소 등이 있었다.

- 〈 보기 〉
- ㄱ. 갠지스 강 유역에서 발달하였다.
 - ㄴ. 채색 토기와 상형 문자를 사용하였다.
 - ㄷ. 철제 농기구를 사용하여 농경을 하였다.
 - ㄹ. 이란, 메소포타미아 지역과 교류를 하였다.

- ① ㄱ, ㄷ ② ㄱ, ㄹ ③ ㄴ, ㄷ ④ ㄴ, ㄹ ⑤ ㄷ, ㄹ

17. 다음 (가)의 특징을 <보기>에서 모두 고른 것은?



- 〈 보기 〉
- ㄱ. 실용적 방면에 많은 유산을 남겼다.
 - ㄴ. 조각에서 조화와 균형의 미가 추구되었다.
 - ㄷ. 그리스교를 수용하여 서양 고전 문화를 완성하였다.
 - ㄹ. 인간 중심적이며 현세 긍정적 성격의 문화를 발전시켰다.

- ① ㄱ, ㄴ ② ㄱ, ㄷ ③ ㄴ, ㄷ ④ ㄴ, ㄹ ⑤ ㄷ, ㄹ

18. 다음 문화 유산을 남긴 문명에 관한 탐구 활동으로 타당한 것을 <보기>에서 모두 고른 것은?



- 〈 보기 〉
- ㄱ. 나일 강 유역의 자연 환경을 알아 본다.
 - ㄴ. 트로이 전쟁의 원인과 결과를 분석해 본다.
 - ㄷ. 피라미드와 미라를 만든 이유를 조사해 본다.
 - ㄹ. 쉐기 문자를 사용했던 지역을 지도에 표시해 본다.

- ① ㄱ, ㄴ ② ㄱ, ㄷ ③ ㄴ, ㄷ ④ ㄴ, ㄹ ⑤ ㄷ, ㄹ

19. 다음은 어느 인물에 대한 후세의 평가이다. 밑줄 친 '그의 업적'을 <보기>에서 모두 고른 것은? [3점]

이 사람은 극단적인 합리성과 비합리성이 기묘한 형태로 어우러져 있는 이중성을 지녔다. 밤낮으로 결재해야 할 분량을 정해 놓고 그것을 처리하기 전에는 쉬지 않았던 근면함과 인재를 중시하고 옳은 말이면 과감하게 시행하는 결단력이 있었으나, 한편으로는 "천성이 포악하고 강철같다."라는 사서(史書)의 평가대로 통일 후에는 지나치게 엄격한 법을 집행하여 백성들을 괴롭히는 악정을 펼치기도 하였다. 그는 영토적으로 중국의 영역을 획정하였고 강력한 법치와 통일 정책을 통해 국가의 동질성과 기본 틀을 확립하였는데, 그의 업적으로 인해 오늘날 중국을 뜻하는 China라는 명칭이 유래되었다.

- 〈 보기 〉
- ㄱ. 화폐, 문자, 도량형을 통일하였다.
 - ㄴ. 항거리선제를 통해 관리를 등용하였다.
 - ㄷ. 유교 경전의 복원과 엄밀한 해석을 장려하였다.
 - ㄹ. 흉노의 침입을 방지하기 위해 만리장성을 쌓았다.

- ① ㄱ, ㄷ ② ㄱ, ㄹ ③ ㄴ, ㄷ
④ ㄴ, ㄹ ⑤ ㄷ, ㄹ

20. 다음 제도가 시행되었던 당시의 사회 모습으로 가장 타당한 것은?

왕은 스스로 천자(天子)라 칭하고 왕위는 적장자가 계승하며 천하의 대중(大宗)이라 칭하는데, 동성(同姓) 귀족의 최고 족장이자 정치적으로 천하를 통치하는 지배자가 된다. 천자의 자식들 혹은 분봉(分封) 받은 제후도 천자에 대해서는 소종(小宗)이지만 본국 내에서는 대중으로서 그 나라를 지배하며 그 지위는 역시 적장자가 계승한다.

- ① 혈연을 바탕으로 한 봉건 제도가 성립되었다.
- ② 대토지 소유자인 호족들이 농민을 지배하였다.
- ③ 신분보다 능력을 중시하는 경향이 대두되었다.
- ④ 전제 군주에 의한 중앙 집권 체제가 확립되었다.
- ⑤ 태평도, 오두미도와 같은 민간 신앙이 유행하였다.

※ 확인 사항
○ 문제지와 답안지의 해당란을 정확히 기입(표기)했는지 확인하십시오.