

2

직업탐구영역

5. 다음 거래를 분개할 경우, 빈칸의 계정과목과 자본 분류항목을 바르게 짝지은 것은? [3점]

○○주식회사는 이사회 결의에 따라 증자하기로 하고, 주식 200주(액면 @₩1,000)를 액면발행하여 전액 납입받아 당좌예입하다. 단, 주식발행 제비용 ₩10,000은 현금으로 지급하다.

(차) 당좌예금 200,000 (대) 자본금 200,000
() 10,000 () 현금 10,000

- | 계정과목 | 자본 분류항목 |
|------------|---------|
| ① 주식발행비 | 자본잉여금 |
| ② 주식발행비 | 이익잉여금 |
| ③ 주식발행초과금 | 자본조정 |
| ④ 주식할인발행차금 | 자본조정 |
| ⑤ 주식할인발행차금 | 자본잉여금 |

6. 다음 계정에 기입된 내용으로 볼 때, 기말 결산 시 외상매출금 잔액에 대하여 추산한 대손율은? [3점]

외상매출금			
1/1 전 기 이 월	20,000	9/30 현 금	50,000
6/30 매 출	130,000	12/31 차 기 이 월	100,000
	<u>150,000</u>		<u>150,000</u>
대손충당금			
12/31 차 기 이 월	3,000	1/1 전 기 이 월	1,000
		12/31 대손상 각 비	2,000
	<u>3,000</u>		<u>3,000</u>

- ① 1% ② 2% ③ 3% ④ 4% ⑤ 5%

7. 다음 거래를 보조 장부에 기록하고자 한다. 거래 내용이 기입되는 장부를 <보기>에서 모두 고른 것은?

○○상회의 외상매출금 ₩300,000 중 ₩200,000은 동점이 발행한 수표로 받고, 잔액은 현금으로 받다.

- 〈 보 기 〉
- | | |
|----------|------------|
| ㄱ. 매출장 | ㄴ. 현금출납장 |
| ㄷ. 매출처원장 | ㄹ. 당좌예금출납장 |

- ① ㄱ, ㄴ ② ㄱ, ㄷ ③ ㄱ, ㄹ
④ ㄴ, ㄷ ⑤ ㄷ, ㄹ

8. 다음 상품재고장에 기입된 내용에 따라 9월 중 갑상품의 매출 손익을 계산한 결과로 옳은 것은? (단, 갑상품은 모두 1개당 ₩250에 판매되었다.) [3점]

상 품 재 고 장
이동평균법 품명 : 갑상품 (단위:개)

월 일	적 요	인 수			인 도			잔 액		
		수량	단가	금액	수량	단가	금액	수량	단가	금액
9 1	전월이월	10	150	1,500				10	150	1,500
3	매 입	20	180	3,600				30	170	5,100
7	매 출				20	170	3,400	10	170	1,700
15	매 입	10	190	1,900				20	180	3,600
19	매 출				10	180	1,800	10	180	1,800
30	차월이월				10	180	1,800			
		40		7,000	40		7,000			

- ① ₩500 ② ₩1,800 ③ ₩2,000
④ ₩2,100 ⑤ ₩2,300

9. 다음 자료를 분개할 때, (가)와 (나)의 차변 계정과목으로 바르게 짝지은 것은?

현금 지급 내역

(가) 영업용 화물 트럭에 대한 자동차세 ₩100,000
(나) 사무실 전화요금 및 인터넷 사용료 ₩80,000

- | (가) | (나) |
|---------|-------|
| ① 세금과공과 | 통신비 |
| ② 세금과공과 | 접대비 |
| ③ 차량유지비 | 통신비 |
| ④ 차량유지비 | 수도광열비 |
| ⑤ 복리후생비 | 수도광열비 |

10. 자료를 보고 바르게 설명한 것을 <보기>에서 모두 고른 것은? [3점]

○ 기초상품재고액 ₩20,000	○ 총매출액 ₩150,000
○ 기말상품재고액 30,000	○ 총매입액 110,000
○ 급 여 40,000	○ 이자비용 1,000

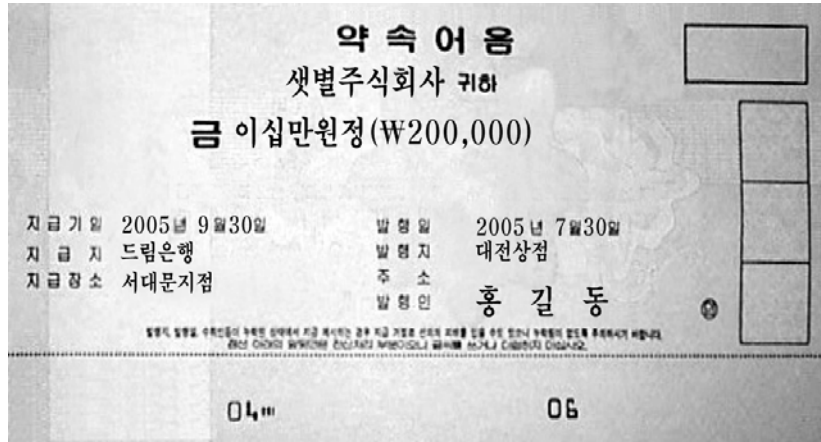
〈 보 기 〉

ㄱ. 영업이익은 ₩10,000이다.
ㄴ. 순매출액은 ₩170,000이다.
ㄷ. 매출원가는 ₩100,000이다.
ㄹ. 매출총이익은 ₩70,000이다.
ㅁ. 판매가능상품액은 ₩130,000이다.

- ① ㄱ, ㄴ, ㄷ ② ㄱ, ㄷ, ㅁ ③ ㄴ, ㄷ, ㄹ
④ ㄴ, ㄹ, ㅁ ⑤ ㄷ, ㄹ, ㅁ

직업탐구영역

11. 약속어음에 기입된 내용을 보고 추론할 수 있는 사항이 아닌 것은?



- ① 수취인은 셋별투자회사이다.
- ② 어음상의 채무자는 대전상점이다.
- ③ 대전상점은 상품을 매입하고 약속어음을 발행하여 준다.
- ④ 셋별투자회사는 상품을 매출하고 대전상점으로부터 약속어음을 받는다.
- ⑤ 대전상점은 9월 1일 어음을 할인받기 위해 드림은행에 배서양도하다.

12. ○○기업의 사채 발행 관련 자료이다. 옳은 내용을 <보기>에서 모두 고른 것은? [3점]

- 사채 발행일 : 2005년 1월 1일
- 사채 액면금액 : ₩1,000,000(액면 @₩10,000)
- 사채 발행가액 : ₩950,000
- 상환 조건 : 3년 만기 일시 상환
- 액면 이자율 : 연 8% (단, 이자 지급일은 매년 12월 31일)
- 회계기간 : 2005년 1월 1일 ~ 2005년 12월 31일

- < 보 기 >
- ㄱ. 평가 발행의 경우이다.
 - ㄴ. 사채의 액면이자율이 시장이자율보다 크다.
 - ㄷ. 사채 발행시 사채할인발행차금은 ₩50,000이다.
 - ㄹ. 당기말에 지급할 사채의 액면이자 ₩80,000이다.

- ① ㄱ, ㄴ ② ㄱ, ㄷ ③ ㄱ, ㄹ
- ④ ㄴ, ㄷ ⑤ ㄷ, ㄹ

13. 다음 조건을 동시에 충족하는 계정과목을 <보기>에서 모두 고른 것은?

- 감가상각 대상인 자산
- 물리적으로 식별 가능한 유형의 자산
- 장기간에 걸쳐 영업용으로 계속 사용하는 자산

- < 보 기 >
- ㄱ. 건물 ㄴ. 토지 ㄷ. 기계장치
 - ㄹ. 산업재산권 ㅁ. 차량운반구

- ① ㄱ, ㄴ, ㄷ ② ㄱ, ㄴ, ㄹ ③ ㄱ, ㄷ, ㅁ
- ④ ㄴ, ㄹ, ㅁ ⑤ ㄷ, ㄹ, ㅁ

14. 다음의 손익계정과 이월자산표에 대한 설명으로 틀린 것은?


손 익			
급 여	200,000	상품매출이익	300,000
임 차 료	40,000	이 자 수 익	50,000
감가상각비	10,000		
자 본 금	100,000		
	350,000		350,000

이월자산표			
현 금	300,000	외 상 매 입 금	270,000
상 품	100,000	미 지 급 금 여	30,000
건 물	500,000	감가상각누계액	20,000
선급임차료	20,000	자 본 금	600,000
	920,000		920,000


- ① 기말자본금은 ₩600,000이다.
- ② 당기순이익은 ₩100,000이다.
- ③ 급여 미지급분은 ₩30,000이다.
- ④ 임차료 선급분은 ₩20,000이다.
- ⑤ 당기 감가상각비는 ₩20,000이다.

15. 다음 자료를 이용하여 매출원가를 계산한 결과로 옳은 것은? [3점]

- 기초상품재고액 ₩40,000
- 당기상품매입액 ₩160,000
- 기말상품재고액



장부재고액 (₩90,000)
90개(@₩1,000)



실제재고액 (₩80,000)
80개(@₩1,000)

* 단, 감모량 10개 중 5개는 비정상적으로 발생하여 원가성이 없다.

- ① ₩110,000 ② ₩115,000 ③ ₩120,000
- ④ ₩160,000 ⑤ ₩220,000

4

직업탐구영역

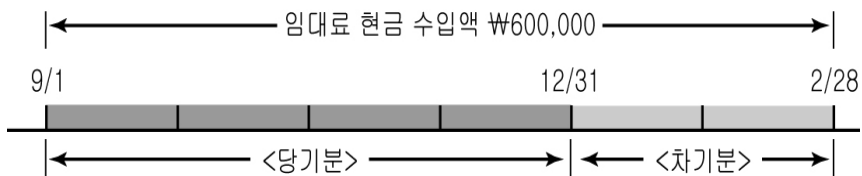
16. 판매비와 관리비에 해당하는 거래를 <보기>에서 모두 고른 것은?

< 보 기 >

ㄱ. 영업부 회식비 ₩200,000을 현금으로 지급하다.
 ㄴ. 사무실 임차료 ₩100,000을 현금으로 지급하다.
 ㄷ. 장애인 돕기 성금으로 현금 ₩100,000을 기탁하다.
 ㄹ. 결산 시 현금과부족 계정 차변잔액 ₩2,000은 원인불명이다.

- ① ㄱ, ㄴ ② ㄱ, ㄷ ③ ㄱ, ㄹ
 ④ ㄴ, ㄷ ⑤ ㄷ, ㄹ

17. 그림에 대한 설명으로 옳지 않은 것은? [3점]



- ① 임대료 수익 인식 기준일은 9월 1일이다.
 ② 당기분의 임대료 계상액은 ₩400,000이다.
 ③ 차기분 ₩200,000은 선수수익으로 부채이다.
 ④ 결산 시 (차)선수임대료 200,000 (대)임대료 200,000으로 수정 분개한다.
 ⑤ 수익의 이연으로 결산 시에 ₩200,000을 임대료계정에서 차감해 주어야 한다.

18. 다음 자료에 의하여 당기에 지급한 보험료를 계산한 결과로 옳은 것은? [3점]

순익계산서			
○○상점	200X.1.1. ~ 200X.12.31.		(단위:원)
비 용	금 액	수 익	금 액
급 여	300,000	상품매출이익	380,000
보 험 료	100,000	이 자 수 익	120,000
대손상각비	10,000		
당기순이익	90,000		
	500,000		500,000

보 험 료			
8/1 현 금 ()	12/31 선급보험료	140,000	
	12/31 () ()		
()		()	

- ① ₩40,000 ② ₩100,000 ③ ₩120,000
 ④ ₩140,000 ⑤ ₩240,000

19. 다음은 회계원리 수업의 일부이다. 각 학생들이 말하는 계정 과목을 바르게 짝지은 것은?

선생님 : 유동부채란 1년 이내에 상환하여야 할 채무를 말합니다. 이에 속하는 거래의 예를 말해 보세요?
 길동 : 비품을 외상으로 구입한 경우가 있습니다.
 수연 : 출장 간 사원이 내용불명의 현금을 송금해 온 경우가 있습니다.
 혜림 : 상품 주문 대금의 일부 또는 전부를 미리 받은 경우가 있습니다.

- | | 길동 | 수연 | 혜림 |
|---|-------|-----|-----|
| ① | 가지급금 | 가수금 | 미수금 |
| ② | 미지급금 | 미수금 | 선수금 |
| ③ | 미지급금 | 가수금 | 선수금 |
| ④ | 외상매입금 | 선수금 | 가수금 |
| ⑤ | 외상매입금 | 가수금 | 선수금 |

20. 다음은 ○○상점이 10월 13일 작성한 약식 전표이다. 이를 이용하여 일계표를 작성할 때, (가)의 금액으로 옳은 것은? [3점]

입금전표
 2005년 10월 13일
 외상매출금 ₩1,000,000

출금전표
 2005년 10월 13일
 매 입 ₩500,000

대체전표
 2005년 10월 13일
 외상매출금 ₩900,000 매 출 ₩900,000

일 계 표				
○○상점	2005년 10월 13일		(단위:원)	
차 변	원면	계 정 과 목	대 변	
	생			
(가)	락		()	

- ① ₩900,000 ② ₩1,000,000 ③ ₩1,500,000
 ④ ₩2,400,000 ⑤ ₩3,300,000

※ 확인 사항

○ 문제지와 답안지의 해당란에 필요한 내용을 정확히 기입(표기)했는지 확인하십시오.