



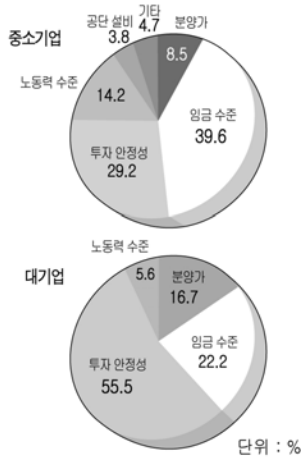
2

# 사회 탐구 영역

6. 개성 공단에 관한 두 자료를 보고, 추론한 내용으로 타당한 것을 <보기>에서 모두 고른 것은?



국내 기업 개성 공단 투자 결정 요인



- < 보기 >
- ㄱ. 서울, 인천, 개성 간 연계 협력이 가능하다.
  - ㄴ. 개성 주변의 풍부한 원료와 전력을 활용할 수 있다.
  - ㄷ. 투자 안정성을 높이기 위해서 남북 간 신뢰 구축이 중요하다.
  - ㄹ. 국내 기업은 북한 노동자의 기술 수준보다는 인건비를 더 고려한다.

- ① ㄱ                      ② ㄱ, ㄴ                      ③ ㄱ, ㄷ  
 ④ ㄱ, ㄴ, ㄹ              ⑤ ㄱ, ㄷ, ㄹ

7. 표는 어떤 작물의 생산량에 대한 자료이다. 이 작물에 대한 옳은 설명을 <보기>에서 모두 고른 것은? [3점]

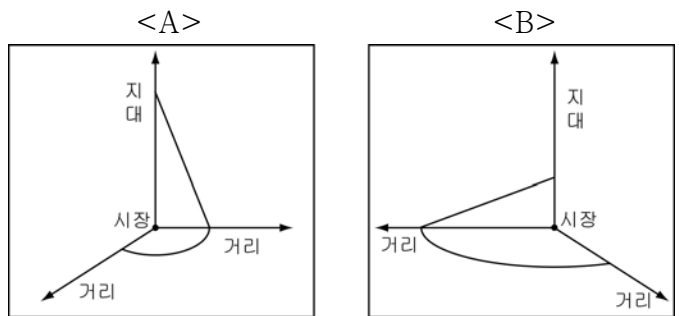
세계 국가별 생산량					OECD 국가별 생산량				
국가	구분	단위 면적당 생산량(kg/ha)	생산량 (천톤)	순위	국가	구분	단위 면적당 생산량(kg/ha)	생산량 (천톤)	순위
중	국	6,074	166,417	1	일	본	5,850	9,740	1
인	도	3,000	132,013	2	미	국	7,448	9,034	2
인도네시아		4,538	52,079	3	한	국	6,054	6,151	3
방글라데시		3,429	38,060	4	이탈리아		6,181	1,360	4
베트남		4,634	34,519	5	에스파냐		7,277	855	5
한국		6,054	6,151	13	오스트레일리아		10,290	391	6

(자료 : 농림부, 2003년 기준)

- < 보기 >
- ㄱ. 아시아 계절풍 기후 지역에서 주로 생산된다.
  - ㄴ. 이탈리아와 에스파냐에서 주식 작물로 소비된다.
  - ㄷ. 오스트레일리아는 우리나라보다 토지 생산성이 낮다.
  - ㄹ. 부유한 국가들은 대체로 단위 면적당 생산량이 많다.

- ① ㄱ, ㄴ                      ② ㄱ, ㄷ                      ③ ㄴ, ㄷ  
 ④ ㄴ, ㄹ                      ⑤ ㄷ, ㄹ

8. A, B 두 고립국 내에서 동일한 작물의 지대 곡선이 그림과 같을 때, 이를 분석한 내용으로 옳은 것을 <보기>에서 모두 고른 것은? (단, 지대=시장가격-생산비-운송비) [3점]



- < 보기 >
- ㄱ. 시장에서의 지대는 A가 B보다 높다.
  - ㄴ. 작물의 재배 범위는 A가 B보다 넓다.
  - ㄷ. 단위 거리당 운송비는 A가 B보다 비싸다.

- ① ㄱ                      ② ㄴ                      ③ ㄱ, ㄷ                      ④ ㄴ, ㄷ                      ⑤ ㄱ, ㄴ, ㄷ

9. 사진은 어느 지역을 여행하는 중에 찍은 것이다. 이 지역의 관광 산업에 대한 설명으로 적절한 것은?



<고대 유적지>



<주민과 가축>

- ① 세계 종교의 발상지로 성지 순례를 하는 관광객이 많다.
- ② 아시아로부터 이주한 원주민의 고산 생활을 체험할 수 있다.
- ③ 코알라, 캥거루 등 희귀한 동물과 다양한 자연 환경을 볼 수 있다.
- ④ 관광 자원의 개발이 부진하나, 사바나 지역의 생태 관광은 유명하다.
- ⑤ 기독교 문화 유산이 주요 관광 자원으로 관광 편의 시설이 잘 정비되어 있다.

10. 다음 글에서 밑줄 친 (가)의 원인으로 타당성이 가장 큰 것은?

**‘봉제 공장이 줄어들어 한국 떠나요’**  
 ○○기업은 의류·모자에 부착하는 레이블\*만 생산해 연매출 100억 원을 올리는 국내 최대 규모의 제조업체이다. 김□□ 사장은 “(가)국내에 있던 대다수의 봉제 공장이 베트남, 인도네시아 등으로 이전해 가고 있으므로 우리 공장도 뒤따라갈 필요가 있다.”고 말했다.  
 - ○○신문 2004. 6. 1 -  
 \* 레이블 : 상품에 붙인 표나 인쇄물

- ① 해외의 현지 시장을 개척하기 위해
- ② 해외의 원료와 부품을 이용하기 위해
- ③ 저렴하고 풍부한 노동력을 이용하기 위해
- ④ 봉제업의 원료와 제품 운송비를 줄이기 위해
- ⑤ 국내의 수요 감소로 인한 채산성 악화로 인해



4

# 사회 탐구 영역

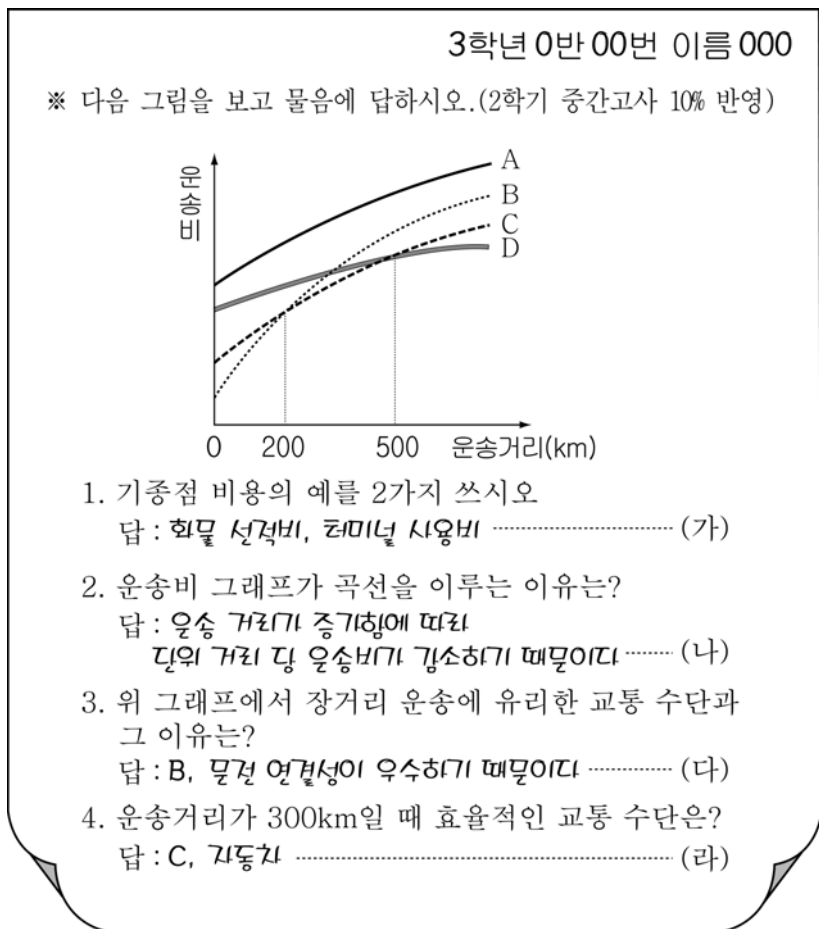
17. 인터넷 상거래에 관한 자료이다. 이러한 상업 활동이 활발해질 때 예상되는 변화로 적절하지 않은 것은?

**‘창업 5년만에 총 거래액 1조 원 돌파’**  
 판매자와 구매자를 직접 연결해 주는 온라인 장터인 ‘오픈마켓’이 날로 커지고 있다. ‘오픈마켓’은 온라인 쇼핑몰과 달리 업체에서 판매 제품을 선정하지 않고, 개인들이 자유롭게 물건을 사고 팔아 제품 값이 싼 것이 특징이다.  
 - ○○일보 2005. 7. 6. -



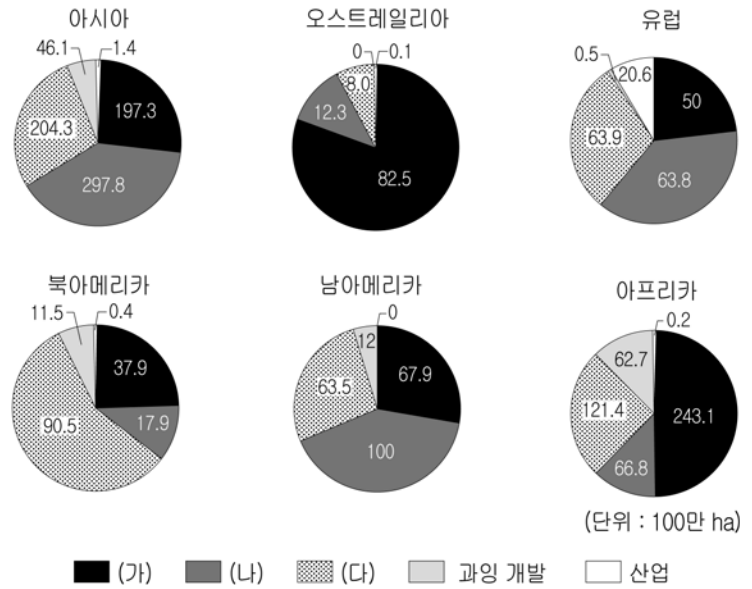
- ① 상품의 유통비 비중이 줄어들 것이다.
- ② 유통업에서 택배업 비중이 높아질 것이다.
- ③ 거래되는 제품의 종류가 다양화될 것이다.
- ④ 소비자의 대량 구매 성향이 일반화될 것이다.
- ⑤ 구매자는 동시에 판매자가 될 수 있을 것이다.

18. 다음은 교통수단별 운송비 구조에 대한 쪽지 시험지이다. 바르게 쓴 답을 모두 고른 것은? [3점]



- ① (가), (나)      ② (가), (다)      ③ (나), (다)
- ④ (나), (라)      ⑤ (다), (라)

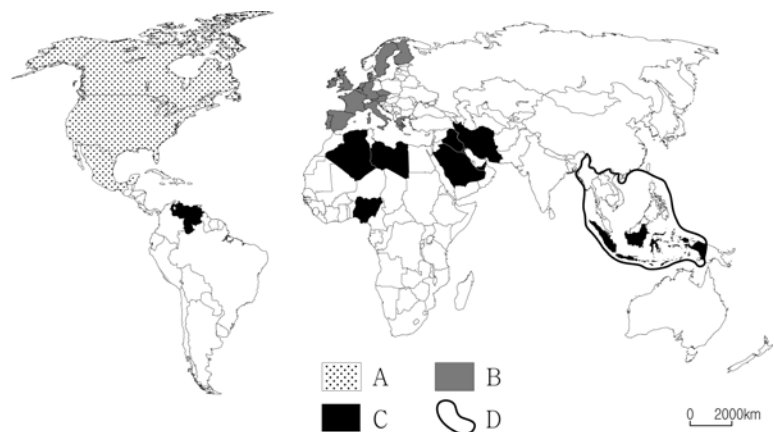
19. 자료는 대륙별 토양 침식의 원인을 나타낸 것이다. (가)~(다)에 해당되는 사항을 바르게 짝지은 것은? [3점]



- |   |        |        |        |
|---|--------|--------|--------|
|   | (가)    | (나)    | (다)    |
| ① | 방목지 확대 | 삼림 감소  | 농업 활동  |
| ② | 방목지 확대 | 농업 활동  | 삼림 감소  |
| ③ | 삼림 감소  | 방목지 확대 | 농업 활동  |
| ④ | 삼림 감소  | 농업 활동  | 방목지 확대 |
| ⑤ | 농업 활동  | 삼림 감소  | 방목지 확대 |

20. 글 (가), (나)에 해당하는 경제 협력 기구를 지도에서 찾아 바르게 짝지은 것은? [3점]

(가) 1960년 결성, 석유 산업의 국유화 단행, 자원을 정치적으로 이용, 세계 경제에 큰 영향력 행사.  
 (나) 1967년 결성, 주로 원자재와 노동 집약적 경공업 제품을 수출, 경제 구조가 서로 비슷하여 경제적 상호 보완성이 약함.



- |   |     |     |   |     |     |
|---|-----|-----|---|-----|-----|
|   | (가) | (나) |   | (가) | (나) |
| ① | A   | B   | ② | A   | D   |
| ③ | B   | C   | ④ | C   | A   |
| ⑤ | C   | D   |   |     |     |

※ 확인 사항  
 ○ 문제지와 답안지의 해당란에 필요한 내용을 정확히 기입(표기)했는지 확인하시오.