

사회탐구 영역 (정치)

제 4 교시

성명

수험번호

2

1

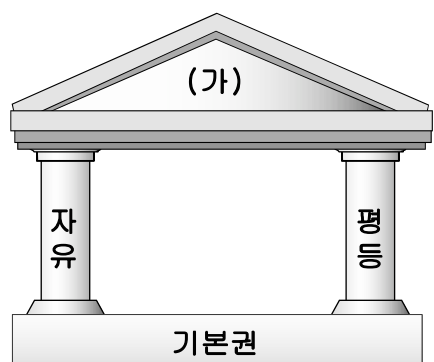
- 먼저 수험생이 선택한 과목의 문제지인지 확인하십시오.
- 반드시 자신이 선택한 과목의 문제지를 풀어야 합니다.
- 답안지에는 반드시 '수험생이 지켜야 할 일'에 따라 수험 번호, 답 등을 표기하십시오.
- 문항에 따라 배점이 다르니, 각 물음의 끝에 표시된 배점을 참고하십시오. 3점 문항에만 점수가 표시되어 있습니다. 점수 표시가 없는 문항은 모두 2점씩입니다.

1. 다음 글을 통해 알 수 있는 민주정치의 원리와 가장 관계 깊은 것은?

그 동안의 경험으로 볼 때, “권력을 잡은 사람은 모두 그것을 남용하고, 자기 권위를 최대한 신장하려 한다.”는 경향이 있음을 알 수 있다. …(중략)… 이 남용을 막기 위해서는 권력의 속성상 권력으로 권력을 견제하는 것이 필요하다.
- 몽테스키외의 법의 정신 -

- ① 의회를 중심으로 정치가 운영된다.
- ② 헌법에 의해 국가의 권력 행사를 제한한다.
- ③ 국가 권력을 복수의 국가 기관에 분산시킨다.
- ④ 선거를 통하여 국가 권력의 정당성을 부여한다.
- ⑤ 지역 주민들이 해당 지역의 공무를 직접 처리한다.

2. 그림에서 민주주의의 근본이념인 (가)에 대한 설명으로 적절하지 않은 것은?



- ① 누구에게나 보편적으로 인정되는 절대적 가치이다.
- ② 개인보다 공동체를 우선한다는 전제에서 출발한다.
- ③ 인간을 수단이 아닌 목적으로 대해야 함을 의미한다.
- ④ 인간은 그 자체로 존중받을 만한 가치를 지님을 의미한다.
- ⑤ 개인의 기본적 인권을 보장해야 한다는 사상으로 발전하였다.

3. 밑줄 친 내용과 가장 관계 깊은 것은? [3점]

민주주의는 국민들이 국가의 중요한 의사를 결정하는 정치 형태로서의 의미와, 일상 생활에서 인간 존중, 자유, 평등의 이념을 실현하는 생활 원리로서의 의미로 구분해 볼 수 있다.

- ① 대립되는 이익의 조화
- ② 다른 사람 의견의 오류를 발견
- ③ 공동체의 일을 자신의 일처럼 처리
- ④ 타인의 이질성을 받아들이고 용인함
- ⑤ 시민이 선출한 대표를 통한 주권 행사

4. 다음 제도를 통해 실현하고자 하는 평등과 관련된 것은?

- 장애인 복지법 시행
- 소득세를 부과할 때 누진세율 적용
- 저소득층에 대한 의료보호 제도 실시

- ① 출발의 평등만을 강조한다.
- ② 모든 사람을 획일적으로 대우한다.
- ③ 신 앞에서의 절대적 평등을 의미한다.
- ④ 개인의 선천적인 차이를 인정하지 않는다.
- ⑤ 약자에 대한 배려를 통해 실질적 평등을 추구한다.

5. 밑줄 친 관점의 사례로 옳은 것을 <보기>에서 모두 고르면? [3점]

정치의 의미를 두 가지 관점으로 생각해 볼 수 있다.
첫째, 정치를 국가가 갖는 특유한 현상 또는 직접 국가에 관련된 일을 하는 사람들의 활동으로 본다.
둘째, 정치를 단지 국가뿐 아니라 모든 사회 집단의 활동에서 나타나는 일반적인 현상이라고 본다.

<보 기>

- ㄱ. 전교생의 직접선거로 학생회를 구성한다.
- ㄴ. 국회에서 사회복지 관련 법률을 제정한다.
- ㄷ. 환경보호를 위해 시민단체 활동에 참여한다.
- ㄹ. 통일방안을 모색하기 위해 남북정상회담을 추진한다.

- ① ㄱ
- ② ㄱ, ㄷ
- ③ ㄴ, ㄹ
- ④ ㄱ, ㄴ, ㄷ
- ⑤ ㄴ, ㄷ, ㄹ

16. 다음 글의 밑줄 친 ‘이 제도’는?

○ 고대 그리스에서 유래되어, 오늘날에는 스위스의 몇 개 주, 일본의 지방 자치 단체 등에서 채택하고 있다. 이 제도는 국민이 대표자를 선출했기 때문에 그에 대한 책임도 같은 방법으로 해야 한다는 데 그 이론적 근거를 두고 있다.

○ 미국의 캘리포니아 주에서는 재정 파탄과 에너지 위기 등의 실정(失政)을 한 ○○주지사의 책임을 묻기 위해 이 제도를 실시하였고, 그 후에 △△가 새로운 주지사로 선출되었다.

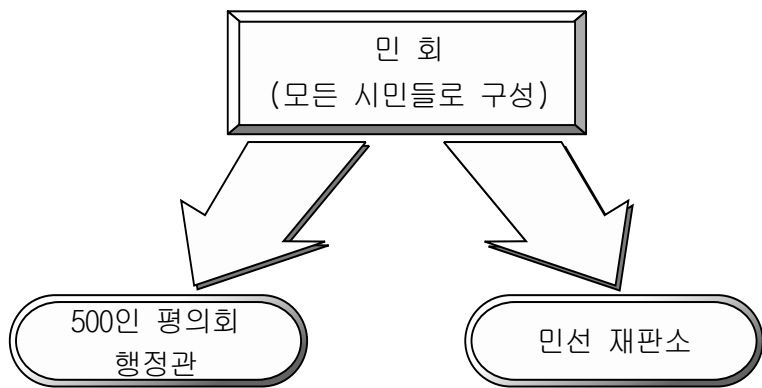
- ① 선거 ② 탄핵 ③ 국민 투표
- ④ 국민 소환 ⑤ 국민 발안

17. 우리나라의 정부 형태에서 밑줄 친 내용에 해당하는 것은?

우리나라의 정부 형태는 대통령제를 기본으로 하면서 의원 내각제적 요소를 가미하고 있다.

- ① 엄격한 삼권 분립이 이루어진다.
- ② 대통령이 의회를 해산할 수 있다.
- ③ 대통령은 법률안을 거부할 수 있다.
- ④ 국회의원은 국무위원을 겸직할 수 있다.
- ⑤ 국회는 대통령에 대한 탄핵소추권이 있다.

18. 그림은 고대 아테네 정치형태를 나타낸 것이다. 이와 같은 정치 형태가 현대 사회에서 실시되기 어려운 이유를 <보기>에서 고르면? [3점]

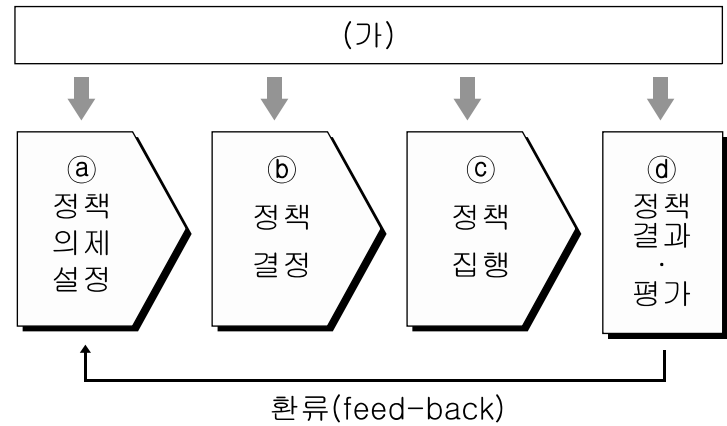


<보 기>

ㄱ. 정당 정치의 발달 ㄴ. 정책의 전문성 심화
 ㄷ. 시민 운동의 활성화 ㄹ. 넓은 영토와 많은 인구

- ① ㄱ, ㄴ ② ㄱ, ㄷ ③ ㄴ, ㄷ
- ④ ㄴ, ㄹ ⑤ ㄷ, ㄹ

[19 ~ 20] 그림은 공공 정책의 결정 과정을 나타낸 것이다. 물음에 답하시오.



19. 위 그림의 (가)에 대한 설명으로 옳지 않은 것은? [3점]

- ① 정책 결정의 효율성을 보장한다.
- ② 정책의 정당성을 확보하게 한다.
- ③ 언론 매체의 중요성을 부각시킨다.
- ④ 시민의 권리 의식 신장과 관계가 깊다.
- ⑤ 정책 결정 과정의 투입 과정에서 특히 강조된다.

20. 위 그림의 각 단계에 대한 설명으로 옳은 것을 <보기>에서 고르면?

<보 기>

ㄱ. a에서는 비공식적 참여자의 영향력이 배제된다.
 ㄴ. b는 주로 사법부의 활동 영역이다.
 ㄷ. c는 행정부의 주도로 이루어진다.
 ㄹ. d는 국민의 새로운 요구와 관심의 대상이 된다.

- ① ㄱ, ㄴ ② ㄱ, ㄷ ③ ㄱ, ㄹ
- ④ ㄴ, ㄷ ⑤ ㄷ, ㄹ

● 확인 사항
 문제지와 답안지의 해당란을 정확히 기입(표기)했는지 확인하시오.