

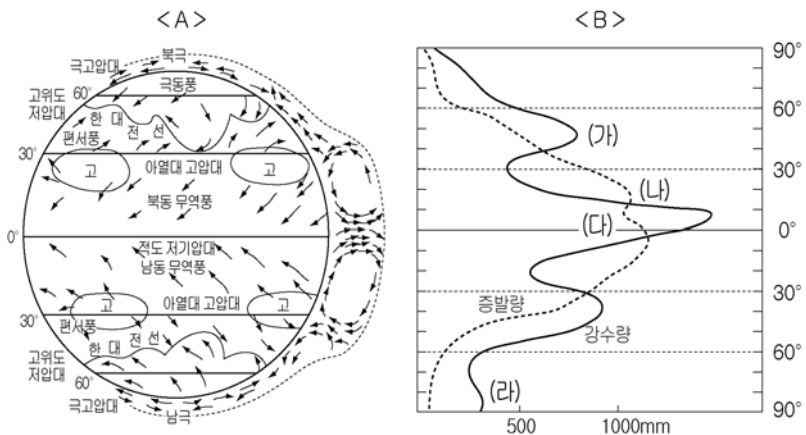
제 4 교시 사회 탐구영역(세계 지리)

성명		수험번호							3			
----	--	------	--	--	--	--	--	--	---	--	--	--

1

- 자신이 선택한 과목의 문제지인지 확인하십시오.
- 문제지에 성명과 수험 번호를 정확히 써 넣으시오.
- 답안지에 성명과 수험 번호를 써 넣고, 또 수험 번호, 선택 과목과 답을 정확히 표시하십시오.
- 문항에 따라 배점이 다르니, 각 물음의 끝에 표시된 배점을 참고하십시오. 3점 문항에만 점수가 표시되어 있습니다. 점수표시가 없는 문항은 모두 2점입니다.

1. 자료 <A>를 토대로 자료 에 대해 옳게 설명한 것을 <보기>에서 모두 고른 것은? [3점]



< 보 기 >

ㄱ. (가) 위도대에서는 전선성 강수가 잦다.
 ㄴ. (나) 위도대에서 증발량이 많은 것은 상승 기류가 활발하기 때문이다.
 ㄷ. (다) 위도대에서는 연중 대류성 강수가 잦다.
 ㄹ. (라) 위도대에서는 습윤한 극동풍의 영향으로 강수량이 많다.

- ① ㄱ, ㄴ ② ㄱ, ㄷ ③ ㄴ, ㄹ
 ④ ㄱ, ㄷ, ㄹ ⑤ ㄴ, ㄷ, ㄹ

2. 지도에 검게 표시된 지역의 자연 환경과 주민 생활 모습에 대한 학생들의 발표 주제로 적절하지 않은 것은?



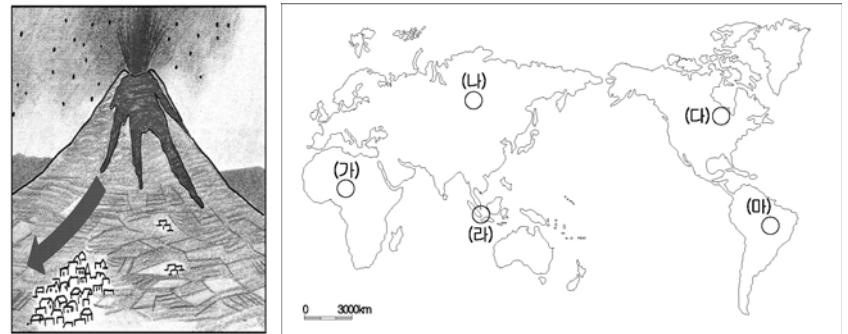
- ① 플랜테이션 작물의 분포
 ② 밀림 파괴에 따른 환경 문제
 ③ 외래 하천을 이용한 농업 방식
 ④ 라테라이트 토양의 특성과 이용
 ⑤ 통풍성이 뛰어난 개방형 가옥 구조

3. 두 사람의 대화 내용과 가장 관계 깊은 지리 학습 주제로 옳은 것은?

갑 : 새천년이 2000년 1월 1일에 시작되었지?
 을 : 그렇지, 누가 뭐라 해도 서력의 숫자 네 개가 모두 바뀐다는 점에서 역사적으로 기념할 만한 순간임에 틀림 없어.
 갑 : 그런데 새천년을 가장 먼저 맞이한 나라는 어디일까?
 을 : 태평양상의 날짜 변경선이 동쪽으로 튀어나온 곳에 있는 키리바시가 바로 그곳이지.

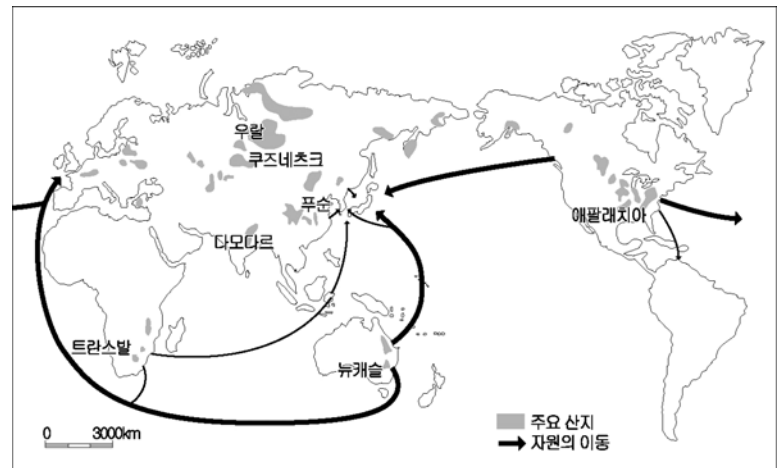
- ① 분포 ② 지역 ③ 이동
 ④ 장소 ⑤ 위치

4. 그림에서와 같은 지형 형성 작용이 빈번하게 발생하는 지역을 지도에서 고른 것은?



- ① (가) ② (나) ③ (다) ④ (라) ⑤ (마)

5. 지도는 어떤 자원의 주요 산지와 이동을 나타낸 것이다. 이 자원과 관련된 설명으로 옳은 것을 <보기>에서 모두 고른 것은? [3점]



< 보 기 >

ㄱ. 고기 습곡 산지에 주로 매장되어 있다.
 ㄴ. 이 자원의 수출국들이 모여 OPEC를 결성하였다.
 ㄷ. 청정 연료로 알려지면서 생산과 소비가 늘고 있다.
 ㄹ. 산업 혁명 이후 에너지 자원으로 본격 개발되었다.

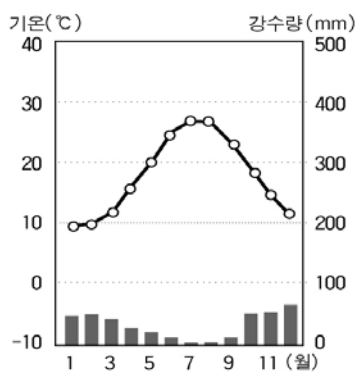
- ① ㄱ, ㄴ ② ㄱ, ㄷ ③ ㄱ, ㄹ ④ ㄴ, ㄹ ⑤ ㄷ, ㄹ

6. 다음 관광 홍보 자료에 나타난 지역의 특색을 추론한 것으로 옳지 않은 것은?

아프리카 케냐에 위치한 암보셀리 국립공원은 야생동물 보호 구역으로 특히, 코끼리가 많이 서식한다. 8인승 특수 차량을 타고 코끼리들의 행렬을 따라다니는 여행은 매우 감동적이다. 여행객들은 초원에서 자유롭게 생활하는 수많은 야생동물과 만년설로 덮여있는 킬리만자로 산의 신비로운 모습을 보며 자연의 경이로움을 느낀다.

- ① 연중 고온 다습하다.
- ② 토양은 주로 붉은 색을 띤다.
- ③ 야생동물들은 계절에 따라 대이동을 한다.
- ④ 키 큰 풀들 사이로 나무가 드문드문 서 있다.
- ⑤ 킬리만자로 산에는 식생의 수직 분포가 나타난다.

7. 유럽의 어느 지역에 나타나는 기후 그래프이다. 이 지역의 특색을 추론한 것으로 옳은 것은? [3점]



- ① 여름에 홍수 피해가 심할 것이다.
- ② 겨울에 건조하여 산불이 자주 발생할 것이다.
- ③ 겨울에 스키장을 이용하는 사람들로 붐빌 것이다.
- ④ 여름에 밀, 보리 등의 재배가 활발하게 이루어질 것이다.
- ⑤ 여름철 바닷가에서 일광욕을 즐기는 사람들이 많을 것이다.

8. 다음 자료를 보고 이 지역의 특색에 대해 학생들이 발표한 내용 중 옳지 않은 것은? [3점]



독특한 자연 경관을 보기 위해 이곳을 찾는 사람들이 많다. 이곳의 가장 특이한 경치 중 하나는 루디엔 동굴로 갖가지 조명과 종이석, 석순들이 어우러져 마치 영화 세트처럼 환상적으로 보인다.

갑 : ㉠루디엔 동굴은 용식 작용에 의해 형성된 것이다.
 을 : 암석에 ㉡절리가 많고 강수량이 풍부하면 이러한 지형이 더 잘 발달하겠지.
 병 : ㉢이곳은 석회암이 많고 ㉣토양은 대체로 붉은 색일 거야.
 정 : 이곳에는 ㉤맑은 지하수를 이용한 생수 공장이 많을거야.

- ① ㉠ ② ㉡ ③ ㉢ ④ ㉣ ⑤ ㉤

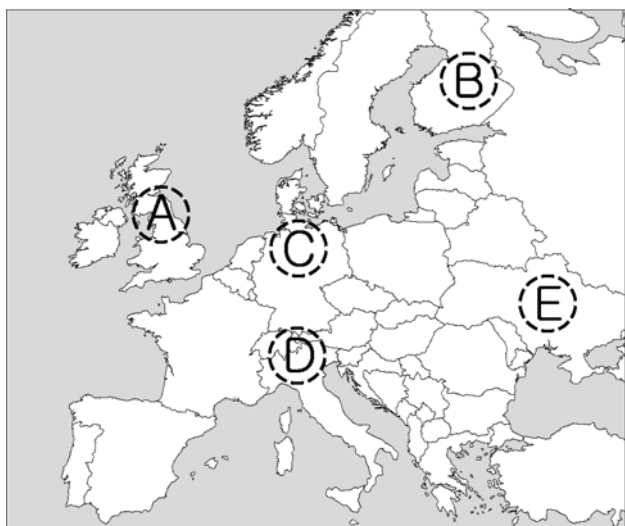
9. 다음 글의 밑줄 친 '그곳'에서 오늘날 쉽게 볼 수 있는 모습으로 옳은 것은? [3점]

수 천 개의 섬으로 이루어진 그곳에 다녀오려면 1년이나 걸린다. 겨울에 출항해서 여름에 회항해야 하기 때문이다. 그곳에는 두 종류의 바람밖에 불지 않는데, 하나는 갈 때 이용하고 또 하나는 올 때 이용하며 각기 여름과 겨울에만 분다. - 동방견문록 -

- ① 벼를 수확하고 있는 농부들
- ② 넓은 풀밭 위의 수많은 젖소들
- ③ 직접 제조한 포도주를 보관하기 위한 시설
- ④ 울창한 침엽수림에서 목재를 벌채하는 인부들
- ⑤ 백야 현상으로 늦은 밤까지 여흥을 즐기는 인파

10. 다음 글을 보고 '토니'가 살고 있는 지역을 지도에서 고른 것은? [3점]

토니의 하루는 쌍안경을 들고 고산 목장을 살펴보는 것으로 시작된다. 가족들 중 밤새 구덩이에 빠졌거나 부상을 입은 녀석이 있는지 살펴보기 위해서이다. 가족들과 떨어져 지내던 그는 늦가을이 되면 젖소들과 함께 가족들이 있는 산 밑 목장으로 내려갈 것이다.



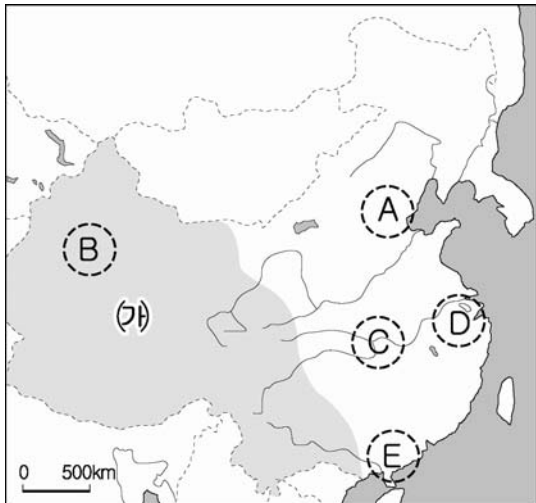
- ① A ② B ③ C ④ D ⑤ E

11. 다음 글은 사막을 여행하면서 기록한 여행기의 일부이다. ㉠~㉤의 밑줄 친 내용에 대한 설명으로 옳지 않은 것은?

우리 일행을 실은 차량은 ㉠와디를 따라 달렸다. 아쉽게도 그렇게 보고 싶었던 ㉡버섯 모양의 바위는 눈에 들어오지 않았다. 갑자기 드넓은 모래 바다가 눈앞에 펼쳐졌다. 여기 저기에 ㉢초승달 모양의 모래 언덕도 보였다. 저녁이 되어 우리는 작은 ㉣오아시스가 있는 야영장에 도착했다. 날이 어두워지자 ㉤낮의 그 강렬했던 태양 아래 뜨거웠던 모래는 금방 냉골이 되었다. 한기가 물러오기 시작했다.

- ① ㉠ - 비가 올 때만 물이 흐르며 평소에는 건천이다.
- ② ㉡ - 바람의 침식 작용으로 형성된다.
- ③ ㉢ - 풍향에 따라 그 형태가 변화된다.
- ④ ㉣ - 커피와 사탕수수를 주로 재배한다.
- ⑤ ㉤ - 식생이 빈약하기 때문에 일교차가 크다.

[12~13] 다음 지도를 보고 물음에 답하시오.



12. 최근 중국 정부는 위 지도에 표시된 (가) 지역의 개발을 적극 추진하고 있다. 그 배경이 된 이 지역의 특색으로 옳은 것을 <보기>에서 모두 고른 것은?

- < 보 기 >
- ㄱ. 동력 자원이 풍부하다.
 - ㄴ. 고급 기술 인력이 풍부하다.
 - ㄷ. 사회 간접 자본이 잘 갖추어져 있다.
 - ㄹ. 동부 지역에 비해 지역 발전 수준이 낮다.

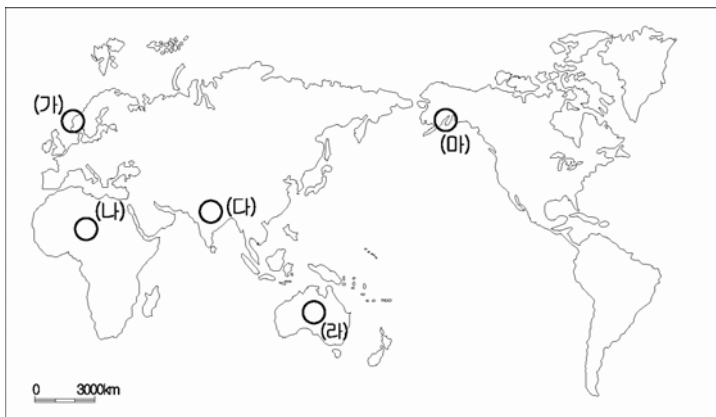
- ① ㄱ, ㄴ ② ㄱ, ㄹ ③ ㄴ, ㄷ
 ④ ㄴ, ㄹ ⑤ ㄷ, ㄹ

13. 다음은 어느 지역의 요리 특색에 대한 설명이다. 이 지역을 위 지도에서 고른 것은?

- 청나라 전성기에 궁중 요리와 같은 고급 요리가 발달했다.
- 쌀이 많이 나지 않아 밀이 재료가 되는 만두나 면 종류의 요리가 많다.
- 겨울이 추우므로 많은 열량을 내기 위해 지방질이 많은 볶음 요리와 튀김 요리가 발달했다.

- ① A ② B ③ C ④ D ⑤ E

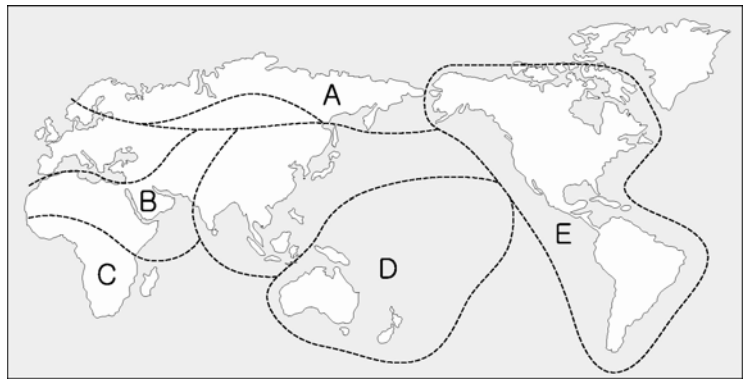
14. 지도에 표시된 (가)~(마)의 각 지역에서 관찰할 수 있는 경관으로 적합하지 않은 것은? [3점]



- ① (가) - U자곡이 바다와 만나 이루어진 수직 절벽의 해안선
- ② (나) - 말라버린 호수의 소금밭
- ③ (다) - 지각판의 충돌로 형성된 높고 험준한 산지
- ④ (라) - 현무암이 분출하여 만들어진 화산
- ⑤ (마) - 지표의 동결과 용해에 대비한 가옥 시설

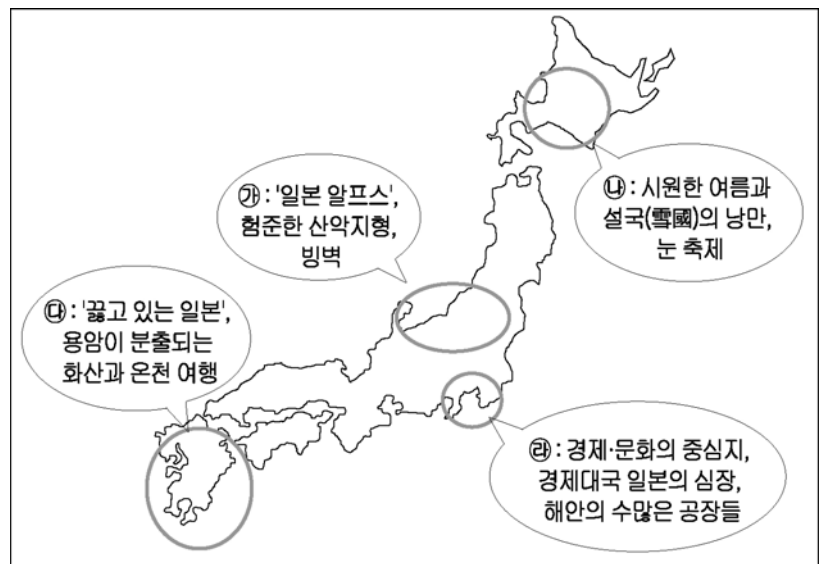
15. 다음은 어느 신문 기사의 내용을 요약한 것이다. 이 기사의 배경이 된 지역을 지도에서 고른 것은?

- 해외 시장 뚫는 노하우, 그 나라 '코드'에 맞춰라
- 대추야자 전용 냉장고
 - 54℃에서도 작동되는 '트로피칼' 에어컨
 - '메카 방향 알림' 휴대전화
 - 전원을 켜면 '코란' 기도문이 자막으로 나오는 TV



- ① A ② B ③ C ④ D ⑤ E

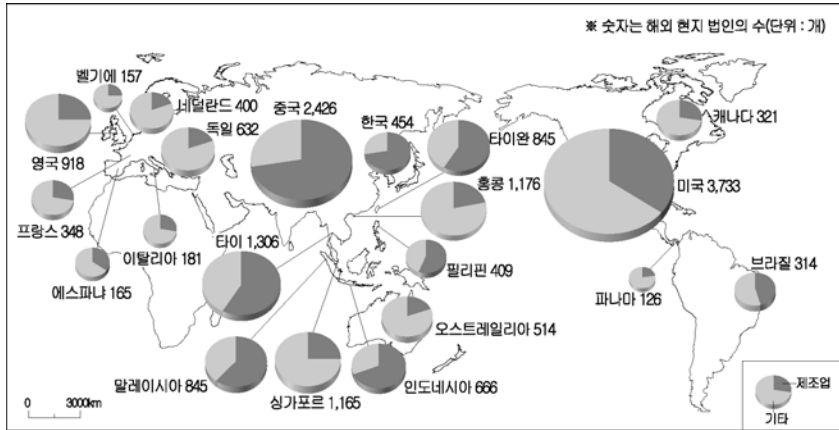
16. 다음은 일본의 지역별 관광 상품을 소개한 지도이다. ㉠~㉣ 지역의 특색을 추론한 내용으로 옳은 것을 <보기>에서 모두 고른 것은? [3점]



- < 보 기 >
- ㄱ. ㉠ : 겨울철 동해 쪽 사면에 지형성 강수가 많다.
 - ㄴ. ㉡ : 여름 기온이 낮은 것은 해발고도의 영향일 것이다.
 - ㄷ. ㉢ : 지열을 이용한 대체 에너지 개발이 가능할 것이다.
 - ㄹ. ㉣ : 풍부한 석탄 자원을 배경으로 일본 최초의 중화학 공업 지대로 발전하였다.

- ① ㄱ, ㄴ ② ㄱ, ㄷ ③ ㄴ, ㄹ
 ④ ㄱ, ㄷ, ㄹ ⑤ ㄴ, ㄷ, ㄹ

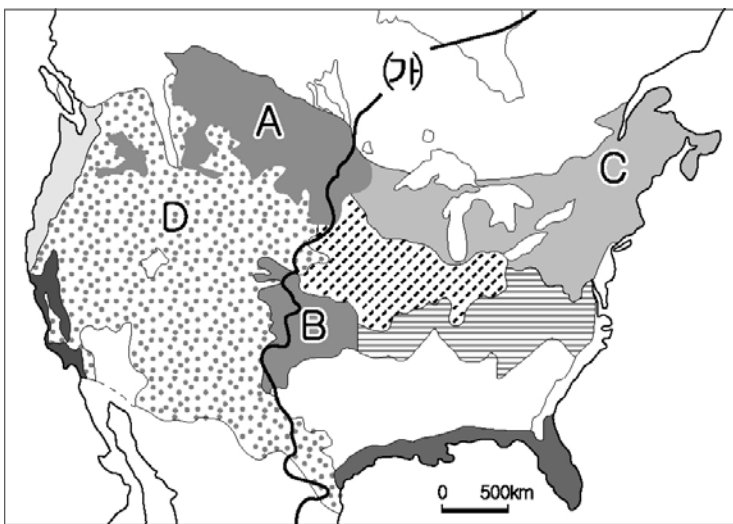
17. 지도는 일본의 해외 현지 법인 분포를 나타낸 것이다. 일본의 해외 투자와 관련된 설명으로 옳은 것을 <보기>에서 모두 고른 것은? [3점]



< 보 기 >
 가. 유럽보다 동남 아시아에 대한 제조업 투자 비중이 높다.
 나. 동남 아시아에 진출한 기업은 노동비 절감 목적이 크다.
 다. 기업체의 과도한 해외 진출로 인해 무역적자국이 되었다.
 르. 제조업체의 해외 진출이 가장 많이 이루어진 국가는 미국이다.

- ① 가, 나 ② 가, 르 ③ 나, 다
 ④ 가, 나, 르 ⑤ 나, 다, 르

18. 지도는 미국의 농목업 지역을 나타낸 것이다. 이에 대한 설명으로 옳은 것을 <보기>에서 모두 고른 것은? [3점]

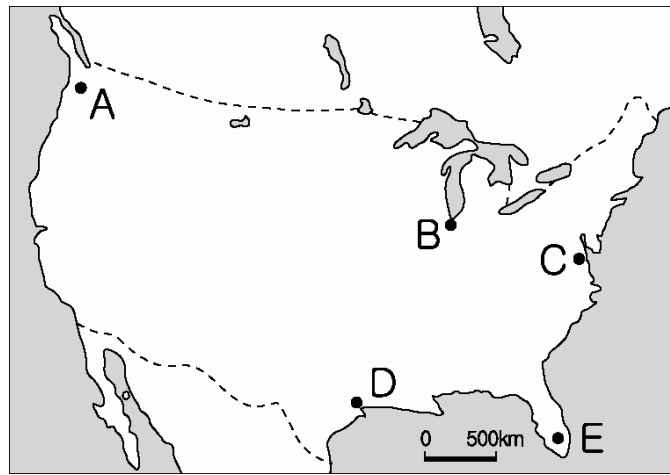


< 보 기 >
 가. A, B는 같은 작물이지만 재배 시기가 다르다.
 나. C는 대도시와의 접근성이 높다.
 다. D는 C 지역보다 토지 이용이 집약적이다.
 르. (가)선은 연강수량 1,000mm로 목축과 농경의 경계이다.

- ① 가, 나 ② 가, 다 ③ 가, 르
 ④ 나, 다 ⑤ 다, 르

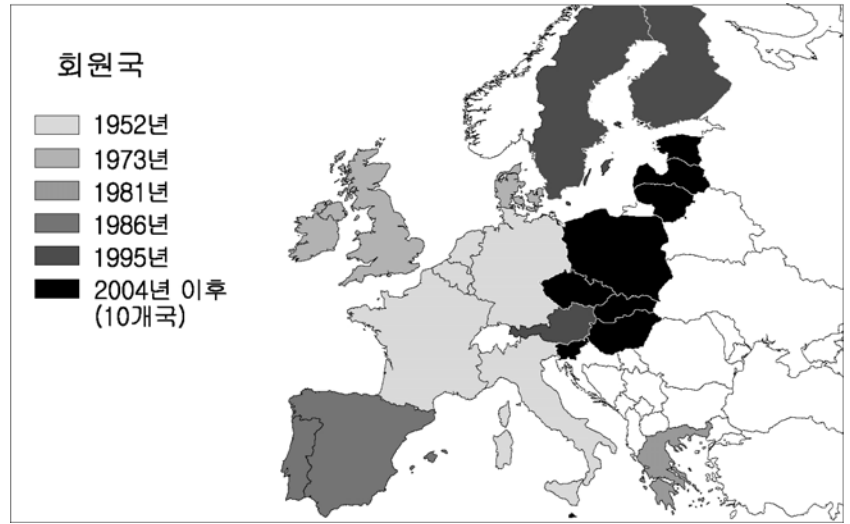
19. 다음 내용에 해당되는 지역을 지도에서 고른 것은?

- 이 지역은 기후가 따뜻하고 땅값·생활비가 비교적 싸다. 이로 인해 산업 활동이 활발해지고 노후 생활자들이 모여드는 등 인구가 급증하고 있다.
- 이 지역은 석유 매장 지역으로 석유와 관련된 산업이 특히 발달한 곳이다. 또한, 항공 우주 산업이 발달한 도시 특징을 살려 이 지역의 야구팀은 '에스트로스'(Astros: 우주를 의미하는 접두어)이며, 농구단 이름도 '로켓츠'이다



- ① A ② B ③ C ④ D ⑤ E

20. 지도는 유럽 연합(EU)의 확대 과정을 나타낸 것이다. 이와 관련된 설명으로 옳지 않은 것은?



- ① 역내 투자가 활발해졌다.
 ② 소비 시장이 확대되었다.
 ③ 언어, 종교 등의 문화적 통합이 이루어졌다.
 ④ 비자 없이 여행할 수 있는 국가들이 늘어났다.
 ⑤ 세계 경제에서 유럽 연합의 경쟁력이 강화되었다.

※ 확인 사항
 ○ 문제지와 답안지의 해당란을 정확히 기입(표기)했는지 확인하십시오.