

6. 다음 글의 밑줄 친 '대제국'에 대한 설명으로 옳은 것은? [3점]

..... 7세기 전반에 아라비아 반도의 대부분을 통일한 뒤, 이후 약 1세기 사이에 비잔티움 제국으로부터 시리아, 팔레스타인, 이집트를 빼앗고, 사산 왕조 페르시아를 정복하는 등 크게 영토를 확장함으로써 중앙 아시아에서 북아프리카를 거쳐 이베리아 반도에 이르는 대제국을 건설하였다.

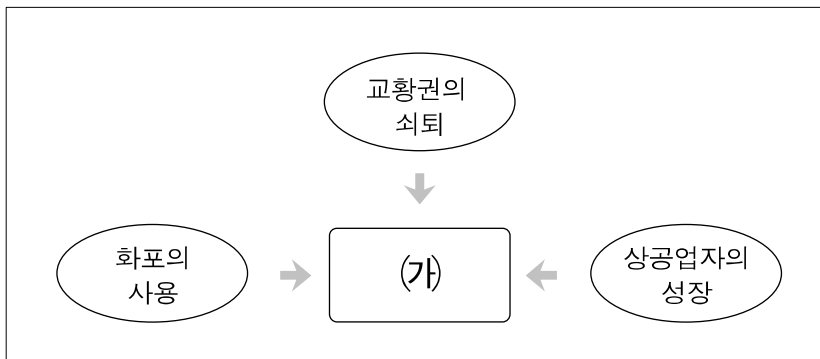
- ① 칼리프가 정교 일치외의 지배권을 행사하였다.
- ② 쌍무적 계약 관계를 기본으로 한 주종 관계가 성립되었다.
- ③ 법률, 토목, 건설 등 실용적인 방면에서 많은 유산을 남겼다.
- ④ 거듭되는 외침에 대비하여 군관구 제도와 둔전병 제도를 실시하였다.
- ⑤ 그리스 문화, 헬레니즘 문화를 융합하여 서양 고전 문화를 완성하였다.

7. 다음과 같은 건축물과 벽화로 대표되는 문화권에 해당하는 설명으로 옳은 것은?



- ① 교수나 학생들의 조합이 운영하는 대학이 설립되었다.
- ② 그리스 정교를 믿었으며 그리스어가 공용어로 쓰였다.
- ③ 신앙과 이성의 조화를 강조하는 스킴라 철학이 발달하였다.
- ④ 기사들의 생활상과 기사도 정신을 반영한 문학이 발달하였다.
- ⑤ 첩담과 스테인드글라스를 특징으로 하는 고딕 양식이 유행하였다.

8. 다음은 수업 시간에 선생님이 중세 유럽 사회의 변화를 설명하기 위해 제시한 도표이다. (가)에 들어갈 내용으로 적절한 것은?



- ① 장원의 형성
- ② 신분제 의회의 쇠퇴
- ③ 대서양 무역의 발달
- ④ 수도원 운동의 전개
- ⑤ 중앙 집권 국가의 출현

9. 다음은 인도의 어느 종교에서 믿는 신상과 그에 대한 설명이다. 이 종교에 대하여 바르게 설명한 것은? [3점]



이 신은 시바신으로 파괴, 죽음, 열병을 주관하여 공포의 대상이 되는 신이지만, 무용을 관장하고 자비를 베푸는 신으로도 통한다.

- ① 카스트 제도에 따른 계급 차별을 비판하였다.
- ② 쿠산 왕조 때 중생의 구제를 목표로 성립되었다.
- ③ 굽타 왕조 때 브라만 교를 토대로 성립한 다신교이다.
- ④ 마우리아 왕조 때 개인의 해탈을 강조하면서 성립되었다.
- ⑤ 무굴 제국에서 인도 문화와 이슬람 문화가 융합되어 성립되었다.


10. 다음 여행기를 쓴 인물이 중국에서 보았을 것으로 추정되는 사실을 <보기>에서 모두 고른 것은? [3점]

중국 사람들은 대칸(大汗)의 통치를 증오했는데, 그것은 그가 몽골인들과 사라센들을 관리로 임명하여 중국인들을 마치 노예처럼 취급했기 때문이다. 대칸의 중국에 대한 통치권은 정당한 권리에 의해서가 아니라 무력에 의해서 장악한 것이었기 때문에 대칸은 중국 사람들을 믿지 않았다. 따라서 대칸은 중국인이 아닌 몽골인·사라센·크리스트 교도들에게 중국에 대한 통치권을 맡긴 것이다. - 동방견문록 -

- < 보 기 > —
- ㄱ. 고구마와 옥수수를 먹는 아이들
 - ㄴ. 곤여만국전도를 보고 있는 학자들
 - ㄷ. 교초를 사용하여 소금을 거래하는 상인들
 - ㄹ. 연극(잡극)을 구경하기 위하여 모여 있는 사람들

- ① ㄱ, ㄴ ② ㄱ, ㄷ ③ ㄴ, ㄷ ④ ㄴ, ㄹ ⑤ ㄷ, ㄹ

11. 다음과 같은 농기구와 농경 모습이 처음 나타났던 시기의 중국 사회에 대한 설명으로 옳은 것은?



- ① 서민적인 문화가 출현하였다.
- ② 농민 보호를 위하여 한진법이 시행되었다.
- ③ 농본주의 정책의 시행으로 상공업이 쇠퇴하였다.
- ④ 모내기, 이모작 등의 새로운 농업 기술이 나타났다.
- ⑤ 농업 생산력이 증대하여 토지 사유화가 진전되었다.

12. 로마에서 다음과 같은 논쟁이 일어나게 된 배경을 옳게 파악한 것은? [3점]

- 이탈리아를 위해 싸우고 죽어가는 사람들이 가진 것이라고는 공기와 햇볕밖에 없으며 집도 안식처도 없이 처자를 이끌고 거리를 방황하고 있다. 그들은 다른 사람의 부귀와 사치를 위해 싸우다 죽지만 한 뼘의 땅도 갖지 못하고 있다. 귀족이나 유력자의 토지를 몰수하여 이들에게 재분배해야 한다.
- 평민과임을 자처하면서 토지 점유자들을 내쫓기 위해 농지법을 통과시키고자 하는 자들은 공화국의 주춧돌을 깎아 없애고 있다. 귀족은 기사의 지지를 바탕으로 공화국을 수호해야 한다.

- ① 참정권을 둘러싸고 귀족과 평민의 대립과 갈등이 심화되었다.
- ② 군인 황제 시대의 장기화로 정치 사회적 혼란이 심화되고 있었다.
- ③ 부자유 소작인에게 토지를 경작하게 하는 콜로나투스 제도가 등장하였다.
- ④ 포에니 전쟁에 종군했던 자영농이 대거 몰락하고 라티퐁디움이 발달하였다.
- ⑤ 동방적 전제 군주제를 도입하고 제국을 4등분하여 각각 두 명의 황제와 부황제를 두었다.

13. 고대 문명과 관련한 다음 자료에 대한 설명으로 옳은 것은?

(가) 저는 도둑질하지 않았습니니다. 저는 거짓말을 하지 않았습니니다. 저는 신을 모독하지 않았습니니다. 저는 음모를 꾸미지 않았고 강물을 더럽히지 않았습니니다. 저는 게으른 사람이 아닙니다. 저는 남을 울린 일이 없으며 남의 땅을 억지로 빼앗은 일도 없습니니다. 저는 사람을 죽인 일이 없으며 저울의 눈금을 속인 일도 없습니니다.

- '사자의 서' 중 죽은 자의 고백 -

(나) 길가메시여, 당신은 영원한 생명을 찾을 수 없을 것입니다. 신들이 인간을 만들 때 인간에게 죽음도 함께 부여주었습니다. 생명만은 그들이 보살피도록 남겨 두었지요. 좋은 음식으로 배를 채우고, 밤낮으로 춤추며 즐기십시오. 잔치를 벌이고 기뻐하십시오. 당신 손을 잡아줄 자식을 낳으십시오. 왜냐하면 이것 또한 인간의 운명이니까요.

- 길가메시 서사시 -

- ① (가)는 유일신을 믿는 헤브라이 사람들이 남겼다.
- ② (가)는 개방적 지형으로 왕조의 교체가 빈번한 지역에서 작성되었다.
- ③ (나)는 피라미드와 미라 제작에 영향을 주었다.
- ④ (나)는 내세보다는 현세를 중시한 사람들이 남겼다.
- ⑤ (가)와 (나)는 점토판에 썩기 문자로 기록되어 전해지고 있다.

14. 다음은 어느 역사책의 일부분이다. 바로 다음 부분에서 언급될 내용으로 적절한 것은? [3점]

프랑스의 필리프 4세가 가스코뉴 공령의 재탈전에 필요한 준비를 염출하기 위하여 국내 성직자에게 과세하려 하였다. 이에 반대하는 교황과 대립하게 된 필리프 4세는 프랑스로부터 교황청으로의 금전 유출을 금지하였다. 교황은 이에 맞서 “만일 세속권이 과오를 범하면 영적 권력에 의하여 심판을 받아야 하며, 영적 권력은 위엄이나 고귀함에 있어 어떤 세속권보다 우월하다.”는 ‘우남 상크탐(unam sanctam)’을 발표하였다. 이에 필리프 4세는 삼부회를 소집하여 지지를 확인한 후 교황을 공격하였다.

- ① 교황청이 아비뇽으로 옮겨졌다.
- ② 카노사의 굴욕 사건이 발생하였다.
- ③ 교황권이 강화되어 십자군 전쟁이 일어났다.
- ④ 사제 서임권이 황제에게서 교황으로 옮겨졌다.
- ⑤ 크리스트 교가 로마 가톨릭 교와 그리스 정교로 갈라졌다.

15. 다음은 일본의 발전 과정을 파악하기 위해 만든 연표이다. 각 시기에 있었던 사실로 옳은 것은? [3점]

4세기경	645	794	1274	1592	1868
(가)	(나)	(다)	(라)	(마)	
야마토 정권 성립	다이카 개신	헤이안 천도	여·원 연합군 일본 원정	임진 왜란	메이지 유신

- ① (가) - 일본 문자인 가나가 제정되었다.
- ② (나) - 율령 체제를 갖추며 동아시아 문화권에 편입되었다.
- ③ (다) - 삼국의 문화를 수용하여 아스카 문화를 발전시켰다.
- ④ (라) - 강력한 중앙 집권 체제가 확립되었다.
- ⑤ (마) - 무사 계급이 주도한 봉건제가 처음 성립되었다.

16. 다음 지도의 경로를 따라 전파된 기술에 해당하는 것은?



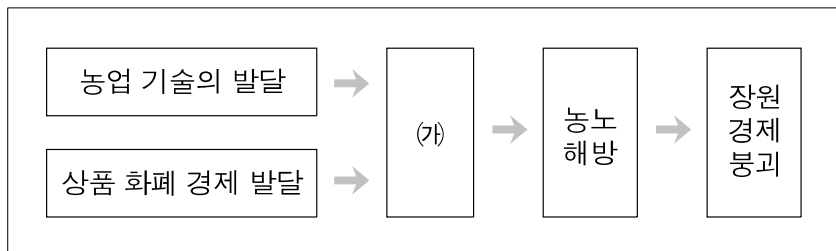
- ① 제지법
- ② 연금술
- ③ 나침반
- ④ 유리 제작 기술
- ⑤ 청동기 제작 기술

17. 다음은 중세 독일 남부 지역 농민의 1년 생활을 정리한 것이다. 이 지역의 농업 생활 모습으로 옳은 것은?

- 1~2월 : 소금에 절인 고기나 콩으로 식량을 대신함
- 3월 : 포도 씨뿌리기, 포도나무 가지치기
- 4월 : 춘경지 경작, 씨뿌리기
- 5월 : 경작지를 돌보기
- 6월 : 휴경지에 쟁기질하기
- 7월 : 풀베기(겨울 가축 먹이용)
- 8월 : 보리 수확
- 9월 : 추경지 경작, 씨뿌리기
- 10월 : 포도 수확, 포도주 제작
- 11~12월 : 가축 방목, 장작 패기

- ① 농작물로는 주로 벼와 보리가 재배되었다.
- ② 농경지는 지력을 고려하여 삼포제로 경작되었다.
- ③ 농민들의 대다수는 자기 토지를 소유한 자영농이었다.
- ④ 높은 농업 생산력으로 농민들은 넉넉한 생활을 하였다.
- ⑤ 겨울철에 농민들은 장원을 벗어나 상공업 활동을 하였다.

18. 도표의 (가)에 들어갈 내용으로 알맞은 것을 <보기>에서 모두 고른 것은? [3점]



- < 보 기 >
- ㄱ. 불입권의 강화
 - ㄴ. 지대의 금납화
 - ㄷ. 자치 도시의 발달
 - ㄹ. 영주 직영지의 확대

- ① ㄱ, ㄴ
- ② ㄱ, ㄷ
- ③ ㄴ, ㄹ
- ④ ㄴ, ㄹ
- ⑤ ㄷ, ㄹ

[19~20] 중국의 두 왕조에 대한 다음 글을 읽고 물음에 답하시오.

- (가) 태조는 재상제를 폐지하고 대명률을 제정하였다. 또한 과거제와 학교제를 부활하고 육유(六諭)를 반포하였다. 3대 영락제는 수도를 금릉에서 베이징으로 옮기고 내각 대학사를 두었으며, 환관을 중용하였다. 아울러 대외 팽창 정책을 펴 주변 여러 나라와는 조공 질서를 확립하였다.
- (나) 태종은 내몽고를 점령하였으며, 국호를 바꾸었다. 4대 강희제는 삼번*의 세력이 커지자 이들을 제거하려 하였다. 이에 삼번의 난이 일어나자 이를 진압하고 타이완의 정씨 세력까지 정벌하였다. 또한 러시아와 네르친스크 조약을 체결하였다.

*삼번 : 건국 초기에 남방 지역에 대한 장악력이 부족하자 유력한 한인 무장 3인을 번왕으로 봉하고 우대하였다.

19. (가), (나) 왕조에 대한 설명으로 옳은 것은? [3점]

- ① (가) - 시베리아 지역으로 진출하여 영토를 확장하였다.
- ② (가) - 정화의 원정으로 화교의 동남 아시아 진출의 계기가 마련되었다.
- ③ (나) - 귀족 연합 정치가 확립되었다.
- ④ (나) - 강남 지역에서 흥기하여 중국을 통일한 왕조이다.
- ⑤ (나) - 중국의 전통 문화를 탄압하고 민족별 신분 제도를 실시하였다.

20. 위 두 왕조에서 공통적으로 나타난 사회 문화적 현상으로 옳은 것은?

- ① 신사층이 지배 계급으로 성장하여 특권을 누리며 지방 정치에 영향력을 행사하였다.
- ② 마음이 인간의 주체이고, 인간이 사회와 우주의 주인(심즉리설)이라는 사상이 널리 유행하였다.
- ③ 경학, 음운학, 역법, 지리 등의 학문을 실증적·객관적으로 연구하려는 학문이 널리 유행하였다.
- ④ 세금을 지세(地稅)와 정세(丁稅)로 나누고 정세를 지세에 통합하여 일원적으로 지세만을 징수하였다.
- ⑤ 넓은 영토를 통치하기 위하여 역참제를 시행하였으며, 각 지역에서는 재무 담당 관리로 색목인을 등용하였다.

※ 확인 사항

○ 문제지와 답안지의 해당란을 정확히 기입(표기)했는지 확인하시오.