


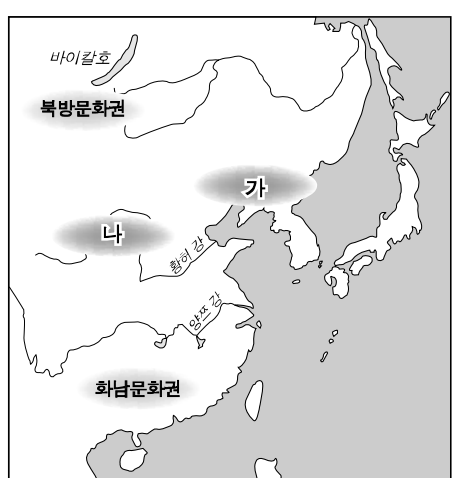
제 4 교시 사회 탐구영역(국사)

성명		수험번호							3			
----	--	------	--	--	--	--	--	--	---	--	--	--

1

- 자신이 선택한 과목의 문제지인지 확인하시오.
- 문제지에 성명과 수험 번호를 정확히 써 넣으시오.
- 답안지에 성명과 수험 번호를 써 넣고, 또 수험 번호, 선택 과목과 답을 정확히 표시하시오.
- 문항에 따라 배점이 다르니, 각 물음의 끝에 표시된 배점을 참고하시오. 3점 문항에만 점수가 표시되어 있습니다. 점수 표시가 없는 문항은 모두 2점입니다.

1. 선사 문화권을 표시한 지도이다. '가'와 '나' 문화권에서 성장한 두 세력 간의 교류가 활발했음을 알려주는 유물은? [3점]



2. 자료와 관련된 회의 기구에 참여할 수 있었던 사람들에 대하여 바르게 설명한 것은?

- 고구려에는 감옥이 없다. 범죄자가 있으면 제가들이 모여서 논의하여 사형에 처하였다. - 삼국지 -
- 백제에는 호암사에 정사암이란 바위가 있다. 재상을 뽑을 때 후보자 3~4명의 이름을 써서 상자에 넣어 바위 위에 두었다. - 삼국유사 -
- 신라에서는 큰 일이 있을 때에는 반드시 중의를 따른다. 한 사람이라도 반대하면 통과되지 못하였다. - 신당서 -

- ① 군현의 지방관 중에서 선출되었다.
- ② 중앙 관청의 말단 행정을 담당하였다.
- ③ 국가의 중요 정책을 심의·의결하였다.
- ④ 유교 정치 이념을 수용하는 데 앞장섰다.
- ⑤ 중앙 집권 과정에서 부족원에 대한 지배권을 강화하였다.

3. 다음 두 나라에 대한 설명으로 옳은 것은? [3점]

(가) 군왕이 있다. …… 전쟁을 하게 되면 하늘에 제사를 지내고, 소를 잡아 발굽을 보고 길흉을 점친다. 12월에 지내는 제천 행사는 …… 이름을 '영고'라 하였다.
 (나) 큰 산과 깊은 골짜기가 많고 넓은 들은 없어 산골짜기에 의지하여 살면서 산골의 물을 식수로 한다. …… 혼인할 때에는 미리 약속을 하고 신부 집 뒤편에 작은 별채를 짓는다.
 - 삼국지 -

- ① (가)는 천군이 주재하는 소도라는 별읍을 두었다.
- ② (가)는 (나)를 정복하여 만주 지역 전체를 통합하였다.
- ③ (가)는 읍군·삼로 등의 군장이 자기 부족을 다스렸다.
- ④ (나)는 벼농사를 중심으로 하는 농업 사회였다.
- ⑤ (나)는 한(漢) 군현과 대결하며 영역을 확대하였다.

4. 다음 글을 쓴 사람의 역사 이해 태도에 대하여 잘못 파악한 것은?

중국은 발해가 속말말갈족을 주체로 세워진 나라였고, 독립국이 아닌 당나라의 일개 지방 정권에 불과하였다고 한다. 이는 발해를 독립 국가로 보면서 고구려 유민들이 세운 나라로 간주하는 우리의 견해와 정반대이다. 역사적 진실은 하나일 터인데 어떻게 이러한 현상이 나타날 수 있는가. 여기에 민족주의라는 또 다른 요소가 들어 있기 때문일 것이다. …… 발해는 고구려인과 말갈인들이 세운 나라이다. 또한 영토상으로 한반도와 만주, 연해주에 걸쳐 있었던 나라이다. 그런 의미에서 발해사는 한국사에도 속할 수 있고, 만주의 역사에도 속할 수 있다. …… 그러나 중국사의 일부는 분명히 아니다. 만주는 역사적으로 중원과 별개의 지역이었기 때문이다.
 - 발해를 찾아서 -

- ① 과거의 사실에 대해서는 하나의 해석이 가능할 뿐이다.
- ② 역사적 사실의 해석에는 역사가의 주관적 판단이 들어있다.
- ③ 역사상을 재구성하려면 관련된 여러 사실을 다양한 시각으로 검토하는 자세가 필요하다.
- ④ 역사적 사건 중에는 과거의 일로 끝나지 않고 현재의 문제와 연결되어 있는 것들이 있다.
- ⑤ 과거에 존재했던 국가의 성격을 파악하는 데는 영토와 주민의 문제가 고려될 필요가 있다.

5. 연표의 각 시기에 나타난 상황을 옳게 설명한 것은? [3점]

1392년	(가)	조선 건국
1437년	(나)	6진 설치
1510년	(다)	삼포 왜란 발발
1609년	(라)	기유 약조 체결
1712년	(마)	백두산 정계비 건립
1863년	(바)	흥선 대원군 집권

- ① (가) : 여진을 정벌하기 위해 별무반을 양성하였다.
- ② (나) : 북벌 운동을 추진하며 청나라와 대립하였다.
- ③ (다) : 처음으로 3포를 개방하고 왜관을 설치하였다.
- ④ (라) : 일본과 평화적 관계를 유지하며 통신사를 파견하였다.
- ⑤ (마) : 서양과 교류가 활발해져 천주교의 포교가 허용되었다.

6. 자료에 보이는 '도적'과 관련된 설명으로 옳은 것을 <보기>에서 모두 고른 것은?

○ 진성왕 3년, 나라 안의 여러 주·군에서 공부를 바치지 않으니 나라의 창고가 비어 버렸다. 왕이 사신을 보내어 세 금 징수를 독촉하자, 곳곳에서 '도적'이 벌떼같이 일어났다.
○ 진성왕 10년, '도적'이 나라 서남 방면에서 일어나 붉은 바지를 입어 구분하니 사람들이 이를 적고적이라 불렀다. 이들은 주현을 노략질하고 서울(경주)의 민가에 이르러 약탈하였다.
- 삼국사기 -

〈 보 기 〉
 가. 가혹한 수탈에 대항하여 일어났다.
 나. 그 중 일부는 호족 세력으로 성장하였다.
 다. 지방 토착 세력인 향리들이 주축을 이루었다.
 라. 왕위 쟁탈전을 벌이던 귀족들의 군사적 기반이 되었다.

- ① 가, 나 ② 가, 다 ③ 가, 라 ④ 나, 다 ⑤ 다, 라

7. 다음 사료의 내용과 관련된 탐구 활동으로 적합하지 않은 것은?

우리 태조께서는 즉위한 후에 김부(경순왕)가 아직 복종하지 않고 견훤이 포로가 되기 전인데도, 자주 서도(西都)에 행차하여 친히 북방의 변두리 땅을 둘러보았습니다. 그 뜻이 옛 땅을 반드시 석권하여 이를 차지하려는 데 있었던 것입니다.
- 고려사 -

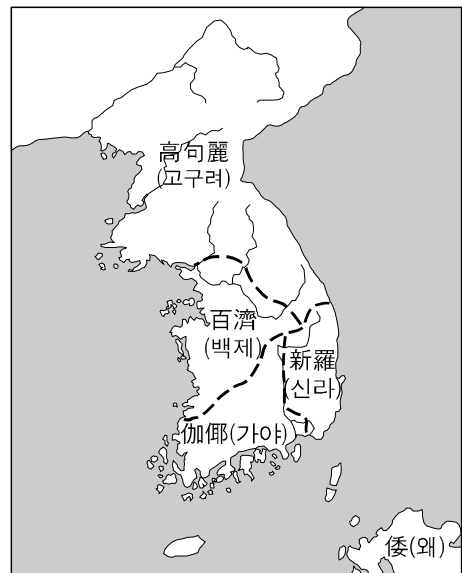
- ① 서경의 개척 과정을 조사한다.
- ② 국호를 고려로 정한 의도를 알아본다.
- ③ 발해 유민에 대한 고려 정부의 정책을 조사한다.
- ④ 최승로가 지방관 파견을 주장한 배경을 알아본다.
- ⑤ 고려 초에 거란과 외교 관계를 맺지 않은 이유를 알아본다.

8. 다음 자료에서 지적하고 있는 사회 문제를 일으킨 정치 세력에 대한 설명으로 옳은 것은?

○ 왕비(원나라 공주)의 심부름꾼과 궁내의 관료들이 좋은 전답을 많이 차지하여 내 땅이라 하고 산천을 경계로 정하였다. - 고려사절요 -
○ 근년에 검병이 더욱 심해져 간사하고 흉악한 무리의 토지가 주와 군에 걸쳐 있고 산천으로 표시를 하고 있다. - 고려사 -

- ① 자주적 문화의식을 가진 지방 세력이었다.
- ② 대몽 항전을 위하여 강화 천도를 주도하였다.
- ③ 신분 질서를 강화하기 위해 성리학을 수용하였다.
- ④ 고려 말의 전제 개혁으로 경제 기반을 상실하였다.
- ⑤ 권력을 유지하기 위하여 금의 사대 요구를 수용하였다.

9. 일본의 어느 역사 교과서에 수록된 4세기 말의 우리나라 지도이다. 이 지도의 내용에 대해 우리나라 학생들이 비판할 수 있는 내용으로 가장 적절한 것은? [3점]



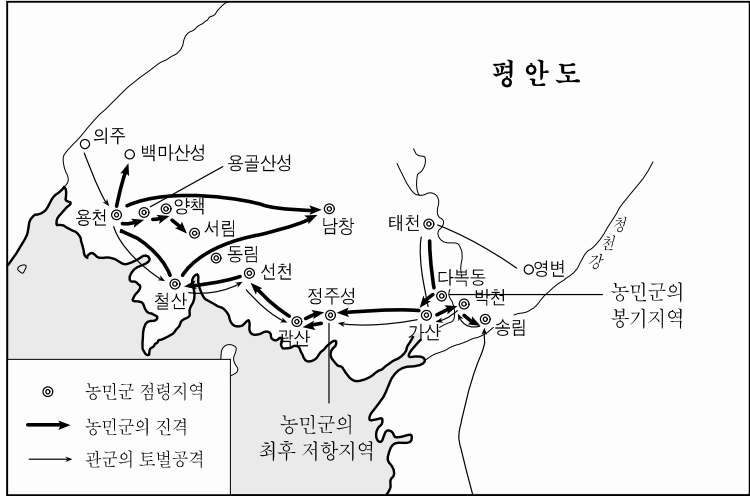
- ① 신라가 금관가야를 정복한 사실이 반영되지 않았다.
- ② 한강 유역이 신라에 편입된 사실이 표시되지 않았다.
- ③ 백제가 마한 지역을 통합한 사실이 반영되지 않았다.
- ④ 평양이 백제의 영역에 편입된 사실이 반영되지 않았다.
- ⑤ 고구려가 남한강 유역을 차지한 사실이 표시되지 않았다.

10. 조선 시대 봉당의 분화를 나타낸 표이다. (가)와 (나)에 해당하는 봉당의 활동을 바르게 설명한 것은?

		선조	광해군	인조 ~ 현종	숙종 ~ 정조
사 림	동인	북인(인조반정 이후 몰락)			
	서인	(가)	(나)		
					소론

- ① (가)는 세도 정치를 주도하였다.
- ② (가)는 인조 반정을 주도하였다.
- ③ (가)와 (나)는 탕평 정치를 주도하였다.
- ④ (나)는 경신환국 이후 일당 전제 정치를 추구하였다.
- ⑤ (나)는 명과 후금[청] 사이에서 중립 외교를 전개하였다.

11. 지도에 표시된 농민 봉기가 일어나게 된 배경을 옳게 파악한 것은? [3점]



- ① 탕평 정치에 불만을 갖는 정치 세력이 나타났다.
- ② 요역 동원을 통한 국가의 광산 개발이 확대되었다.
- ③ 유향소를 통한 지방 사족들의 자치권이 강화되었다.
- ④ 동학이 유행하여 농민들의 평등 의식이 확대되었다.
- ⑤ 세도 정치가 전개되면서 농민에 대한 수탈이 심화되었다.

12. 다음 자료를 바탕으로 추론할 수 있는 사실을 <보기>에서 모두 고른 것은?

○ 신라방을 찾았다. …… 최훈십이랑을 만났다. 일찍이 청해 진병마사를 지낸 사람으로 등주 법화원에 있을 때 한번 만난 적이 있다. - 입법구당순례행기 -

○ 장보고가 작년 12월에 말안장 등을 바쳤는데, …… “백성들이 값비싼 물건을 구매하는 데 열중하여 가산을 기울이는 일이 없도록 하라”고 하였다. - 속일본후기 -

○ 흥덕왕이 말하기를, “백성들은 다투어 사치와 호화를 일삼고 오로지 진귀한 외래품만을 숭상하고 토산품의 야비한 것을 싫어한다.”고 하였다. - 삼국사기 -

〈 보 기 〉

ㄱ. 신라 말에는 국제 교역을 통해 성장한 해상 세력이 등장하였다.

ㄴ. 국제 무역을 통해 거래된 주요 물품은 평민들의 생활용품이었다.

ㄷ. 국제 무역에 종사하던 신라 상인들은 해외에 여러 거점을 마련하였다.

ㄹ. 신라방에서 활동한 상인들은 공무역을 위해 신라 정부에서 파견한 사람들이었다.

- ① ㄱ, ㄴ ② ㄱ, ㄷ ③ ㄴ, ㄷ ④ ㄴ, ㄹ ⑤ ㄷ, ㄹ

13. 근세의 수취 제도와 관련된 자료이다. [가] 안에 들어간 (가)~(다)에 대한 설명으로 잘못된 것은? [3점]

[가] 는 토지의 상태를 조사하여 수확량을 계산하여 거둘 수 있다. 그런데, [나] 는 가호(家戶)에 대해서 어떤 물건을 내는 것이고, [다] 는 사람 몸에 대해서 무엇을 부담시키는 것이라는 것을 분명히 말하지 않았다. 관리들이 이러한 약점을 이용하여 간계를 써서 함부로 수탈했기 때문에 백성들은 더욱 곤궁해졌다.

- ① (가) : 양안을 토대로 부과하였다.
- ② (나) : 매년 풍흉의 정도에 따라 부과하였다.
- ③ (나) : 수미법 주장은 이 제도를 개선하려는 것이었다.
- ④ (다) : 방군수포가 성행하여 농민 부담이 가중되었다.
- ⑤ (다) : 성곽이나 제방 등을 쌓기 위해 노동력을 징발하였다.

14. 고려의 4개 신분 계층에 관한 조사 결과를 종합하여 보고서를 만들기로 한 혜련이가 친구들로부터 받은 메일 목록이다. 혜련이가 받아야 할 나머지 한 계층에 대한 설명으로 옳은 것은? [3점]



- ① 군현에 파견된 지방관이었다.
- ② 농업에 종사하며 백정으로 불렸다.
- ③ 매매·증여·상속의 대상이 되었다.
- ④ 음서를 통해 중앙 관리로 진출하였다.
- ⑤ 직역을 세습하며 그에 따른 토지를 받았다.

15. 다음과 같은 사회 현상이 나타난 배경에 대한 설명으로 가장 적절한 것은? [3점]

○ 상민·천민들이 갓을 쓰고 도포를 입는 것이 마치 조정의 관리나 선비와 같이 한다. 심지어 시전 상인이나 군역을 지는 상민들까지도 서로 양반이라 부른다. - 일성록 -

○ 근래에 하찮은 아전의 아들·손자로서 아전의 역을 맡지 않은 자가 고을 안의 양반을 대할 때 맞먹듯이 너 나 하며 자(字)를 부르고 예의를 차리지 않는다. - 목민심서 -

- ① 납속이나 향직 매매가 성행하였다.
- ② 향리들이 문과를 통해 고위 관리로 진출하였다.
- ③ 사림의 집권으로 향촌 자치 기능이 강화되었다.
- ④ 왕권의 약화로 각지에서 지방 세력이 성장하였다.
- ⑤ 균역법의 실시로 양반과 농민의 군포 부담이 균등해졌다.

16. 다음은 조선 시대에 실시된 어떤 제도와 관련된 자료이다.

광해군(1608) 때 좌의정 이원익의 건의로 토지에서 미곡을 거두어 공물로 바꾸게 했는데, 먼저 경기에서 시작하고 드디어 선해청을 설치하였다. …… 무자년(1708)에는 황해도에도 시행하게 되었다. 그 방법은 밭과 논을 통틀어 1결에 쌀 12말[斗]을 거두게 하였다. - 만기요람 -

이 제도에 대한 보고서를 작성할 경우, 들어갈 내용으로 적절하지 않은 것은? [3점]

구분	내용
① 배경	방납의 폐단으로 많은 농민들이 몰락하였다.
② 과정	전국적으로 시행되는 데 100여년이 걸렸다.
③ 목적	공납 부담을 줄여 농민의 토지 이탈을 방지한다.
④ 결과	토지 없는 농민의 부담이 줄어들었다.
⑤ 영향	상품 화폐 경제의 발달을 지연시켰다.

17. 표의 내용에 대해 바르게 설명한 것을 <보기>에서 모두 고른 것은? [3점]

구분	진골	6두품	5두품	4두품	복색
관등	1~5	[진골 막대]	[6두품 막대]	[5두품 막대]	[4두품 막대]
	6~9				
	10~11				
	12~17				
집의 규모	방	24척	21척	18척	15척
	섬돌	3단	2단	1단	
	마굿간		5필	3필	2필

< 보 기 >

ㄱ. 관등 승진의 상한은 골품과 직결되었다.
 ㄴ. 관리의 복색은 골품을 기준으로 구분하였다.
 ㄷ. 집의 규모는 재산 정도를 기준으로 제한하였다.
 ㄹ. 혈연에 따라 사회·정치적 활동에 제약이 있었다.

- ① ㄱ, ㄴ ② ㄱ, ㄷ ③ ㄱ, ㄹ ④ ㄴ, ㄷ ⑤ ㄷ, ㄹ

18. 다음 글의 밑줄 친 '이것'과 유사한 역할을 하던 조선 시대의 공동체 조직을 <보기>에서 모두 고른 것은?

이것은 고려 시대에 사람들이 위기가 닥쳤을 때 미륵을 만나 구원을 받고자 하는 염원에서 향나무를 땅에 묻는 매향 활동에서 비롯되었다. 매향 활동에 참여한 무리를 지칭하던 이것은 고려 후기 이후 종교적 성격이 약화되고 농민들 간에 상부상조하는 공동체 조직으로 발전하였다.

< 보 기 >

ㄱ. 두레 ㄴ. 향회 ㄷ. 동린계 ㄹ. 유향소

- ① ㄱ, ㄴ ② ㄱ, ㄷ ③ ㄱ, ㄹ ④ ㄴ, ㄹ ⑤ ㄷ, ㄹ

19. 다음 (가)와 (나)의 토지 제도에 대하여 옳게 설명한 것은?

(가) 토지의 넓이를 총괄해서 기름지고 메마른 것을 나누어 문무백관으로부터 한인에 이르기까지 등급에 따라 전지와 시지를 주었다.
 (나) 관직에 복무하는 자들은 과전을 받는다. 과전을 받은 자가 죽은 뒤, 그 아내가 재가하지 않으면 남편의 과전모두를 수신전으로 받는다. 부모가 죽은 뒤 자식이 어리면 홀양전을 받는다.

- ① (가)는 지주 전호제의 확산을 초래하였다.
 ② (가)는 신진 사대부들의 요구에 따라 실시하였다.
 ③ (나)는 문벌 귀족의 토지 검병과 농장 확대를 막았다.
 ④ (나)의 과전에서는 수확량의 1/2을 세금으로 거두었다.
 ⑤ (가)와 (나)로 지급받은 토지는 반납을 원칙으로 하였다.

20. 조선 중기의 두 정치 세력 간의 대화를 가상해 본 것이다. 각 정치 세력의 활동에 대하여 옳게 파악한 것은?



- ① (갑)은 세조의 즉위를 찬탈 행위라고 비판하였다.
 ② (갑)은 서원과 향약을 보급하여 지지 기반을 넓혀갔다.
 ③ (을)은 중앙 집권 체제 강화를 주도하였다.
 ④ (을)은 3사의 언관직을 차지하여 (갑)을 견제하였다.
 ⑤ (갑)과 (을)은 공론을 바탕으로 봉당 정치를 시작하였다

※ 확인 사항
 ○ 문제지와 답안지의 해당란을 정확히 기입(표기)했는지 확인하십시오.