

2005학년도 9월 고2 전국연합학력평가 문제지

제 4 교시

사회탐구영역(세계사)

성명

수험번호

2

1

- 먼저 수험생이 선택한 과목의 문제지인지 확인하시오.
- 문제지에 성명과 수험 번호를 정확히 기입하시오.
- 답안지에 수험 번호, 선택 과목, 답을 표기할 때는 반드시 '수험생이 지켜야 할 일'에 따라 표기하시오.
- 문항에 따라 배점이 다르니, 각 물음의 끝에 표시된 배점을 참고하시오. 3점 문항에만 점수가 표시되어 있습니다. 점수 표시가 없는 문항은 모두 2점씩입니다.

1. 자료와 관련이 깊은 고대 문명의 내용을 <보기>에서 모두 고른 것은?

어제 국립 중앙 박물관에서는 이라크 고대 문명 강연회가 열렸다. 여기에서 제게흐, 아티아 두 학자는 미국의 이라크 침공 당시 피해 상황을 질문받자, 미군의 방관 아래 소장 유물들이 털린 악몽의 순간들을 증언했다. 그들은 "바그다드 박물관에 소장된 귀중한 고대 유물들이 헤아릴 수 없을 만큼 털리거나 파괴되었다."며, "인근의 요르단과 미국, 유럽 등지에서 겨우 유물 8천 점을 되찾은 상황"이라고 전했다.
- ○○ 신문, 2005년 5월 16일자 -

- < 보 기 >
- ㄱ. 태양력과 파피루스
 - ㄴ. 쉐기 문자와 함무라비 법전
 - ㄷ. 60진법과 지구라트
 - ㄹ. 피라미드와 스팅크스

- ① ㄱ, ㄴ
- ② ㄱ, ㄹ
- ③ ㄴ, ㄷ
- ④ ㄴ, ㄹ
- ⑤ ㄷ, ㄹ

2. 연표에서 밑줄 친 (가)~(마)에 대한 설명 가운데 옳지 않은 것은?

- 기원전 8세기 무렵, (가)폴리스 출현
- 기원전 776년, 최초의 (나)올림피아 제전 개최
- 기원전 594년, 솔론의 개혁
- 기원전 6세기 말, (다)도편 추방법 실시
- 기원전 492 ~ 479년, 페르시아 전쟁
- 기원전 5세기 중반, (라)페리클레스의 민주 정치
- 기원전 431 ~ 404년, (마)펠로폰네소스 전쟁

- ① (가) - 폴리스는 정치·경제·사회 생활의 기본 단위였다.
- ② (나) - 그리스 인의 동족 의식 강화에 도움을 주었다.
- ③ (다) - 참주의 출현을 방지하는 데 목적이 있었다.
- ④ (라) - 성인 남자와 여자 모두에게 참정권을 주었다.
- ⑤ (마) - 그리스 세계가 쇠퇴하는 계기가 되었다.

3. 지도는 2세기 무렵에 존재하였던 두 국가의 영역을 표시한 것이다. (가), (나) 국가에 대한 설명으로 옳은 것을 <보기>에서 모두 고른 것은?



- < 보 기 >
- ㄱ. (가)에서는 건축, 법률 등 실용적인 문화가 발달하였다.
 - ㄴ. (나)에서는 희곡, 소설 등 서민적인 문화가 유행하였다.
 - ㄷ. (가)는 로마 제국, (나)는 후한(後漢)이다.
 - ㄹ. (가)와 (나)는 모두 전국적인 농민 반란으로 멸망하였다.

- ① ㄱ, ㄴ
- ② ㄱ, ㄷ
- ③ ㄴ, ㄷ
- ④ ㄴ, ㄹ
- ⑤ ㄷ, ㄹ

4. 자료는 어떤 전쟁과 관련된 것이다. 중세 서유럽 사람들이 이 전쟁에 참여한 동기에 대한 설명으로 적절하지 않은 것은? [3점]

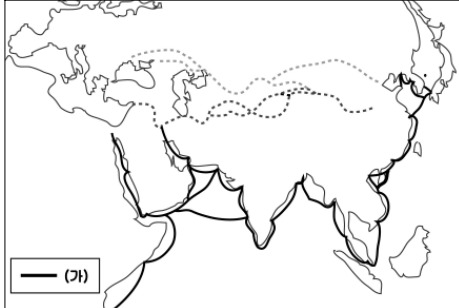
동방의 그리스도교 국가가 구원을 요청하였다. (중략) 성지의 형제들을 구하라. 그리스도 교도들이여, 지위가 높건 낮건, 재산이 많건 적건 동방의 그리스도 교도의 구원에 힘쓰라. 신의 정의를 위하여 싸우다 쓰러지는 자는 그 죄가 사함을 받을 것이다. (중략) 예수의 성묘(聖廟)가 있는 곳으로 가지 않겠는가? '젓과 꿀이 흐르는 땅'은 신이 그대들에게 내린 토지이다. 그 곳을 이교도 무리로부터 해방시켜 우리의 것으로 만들지 않겠는가?
- 교황 우르반 2세의 연설문 중에서 -

- ① 교황 - 동방에 대해 종교적 영향력을 행사하고자 하였다.
- ② 국왕 - 그리스 정교회와 연계하여 교황을 견제하고자 하였다.
- ③ 기사 - 새로운 영지를 획득하려고 하였다.
- ④ 농민 - 영주의 구속에서 벗어날 수 있는 기회로 여겼다.
- ⑤ 상인 - 동방 무역을 통해 상업 이익을 확대하고자 하였다.

사회탐구영역

세계사

10. 지도에 표시된 동서 교역로 가운데 (가)에 대한 설명으로 옳지 않은 것은?



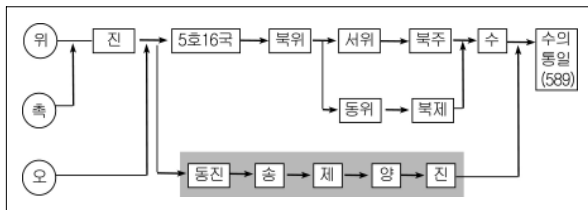
- ① 이 길을 통해 중국의 제지술이 유럽에 전파되었다.
- ② 인도 문화가 동남 아시아로 확산되는 통로가 되었다.
- ③ 이슬람 상인이 한반도와 중국을 왕래하는 데 이용하였다.
- ④ 명대 정화의 함대는 이 길을 이용하여 남해 원정을 하였다.
- ⑤ 나침반의 발명으로 이 길을 통한 교류가 더욱 활발해졌다.

11. 자료에서 밑줄 친 (가)~(다)에 대한 설명으로 옳은 것은? [3점]

요즘 크고 작은 (가)다이묘들 모두 번(藩)의 재정이 부족하여 심히 곤궁하다. (나)가신들의 녹봉조차도 적게는 1/10, 많게는 5/10를 빌려 지급하고 있다. 그래도 모자라면 번의 농민에게 세금을 미리 받아 급한 불을 끈다. 또 그래도 모자라면 (다)에도, 교토, 오사카의 부유한 상인들에게 빌리는데, 해가 가도 그칠 줄 모른다. 빌리기만 하고 갚는 일이 드물기 때문에 이자에 이자가 붙어 밀린 채무가 몇 배가 되는지 모른다.
- 다자이 순다이, 『경제록습유』 -

- ① (가)를 통제하기 위해 에도 막부는 산킨고타이 제도를 실시하였다.
- ② (나)는 과거 시험을 통해 등용된 유학자 출신 관료들이었다.
- ③ (나)는 가부키와 같은 일본 특유의 조닌 문화를 발전시켰다.
- ④ (다)는 쇼군 또는 다이묘와 주종 관계를 맺고 있었다.
- ⑤ (다)는 동업 조합을 조직하여 도시의 자치권을 행사하였다.

12. 자료에서 표시된 왕조와 관련된 사실로 옳은 것은? [3점]



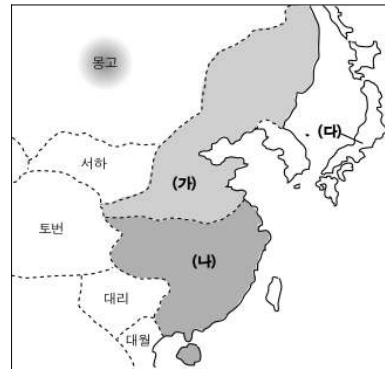
- ① 노장 사상과 청담 사상이 유행하였다.
- ② 적극적인 한화(漢化) 정책을 추진하였다.
- ③ 둔황과 원강에 대규모 석굴 사원이 조성되었다.
- ④ 문치주의를 바탕으로 황제 독재 체제를 갖추었다.
- ⑤ 균전제를 시행하여 호족의 대토지 소유를 제한하였다.

13. 자료와 같은 평가를 뒷받침할 수 있는 근거로 적절한 것은?

쿠산 왕조가 멸망한 후, 한동안 분열 상태에 있던 북인도는 4세기 초 굽타 왕조에 의해 통일되었다. 굽타 왕조는 중앙 집권 체제를 강화하는 한편, 종래의 외래 문화를 부정하고 인도 고유의 전통을 회복하려는 노력을 전개하여 이른바 '인도 고전 문화의 황금기'를 이룩하였다.

- ① 카스트에 따른 사회적 차별이 완화되었다.
- ② 브라만 교에 반대하여 불교와 자이나교가 성립하였다.
- ③ 힌두 교가 널리 확산되어 인도의 민족 종교로 발전하였다.
- ④ 이슬람 교의 영향으로 문화의 내용이 이전보다 다양해졌다.
- ⑤ 간다라 미술 양식이 성립하여 인도 전역으로 확산되었다.

[14 - 15] 지도는 12세기 무렵 동아시아 형세를 나타낸 것이다. 이를 보고 물음에 답하시오.



14. (가)~(다)에 대한 설명으로 옳은 것을 <보기>에서 모두 고른 것은? [3점]

< 보 기 >

ㄱ. (가)는 이중 통치 체제를 갖추었다.
 ㄴ. (나)는 9품 중정제를 실시하였다.
 ㄷ. (다)에서는 무사 계급이 성장하였다.
 ㄹ. (가)는 (나)를 멸한 뒤 (다)를 침공하였다.

- ① ㄱ, ㄴ ② ㄱ, ㄷ ③ ㄴ, ㄷ
- ④ ㄴ, ㄹ ⑤ ㄷ, ㄹ

15. (나)에서 발달한 유학의 특징으로 옳은 것은?

- ① 경전의 복원과 자구 해석에 노력하였다.
- ② 지행합일(知行合一)의 실천성을 강조하였다.
- ③ 대의 명분과 의리보다는 실리를 추구하였다.
- ④ 과학적이고 실증적인 연구 태도를 중시하였다.
- ⑤ 우주의 원리와 인간의 심성 문제를 연구하였다.

4

사회탐구영역

16. 다음은 중세 유럽에서 행해졌던 어떤 의식을 그린 것이다. (가), (나)에 대한 설명으로 옳지 않은 것은? [3점]



- ① (가)는 충성의 대가로 (나)를 보호할 의무가 있었다.
- ② (나)는 (가)를 위해 전투에 참가해야 할 의무가 있었다.
- ③ (가)는 (나)의 장원에 대해 실질적인 지배권을 행사하였다.
- ④ (가), (나)는 각각 다른 이들과도 그림과 같은 관계를 맺을 수 있었다.
- ⑤ (가)와 (나)가 맺은 관계는 어느 한쪽이 의무를 소홀히 하면 파기될 수 있었다.

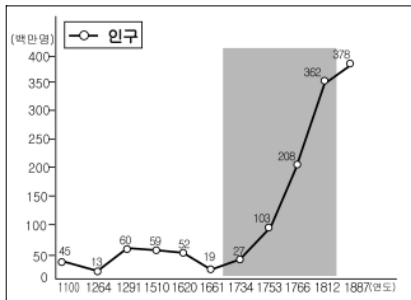
17. 자료에 나타난 사실이 당시 서유럽 사회에 끼친 영향을 옳게 설명한 것은?

그리스도가 태어나신 지 1348년이 되었을 때, 이탈리아에서도 가장 아름다운 도시 피렌체에 무서운 역병이 덮쳤습니다. 이 역병은 천체의 작용에 의한 것인지, 아니면 우리들 인간을 올바르게 만드시기 위해 하느님이 내린 정의의 노여움에 의한 것인지 알 도리가 없지만, 몇 해 전에 동방에서 시작되어 수많은 사람의 목숨을 빼앗고, 그칠 줄 모르고 잇달아 번져 서방에까지 번져왔습니다.

- 보카치오, 『데카메론』-

- ① 교황의 권위가 높아졌다.
- ② 삼포제 농법이 도입되었다.
- ③ 영주의 직영지가 확대되었다.
- ④ 노르만 족의 이동이 촉발되었다.
- ⑤ 농노의 사회적 지위가 향상되었다.

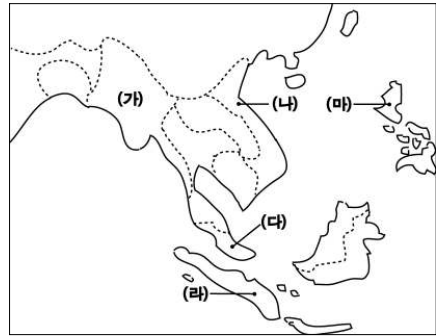
18. 그래프는 중국의 인구 추이를 나타낸 것이다. ■ 표시된 시기의 인구 변화에 영향을 끼친 제도는? [3점]



- ① 양세법
- ② 이갑제
- ③ 일조편법
- ④ 지정은제
- ⑤ 조·용·조제

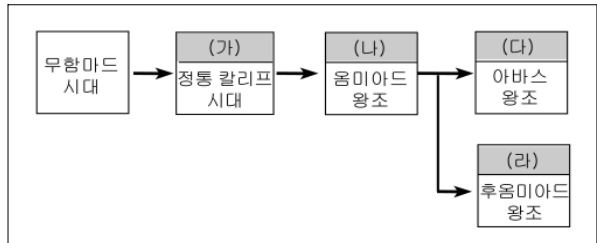
19. 자료와 관련된 나라를 지도에서 고르면? [3점]

- 일찍부터 중국 유교 문화의 영향을 받아 11세기에는 공자의 위패를 모신 문묘가 세워졌다. 그 경내에는 15세기부터 18세기까지 시행된 과거 시험 합격자의 이름이 새겨져 있는 비석들이 세워져 있다.
- 13세기에 몽골군이 3차례에 걸쳐 침입하자, 정글이라는 자연 조건을 최대한 이용하여 몽골군을 격퇴하고 독립을 유지하였다. 특히 편흥다오는 수전과 육전에서 연달아 몽골군을 격파하여 민족 영웅이 되었다.



- ① (가) ② (나) ③ (다) ④ (라) ⑤ (마)

20. 자료의 (가)~(라)에 대한 설명으로 옳은 것을 <보기>에서 모두 고른 것은? [3점]



< 보 기 >

- ㄱ. (가) - 무함마드 가문이 칼리프 자리를 독점적으로 세습하였다.
- ㄴ. (나) - 정치 지배자와 종교 지도자의 역할이 엄격하게 구분되었다.
- ㄷ. (다) - 아랍인과 비아랍인 간의 민족 차별이 폐지되었다.
- ㄹ. (라) - 움미야드 왕조의 일족이 이베리아 반도에 세운 왕조이다.

- ① ㄱ, ㄴ ② ㄱ, ㄷ ③ ㄴ, ㄷ
- ④ ㄴ, ㄹ ⑤ ㄷ, ㄹ

※ 확인 사항

○ 문제지와 답안지의 해당란에 필요한 내용을 정확히 기입(표기)했는지 확인하십시오.