

사회탐구영역

6. 그림과 같은 방식으로 이루어지는 농업에 대한 설명으로 옳은 것은? [3점]



- ① 자급적인 농업의 성격이 강하다.
- ② 가축이 매우 중요한 역할을 한다.
- ③ 물이 부족하여 관개 시설이 필요하다.
- ④ 토양이 비옥한 곳에서 주로 행해진다.
- ⑤ 노동력의 투입이 많으며 집약적 성격이 강하다.

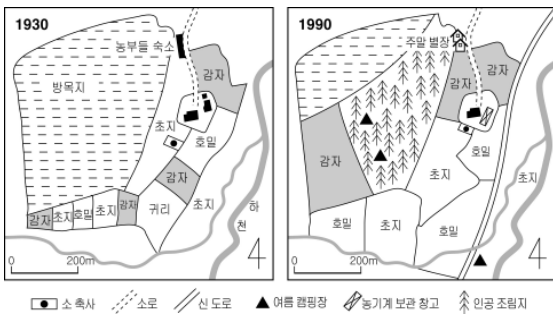
7. 표는 A, B 두 작물의 시장가격, 생산비, 운송비를 나타낸 것이다. 튀년의 고립국 이론을 적용했을 때, 시장으로부터 B작물의 재배 구간으로 옳은 것은? [3점]

(지대 = 시장가격 - 생산비 - 운송비)

작물	시장 가격(원/kg)	생산비(원/kg)	운송비(원/kg□km)
A	4,000	2,000	50
B	1,800	1,000	10

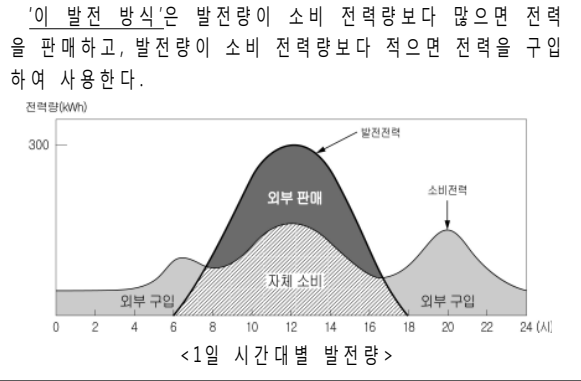
- ① 10 ~ 30km ② 20 ~ 40km ③ 30 ~ 80km
- ④ 30 ~ 100km ⑤ 80 ~ 100km

8. 자료는 어느 농장의 토지 이용 변화를 나타낸 것이다. 이 농장에 나타난 변화를 추론한 것으로 옳지 않은 것은?



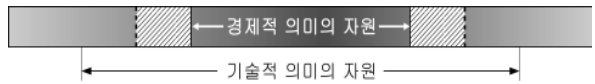
- ① 경작지가 확대되었을 것이다.
- ② 시장과의 접근성이 높아졌을 것이다.
- ③ 농업 외 소득 비중이 증가했을 것이다.
- ④ 재배 작물의 종류가 다양해졌을 것이다.
- ⑤ 기계화로 노동 생산성이 증가했을 것이다.

9. 자료의 밑줄 친 '이 발전 방식'에 대한 설명으로 옳은 것은? [3점]



- ① 조수 간만의 차가 큰 곳에 입지한다.
- ② 발전 원가에서 연료비가 차지하는 비중이 높다.
- ③ 바람을 이용하기 위해 내륙보다 해안에 입지한다.
- ④ 북반구에서 남사면에 건설하는 것이 더 유리하다.
- ⑤ 일시적으로 많은 전력을 생산하는 대용량의 발전 방식이다.

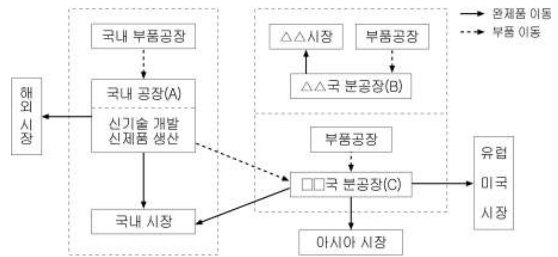
10. 모식도의 빗금 친 부분에 속한 자원이 경제적 의미의 자원이 되기 위한 조건으로 타당한 것을 <보기>에서 모두 고른 것은?



- < 보 기 >
- ㄱ. 가격의 상승 ㄴ. 채굴 기술의 발달
 - ㄷ. 대체 자원의 개발 ㄹ. 새로운 해외 자원 개발

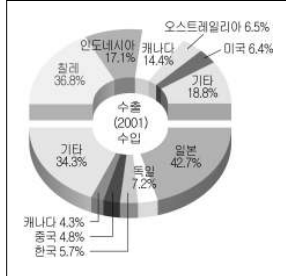
- ① ㄱ, ㄴ ② ㄱ, ㄷ ③ ㄴ, ㄷ
- ④ ㄴ, ㄹ ⑤ ㄷ, ㄹ

11. 어느 다국적 기업의 국제 분업 체계도이다. 이를 분석한 내용으로 옳지 않은 것은? [3점]



- ① A는 고급 기술을 이용한 제품을 생산한다.
- ② B는 현지 시장 개척이 주된 목적이다.
- ③ C는 저렴한 노동력이 입지의 주요인이다.
- ④ C는 B보다 A에 대한 부품 의존도가 높다.
- ⑤ A, B, C는 부품을 공동으로 구매한다.

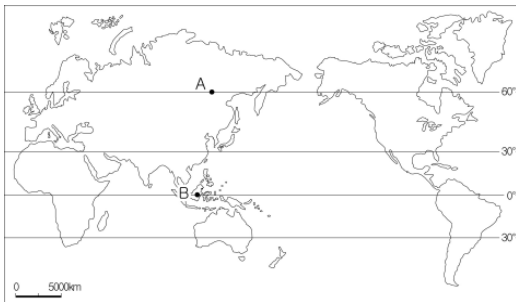
17. 자료는 (가) 자원의 무역량과 이용 사례이다. (가) 자원에 대한 설명으로 옳은 것은? [3점]



낫쇠는 (가) 를 다른 금속과 섞어 만든다. 예로부터 우리나라에서는 낫쇠를 징, 팽과리와 같은 전통 악기나 유기와 같은 주방 용품의 원료로 많이 이용하였고, 특히 안성 지방에서 생산되는 제품이 유명하였다.

- ① 열대 우림 지역에 많이 매장되어 있다.
- ② 우리나라는 오스트레일리아에서 많은 양을 수입하고 있다.
- ③ 육상 식물의 화석이 산소 공급이 차단된 환경에서 생성된다.
- ④ 전기의 발명 이후 수요가 증대되면서 개발이 활기를 띠었다.
- ⑤ 퇴적암 내에서 분해된 유기물질이 열과 압력에 의해 생성된다.

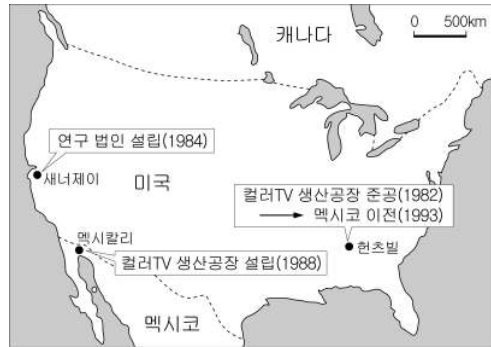
18. ○○ 목재 회사는 목재를 수입하기 위하여 지도의 A, B 지역에 조사팀을 파견하였다. 조사팀의 보고 내용으로 옳지 않은 것은? [3점]



성장 환경	(가)
A: 총 바이오매스가 약 440톤/ha - 영양소 순환이 느림	
B: 총 바이오매스가 약 11,180톤/ha - 영양소 순환이 빠름	
성장 시기와 크기	(나)
A: 1년 중 3~6개월만 성장 - 최대 10m 내외	
B: 1년 내내 성장 - 최대 40~60m 내외	
나무의 종류	(다)
A: 종류가 단순함 - 약 2종/ha	
B: 종류가 다양함 - 약 30종/ha	
벌목 작업 조건	(라)
A: 작업 조건이 단순하고 위험성이 낮음	
B: 작업 조건이 복잡하고 위험성이 높음	
재질과 용도	(마)
A: 단단한 목재 - 가구 제작용으로 적합	
B: 부드러운 목재 - 펄프·제지용으로 적합	

- ① (가) ② (나) ③ (다) ④ (라) ⑤ (마)

19. 지도는 우리나라 어느 기업의 해외 진출 사례이다. 이를 보고 학생들이 발표한 내용으로 옳은 것을 <보기>에서 모두 고른 것은? [3점]



※ 1992년 북미 자유무역 협정 체결

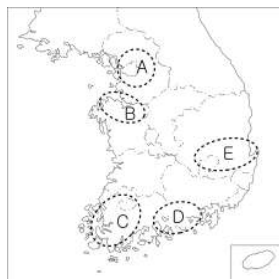
< 보 기 >

갑 : 헛츠빌은 고급 기능 인력이 풍부했던 곳입니다.
을 : 실리콘 벨리인 새너제이는 연구 개발에 적합한 지역입니다.
병 : 멕시칼리의 생산 공장은 저임금과 시장 조건을 동시에 고려했습니다.
정 : 멕시코는 자유무역협정 체결 이후 제조업의 공동화 현상이 심화되었습니다.

- ① 갑, 을 ② 갑, 병 ③ 을, 병
- ④ 을, 정 ⑤ 병, 정

20. (가), (나)에 해당되는 공업 지역을 지도에서 골라 바르게 연결한 것은?

(가)	<ul style="list-style-type: none"> ◦ 공업 발달의 역사가 길고, 소비 시장이 넓다. ◦ 제품 수출에 항공 교통의 비중이 높은 고부가가치 산업이 집중되어 있다.
(나)	<ul style="list-style-type: none"> ◦ 철강 및 신소재 산업의 국제적인 허브로 전망이 밝다. ◦ 섬유 공업과 같은 노동 집약적 경공업이 발달하였으나, 최근에 다른 지역으로 이전이 많다.



	(가)	(나)
①	A	B
②	A	E
③	B	C
④	C	D
⑤	D	E

※ 확인 사항

○ 문제지와 답안지의 해당란에 필요한 내용을 정확히 기입(표기)했는지 확인하시오.