

2005학년도 9월 고2 전국연합학력평가 문제지

제 4 교시

사회탐구영역(경제)

성명


수험번호

2

1

- 먼저 수험생이 선택한 과목의 문제지인지 확인하시오.
- 문제지에 성명과 수험 번호를 정확히 기입하시오.
- 답안지에 수험 번호, 선택 과목, 답을 표기할 때는 반드시 '수험생이 지켜야 할 일'에 따라 표기하시오.
- 문항에 따라 배점이 다르니, 각 물음의 끝에 표시된 배점을 참고하시오. 3점 문항에만 점수가 표시되어 있습니다. 점수 표시가 없는 문항은 모두 2점씩입니다.

1. 그림은 수업 중 교사가 판서한 내용이다. 밑줄 친 ㉠ ~ ㉣에 대한 설명으로 옳지 않은 것은?



- ① 신자유주의자들은 ㉠의 역할 축소를 주장한다.
- ② 사회주의 체제는 ㉡의 계획으로 경제 문제를 해결한다.
- ③ 한의사의 진료, 피아니스트의 공연 등은 ㉢에 해당한다.
- ④ 텃밭에서 재배한 채소를 집에서 먹는 것은 ㉣에 해당한다.
- ⑤ 주주가 보유 주식에 대한 배당금을 받는 것은 ㉤에 해당한다.

2. 표의 A에 해당하는 재화에 대한 바른 설명을 <보기>에서 모두 고른 것은? [3점]

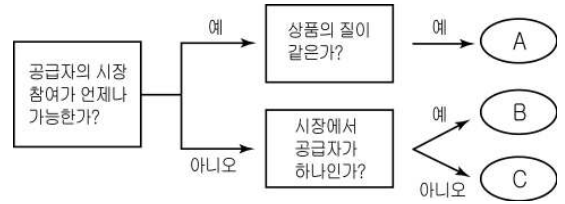
구 분		배제성(排除性)	
		유(有)	무(無)
경합성 (競合性)	유(有)	사유재(私有財)	공유 자원
	무(無)	자연 독점	A

< 보 기 >

ㄱ. 시장 기능에 의해 충분히 공급되기 어렵다.
 ㄴ. 비용을 부담하지 않은 사람도 소비할 수 있다.
 ㄷ. 민간 기업이 생산하면 높은 수익을 올릴 수 있다.
 ㄹ. 내가 소비한 만큼 다른 사람의 소비가 줄어드는 경향이 있다.

- ① ㄱ, ㄴ ② ㄱ, ㄷ ③ ㄷ, ㄹ
- ④ ㄱ, ㄴ, ㄹ ⑤ ㄴ, ㄷ, ㄹ

3. 시장 형태를 구분한 다음 자료를 보고 바르게 진술한 학생을 <보기>에서 모두 고른 것은? [3점]

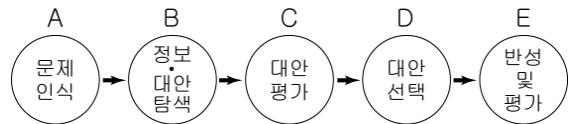


< 보 기 >

갑 : A 시장에서는 자원이 효율적으로 배분될 거야.
 을 : A 시장에서는 가격이나 생산량 변경이 다른 기업에 영향을 줄 수 있어.
 병 : B 시장의 공급자는 시장 가격의 결정에 영향력을 갖고 있어.
 정 : C 시장의 기업들은 명시적 또는 묵시적으로 담합하기도 해.

- ① 갑, 을 ② 갑, 정 ③ 병, 정
- ④ 갑, 을, 병 ⑤ 갑, 병, 정

4. 그림은 합리적 의사 결정 과정을 보여 준다.

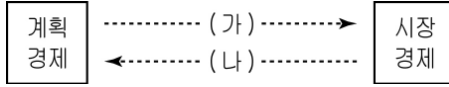


철수가 다음 상황을 위의 절차에 따라 해결하고자 할 때, C단계에 해당하는 것은?

이동 휴대 방송 동호회에 가입한 철수는 DMB 폰이 필요하다. 철수는 100만 원으로 DMB 폰을 구입해야 하는데, 어떤 것을 사야 할지 몰라 고민하고 있다.

- ① 선택한 결과가 합리적인지의 여부를 살펴본다.
- ② 최대로 지출할 수 있는 돈이 100만 원임을 확인한다.
- ③ 검토한 내용을 바탕으로 구입할 DMB 폰을 결정한다.
- ④ 제품별로 가격, 성능, 디자인, A/S 등을 비교 분석한다.
- ⑤ 100만 원으로 할 수 있는 다양한 선택의 가능성을 찾아본다.

5. 그림은 경제 체제의 유형을 나타낸 것이다. (가) 방향에 해당하는 정부 정책은?



- ① 아파트 분양 원가의 공개 의무화
- ② 기초 생활 보장 대상자의 범위 확대
- ③ 수도권 내 첨단 산업 공장의 규제 완화
- ④ 투기 지역에 대한 주택 거래 허가제 실시
- ⑤ 대기업 집단에 소속된 금융 회사의 의결권 제한

6. 가격 변화와 규제에 관한 교사와 학생의 대화이다. 빈칸에 들어갈 내용을 바르게 짝지은 것은? [3점]

교사 : X재와 대체 관계에 있는 재화의 가격이 하락하면 X재의 수요가 어떻게 될까요?
 학생 : X재의 수요는 (A)하여 수요 곡선이 (B)으로 이동하게 됩니다.
 중략
 교사 : 정부가 균형 가격보다 높은 수준에서 가격의 하한선을 정하는 것을 무엇이라 하며, 이 제도가 수요·공급엔 어떤 영향을 미칠까요?
 학생 : (C) 가격 제도라고 하며, 이런 가격 규제로 인해 초과 (D)(이/가) 발생하게 됩니다.

- | | | | |
|-------|-------|-------|-------|
| (A) | (B) | (C) | (D) |
| ① 증가 | 우측 | 최고 | 수요 |
| ② 증가 | 우측 | 최저 | 수요 |
| ③ 감소 | 좌측 | 최저 | 공급 |
| ④ 감소 | 좌측 | 최고 | 공급 |
| ⑤ 감소 | 우측 | 최저 | 공급 |

7. 그림과 같은 현상이 시장에 미칠 영향을 바르게 추론한 학생은?

[3점]



- ① 갑 : 상품의 단위당 유통비가 증가할 거야.
- ② 을 : 상거래의 공간적 제약이 줄어들 거야.
- ③ 병 : 소품종 대량 생산 체제가 정착될 거야.
- ④ 정 : 택배(宅配) 회사의 역할이 축소될 거야.
- ⑤ 무 : 국민 경제의 대외 의존도가 낮아질 거야.

【8-9】다음 글을 읽고 물음에 답하시오.

최근의 부동산 시장 혼란은 시장 실패라기보다는 ㉠ 정부 실패에 기인한다. 정부 실패는 우선 부동산 정책 방향의 잘못에서 출발한다. 부동산 가격 상승의 주 요인이 ○○ 지역의 중대형 아파트 공급 부족 때문인데, 정부는 오히려 ○○ 지역 재건축 아파트 규제 강화 등으로 공급을 축소시키고, 세금을 중과하는 등 수요 억제에만 중점을 두었다. 정부 관료들은 각종 부동산 제도에 대한 이해가 부족할 뿐만 아니라, 눈앞의 성과만을 고려한 정책을 펴, 부동산 가격을 안정시키지 못하고 있다. 따라서, 정부의 개입보다는 시장 친화적인 부동산 정책에 초점을 맞춰야 할 것이다.

- 2005.7.6. ○○ 경제신문 -

8. 밑줄 친 ㉠의 원인으로 볼 수 없는 것은?

- ① 정부의 근시안적 개입
- ② 관료 조직의 비능률성
- ③ 정부의 불안정한 지식과 정보
- ④ 시장 경제와 같은 이윤 동기의 부족
- ⑤ 환경 오염과 같은 외부 효과의 발생

9. 위 글의 필자가 지지할 것으로 보이는 주장은?

- ① 사회 안전망을 확충하자.
- ② 민간 기업의 공기업을 확대하자.
- ③ 효율보다 형평의 가치를 중시하자.
- ④ 민간 부문의 자율성을 최대한 보장하자.
- ⑤ 시장의 기능에 한계가 있음을 인정하자.

10. 다음과 같은 견해와 부합하는 것을 <보기>에서 모두 고른 것은?

모든 개인은 자신이 어떠한 자원을 가지고 있든지 간에 자기에게 가장 유리한 일을 찾으려 끊임없이 노력합니다. 사실상 그가 마음에 두고 있는 것은 자신의 이익이지 사회의 이익은 아닙니다. 이러한 자신의 이익 추구에 대해 곰곰이 생각해 보면, 그것은 자연스럽게 그리고 반드시 사회의 이익을 증진하게 되는데, 이렇게 하는 것이 의도적인 경우보다 더 유리합니다.

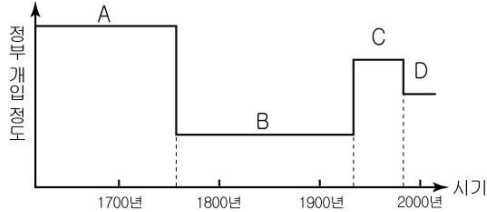
- < 보 기 >
- ㄱ. 너무 많은 이윤을 내는 기업은 부도덕한 기업이다.
 - ㄴ. '보이지 않는 손'의 역할을 신뢰하는 것이 중요하다.
 - ㄷ. 시장 경제의 작동은 사회적 약자에 대한 배려에 기초하고 있다.
 - ㄹ. 개인은 자신의 이익에 기초해서 합리적으로 행동하는 존재이다.

- ① ㄱ, ㄴ ② ㄱ, ㄷ ③ ㄱ, ㄹ ④ ㄴ, ㄷ ⑤ ㄴ, ㄹ

사회탐구영역

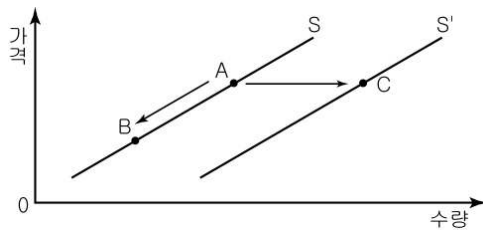
경제

11. 그림은 정부 개입 정도의 변화를 보여 준다. 각 시기에 대한 설명으로 옳은 것은?



- ① A시기에는 기업의 자유로운 경제 활동이 장려되었다.
- ② B시기에는 시장 가격의 자동 조정 능력이 증시되었다.
- ③ B시기에서 C시기로 변화된 계기가 된 사건은 석유 파동이다.
- ④ C시기에서 D시기로 변화된 것은 시장 실패 때문이다.
- ⑤ D시기에는 C시기에 비해 행정적 규제가 강화되었다.

12. 그림은 밀가루 시장의 공급 곡선이다. ㉠점 A가 B로 이동한 원인과 ㉡점 A가 C로 이동한 원인을 바르게 짝지은 것은? (단, 다른 조건은 일정하다고 가정함.) [3점]



- ① ㉠ 밀 가격 하락 ㉡ 임금의 하락
- ② ㉠ 밀 가격 상승 ㉡ 임금의 상승
- ③ ㉠ 밀가루 가격 하락 ㉡ 제분 기술의 향상
- ④ ㉠ 밀가루 가격 상승 ㉡ 제분 기술의 향상
- ⑤ ㉠ 밀가루 가격 하락 ㉡ 밀가루 가격 상승

13. 다음 낱말 퍼즐에서 세로 열쇠 ㉠의 ()에 들어갈 내용으로 알맞은 것은?

㉠	L				
		C			
		㉡	D		

* 가로 열쇠

㉠ '혼합 경제 체제'라고 부르며, 케인스가 주창

㉡ 인간 욕망은 무한, 자원은 ○○

㉢ 가계 소득 중 토지·자본 등을 활용하여 얻는 소득

* 세로 열쇠

㉠ 가격과 수량 간의 역(逆)의 관계

㉡ ()

㉢ 18세기 영국에서 시작된 사회 □ 경제 구조의 대변혁

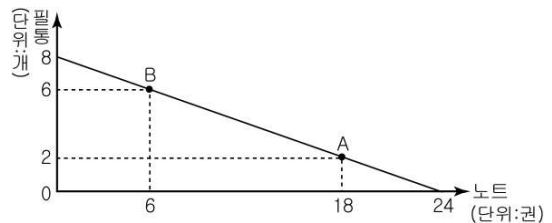
- ① 대가를 지불해야 구입할 수 있는 재화
- ② 존재량이 풍부하여 희소성이 없는 재화
- ③ 함께 사용할 경우 효용이 높아지는 재화
- ④ 최소 비용으로 최대 효과를 얻는다는 원칙
- ⑤ 새로운 착상이나 의견을 생각해 내는 특성

14. 다음의 돼지고기 시장에서 수요·공급의 변화를 바르게 나타낸 것은? [3점]

A국에서는 연쇄상구균에 감염된 돼지가 전부 도축되었으며, 돼지고기 수입도 중단되었다. 그럼에도 불구하고 이 나라의 돼지고기 가격은 오히려 하락하였다.

- ①
- ②
- ③
- ④
- ⑤

15. 그림은 일정한 금액으로 최대한 구입 가능한 노트와 필통의 조합을 보여 준다. 이에 대해 바르게 이해한 학생은 <보기>에서 모두 고른 것은? [3점]



< 보기 >

갑 : 노트 1권의 가격이 필통 1개의 가격보다 싼다.

을 : 필통 6개의 구입에 따른 기회 비용은 노트 18권입니다.

병 : 노트 1권 추가 구입에 따른 기회 비용은 점점 커집니다.

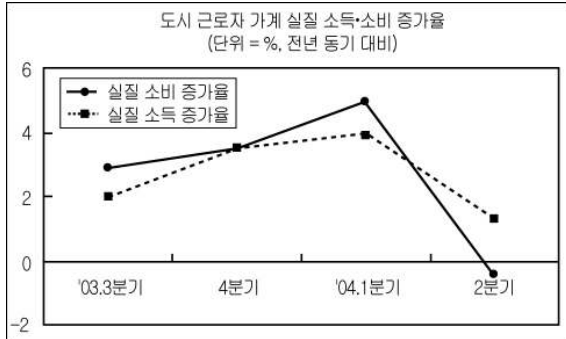
정 : 점 A에서 B로 이동하는 경우, 필통 1개의 구입에 따른 기회 비용은 노트 12권입니다.

- ① 갑, 을 ② 을, 병 ③ 병, 정
- ④ 갑, 을, 정 ⑤ 을, 병, 정

4

사회탐구영역

【16-17】그림은 2004년 8월 30일자 신문 기사와 함께 제시된 통계 자료이다. 이를 보고 물음에 답하시오.



16. 위 신문 기사의 제목으로 적절한 것을 <보기>에서 모두 고른 것은?

- < 보 기 >
- ㄱ. 재고 쌓여, 기업들 한숨
 - ㄴ. 물가 급등, 서민 가계 먹구름
 - ㄷ. 저축률 하락, 무너지는 성장 잠재력
 - ㄹ. 국민들 허리띠 졸라매, 경기 침체 우려
- ① ㄱ, ㄴ ② ㄱ, ㄷ ③ ㄱ, ㄹ ④ ㄴ, ㄷ ⑤ ㄷ, ㄹ

17. 위의 자료를 바르게 해석한 것은? [3점]

- ① 전반적으로 실질 소비는 감소하였다.
- ② 03년 4분기의 저축률은 전년 동기보다 높아졌다.
- ③ 04년 1분기는 전년 동기에 비해 경기가 하락하였다.
- ④ 04년 2분기의 실질 소득은 전년 동기보다 높아졌다.
- ⑤ 04년 2분기의 소비 성향은 전년 동기보다 높아졌다.

18. 수업 시간에 제시된 다음 자료를 잘못 이해한 학생은? [3점]

◦태평양의 어느 섬에서 망고는 레몬보다 덜 희귀하지만, 소비자들이 망고를 더 선호하므로, 더 희소하다. 그 결과, 희귀한 레몬보다 망고가 더 비싸게 거래된다.

◦열대 지방에서는 한대 지방에 비해 에어컨의 수가 절대적으로 많지만, 더위 때문에 어디서나 에어컨 설치하기를 원하므로 에어컨이 더 희소하다.

- ① 갑 : 희귀하다고 다 희소한 것은 아니군.
- ② 을 : 희소성은 욕망의 크기와 관련이 있군.
- ③ 병 : 경제적 가치는 희소성에서 비롯되는군.
- ④ 정 : 단지 공급량이 적다고 해서 가격이 높은 것은 아니군.
- ⑤ 무 : 재화 공급량이 선호도보다 희소성에 더 영향을 끼치는군.

19. 어느 영화관이 수입을 늘리기 위해 영화 관람 요금을 표와 같이 변경하였다. 이에 대한 바른 설명을 <보기>에서 모두 고른 것은? [3점]

요일	상영 회차	종전 요금	변경 요금
평일 (월~금)	1회(조조)	7,000원	4,500원
	2회~5회		7,000원
	6회(심야)		6,000원
주말 (토~일)	1회(조조)		5,000원
	2회~5회		8,000원
	6회(심야)		6,500원

- < 보 기 >
- ㄱ. 상영 회차별로 영화 관람 요금을 차별화하였다.
 - ㄴ. 요금 책정에 있어 공급의 가격 탄력성을 고려하였다.
 - ㄷ. 조조(早朝)의 경우, 수요의 가격 탄력성이 탄력적이라고 예상하였다.
 - ㄹ. 2회~5회의 경우, 주말 관람객은 평일 관람객보다 요금에 더 민감하게 반응할 것으로 예상하였다.
- ① ㄱ, ㄴ ② ㄱ, ㄷ ③ ㄱ, ㄹ
④ ㄴ, ㄷ ⑤ ㄴ, ㄹ

20. 다음은 19세기 말에서 20세기 초에 걸쳐 일어난 사건의 기사 제목들이다. 이에 대한 바른 설명을 <보기>에서 모두 고른 것은?

- (가) 런던에서 '살인적 매연'으로 1,000여 명 사망
- 지난 80년에 이어 또다시 참사 발생
1892년 12월
- (나) J.P. 모건 주도로 거대 독점 시장 형성
- US스틸, 카네기 제강 회사 등 10개 사 합병
1901년 2월
- (다) 조선 노동 총연맹, 우리나라 최초의 노동절 행사 주최
- 사용자 측에 노동자의 임금 인상 요구
1923년 5월

- < 보 기 >
- ㄱ. (가)는 외부 불경제의 한 사례이다.
 - ㄴ. (나)의 시장에서는 경쟁 시장에 비해 거래자들이 시장에 관한 정보를 많이 갖고 있다.
 - ㄷ. (다)는 '누구에게 분배할 것인가'의 문제와 관련이 깊다.
 - ㄹ. (가), (나), (다)는 모두 정부 실패의 사례이다.
- ① ㄱ, ㄴ ② ㄱ, ㄷ ③ ㄱ, ㄹ
④ ㄴ, ㄷ ⑤ ㄷ, ㄹ

※ 확인 사항

○ 문제지와 답안지의 해당란에 필요한 내용을 정확히 기입(표기)했는지 확인하시오.