



# 사회탐구 영역 (세계사)

6. 다음은 세계사 수업 시간에 학생이 쓴 가상 일기의 일부이다. 역사적 사실로 적절하지 않은 것은? [3점]

기원전 〇〇〇년 〇월 〇일 날씨 덥고 습함

오늘도 신전 공사에 끌려가 힘들게 일을 했다. 하마터면 목숨을 잃을 뻔했다. ㉠브라만 사제들이 어렵고 복잡한 예식을 주관하며 '베다'를 읽기에 신기해서 몰래 쳐다보다가 사제와 눈이 마주쳤다. 사제는 불경스럽다고 마구 화를 냈지만 다행히 용서해 주었다.

아주 먼 옛날에는 브라만도 수드라도 없었다고 하는데. ㉡유목을 주로 하던 아리아인들이 갠지스 강에 정착하면서 이 숨막히는 신분 제도가 만들어졌다고 한다.

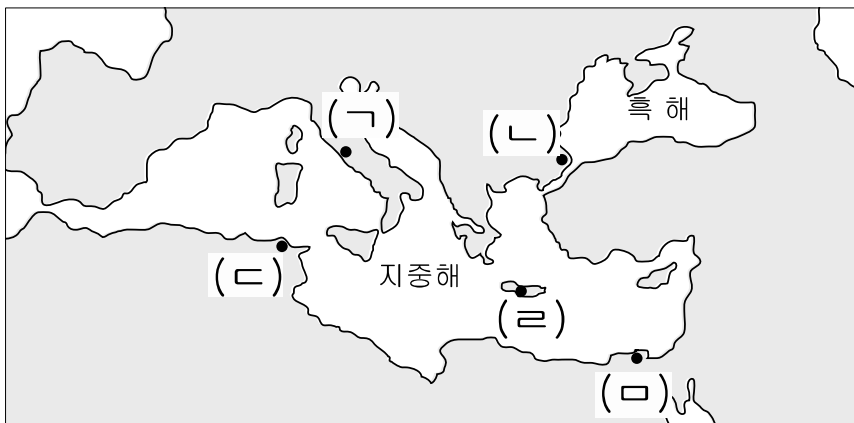
㉢크샤트리아만이 정치와 군사를 담당할 수 있고, 바이샤는 농사와 수공업 같은 힘든 일을 한다. 같은 인간의 모습을 하고 있어도 사는 건 너무 다르다. ㉣브라만, 크샤트리아, 바이샤는 같은 계급끼리만 먹고 자며 우리 수드라와는 밥도 같이 먹으려 하지 않는다.

그래도 나에게는 희망이 있다. ㉤장군님의 따님이 나에게 마음을 주고 있으니, 결혼만 하면 나도 크샤트리아가 되어 지금까지 나를 무시한 놈들을 혼내줄 수 있다. 아가씨! 내 꿈 꾸세요.

- ① ㉠      ② ㉡      ③ ㉢      ④ ㉣      ⑤ ㉤


7. 다음 문명에 관하여 조사하고자 할 때, 답사해야 할 장소의 위치를 지도에서 찾으려면? [3점]

- 발달한 오리엔트 문명의 영향을 받아 기원전 2,000년경 성립한 청동기 해양 문명이다.
- 영국의 고고학자 에반스는 20세기 초 크노소스 유적지를 발굴하여 이 문명의 실체를 밝혀내는 데 성공하였다.
- 크소노스 궁전은 전설에 나오는 '미노스 왕의 미궁(迷宮)'으로 알려져 있으며, 3층 또는 4층의 대리석 건물로 수백 개의 작은 방에 바다와 육지를 소재로 한 벽화가 그려져 있다.



- ① (㉠)      ② (㉡)      ③ (㉢)      ④ (㉣)      ⑤ (㉤)

8. 다음은 일본의 어느 시대를 설명하는 자료이다. 이 시대에 관한 설명으로 옳은 것을 <보기>에서 고르면?



- 일본 고유의 성격을 강조하는 문화가 발달하기 시작하였다.
- 귀족, 호족, 사원 등이 장원을 확대하여 세력을 키워 나갔다.

<당시의 관복>

- <보 기> —
- ㉠. 국풍 문화가 발달하였다.
  - ㉡. 다이카 개신이 단행되었다.
  - ㉢. 지방 분권 현상이 나타났다.
  - ㉣. '일본'이라는 국호가 처음으로 사용되었다.

- ① ㉠, ㉡      ② ㉠, ㉢      ③ ㉡, ㉣  
④ ㉡, ㉣      ⑤ ㉢, ㉣

9. 다음 ㉠, ㉡에 들어갈 국가를 바르게 짝지은 것은?

'빛은 오리엔트(동방)에서'라는 말이 있듯이 지구상에서 가장 먼저 문명의 단계로 들어선 곳은 오리엔트 지역이었으며, 이 지역에서는 많은 국가와 민족이 활동하였다. 그 중 ( ㉠ )은 구리와 청동 자원을 풍부하게 가지고 있어 일찍부터 야금술이 발달하였다. 그리하여 철을 제련하는 방법을 가장 먼저 발달시킬 수 있었으며 철기를 오리엔트 지역에 전파하였다.

( ㉡ )은 지중해를 무대로 해상 무역을 하였으며 카르타고 같은 식민 도시를 건설하였다. 그리고 표음 문자를 만들어 사용하였는데 이것이 그리스로 전해져 오늘날 알파벳의 기원이 되었다. 이와 같이 오리엔트 문명은 서양 문화에 많은 영향을 주었다.

- |                                                     |                                           |
|-----------------------------------------------------|-------------------------------------------|
| ㉠<br>① 페니키아<br>② 페니키아<br>③ 히타이트<br>④ 히타이트<br>⑤ 헤브라이 | ㉡<br>히타이트<br>헤브라이<br>페니키아<br>헤브라이<br>히타이트 |
|-----------------------------------------------------|-------------------------------------------|

10. 다음은 중국사의 전개 과정을 나타낸 것이다. (가) 문화의 영향으로 옳은 것을 <보기>에서 고르면? [3점]

위·진·남북조 시대 → (가) → 당 → 5대 10국

- <보 기> —
- ㉠. 이 나라의 관리 선발 방식은 고려에서도 채택되었다.
  - ㉡. 이 나라의 법률 체제는 동아시아 여러 나라의 모범이 되었다.
  - ㉢. 이 때 만들어진 대운하는 현재까지 중요한 교통로로 이용되고 있다.
  - ㉣. 이 시기에 발명된 화약은 유럽의 역사를 변화시키는 큰 원동력이 되었다.

- ① ㉠, ㉡      ② ㉠, ㉢      ③ ㉡, ㉣  
④ ㉡, ㉣      ⑤ ㉢, ㉣

# 사회탐구 영역 (세계사)

3

11. 다음 사자성어(四字成語)의 배경이 된 시대의 사회 모습에 관한 설명으로 옳은 것은? [3점]

- 존왕양이(尊王攘夷) : '왕실의 권위를 높이 받들고 오랑캐를 막는다'는 의미로, 주(周)의 평왕이 도읍을 동쪽으로 옮긴 후 제(齊)와 같은 강력한 국가들이 주 왕실의 권위를 높이고 평화를 유지한다는 명분을 내세운 것에서 비롯되었다.
- 합종연횡(合縱連衡) : '강한 적에 대항하기 위하여 여러 세력들이 동맹과 분열을 반복하는 어지러운 상황'을 일컫는 말로, 강대해진 진(秦)에 대항하기 위하여 6국의 연합을 주장한 소진의 합종설과 이에 대항하여 진(秦)이 6국과 개별적으로 동맹을 맺어야 한다고 주장한 장의의 연횡설에서 비롯되었다.

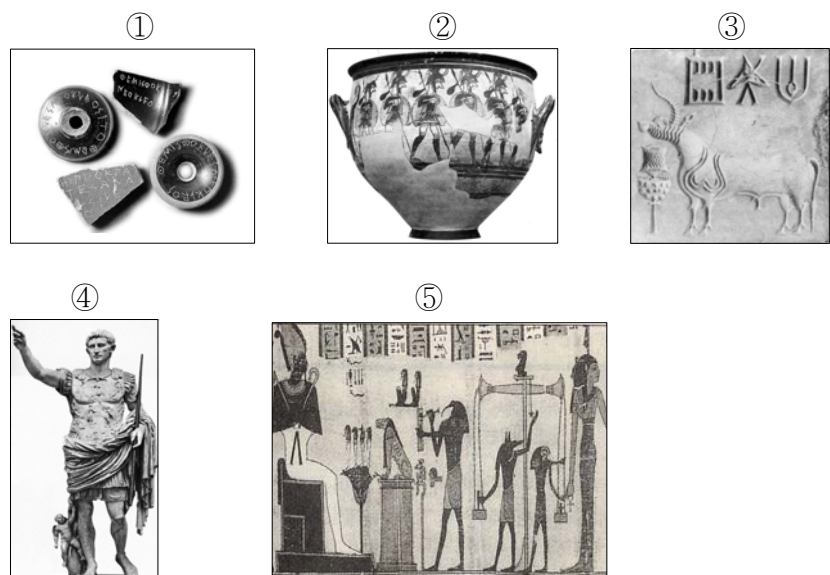
- ① 3성 6부를 설치하여 중앙 집권 체제를 확립하였다.
- ② 과거제를 실시하여 능력에 따라 인재를 등용하였다.
- ③ 잦은 전쟁으로 인하여 상업과 화폐 사용이 부진하였다.
- ④ 철제 농기구와 우경의 보급으로 잉여 생산물이 증가하였다.
- ⑤ 유교 경전을 정리하고 주석을 붙이는 훈고학이 발달하였다.

12. 다음 역사 신문에서 밑줄 친 제도와 관련된 사진을 (가)에 넣으려 한다. 가장 적절한 것은?

**아테네, 민주주의 발전에 한 획을 긋다!**

이미 부족제를 개편하고, 500인 회의를 만들어 우리 아테네 사회에 민주 정치의 토대를 튼튼히 하는 데 큰 공을 세운 바 있는 클레이스테네스의 주도로 이 땅에서 더 이상 독재자들을 발붙이지 못하게 할 수 있는 획기적인 제도가 마련되었다. 일명 '오스트라시즘'이라고도 불리는 이 제도는 우리 아테네 시민들이 1년에 한 번씩 아고라에 모여서 독재자가 될 가능성이 있는 사람의 이름을 적어내어 그 이름이 일정한 수 이상 나온 사람을 국외로 추방하도록 하고 있다. 이제 더 이상 독재자의 횡포에 우리 시민들이 억압당하는 일이 없기를 모두 기원하고 있다. ○○○ 기자

(가)



13. 표는 당(唐)대 호구 수의 변화를 나타낸 것이다. (가) 시기의 사회에 관한 설명으로 옳은 것을 <보기>에서 고르면? [3점]

| 연 도              | ← (가) → |     |     |     |     |     |     |     |     |
|------------------|---------|-----|-----|-----|-----|-----|-----|-----|-----|
|                  | 732     | 740 | 742 | 754 | 760 | 764 | 770 | 780 | 807 |
| 호 구 수<br>(단위:만호) | 786     | 841 | 835 | 907 | 193 | 293 | 102 | 309 | 244 |

— <보 기> —

ㄱ. 농병 일치의 군사 제도를 시행하였다.  
 ㄴ. 토지의 많고 적음에 따라 세액을 결정하였다.  
 ㄷ. 사병을 보유한 절도사들이 독자 세력화하였다.  
 ㄹ. 대토지 소유제가 붕괴하고 자영농의 수가 증가하였다.

- ① ㄱ, ㄴ
- ② ㄱ, ㄷ
- ③ ㄴ, ㄷ
- ④ ㄴ, ㄹ
- ⑤ ㄷ, ㄹ

14. 다음 '이 사람'에 관한 설명으로 옳은 것은?

기원전 3세기, 이 사람은 남부 일부를 제외한 전 인도를 통일하였다. 그는 통일 전쟁의 과정에서 수많은 사람들을 살생한 것을 참회하며 불교를 믿었다. 그리고 불경을 결집하여 교리를 정리하고, 전국에 스투파와 석주(石柱)를 세우는 등 불교를 장려하였다.

- ① 아잔타 석굴 같은 대규모 사원을 건립하였다.
- ② 말라카 해협을 장악하여 동서 무역을 주도하였다.
- ③ 개인의 해탈을 강조하는 소승 불교를 장려하였다.
- ④ 중앙 아시아, 중국, 일본 등으로 포교승을 파견하였다.
- ⑤ '왕의 눈', '왕의 귀'라 불린 감찰관을 지방에 파견하였다.

15. 다음 '이 왕조'의 문화에 관한 설명으로 옳은 것을 <보기>에서 고르면?

이 왕조가 들어서면서 '아리아 족의 고유 문화를 계승하자'는 운동이 일어났다. 이에 따라 브라만적 전통을 이은 민족 종교가 발달하여 카스트 제도가 강화되었으며, 문학과 미술 분야에서도 인도 고유의 특징을 가진 작품들이 많이 나타났다.

— <보 기> —

ㄱ. 이슬람 문화의 영향을 받았다.  
 ㄴ. 간다라 미술 양식이 발생하였다.  
 ㄷ. 인도의 고전 문화가 완성되었다.  
 ㄹ. 힌두 교가 민족 종교로 성립하였다.

- ① ㄱ, ㄴ
- ② ㄱ, ㄷ
- ③ ㄴ, ㄷ
- ④ ㄴ, ㄹ
- ⑤ ㄷ, ㄹ

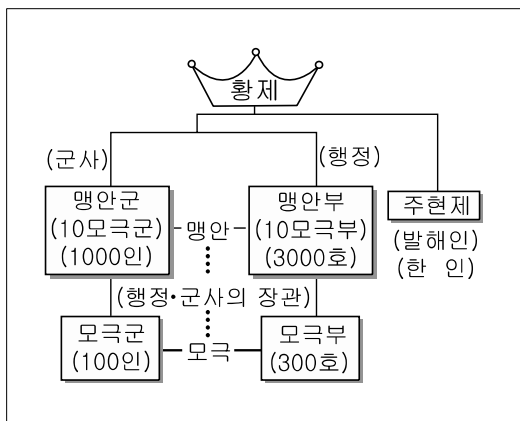
# 사회탐구 영역 (세계사)

16. 다음은 중국의 어느 황제와의 가상 인터뷰이다. 밑줄 친 정책을 실시한 이후 나타날 현상으로 옳지 않은 것은? [3점]

기자 : 먼저 막강한 절도사들을 물리치고 혼란했던 중국을 다시 통일한 것에 대해 진심으로 축하드립니다.  
 황제 : 고맙소. 돌이켜 보면 전쟁을 통해 각 지역의 절도사들을 하나씩 굴복시켜 나가는 것이 참으로 힘들었소. 이제는 근본적이고 혁신적으로 통치 방식을 바꿀 필요가 있소.  
 기자 : 구상하고 있는 방식은 무엇인지요?  
 황제 : 우선 제도와 기구를 정비하여 실력과 재능을 갖춘 문신들 중심으로 국정을 이끌어 나갈 생각이오. 다시 말해 문치주의(文治主義) 정책을 강력히 시행하겠다는 것이오.

- ① 군사력 약화                      ② 관료 수의 증가
- ③ 학문의 발달                    ④ 황제 권한 강화
- ⑤ 국가 재정 안정

17. 도표는 중국 어느 왕조의 통치 체제이다. 이러한 체제를 시행한 목적으로 옳은 것을 <보기>에서 고르면? [3점]



〈보 기〉  
 ㉠. 효율적인 한족 통치            ㉡. 부족 고유의 전통 유지  
 ㉢. 군현제의 전국 확대           ㉣. 한족 관료의 보호와 육성

- ① ㉠, ㉡                              ② ㉠, ㉢                              ③ ㉡, ㉣
- ④ ㉢, ㉣                              ⑤ ㉢, ㉣

18. 다음과 같은 정치 형태가 나타난 배경을 탐구하기 위한 활동으로 가장 적절한 것은? [3점]

강력한 사병을 보유한 군인 정치가들이 로마의 권력을 장악하였다. 먼저 카이사르, 크라수스, 폼페이우스가 서로를 견제하며 세력 균형을 이루었다. 카이사르가 암살된 후 안토니우스, 레피두스, 옥타비아누스가 다시 권력을 나누어 가졌다.

- ① 포에니 전쟁의 원인을 분석한다.
- ② 로마가 동서로 분열된 이유를 조사한다.
- ③ 크리스트 교가 공인되는 과정을 살펴본다.
- ④ 부자유 소작인(콜로누스)의 성격을 파악한다.
- ⑤ 라티퐁디움 등장이 로마 사회에 미친 영향을 찾아본다.

19. 다음에 해당하는 작품을 <보기>에서 고르면?

헬레니즘 시대의 사람들은 그리스인들이 중시하였던 조화와 균형, 절제의 미덕보다는 현실적인 아름다움을 중요하게 생각하였다. 따라서 헬레니즘 시대의 미술에서는 인간 육체의 관능적인 아름다움과 내면적인 감정의 기복을 솔직하게 표현하였다.



- ① ㉠, ㉡                              ② ㉠, ㉢                              ③ ㉡, ㉣
- ④ ㉢, ㉣                              ⑤ ㉢, ㉣

20. 표의 (가)~(다) 종교에 관한 설명으로 옳은 것을 <보기>에서 고르면? [3점]

|     |                                                                       |
|-----|-----------------------------------------------------------------------|
| (가) | ○ 밀라노 칙령으로 신앙의 자유가 인정되었다.<br>○ 니케아 종교 회의에서 삼위 일체설을 정통으로 인정하였다.        |
| (나) | ○ 침탑과 둥근 지붕이 특징인 모스크를 건축하였다.<br>○ 인간과 절대자 사이의 영적(靈的) 중간 존재를 인정하지 않는다. |
| (다) | ○ 헤브라이 인이 창시하였다.<br>○ 신자들은 「탈무드」를 생활 지침서로 삼고 있다.                      |

〈보 기〉  
 ㉠. (가)의 구약 성서는 창시자의 가르침을 정리한 것이다.  
 ㉡. (나)의 창시자가 메디나로 이주한 것을 '헤지라'라 한다.  
 ㉢. (다)는 평등 사상을 강조하여 세계 종교로 발전하였다.  
 ㉣. (가), (나), (다)는 모두 유일신을 믿고 있다.

- ① ㉠, ㉢                              ② ㉠, ㉣                              ③ ㉡, ㉣
- ④ ㉢, ㉣                              ⑤ ㉢, ㉣

※ 확인사항  
 ○ 문제지와 답안지의 해당란을 정확히 기입(표기)했는지 확인하시오.