

# 사회탐구 영역 (경제)

제 4 교시

성명

수험번호           3

1

- 먼저 수험생이 선택한 과목의 문제지인지 확인하십시오.
- 반드시 자신이 선택한 과목의 문제지를 풀어야 합니다.
- 문제지에 성명과 수험 번호를 정확히 기입하십시오.
- 답안지에 수험 번호, 선택 과목, 답을 표기할 때에는 반드시 ‘수험생이 지켜야 할 일’에 따라 표기하십시오.
- 문항에 따라 배점이 다르니, 각 물음의 끝에 표시된 배점을 참고하십시오. 3점 문항에만 점수가 표시되어 있습니다. 점수 표시가 없는 문항은 모두 2점씩입니다.

1. 다음과 같은 개발 사업의 효과를 바르게 추론한 것을 <보기>에서 모두 고르면? [3점]

기업도시는 민간기업이 토지 수용권 등을 가지고 지방자치단체와 협의해 주도적으로 개발된 특정산업 중심의 자급자족형 복합기능도시이다. 이것은 기업도시특구 지정과 자체개발계획수립을 통해 산업시설은 물론 종사원의 정주(定住)에 필요한 주택, 교육, 의료, 문화 등의 기능을 가진다. 지난 2003년 10월 전국경제인연합회가 도시개발을 제안한 이후, 관계기관과 시민단체 등의 협의를 거쳐 마련된 특별법안이 2004년 국회를 통과하였다. 정부는 2005년 하반기에 개발구역을 지정하고, 2007년경에 공사에 착수하여 2015년경 완료할 것으로 예상하고 있다.

<보 기>

ㄱ. 고용이 창출될 것이다.  
 ㄴ. 지역 개발이 활성화될 것이다.  
 ㄷ. 지역 고유의 문화가 유지될 것이다.  
 ㄹ. 수도권 주택 문제 해결에 도움이 될 것이다.

- ① ㄱ, ㄷ                      ② ㄱ, ㄹ                      ③ ㄱ, ㄴ, ㄷ  
 ④ ㄱ, ㄴ, ㄹ                  ⑤ ㄴ, ㄷ, ㄹ

2. 다음은 2002년 7월 이후 시행된 북한의 경제 정책이다. 이러한 정책 도입이 가져올 경제적 변화로 적절한 것을 <보기>에서 고르면?

- 물질적 인센티브제 도입
- 기업의 경영 자율권 확대
- 배급제, 보조금 제도의 단계적 폐지
- 시장의 수요·공급을 반영한 가격 개혁

<보 기>

ㄱ. 빈부 격차의 완화                      ㄴ. 정부 개입의 축소  
 ㄷ. 경제의 효율성 증시                      ㄹ. 시장경제의 문제점 보완

- ① ㄱ, ㄴ                      ② ㄱ, ㄷ                      ③ ㄴ, ㄷ  
 ④ ㄴ, ㄹ                      ⑤ ㄷ, ㄹ

[3~4] 다음 내용을 보고 물음에 답하십시오.

(가) 대학을 졸업한 후 창업을 결심한 ㉠이씨는 무엇을 할 것인지 고민하였다. 그의 동네는 최근 ㉡자가운전자가 부쩍 증가하여 세차장 영업이 잘되고 있었다. 이에 그는 ㉢세차장을 운영하기로 하였다.  
 (나) 그런데 세차장을 자동세차로 할지, 손세차로 할지 고민하다가 자동세차만으로 운영되는 주변 세차장과의 차별화를 위하여 자동세차와 손세차를 같이하는 세차장을 운영하기로 결정하였다. 그래서 자동세차기계 1대를 500만 원에 ㉣구입하고, 손세차를 담당할 직원 김씨를 고용하였다.  
 (다) 그 후 주변의 자가운전자들이 이씨의 세차장을 많이 이용하여 세차장의 매출이 늘어나게 되었고, 그는 김씨에게 ㉤월급으로 150만 원을 지급하였다.

3. ㉠~㉤에 대한 설명으로 옳은 것을 <보기>에서 고르면?

<보 기>  
 ㄱ. ㉠은 경제 주체이다.                      ㄴ. ㉡은 경제 객체이다.  
 ㄷ. ㉢은 생산 활동이다.                      ㄹ. ㉣은 소비 활동이다.  
 ㄹ. ㉤은 분배 활동이다.

- ① ㄱ, ㄴ, ㄷ                      ② ㄱ, ㄴ, ㄹ                      ③ ㄱ, ㄷ, ㄹ  
 ④ ㄴ, ㄹ, ㄹ                      ⑤ ㄷ, ㄹ, ㄹ

4. (가)~(다)와 관련된 경제의 기본 문제에 대한 설명으로 적절하지 않은 것은?

- ① (가)는 무엇을 생산할 것인가에 관한 것이다.  
 ② (가)의 결정 기준은 자신이 무엇을 필요로 하는가이다.  
 ③ (나)는 어떻게 생산할 것인가에 관한 것이다.  
 ④ (나)에서는 기회비용을 고려하여 결정하게 된다.  
 ⑤ (다)는 누구를 위하여 생산할 것인가에 관한 것이다.

5. 표는 어떤 컴퓨터 회사가 1억5천만 원의 비용을 들여 생산할 수 있는 수량의 조합을 나타낸 것이다. 표를 해석한 내용으로 적절하지 않은 것은? [3점]

	조합	A	B	C	D	E	F
컴퓨터	데스크탑	0	30대	60대	90대	120대	150대
	노트북	50대	40대	30대	20대	10대	0

- ① 노트북 1대의 생산비는 300만원이다.  
 ② 모든 조합에서 선택에 따른 기회비용이 발생한다.  
 ③ 노트북 1대와 데스크탑 3대의 생산비는 동일하다.  
 ④ 노트북 30대 생산에 대한 기회비용은 데스크탑 60대이다.  
 ⑤ C에서 D로 선택한다면 데스크탑 증가분에 대한 기회비용은 노트북 10대이다.

6. 다음의 밑줄 친 부분과 같은 정책에 대한 설명으로 적절하지 않은 것은? [3점]

올해 부동산 시장의 화두는 단연 '○○'지역이다. 이 지역은 다른 지역에 비해 녹지율이 높고 용적률이 낮아 주거환경이 쾌적하다. 이런 이유로 이 지역에 사람들의 관심이 집중되어 부동산 투기가 우려되고 있다. 따라서 정부는 전용면적 25.7평 이하의 아파트에 대하여 분양가 상한제를 적용하기로 하였다.

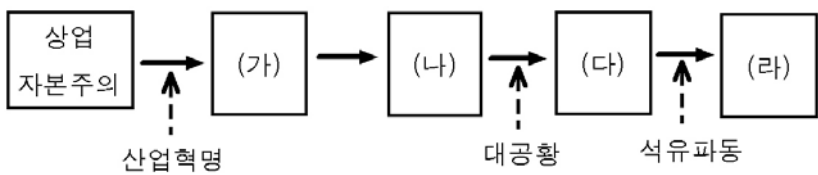
- ① 공급되는 상품의 질이 개선될 것이다.
- ② 물가안정과 소비자보호를 주목적으로 한다.
- ③ 초과수요 발생으로 암거래가 나타날 수 있다.
- ④ 사채시장 금리나 대중교통요금 등에도 적용될 수 있다.
- ⑤ 장기적으로는 자원의 비효율적 배분을 가져올 수 있다.

7. 다음의 밑줄 친 시장 형태에 대한 설명으로 옳은 것은? [3점]

공정거래위원회는 국내 타이어시장을 양분하고 있는 ○○타이어와 △△타이어가 대리점에 공급하는 타이어의 가격을 공동으로 합의하여 인상한 행위에 대하여, 공정거래법 제19조 제1항 제1호에서 규정한 부당한 공동행위에 해당한다고 인정하고 이들 업체에 대하여 시정명령과 함께 과징금 41억 1천만원을 부과하기로 의결하였다.

- ① 시장에 대한 진입과 탈퇴가 자유롭다.
- ② 고객의 기호에 맞는 차별화된 상품이 제공된다.
- ③ 우리 나라의 전력이나 상수도시장이 이에 해당된다.
- ④ 한 기업의 공급량은 그 상품에 대한 시장의 총공급량과 일치한다.
- ⑤ 한 기업의 가격이나 생산량 변경은 다른 기업에 큰 영향을 미친다.

8. 그림은 자본주의의 변천 과정이다. (가)~(라)에 대한 설명으로 옳은 것을 <보기>에서 고르면?



<보기>  
 ㄱ. (가)에서는 중립적 조정자로서의 정부 역할이 강조되었다.  
 ㄴ. (나)에서는 가격기구가 효율적으로 작동되었다.  
 ㄷ. (다)에서는 시장의 효율성보다 형평성을 우선시하였다.  
 ㄹ. (라)에서는 공기업의 민영화가 진행된다.

- ① ㄱ, ㄴ                      ② ㄱ, ㄹ                      ③ ㄴ, ㄷ
- ④ ㄴ, ㄹ                      ⑤ ㄷ, ㄹ

9. 다음 글을 바탕으로 추론할 수 있는 내용을 <보기>에서 고른 것은? [3점]

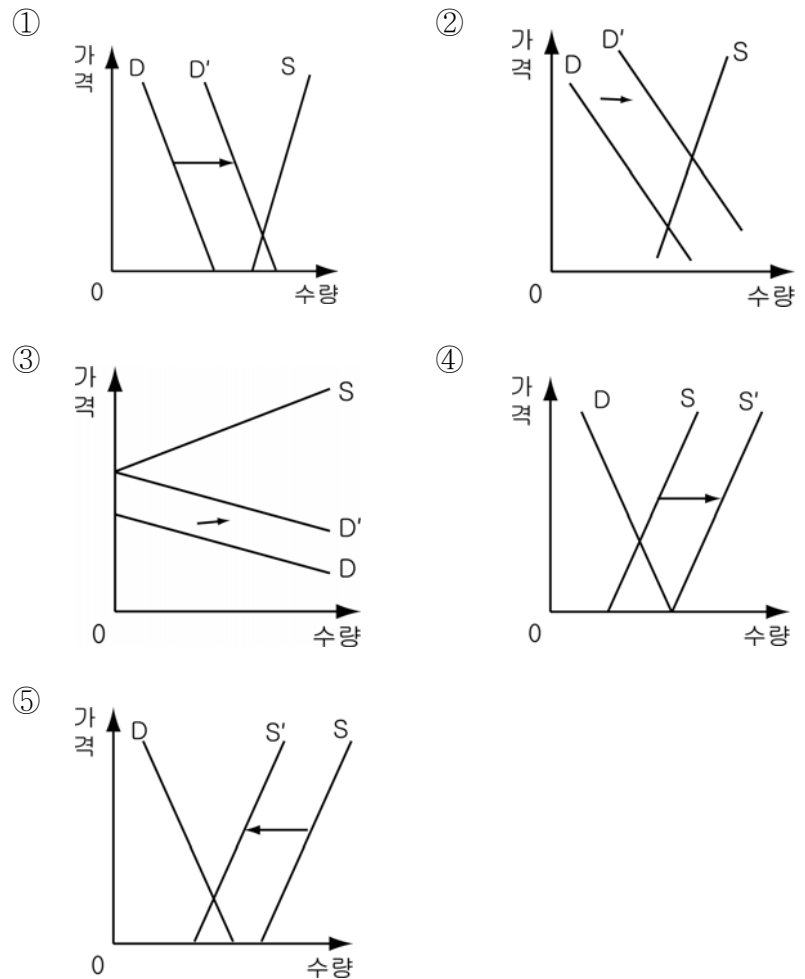
밀턴 프리드먼(Milton Friedman)의 저서 「자유로운 선택」을 집어들면 프리드먼이 연필 한 자루를 손에 들고 있는 표지 사진이 눈에 띄는데, 이 연필은 다름 아니라 스미스(A. Smith)의 경제학을 상징한다. 그 어느 누구도, 심지어는 경제학의 노벨상 수상자라 하더라도, 혼자 힘으로는 연필 한 자루도 만들어낼 수 없다는 것을 프리드먼은 말하고 싶은 것이다. 이 1백 원짜리 연필은 스리랑카에서 수입한 흑연과 인도네시아산 채종유로 만든 고무 지우개, 오레곤주에서 생산된 목재 등을 재료로 펜실베이니아주에서 만들어진 것이다.

<보기>  
 ㄱ. 교환으로 인해 자원의 희소성이 커질 것이다.  
 ㄴ. 특화로 인한 분업은 자유무역을 촉진시킬 것이다.  
 ㄷ. 국가간 분업으로 자원이 효율적으로 배분될 것이다.  
 ㄹ. 분업에 참여하는 모든 나라가 이익을 얻는 것은 아닐 것이다.

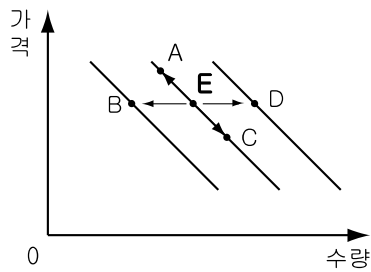
- ① ㄱ, ㄴ                      ② ㄱ, ㄷ                      ③ ㄴ, ㄷ
- ④ ㄴ, ㄹ                      ⑤ ㄷ, ㄹ

10. 다음에 나타난 닭발 시장의 변화를 바르게 나타낸 것은?

○○지역에서 음식점을 운영하는 정씨는 음식의 국물을 내는 재료로 주변의 닭집에서 그냥 버리는 닭발을 공짜로 가져다 사용하였다. 국물맛이 좋다는 소문이 나서 음식점의 매상이 오르자 주변의 다른 음식점들에서도 닭집에서 닭발을 가져가려 하였고, 이에 닭집 주인은 닭발을 팔기 시작했다.



11. 그래프는 사과 시장의 수요 곡선이다. (가)~(라)의 상황이 발생했을 때, 점E의 이동 방향을 바르게 짝지은 것은? (다른 조건은 일정하다고 가정함)



〈보기〉

- (가) 사과 가격이 하락했다.
- (나) 소비자들의 소득이 증가했다.
- (다) 대체관계에 있는 배의 가격이 하락했다.
- (라) 사과가 노화를 예방한다는 연구결과가 발표되었다.

	(가)	(나)	(다)	(라)
①	C	D	B	D
②	C	D	D	A
③	C	A	B	D
④	D	D	A	C
⑤	D	A	D	C

12. 경제 체제를 다음과 같이 분류할 때, (가)~(라)에 대한 설명으로 옳은 것을 <보기>에서 모두 고르면? [3점]

생산수단 소유형태 자원 배분 방식	사유	공유
시장 가격	(가)	(나)
정부 계획	(다)	(라)

〈보기〉

- ㄱ. (가)는 경제주체들 간의 치열한 경쟁으로 독점화 경향이 있다.
- ㄴ. (나)의 사례로 1978년 이후 중국이 지향하는 사회주의 시장 경제를 들 수 있다.
- ㄷ. (다)와 유사한 사례로 개발도상국들의 '개발독재'를 들 수 있다.
- ㄹ. (라)는 '보이지 않는 손'에 의한 자원 배분이 이루어진다.

- ① ㄱ, ㄴ                      ② ㄱ, ㄹ                      ③ ㄴ, ㄷ
- ④ ㄱ, ㄴ, ㄷ                ⑤ ㄴ, ㄷ, ㄹ

13. 다음 상황에서 예상되는 시장의 변화를 발표한 내용으로 적절하지 않은 것은? [3점]

우리 나라를 비롯한 동남아 전역에 조류 독감이 확산되면서 양계 농가가 치명타를 입고 있다. 익혀 먹으면 사람에게 전염되지 않는다는 방역 당국의 설명에도 불구하고 많은 사람들은 닭고기나 오리고기 먹기를 꺼려하고 있다. 이런 상황에서 각 국은 조류 독감의 확산을 근본적으로 차단하기 위해 조류 독감에 걸렸거나 걸린 것으로 의심되는 닭들을 전량 폐사시키고 있다.

- ① 상미: 닭고기의 수요가 감소할 거야.
- ② 현석: 닭고기의 공급이 감소할 거야.
- ③ 미현: 보완재인 절인 무의 수요가 감소할 거야.
- ④ 자영: 대체재인 돼지고기의 수요가 증가할 거야.
- ⑤ 준호: 닭고기 거래량이 감소하고 가격이 하락할 거야.

14. 다음 상황을 해결하기 위해 '영업부장'이 우선적으로 고려해야 할 사항은?

스포츠 용품을 판매하고 있는 ○○사는 입학과 졸업 시즌을 맞아 의류와 신발, 가방에 대한 세일 행사를 하기로 하였다. 이 회사의 영업 부장은 총판매수입을 극대화하기 위해 품목별 할인율을 어떻게 정해야 할지 회의를 거듭했지만 뚜렷한 결론을 내리지 못했다.

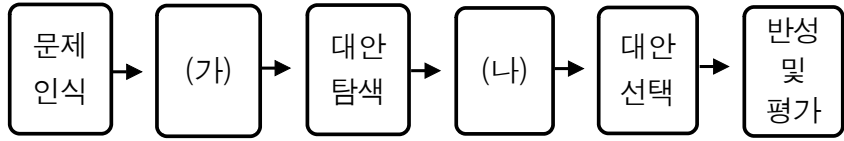
- ① 소비자의 기호                      ② 소비자의 소득 수준
- ③ 수요의 가격 탄력성                ④ 소비자 물가 변동 추이
- ⑤ 자사제품의 시장 점유율

15. 다음의 '이것'을 해결할 수 있는 대책으로 적절하지 않은 것은?

'이것'을 둘러싼 논의는 크루그만과 IMF를 비롯한 국제기구의 경제학자들이 '90년대 말 동아시아의 경제 위기를 정부, 금융기관, 대기업 사이의 '이것'에 기인한 금융위기로 규정하면서 본격화되었다. 이러한 논의가 제기된 이후 '이것'은 경제사회 전반에 걸친 병리현상을 통칭하는 보다 대중적인 용어로 사용되기 시작하였다. 본래 '이것'은 정보의 비대칭성을 이용한 경제주체들의 기회주의적 행위라는 경제학적 정의가 오늘날에는 '법과 제도의 허점을 이용한 사익추구행위', '자신의 권한과 지위에 상응하는 책임을 지지 않는 행위', '집단이기주의의 행태' 등을 포괄하는 의미로 사용되고 있다.

- ① 업무 성과에 대한 인센티브 체계를 개선한다.
- ② 사회 지도층의 노블리스 오블리제를 촉구한다.
- ③ 업무에 관한 개인의 재량권을 폭넓게 인정해 준다.
- ④ 모든 경제주체들의 도덕성 회복 캠페인을 전개한다.
- ⑤ 정보 공개를 통해 의사 결정 과정의 투명성을 높인다.

[16~17] 종권이는 다음과 같은 절차에 따라 세뱃돈을 어떻게 쓸 것인지 결정하려고 한다.



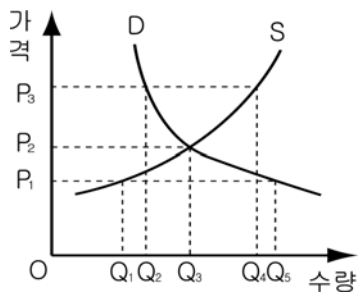
16. (가)단계에 해당하는 행동으로 알맞은 것은?
- ① 세뱃돈 10만원이 있음을 확인한다.
  - ② 세뱃돈의 사용처를 결정하고 행동으로 옮긴다.
  - ③ 어떻게 쓸 것인지 결정한 것에 대한 문제점을 검토한다.
  - ④ 세뱃돈으로 할 수 있는 다양한 선택의 가능성들을 찾아본다.
  - ⑤ 다른 학생들이 무엇을 하는지와 최근의 유행은 어떤지를 살펴본다.

17. (나)단계에서 작성한 평가표가 다음과 같을 때, 이에 대한 설명으로 옳은 것은?(비용 1의 크기는 편익 1의 크기와 같다.) [3점]

대안 \ 평가기준	비용	편익	
		단기적 관점	장기적 관점
참고서 구입하기	4	4	11
저축하기	0	2	5
운동기구 구입하기	4	8	10
옷 구입하기	4	9	5

- ① 단기적 관점에서 보면 저축하는 것이 가장 합리적인 선택이다.
- ② 단기적 관점에서 저축하는 것에 대한 기회 비용은 참고서를 구입하는 것이다.
- ③ 장기적 관점에서 보면 옷을 구입하는 것이 가장 합리적인 선택이다.
- ④ 장기적 관점과 단기적 관점을 모두 고려한다면 참고서를 구입하는 것이 가장 합리적인 선택이다.
- ⑤ 장기적 관점과 단기적 관점을 모두 고려한다면 저축하는 것에 대한 기회비용은 운동기구를 구입하는 것이다.

18. 그래프에 대한 해석으로 적절하지 않은 것은?



- ① 시장에서 거래되는 총판매수입은  $OP_2 \times OQ_3$ 이다.
- ② 가격이  $P_1$ 일 때  $Q_1Q_5$ 만큼의 초과공급이 발생한다.
- ③ 가격이  $P_2$ 일 때 최적의 자원 배분이 이루어진다.
- ④ 가격이  $P_3$ 일 때 노동시장이라면 실업이 발생할 것이다.
- ⑤ 가격이  $P_1$ 일 때는 수요자간의 경쟁으로 가격이 올라갈 것이다.

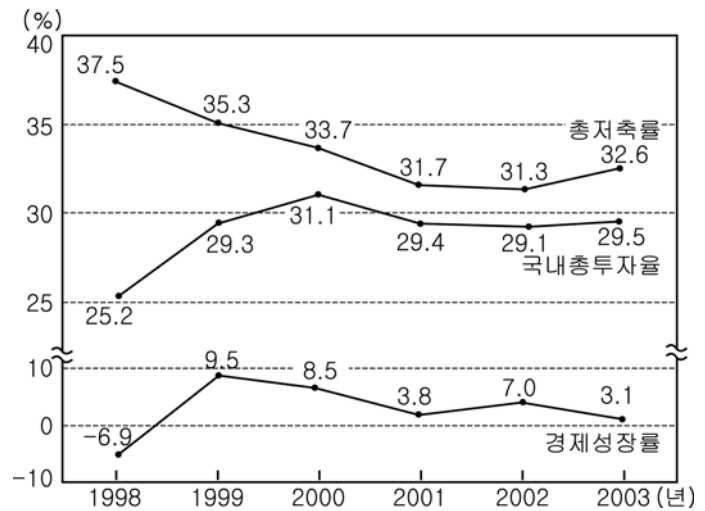
19. 다음 정책이 시장에 미치는 영향을 <보기>에서 고른 것은? [3점]

- 경유 자동차 소유자에게 환경 개선 부담금을 부과한다.
- 유해 물질을 함유하고 있거나 회수 및 재활용이 곤란한 제품의 제조업자에게 폐기물 처리비용을 부과한다.
- 허용 기준을 초과해서 오염 물질을 배출하는 업체에 대하여 배출 부과금을 부과한다.

<보기>  
 상호: 경유 자동차의 생산비가 증가할 거야.  
 중민: 1회용 포장용기의 가격이 인하될 거야.  
 예원: 장기적으로 환경 친화적 산업이 발달할 거야.  
 경진: 오염 물질 배출 기업의 생산비 부담이 증가할거야.

- ① 상호, 중민      ② 상호, 예원      ③ 중민, 예원
- ④ 예원, 경진      ⑤ 중민, 경진

20. 그래프는 경제 상황 변동을 알려주는 자료이다. 이에 대한 해석으로 옳은 것은? [3점]



※ 총저축률 =  $\frac{\text{총저축}}{\text{국민총처분가능소득}} \times 100$   
 ※ 국내총투자율 =  $\frac{\text{국내총투자}}{\text{국민총처분가능소득}} \times 100$   
 ※ 경제성장률 =  $\frac{(\text{금년도실질GDP} - \text{전년도실질GDP})}{\text{전년도실질GDP}} \times 100$

- ① 총저축률이 높아질수록 경제성장률이 높아졌다.
- ② 국내 총투자액이 가장 많았던 해는 2000년이다.
- ③ 1999년부터 2001년까지는 총저축률이 낮아졌고 경제규모도 감소하였다.
- ④ 1999년부터 2000년까지는 국내 총투자율이 증가하였고 국내 총생산도 증가하였다.
- ⑤ 1998년부터 2000년까지는 국내 총투자율이 증가하였고 총저축액은 줄어들었다.

※ **확인사항**  
 ○ 문제지와 답안지의 해당란을 정확히 기입(표기)했는지 확인하시오.